


# 단원 평가 문제집

- ◆ 김영사 중학교 사회 교과서 연구진이 만든 교사용 자료입니다.
- ◆ 단원별 20문항씩 총 480문항을 담았습니다.
- ◆ 중간·기말고사 문제 출제를 대비하여 활용하실 수 있습니다.

중학교  
사회  
1, 2



# 김영사 교과서는 '행복한 마음'입니다.

김영사는 문학, 교양, 학습 등  
다양한 분야의 책(45년간 5,500여 종)을 만들며  
한 발, 한 발 걸어왔습니다.

이제 학생, 선생님께 더 가까이 다가가고자  
김영사만의 다채로운 전문성과 경험을 담아  
교과서를 만듭니다.

김영사 교과서,  
학생과 선생님의 행복한 마음을 위해 준비하며  
선생님과 만날 날을 기다립니다.

김영사 드림



## 비매품

발행일 2023년 9월

발행인 (주)김영사 경기도 파주시 문발로197

김영사 교과서 [textbook.gimmyoung.com](http://textbook.gimmyoung.com)

인스타그램 @gimmyoung\_edu

문의 사회팀 031)955-3240, 3237, 3128 | 교육마케팅팀 031)955-3241

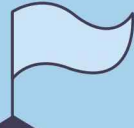
본 인쇄물은 (주)김영사에서 제작한 자료로, 학교 선생님들께만 제공됩니다.

본 인쇄물은 김영사 교과서 누리집 '행복한 자료실'에서 다운로드하실 수 있습니다.

본 인쇄물은 저작권법에 의하여 보호받는 저작물이므로, 영리 목적으로 무단 복제, 복사 및 전송을 할 수 없습니다.



# 차례



## 중학교 사회 1

### 단원 평가 문제집

1	내가 사는 세계	4쪽
2	우리와 다른 기후, 다른 생활	9쪽
3	자연으로 떠나는 여행	14쪽
4	다양한 세계, 다양한 문화	19쪽
5	지구 곳곳에서 일어나는 자연재해	24쪽
6	자원을 둘러싼 경쟁과 갈등	29쪽
7	개인과 사회생활	34쪽
8	문화의 이해	39쪽
9	정치 생활과 민주주의	44쪽
10	정치 과정과 시민 참여	49쪽
11	일상생활과 법	54쪽
12	사회 변동과 사회 문제	59쪽
	◆ 정답과 해설 ◆	128쪽

01

(가)~(라)를 자연환경 정보를 담은 지도와 인문 환경 정보를 담은 지도로 바르게 구분한 것은?

- (가) 지형도
- (나) 아프리카 난민 이동 지도
- (다) 세계의 인구 분포도
- (라) 남아메리카의 기후 분포도

	자연환경 지도	인문 환경 지도
①	(가), (나)	(다), (라)
②	(가), (다)	(나), (라)
③	(가), (라)	(나), (다)
④	(나), (다)	(가), (라)
⑤	(다), (라)	(가), (나)

02

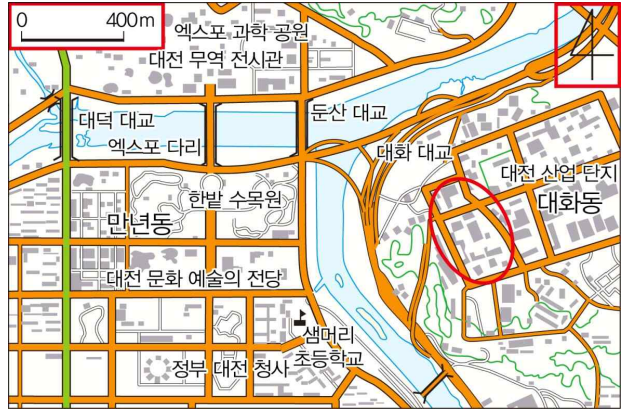
(가)~(나)에 들어갈 말을 바르게 연결한 것은?

우리나라는 세계에서 가장 넓은 유라시아 대륙의 (가)쪽에 위치하며, 남동쪽으로는 세계에서 가장 넓은 바다인 (나)과 가깝다. 대륙과 해양을 연결하는 위치에 있어 다른 국가들과 육지와 바다를 통해 교류하기에 유리하다.

	(가)	(나)
①	서	대서양
②	서	태평양
③	동	인도양
④	동	태평양
⑤	동	대서양

03

A~C에 대한 옳은 설명만을 <보기>에서 고른 것은?



**보기**

ㄱ. A를 통해 해발 고도를 알 수 있다.  
 ㄴ. B가 없을 때는 위쪽이 북쪽이다.  
 ㄷ. C에는 도로와 가옥이 밀집해 있다.  
 ㄹ. A~C를 통해 인문 환경을 파악하기 어렵다.

- ① ㄱ, ㄴ                      ② ㄱ, ㄷ                      ③ ㄴ, ㄷ
- ④ ㄴ, ㄹ                      ⑤ ㄷ, ㄹ

04

㉠, ㉡에 들어갈 알맞은 용어를 쓰시오.

( ㉠ )은/는 해발 고도가 높은 지점을 연결한 선으로 그 간격이 넓으면 경사가 완만하고, 간격이 좁으면 경사가 급하다. ( ㉡ )은/는 지도에서 방향을 나타내는 것으로, ( ㉡ )을/를 나타내는 기호가 없을 경우 지도의 위쪽을 북쪽으로 본다.

㉠: (                      ), ㉡: (                      )



05

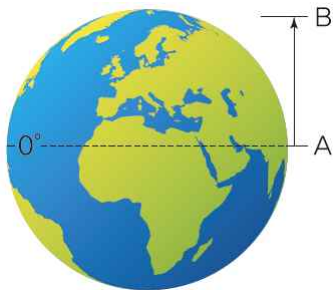
다음 그림을 보고 우리 집의 위치를 규모에 맞게 가장 정확히 설명한 것은?



- ① 병원 근처에 있다.
- ② 경기도 수원시에 위치한다.
- ③ 유라시아 대륙의 동쪽에 있다.
- ④ 북위 35°, 동경 125°에 자리하고 있다.
- ⑤ ○○ 중학교와 ○○ 주민 센터 건너편에 있다.

06

다음 A에서 B로 가면서 나타나는 기후를 순서대로 나열한 것은?



A → B

- ① 열대 기후 → 온대 기후 → 냉대 기후 → 한대 기후
- ② 열대 기후 → 냉대 기후 → 온대 기후 → 한대 기후
- ③ 온대 기후 → 냉대 기후 → 한대 기후 → 열대 기후
- ④ 온대 기후 → 열대 기후 → 냉대 기후 → 한대 기후
- ⑤ 냉대 기후 → 한대 기후 → 온대 기후 → 열대 기후

07

다음은 학생이 쓴 여행 노트이다. ㉠에 해당하는 것은?

신비로운 ‘( ㉠ ) 현상’을  
 체험할 수 있는 여행지

보통 하루에 한 번씩 태양이 뜨고 지지만, 몇  
 몇 나라는 한밤중에도 해가 지지 않는 경우가  
 있다. 바로 ( ㉠ ) 현상이다. ( ㉠ ) 현상은 북극  
 지방에서는 하지 무렵에, 남극 지방에서는 동지  
 무렵에 일어나며, 가장 긴 곳은 6개월이나 계속  
 된다. 노르웨이, 스웨덴, 알래스카, 핀란드, 러시  
 아 등의 나라에서 체험할 수 있다.

- ① 유성                      ② 백야                      ③ 극야
- ④ 용오름                    ⑤ 오로라

08

다음 위도에 따른 인간 생활의 차이에 대한 설명으로 옳지 않은 것은?

- ① 적도 부근은 일 년 내내 더운 날씨가 나타난다.
- ② 고위도 지역은 기온이 낮아 농업 활동에 불리하다.
- ③ 위도에 따라 그 지역 사람들의 의식주 모습이 변화 된다.
- ④ 고위도 지역의 사람들은 난방 시설이 갖추어진 가옥에서 두꺼운 옷을 입고 생활한다.
- ⑤ 저위도에서 고위도로 갈수록 열대 → 온대 → 한대 → 냉대 순으로 기후가 나타난다.

## 09

밀줄 친 ㉠에 들어갈 말로 옳은 것은?

▲ 주요 밀 수출 국가의 밀 수확 시기

교사: 남반구의 국가들은 대규모의 밀 시장이 있는 북반구에서 멀리 떨어져 있기 때문에 밀수출에 불리할 것 같지만, 오히려 이익이 될 때가 많습니다. 왜 이러한 현상이 나타날까요?

학생: \_\_\_\_\_ ㉠ \_\_\_\_\_

- ① 기온이 높고 강수량이 많아서요.
- ② 북반구와 밀 수확 시기가 달라서요.
- ③ 일 년 내내 밀을 수확할 수 있어서요.
- ④ 북반구에 비해 밀 수확량이 많아서요.
- ⑤ 밀 가격이 항상 비싸게 유지되고 있어서요.

## 10

다음 설명에 해당하는 용어를 쓰시오.

- 지역마다 경도 15°마다 1시간씩 차이가 난다.
- 지구가 하루에 한 바퀴씩 자전하면서 발생한다.

( )

## 11

2020년 9월 20일 오후 7시, 우리나라에서 열리는 아이돌 그룹의 공연을 로스앤젤레스에서 생중계로 볼 때의 시각으로 옳은 것은? (단, 서울의 표준 경선은 동경 135°, 로스앤젤레스의 표준 경선은 서경 120°임.)

- ① 9월 20일 오전 2시
- ② 9월 20일 오후 2시
- ③ 9월 20일 오전 8시
- ④ 9월 19일 오전 2시
- ⑤ 9월 19일 오전 8시

## 12

다음 글을 읽고 ○○의 표준 경도를 구한 것으로 옳은 것은? (우리나라의 표준 경도는 동경 135°이다.)

○○ 동계올림픽 개막식은 현지 시각으로 7일 오후 8시 14분부터 올림픽 스타디움에서 열린다. ○○와 한국의 시차는 5시간이므로 한국에서는 오는 8일 오전 1시 14분부터 개막식을 볼 수 있다.

- ① 동경 60°      ② 서경 60°      ③ 서경 75°
- ④ 동경 75°      ⑤ 동경 180°



## 17

지리 정보 기술 활용에 대한 설명으로 옳지 않은 것은?

- ① 댐, 관공서 등의 입지 선정에 활용된다.
- ② 지표면의 여러 현상을 기호를 이용하여 종이에 표현한다.
- ③ 교통 안내 시스템을 활용하여 모르는 길을 찾아 가는 데 활용한다.
- ④ 인공 위성을 활용하여 홍수나 태풍 등 자연재해 상황을 파악할 수 있다.
- ⑤ 자동차 운전자의 보조 장치로 운전자의 위치, 속도를 파악하는 데 활용한다.

## 18

인터넷 전자 지도, 종이 지도, 위성 사진에 대한 내용을 <보기>에서 찾아 바르게 연결한 것은?

보기

- ㄱ. 가장 오래된 지리 정보 도구이다.
- ㄴ. 대기 중의 현상들을 사실적으로 관찰할 수 있다.
- ㄷ. 다양한 형태로 가공·저장 출력할 수 있다.
- ㄹ. 확대와 축소가 자유로우며, 거리와 면적을 구하기 쉽다.
- ㅁ. 사람이 직접 접근하기 어려운 지역의 정보를 수집하여 나타낸다.
- ㅂ. 자연재해를 예측하거나 자연재해 후 변화를 관측하는 데 활용한다.

인터넷 전자 지도

종이 지도

위성 사진

- |   |         |      |         |
|---|---------|------|---------|
| ① | ㄱ       | ㄹ, ㅁ | ㄴ, ㄷ, ㅂ |
| ② | ㄴ, ㅁ, ㅂ | ㄱ, ㄷ | ㄹ       |
| ③ | ㄷ, ㄹ    | ㄱ    | ㄴ, ㅁ, ㅂ |
| ④ | ㄹ, ㅂ    | ㄴ    | ㄱ, ㄷ, ㅁ |
| ⑤ | ㅁ, ㅂ    | ㄴ, ㄹ | ㄱ, ㄷ    |

## 서술형 문제

### 19

유라시아 대륙이 아프리카 대륙이나 아메리카 대륙에 비해 농작물의 전파, 인구 이동 등 문명 전파에 유리했던 이유를 서술하십시오.



### 20

그림을 보고, 미국 로스앤젤레스와 인도 벵갈루루가 시차를 산업에 이용하는 방법을 서술하십시오.



01

다음 설명에 해당하는 용어를 쓰시오.

- 인간 생활에 영향을 미치는 자연의 모든 요소를 이르는 말이다.
- 기후, 지형, 토양, 식생 등이 해당한다.

( )

02

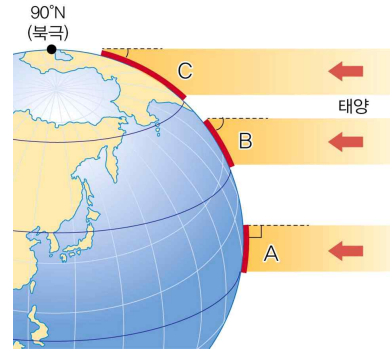
글의 (가), (나)에 대한 설명으로 옳지 않은 것은?

- (가) 오늘 ○○ 지역은 오전 내내 흐리고 비가 오며, 최저 기온은 12°C이고 최고 기온은 24°C입니다.
- (나) 우리나라의 여름은 덥고 비가 많이 내립니다.

- ① (가)는 짧은 시간에도 자주 변할 수 있다.
- ② (가)는 변화 모습이 거의 규칙적으로 반복하여 나타난다.
- ③ (나)는 인간 생활뿐만 아니라 식물의 성장이나 분포에도 영향을 미친다.
- ④ (나)는 오랜 기간에 걸쳐 나타나는 기온, 강수, 바람 등을 평균하여 나타낸 것이다.
- ⑤ (가)는 날씨, (나)는 기후에 대한 설명이다.

03

다음 그림에서 알 수 있는 기후 특징으로 옳은 것은?

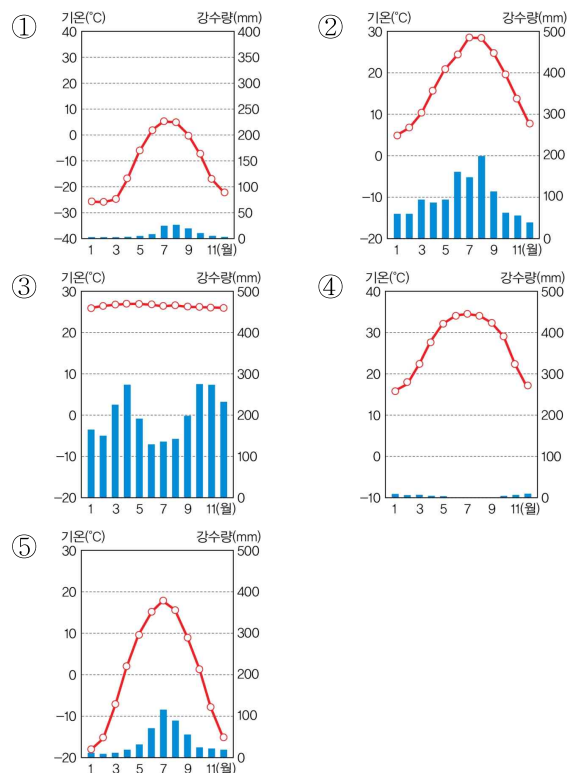


- ① B에서는 밀림이 형성된다.
- ② C는 B보다 연평균 기온이 높다.
- ③ B에서는 계절의 변화가 거의 없다.
- ④ 태양이 수직에 가깝게 비추는 곳은 C 부근이다.
- ⑤ A → B → C로 갈수록 태양 에너지가 넓은 지역으로 분산된다.

04

다음에서 설명하는 지역의 기후 그래프는?

- 일 년 내내 덥고 강수량이 많은 편이다.
- 키 큰 나무들이 뿅뿅이 들어서 있는 밀림이 형성되어 있다.





05

열대 우림의 식생에 대한 설명으로 옳은 것을 <보기>에서 고른 것은?

보기

ㄱ. 다양한 동식물의 서식지 역할을 하고 있다.  
 ㄴ. 키가 큰 나무와 작은 나무들이 어우러져 있다.  
 ㄷ. 계절의 변화가 뚜렷한 중위도 지역에 분포한다.  
 ㄹ. 식량 자원 및 의약품 원료의 공급에 장애가 된다.

- ① ㄱ, ㄴ            ② ㄱ, ㄷ            ③ ㄴ, ㄷ  
 ④ ㄴ, ㄹ            ⑤ ㄷ, ㄹ

06

그림과 같은 농업에 대한 옳은 설명만을 <보기>에서 고른 것은?



보기

ㄱ. 나무를 태운 재는 흙에 양분을 준다.  
 ㄴ. 고무, 카카오, 바나나가 주요 재배 작물이다.  
 ㄷ. 카사바, 양, 옥수수과 같은 농작물을 재배한다.  
 ㄹ. 유럽의 자본과 기술, 원주민의 노동력이 결합하였다.

- ① ㄱ, ㄴ            ② ㄱ, ㄷ            ③ ㄴ, ㄷ  
 ④ ㄴ, ㄹ            ⑤ ㄷ, ㄹ

07

열대 우림 지역의 변화에 대한 설명으로 옳지 않은 것은?

- ① 원주민들의 생활 근거지가 파괴되면서 그들의 토착 문화가 사라지고 있다.
- ② 열대 우림 지역의 개발로 숲에 서식하는 다양한 동식물의 서식지가 파괴되고 있다.
- ③ 자원 개발, 농경지나 방목지 조성을 목적으로 한 삼림 벌채로 인해 밀림이 줄어들고 있다.
- ④ 숲이 사라짐으로써 대기 중의 이산화 탄소가 증가하여 지구 곳곳에서 이상 기후가 나타나고 있다.
- ⑤ 관개 농업 지역을 확대하거나 일자리를 얻어 일정한 곳에 정착하며 생활하는 유목민들이 늘고 있다.

08

다음의 음식 문화가 나타나는 이유로 옳은 것은?

인도네시아에서는 닭고기와 각종 채소를 넣고 향신료로 양념하여 만든 볶음밥인 '나시 고렝'을 즐겨 먹는데, '나시'는 쌀을, '고렝'은 튀기거나 볶는 것을 의미한다.

- ① 음식이 상하는 것을 막기 때문
- ② 소화가 잘되면서 열량이 높기 때문
- ③ 단백질 섭취를 위한 방법이기 때문
- ④ 부족한 비타민을 보충할 수 있기 때문
- ⑤ 주식인 카사바와 양의 요리법이기 때문

09

온대 기후에 대한 설명으로 옳지 않은 것은?

- ① 우리나라는 유라시아 대륙의 동쪽에 있어 계절풍의 영향을 많이 받는다.
- ② 온대 기후는 중위도 지역을 중심으로 분포하며, 가장 추운 달의 평균 기온이  $-3^{\circ}\sim 18^{\circ}\text{C}$ 이다.
- ③ 유라시아 대륙 동안과 북아메리카 대륙 동안 등지에서 온대 계절풍 기후가 나타난다.
- ④ 지중해성 기후 지역은 여름에는 아열대 고압대의 영향으로 덥고 건조한 날씨가 이어진다.
- ⑤ 서안 해양성 기후는 계절풍과 북대서양 해류의 영향으로 기온의 연교차가 작다.

10

다음 지도에서 A~C 지역의 여름철 기후에 대한 옳은 설명만을 <보기>에서 고른 것은?



보기

- ㄱ. A 지역에서는 낮 동안의 태양의 열기를 피해 '시에스타'라고 불리는 낮잠을 즐긴다.
- ㄴ. B 지역의 여름철에는 맑은 날 공원의 잔디밭이나 강변에서 일광욕을 즐기곤 한다.
- ㄷ. B 지역의 가옥은 햇빛을 반사해 기온을 낮추기 위해 흰색으로 칠한 경우가 많다.
- ㄹ. C 지역에서는 여름철 높은 기온을 이용하여 벼 농사를 주로 하며 그 결과 쌀이 주식이었다.

- ① ㄱ, ㄴ                      ② ㄱ, ㄷ                      ③ ㄴ, ㄷ
- ④ ㄴ, ㄹ                      ⑤ ㄷ, ㄹ

11

온대 지역의 주민 생활에 대한 설명으로 옳은 것만을 <보기>에서 고른 것은?

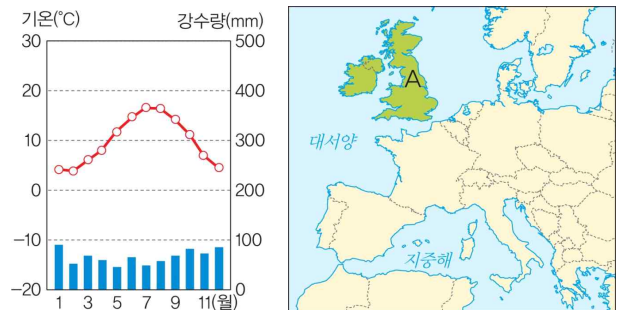
보기

- ㄱ. 지표면의 열기와 습기를 피하고 해충과 뱀 등의 침입을 막기 위해 고상 가옥을 짓는다.
- ㄴ. 유목 생활에 편리하게 조립과 분해가 쉬운 이동식 가옥에 거주한다.
- ㄷ. 우리나라 전통 가옥은 겨울철 생활 공간인 온돌방과 여름철 생활 공간인 대청을 갖추었다.
- ㄹ. 서안 해양성 기후 지역은 흐리고 비 내리는 날이 많아 맑은 날이면 해변이나 공원에서 일광욕을 즐긴다.

- ① ㄱ, ㄴ                      ② ㄱ, ㄷ                      ③ ㄴ, ㄷ
- ④ ㄴ, ㄹ                      ⑤ ㄷ, ㄹ

12

기후 그래프는 A 지역의 기후 특성을 나타낸 것이다. 이에 대한 설명으로 옳은 것은?



- ① 대륙 동안에서 나타난다.
- ② 계절별 강수량이 다르다.
- ③ 여름철에 덥고 건조한 날씨가 나타난다.
- ④ 계절풍의 영향으로 겨울에는 춥고 건조하다.
- ⑤ 기온의 연교차가 큰 대륙성 기후가 나타난다.

### 13

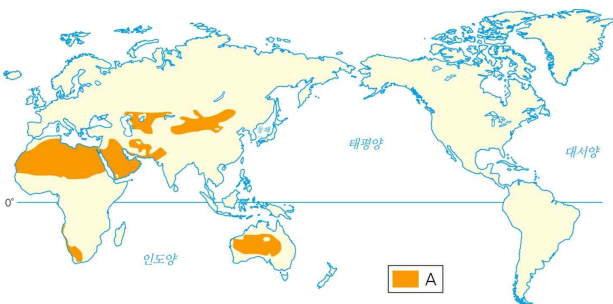
다음 (가), (나)의 설명에 해당하는 기후 지역을 바르게 연결한 것은?

(가) 건조하여 물이 부족한 지역은 농업에 부적합하기 때문에 인간이 거주하기에 불리하다.  
 (나) 사계절이 나타나고 기온과 강수 조건이 농업 활동에 유리하여 오래전부터 많은 사람이 살고 있는 지역으로 인간 거주에 유리하다.

- |            |              |
|------------|--------------|
| (가)        | (나)          |
| ① 건조 기후 지역 | 온대 기후 지역     |
| ② 건조 기후 지역 | 열대 고산 지후 지역  |
| ③ 열대 기후 지역 | 열대 계절풍 기후 지역 |
| ④ 열대 기후 지역 | 냉대 기후 지역     |
| ⑤ 한대 기후 지역 | 온대 기후 지역     |

### 14

지도의 A 지역에서 볼 수 있는 경관으로 옳은 것은?



- ① 황량한 사막이 나타난다.
- ② 침엽수림이 넓게 분포한다.
- ③ 나무가 울창한 밀림을 이루고 있다.
- ④ 초원 사이로 키가 큰 나무들이 나타난다.
- ⑤ 대부분의 기간에 눈과 얼음으로 덮여 있다.

### 15

다음 그림처럼 지하에 수로를 파서 우물과 우물 사이로 물이 흐르게 한 이유로 옳은 것은?



이란에서는 산지에 내린 비가 흘러들어 만들어진 지하수층에 우물을 판 후, 지하 수로를 통해 마을과 농경지로 끌어들이어 생활용수로 이용하는데, 이런 시설을 카나트라고 한다.

- ① 연중 고온 다습한 기후이기 때문이다.
- ② 연중 추운 날씨가 나타나기 때문이다.
- ③ 여름에는 덥고 겨울에는 춥기 때문이다.
- ④ 강수량보다 증발량이 더 많기 때문이다.
- ⑤ 지면에서 올라오는 열기와 습기를 피하기 위함이다.

### 16

사막 지역의 가옥 특징에 대한 설명으로 옳은 것만을 <보기>에서 고른 것은?

보기

ㄱ. 가옥의 재료는 돌과 자갈로 주변에서 쉽게 구하기 어렵다.  
 ㄴ. 골목길이 그늘지도록 건물을 다닥다닥 붙여서 짓는다.  
 ㄷ. 비가 많이 오지만 침수의 위험이 낮아 가옥의 지붕을 평평하게 한다.  
 ㄹ. 일교차를 조절하고 뜨거운 바람을 막기 위해 벽을 두껍게 만들고 창문을 작게 낸다.

- |        |        |        |
|--------|--------|--------|
| ① ㄱ, ㄴ | ② ㄱ, ㄷ | ③ ㄴ, ㄷ |
| ④ ㄴ, ㄹ | ⑤ ㄷ, ㄹ |        |

17

다음 설명에 해당하는 용어를 쓰시오.

- 땅속 온도가 0℃ 이하를 유지하여 항상 얼어있는 토양층
- 툰드라 기후 지역의 여름철에도 지표에 가까운 토양층은 녹지만, 땅속의 이 토양층은 녹지 않는다.

( )

18

툰드라 기후 지역의 모습으로 옳은 것만을 <보기>에서 고른 것은?

- 보기
- ㄱ. 툰드라 기후 지역의 땅속에는 일 년 내내 녹지 않고 얼어붙은 영구 동토층이 있다.
  - ㄴ. 다양한 높이의 식생들이 뺏뺏하게 자라나 밀림을 형성한다.
  - ㄷ. 지표면 부근 토양층에는 짧은 여름철에 눈과 얼음이 녹아서 생긴 습지가 곳곳에 분포한다.
  - ㄹ. 초지가 잘 조성되어 목축에도 유리하여 가축 사육과 곡물 및 사료 작물 재배를 같이 한다.

- ① ㄱ, ㄴ      ② ㄱ, ㄷ      ③ ㄴ, ㄷ
- ④ ㄴ, ㄹ      ⑤ ㄷ, ㄹ

서술형 문제

19

다음 두 학생의 대화를 읽고 여학생의 주장을 뒷받침할 수 있는 근거를 제시하시오.

- 남학생: 열대 우림의 개발과 보존에 대해 어떤 생각을 갖고 있니?
- 여학생: 난 열대 우림을 보존해야 한다고 생각해. 그 이유는 \_\_\_\_\_

-----

-----

-----

-----

-----

20

다음 글에서 여름철 산불이 자주 발생하는 까닭을 기후와 관련지어 서술하시오.

유럽의 남부 지역에 산불이 잇따라 발생하고 있다. 에스파냐 남부에서는 이틀째 산불이 계속되어, 임야 450ha가 타고 주민 200여 명이 대피하였다. 이틀 전 이탈리아와 프랑스 남부에서도 산불이 나는 등 여름철 날씨 때문에 유럽 남부 지역에 산불 피해가 커지고 있다.

- 한국 방송 공사, 2013. 8. 22.

-----

-----

01

밑줄 친 ㉠, ㉡의 지형 형성 작용의 사례가 바르게 연결된 것은?

수십억 년 동안 지구에는 ㉠ 지구 내부의 힘과 ㉡ 외부의 힘이 작용하였다. 세계의 다양한 지형은 오랫동안 지구 내부의 힘과 외부의 힘을 받아 형성된 것이다.

- |      |    |
|------|----|
| ㉠    | ㉡  |
| ① 침식 | 단층 |
| ② 운반 | 퇴적 |
| ③ 용기 | 습곡 |
| ④ 습곡 | 화산 |
| ⑤ 단층 | 침식 |

02

다음 (가)의 지형 형성 작용을 보고 (나)와 같이 정리할 때, 옳은 것만을 고른 것은?

1학년 △ 반 ○○○

(가)

(나) 가. 지형 형성 작용: 외인적 작용에 속함  
 나. 지표면의 변화: 산지는 하천과 빙하, 비와 바람의 작용으로 높이나 형태 등이 변화함.  
 다. 지형 규모: 규모가 큰 지형을 형성함.  
 리. 사례 지형: 습곡 산맥, 화산

- |        |        |        |
|--------|--------|--------|
| ① 가, 나 | ② 가, 다 | ③ 나, 다 |
| ④ 나, 리 | ⑤ 다, 리 |        |

03

세계의 산맥과 산지에 대한 설명으로 옳지 않은 것은?

- ① 산지들이 길게 연속적으로 나타나는 지형을 산맥이라고 한다.
- ② 산맥은 형성 시기에 따라 신기 습곡 산지와 고기 습곡 산지로 구분할 수 있다.
- ③ 해발 고도가 높은 곳에 있지만 지형의 높낮이가 크지 않고 평탄한 곳을 고원이라고 한다.
- ④ 고원은 낮고 평탄했던 지형이 융기하거나 화산 활동으로 흘러나온 용암이 굳어져 형성된다.
- ⑤ 산지는 하천과 빙하, 비와 바람의 작용으로 높이나 형태 등이 일정한 형태를 유지한다.

04

다음 설명에 해당하는 도시의 지명을 쓰시오.

안데스산맥에 위치한 페루의 고산 도시로 잉카 문명의 흔적이 남아 있다. 이곳의 사람들은 서늘한 기후에서 잘 자라는 감자와 옥수수를 재배하고, 알파카와 라마 등을 사육하며 지낸다.

( )



05

다음 (가)~(라)에 대한 옳은 설명만을 <보기>에서 고른 것은?

- (가) 여름에는 산지에서, 겨울에는 마을에서 가축을 기른다.
- (나) 광활한 평지에서 물과 풀을 찾아 이동하며 가축을 기른다.
- (다) 계단식 경작지에서 벼농사를 주로 한다.
- (라) 계단식 경작지에서 밭농사를 주로 한다.

보기

- ㄱ. (가)의 산지는 계절에 따른 기온 변화가 뚜렷하지 않다.
- ㄴ. (다)의 경사지는 평지에 비해 인간이 거주하기 불리한 조건에 해당한다.
- ㄷ. (가)를 이목, (나)를 방목이라고 한다.
- ㄹ. (다) 지역은 (라) 지역보다 덥고 습하다.

- ① ㄱ, ㄴ                      ② ㄱ, ㄷ                      ③ ㄴ, ㄷ
- ④ ㄴ, ㄹ                      ⑤ ㄷ, ㄹ

06

다음 중 산지 지역의 주민 생활에 대한 설명으로 옳지 않은 것은?

- ① 지하자원이 풍부한 산지에는 광업 도시가 발달한다.
- ② 해발 고도가 높고 경사진 지형을 이루고 있어 농업에 불리하다.
- ③ 각종 지하자원과 물 자원, 삼림 자원이 풍부하지만 외부로부터의 방어에 불리하다.
- ④ 여름철의 서늘한 기후를 이용하여 고랭지 채소를 재배하거나 가축을 길러 젓과 고기, 털과 가죽 등을 얻는다.
- ⑤ 국토의 대부분이 산지로 이루어진 나라에서는 깨끗한 자연환경을 이용하여 산악 스포츠 및 관광 산업이 발달하였다.

07

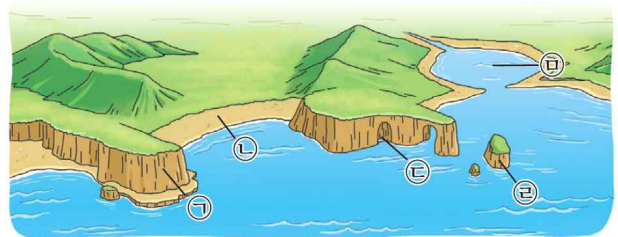
다음 해안 지형에 대한 옳은 설명만을 <보기>에서 고른 것은?

- 보기
- ㄱ. 만은 파랑의 침식 작용이 활발하다.
  - ㄴ. 파랑 에너지가 분산되는 곳은 곳이다.
  - ㄷ. 해안 절벽, 돌기둥 등은 주로 곳에서 발달한다.
  - ㄹ. 갯벌, 모래사장 등은 주로 만에서 발달한다.

- ① ㄱ, ㄴ                      ② ㄱ, ㄷ                      ③ ㄴ, ㄷ
- ④ ㄴ, ㄹ                      ⑤ ㄷ, ㄹ

08

㉠~㉣ 지형의 명칭을 바르게 연결한 것은?



- ① ㉠-해식동                      ② ㉡-석호
- ③ ㉢-해식애                      ④ ㉣-시 스택
- ⑤ ㉣-사빈

## 09

해안 지형에 대한 설명으로 옳지 않은 것은?

- ① 갯벌은 조류의 작용으로 미세한 흙이 퇴적되어 형성된 지형이다.
- ② 모래 해안에서는 해수욕장으로 이용되는 사빈과 석호를 볼 수 있다.
- ③ 암석 해안에는 파도의 퇴적 작용으로 형성된 해안 절벽인 해식애를 볼 수 있다.
- ④ 밀물 때는 물에 잠기고 썰물 때는 육지로 드러나는 갯벌은 주로 양식장이나 염전으로 이용된다.
- ⑤ 산호초와 맹그로브 숲은 해일이나 파도의 침식에서 해안을 보호하며 다양한 바다 생물의 안식처가 된다.

## 10

글에서 알 수 있는 지형 형성 작용으로 옳은 것은?

에트르타 해안가의 아발 절벽은 소설가 모파상이 ‘코끼리가 바다에 코를 처박은 형상’이라고 묘사해 ‘코끼리 바위’로도 잘 알려져 있는데, 인상파 화가인 모네는 이 해안 절벽을 배경으로 한 풍경화를 여러 점 남겼습니다.

- ① 파랑의 침식 작용                      ② 바람의 퇴적 작용
- ③ 조류의 퇴적 작용                    ④ 하천의 침식 작용
- ⑤ 빙하의 침식 작용

## 11

해안 지역의 주민 생활에 대한 설명으로 옳지 않은 것은?

- ① 전통적으로 어업과 양식업에 종사한다.
- ② 해안 지역에 휴양 시설과 편의 시설이 들어서면서 관광업에 종사하는 사람이 증가하였다.
- ③ 관광지에서 발생한 수입은 외부 지역으로 유출되지 않고 지역 경제 활성화에만 사용되어 지역 발전에 도움이 되고 있다.
- ④ 해상 교통이 발달하고 국가 간 교류가 활발해지면서 해안 지역은 대규모 무역항이나 공업 도시로 성장하기도 하였다.
- ⑤ 간척 사업으로 갯벌이 사라지고, 산업 단지나 휴양지 개발로 해안 습지가 파괴되는 등 해안 생태계의 균형이 깨지고 있다.

## 12

바람직한 해안 지역의 개발 방향으로 옳지 않은 것은?

- ① 개발 이익이 지역 주민에게 돌아가는 방안을 모색해야 한다.
- ② 관광객은 지역과 지역 주민에 대한 이해와 배려의 자세를 가져야 한다.
- ③ 해양 생물들을 보호하기 위해 노력해야 한다.
- ④ 생태계의 보고이자 다양한 기능을 수행하는 갯벌을 보전하기 위해 노력해야 한다.
- ⑤ 관광의 형태도 환경의 피해를 고려하지 않고 생태계를 체험하는 생태 관광으로 변해야 한다.

13

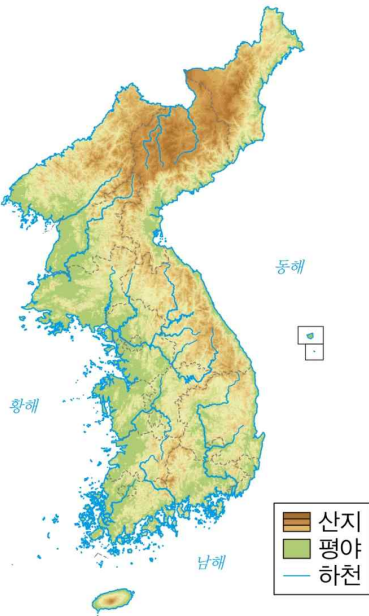
다음 빈칸에 들어갈 알맞은 말을 쓰시오.

한반도는 70%가 산지이나 오랜 시간 풍화와 침식이 진행되어 대부분 산지의 경사가 완만하다. 비교적 동쪽의 산지가 해발 고도가 높고 서쪽으로 갈수록 산지가 낮아지는 경향을 보이는데, 이러한 지형을 ( ) 지형이라고 한다.

( )

14

지도는 우리나라의 지형을 나타낸 것이다. 설명으로 옳은 것은?



- ① 우리나라는 산지보다 평야가 더 많이 분포한다.
- ② 남서부 지역이 북동부 지역에 비해 인구 밀도가 높다.
- ③ 대부분의 큰 하천은 서쪽의 산지에서 시작하여 동해로 흘러들어 간다.
- ④ 남북 간을 연결하는 교통로보다 동서 간을 연결하는 교통로가 발달하였다.
- ⑤ 북동부 지역에는 낮은 산지가 나타나고, 남서부 지역에는 높은 산지와 평야가 나타난다.

15

우리나라의 카르스트 지형에 대한 옳은 설명만을 <보기>에서 고른 것은?

보기

- ㄱ. 석회 동굴에서는鍾유석, 석순 등을 볼 수 없다.
- ㄴ. 강원도 남부와 충청북도 북동부 일대에 분포한다.
- ㄷ. 화강암이 물에 녹아 움푹 파여 만들어진 돌리네와 같은 지형이 나타난다.
- ㄹ. 삼척의 환선굴, 영월의 고씨 동굴 등은 석회 동굴이 발달한 대표적인 곳이다.

- ① ㄱ, ㄴ                      ② ㄱ, ㄷ                      ③ ㄴ, ㄷ
- ④ ㄴ, ㄹ                      ⑤ ㄷ, ㄹ

16

다음 (가), (나)에 있는 호수에 대한 설명으로 옳은 것은?



- ① (가)가 위치한 산은 세계 자연 유산에 등재되었다.
- ② (나)는 우리나라 최고봉에 위치한다.
- ③ (나)는 (가)보다 수심이 깊다.
- ④ (나)는 (가)보다 둘레의 길이가 길다.
- ⑤ (가), (나)는 화산 활동으로 형성된 곳에 물이 고여 만들어졌다.

17

다음 우리나라의 동해안에 대한 설명으로 옳은 것은?

- ① 사빈이 발달하여 해안선이 복잡하다.
- ② 조류의 작용이 활발하여 갯벌이 많이 분포한다.
- ③ 파도의 퇴적 작용으로 형성된 해식애, 시 스택 등의 지형이 나타난다.
- ④ 모래 해안은 동해로 흐르는 하천이 운반해 온 모래를 파도가 해안을 따라 퇴적하여 만든 것이다.
- ⑤ 동해안에는 모래 해안을 따라 바다와 마주 보는 호수인 사빈이 형성되어 해수욕장과 함께 주요 관광지로 이용된다.

18

다음 제주도에 대한 설명으로 옳지 않은 것은?

- ① 한라산의 봉우리에는 화구호인 백록담이 있다.
- ② 제주도에서는 다각형의 기둥 모양인 주상 절리를 볼 수 있다.
- ③ 대규모 화산 폭발 이후 소규모의 화산 폭발로 인해 형성된 오름을 많이 볼 수 있다.
- ④ 울릉도, 독도와 달리 용암의 점성이 높아 넓게 퍼지지 않고 굳어진 결과 경사가 급한 화산체가 되었다.
- ⑤ 한라산, 성산 일출봉, 거문오름 용암 동굴계는 지형학적 가치를 인정받아 유네스코 세계 자연 유산으로 지정되었다.

서술형 문제

19

글은 고산병에 대한 것이다. 고산병의 원인과 고산 도시를 여행하기 위해 준비해야 할 것들을 두 가지 이상 서술하시오.

해발 고도 3,000m 이상의 안데스의 고산 도시를 여행하기 위해서는 세심한 주의가 필요하다. 현기증과 구토, 두통을 동반하는 고산병 때문이다. 고산병은 일반적으로 해발 고도가 높아지면서 감소하는 공기 안에 포함된 산소도 줄어들어 발생한다. 이외에도 고지대에서는 신체의 수분이 빨리 증발하여 추위와 탈수 현상이 쉽게 나타나기 때문에 미리 준비해야 한다.

-----

-----

-----

20

다음 글을 읽고, 물음에 답하시오.

비미니 제도는 아름다운 산호초 해안과 질푸른 맹그로브 숲으로 유명하며, 뛰어난 자연환경을 바탕으로 호텔, 리조트, 요트 선착장을 갖춘 관광지로 개발되었다.

그 결과 ㉠\_\_\_\_\_.

그러나 관광지로 개발된 이후 맹그로브 숲이 파괴되었고, 호텔과 리조트에서 많은 물을 끌어다 쓰면서 주민들은 물 부족 문제를 겪게 되었다.

(1) 밑줄 친 ㉠에 들어갈 문장을 앞 문장과 연계 및 추론하여 쓰시오.

(2) 해안 지역을 관광지로 개발하는 것에 대한 자신의 의견을 찬성 또는 반대 입장에서 서술하시오.

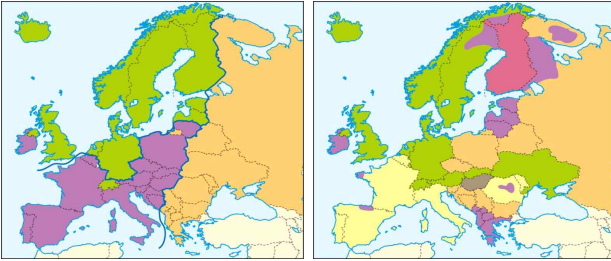
-----

-----

01

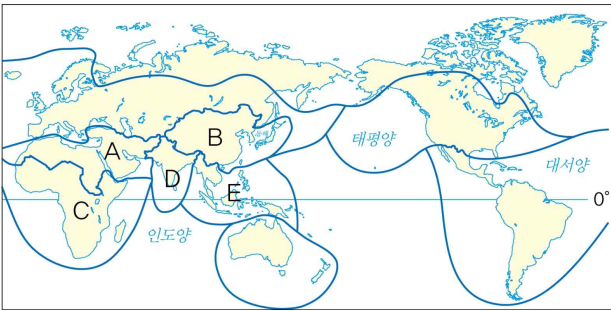
지도는 유럽의 문화 지역 구분을 나타낸 것이다. (가)와 (나)의 지역 구분 기준을 바르게 연결한 것은?

(가) (나)



- |      |     |      |     |
|------|-----|------|-----|
| (가)  | (나) | (가)  | (나) |
| ① 종교 | 언어  | ② 종교 | 민족  |
| ③ 언어 | 종교  | ④ 언어 | 민족  |
| ⑤ 민족 | 종교  |      |     |

[02~04] 지도를 보고, 물음에 답하시오.



02

A~E 문화 지역에 대한 설명으로 옳은 것은?

- ① A 지역에서는 바닥의 열기를 차단하기 위해 고상 가옥이 나타난다.
- ② B 지역에서는 이슬람교를 기반으로 한 문화가 발달하고 있다.
- ③ C 지역에서는 모래바람을 막기 위해 전신을 감싸는 헐렁한 옷을 입는다.
- ④ D 지역에서는 향신료를 많이 사용한 음식 문화가 발달하였다.
- ⑤ E 지역에서는 한자를 주로 사용하며, 유교 문화가 발달하였다.

03

B 문화 지역에 대한 설명으로 옳지 않은 것은?

- ① 문자로는 한자 문화 지역에 해당된다.
- ② 유교가 사회 제도 형성에 영향을 주었다.
- ③ 한국, 중국, 일본, 몽골 등 국가가 있다.
- ④ 자연환경이 비슷하여 동일한 모양의 젓가락을 사용하는 문화가 발달하였다.
- ⑤ 우리나라는 한복, 중국은 치파오, 일본은 기모노 등 서로 다른 의복 문화가 나타난다.

04

A와 D 문화 지역을 바르게 비교한 것은?

①	의	A	바늘구멍이 없는 옷
		D	온몸을 감싸는 옷
②	식	A	오래 끓이는 스투
		D	싱겁고 찢 요리
③	주	A	게르와 같은 이동식 가옥
		D	침엽수를 이용한 통나무집
④	농업	A	오아시스 농업과 관개 농업
		D	올리브, 포도 등 수목 농업
⑤	종교	A	메카를 성지로 하는 이슬람교
		D	다양한 신을 믿는 힌두교



## 05

다음 A, B 문화 지역에 대한 설명으로 옳은 것은?



- ① 리오그란데강으로 A와 B 지역이 구분된다.
- ② A 지역은 주로 남부 유럽의 영향을 받아 대부분 포르투갈어를 사용하며, 가톨릭을 믿는다.
- ③ A 지역은 원주민과 식민 지배 동안 유입된 유럽인과 아프리카계 주민 간의 혼혈인이 많다.
- ④ 온대 및 냉대 기후가 나타나는 B의 해안가에는 영국의 앵글로 색슨족이 문화를 발달시켰다.
- ⑤ B 지역은 초기 이주민의 유입 이후 아시아, 아프리카, 라틴 아메리카 등 다양한 지역의 이주민이 유입되면서 다양한 문화가 공존한다.

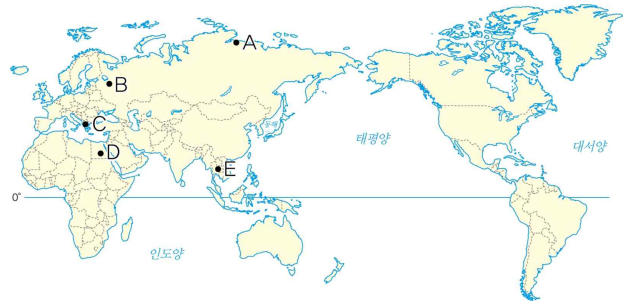
## 06

자연환경에 따라 달라지는 의복 문화에 대한 설명으로 옳지 않은 것은?

- ① 열대 기후 지역 - 통풍이 잘 되는 옷을 입는다.
- ② 한대 기후 지역 - 보온이 잘되는 털옷이나 가죽옷을 입는다.
- ③ 온대 기후 지역 - 사계절 특성에 맞는 의복 문화가 나타난다.
- ④ 건조 기후 지역 - 더위를 막기 위해 짧고 간편한 옷을 입는다.
- ⑤ 인간은 자연환경에 적응하거나 극복하면서 다양한 의복 문화를 만들어 왔다.

## 07

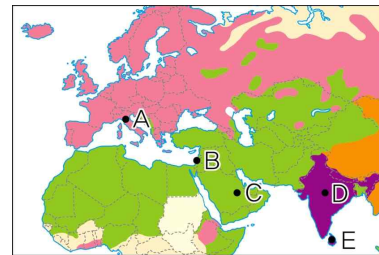
A~E 지역의 지도와 관련된 가옥 문화에 대한 설명으로 옳은 것은?



- ① A 지역은 침엽수림을 이용한 통나무집이 발달한다.
- ② B 지역에서는 순록 유목을 위한 이동식 가옥이 나타난다.
- ③ C 지역에서는 작은 창문과 두꺼운 벽이 특징으로 나타나는 흙집이 발달하였다.
- ④ D 지역에서는 여름철 고온 건조한 기후를 극복하기 위한 흰 벽돌집이 나타난다.
- ⑤ E 지역에서는 비가 많이 와 지붕 경사가 급한 고상 가옥이 나타난다.

## 08

A~E 지역의 종교와 관련된 옳은 설명만을 <보기>에서 있는 대로 고른 것은?



보기

- ㄱ. A는 중세 유럽 문화에 큰 영향을 주었으며, 예루살렘을 성지로 하고 있다.
- ㄴ. B는 인도에서 기원하였으며 살생을 금기시하는 계율이 있어 사찰에서는 고기를 먹지 않는다.
- ㄷ. C는 코란의 지침에 따라 생활하고 하루에 5번 메카를 향해 절을 한다.
- ㄹ. D는 다신교이며 소를 신성시 여겨 쇠고기를 먹지 않는다.
- ㅁ. E는 문어, 오징어, 말 등을 먹지 않고 돼지고기를 부정한 것으로 여긴다.

- ① ㄱ, ㄷ, ㄹ      ② ㄱ, ㄷ, ㅁ      ③ ㄴ, ㄷ, ㄹ
- ④ ㄴ, ㄹ, ㅁ      ⑤ ㄷ, ㄹ, ㅁ

09

문화 변용에 대한 설명으로 옳은 것은?

- ① 문화는 한 지역에 고정되어 변화하지 않는다.
- ② 이전에 없던 새로운 문화를 창조하는 것을 문화의 발견이라고 하며, 문화 변용의 원인이 된다.
- ③ 문화 전파에 의해 기존의 문화가 변화하거나 새로운 문화가 만들어지는 것이 문화 변용이다.
- ④ 서로 다른 문화적 배경을 지닌 개인이나 집단이 만나 새로운 문화로 발전하기도 하는데 이를 문화의 발명이라고 한다.
- ⑤ 교통과 통신이 편리해지면서 문화간 교류가 활발해졌으나 자연환경으로 인하여 문화의 변화 속도는 느리게 이루어진다.

10

다음 지도의 주제로 적절한 것은?



- ① 두 스포츠는 영국에서 전파되었다.
- ② 크리켓과 축구는 전 세계인이 즐기는 스포츠이다.
- ③ 문화는 전파된 지역의 문화에 따라 다양하게 나타난다.
- ④ 유럽 문화는 식민지 지배 시기를 거치면서 전 세계로 확산되었다.
- ⑤ 문화의 장벽에 따라 문화의 확산 속도와 범위에 차이가 있을 수 있다.

11

다음 글에서 설명하는 문화 변화로 옳은 것은?

유네스코는 21일 ‘세계 모어(母語)의 날(international mother language day)’을 맞아 발표한 ‘세계 사멸 위기 언어 지도’ 보고서에서 이같이 밝히면서 “하나의 언어가 사라지면 인간의 사고와 세계관을 인식하고 이해하는 도구를 영원히 잃어 버리게 된다.”라고 경고했다. 오스트레일리아의 경우 1970년대까지 모어 사용을 금지, 수백 가지 원주민(애보리진) 언어가 사멸됐다.

- 동아일보, 2002. 2. 21.

- ① 문화 동화
- ② 문화 전파
- ③ 문화 공존
- ④ 자극 전파
- ⑤ 문화 이동

12

그림에 나타난 문화 현상으로 옳은 것은?



- ① 문화의 다양성
- ② 문화의 상대성
- ③ 문화의 획일화
- ④ 문화의 세계화
- ⑤ 문화의 지역화

### 13

문화의 공존과 갈등에 대한 설명으로 옳지 않은 것은?

- ① 정부의 법적, 제도적인 노력을 통해서만 문화의 갈등을 해결할 수 있다.
- ② 서로 다른 문화 지역 간의 문화 교류가 일어나면서 다양한 문화가 공존하기도 한다.
- ③ 다른 문화 집단 간에 불신이 커지면, 사회적 차별로 이어지게 되고 심각한 갈등이 나타나기도 한다.
- ④ 다양한 문화가 공존하기 위해서는 상대방의 역사적 지리적 환경적 측면에서 이해하기 위해 노력해야 한다.
- ⑤ 종교와 언어 갈등은 대개 인종과 민족 차이, 영해와 영토를 둘러싼 갈등 등 다양한 요소와 섞여 복잡한 양상을 띤다.

### 14

다음 자료에서 설명하고 있는 주제로 적절한 것은?

말레이시아

싱가포르

주요 종교 시설

- 불교
- 힌두교
- 이슬람교
- 크리스티교
- 시크교

스리사리나타페루암 사원, 아르메니아 교회, 성안드루 성당, 스리마리아만 사원, 사웅림 사원, 센트럴시크 사원, 숄탄 모스크, 불사, 싱가포르 해협, 창이 국제공항

무역이 발달한 싱가포르는 노동력 확보를 위해 이민 정책을 적극적으로 펼쳤고, 원주민인 말레이계 민족과 이주민인 중국계, 인도계 등 다양한 인종이 거주하게 되면서 다양한 종교가 공존하고 있다. 싱가포르 정부는 헌법에 인종 간 평등주의를 명시하고, 종교별로 균등하게 법정 공휴일을 지정하도록 하였다. 이러한 정책은 인종과 종교 간 갈등을 줄이고 다양한 문화가 공존하는 싱가포르만의 정체성을 확립시키게 되었다.

- ① 문화의 교차로 싱가포르
- ② 싱가포르의 정부 정책과 역할
- ③ 다양한 문화가 공존하는 싱가포르
- ④ 싱가포르의 다양한 종교 문화 경관
- ⑤ 싱가포르! 그들의 고유한 역사와 문화

### 15

(가)와 (나) 지역에 대한 설명으로 옳은 것은?



- ① (가) 지역은 서로 다른 언어를 사용하는 지역 간에 갈등이 발생하고 있다.
- ② (가) 지역은 프랑스어, 독일어, 이탈리아어, 영어를 공용어로 사용하고 있다.
- ③ (나) 지역은 공업이 발달한 왈롱과 농업이 발달한 플랑드르 지역 사이의 갈등이 나타난다.
- ④ (나) 지역은 프랑스어를 사용하는 북부와 네덜란드어를 사용하는 남부와 독일어를 사용하는 일부 동부 지역으로 구분된다.
- ⑤ (가)는 정부의 다양한 언어 정책으로 갈등을 해결하였으나, (나)는 남부와 북부 간의 언어와 문화 차이로 갈등이 발생하고 있다.

### 16

(가), (나) 지역 분쟁의 원인을 바르게 연결한 것은?

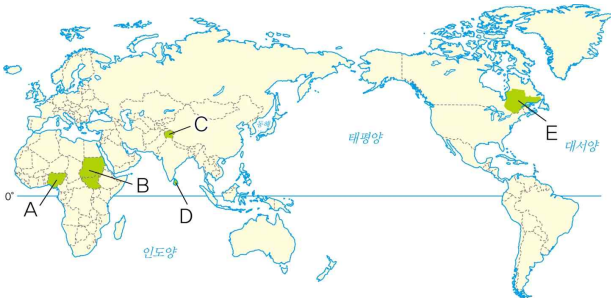
(가) 프랑스 전통이 남아 있는 캐나다의 퀘벡주는 전체 인구의 80% 정도가 프랑스어를 사용하고 있다.

(나) 스리랑카는 싱할라족이 전체 인구의 3/4을, 타밀족, 무어족 등이 사는 다민족 국가이다.

- |   |     |     |   |     |     |
|---|-----|-----|---|-----|-----|
|   | (가) | (나) |   | (가) | (나) |
| ① | 민족  | 언어  | ② | 언어  | 영토  |
| ③ | 영토  | 종교  | ④ | 언어  | 종교  |
| ⑤ | 종교  | 언어  |   |     |     |

17

A~E에 해당하는 분쟁의 원인으로 옳은 것은?



- ① A는 원시 종교와 이슬람교 간의 갈등이 발생한다.
- ② B는 남북 지역 간의 종교, 민족이 다르며, 석유 자원을 둘러싼 이권 다툼으로 분리 독립되었다.
- ③ C는 중국과 인도 간의 종교 갈등이 발생한다.
- ④ D는 불교를 믿는 타밀족과 힌두교를 믿는 신탈리족 간의 갈등이다.
- ⑤ E는 퀘벡주로 주로 영어를 사용하는 캐나다와 달리 네덜란드어를 사용하여 갈등이 발생하고 있다.

18

글에서 나타나는 분쟁에 대한 설명으로 옳지 않은 것은?

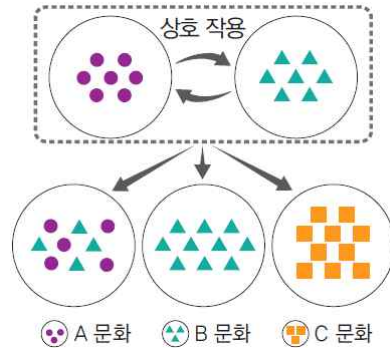
프랑스의 한 공립 병원 직원인 한 이슬람교 여성은 머릿수건인 ‘히잡’을 쓰고 근무했다는 이유로 일자리를 잃게 되었다. 유럽 인권 재판소(ECHR)는 직원에게 히잡 착용을 금지한 것은 합법이라고 판결했다. 이에 따라 원주민과 이슬람교도들 간에 갈등이 심화되고 있다.

- ① 원주민과 이주민 간에 서로의 문화를 존중하는 태도가 요구된다.
- ② 경제적 목적으로 유럽으로 유입된 이민자가 증가하면서 갈등이 발생하였다.
- ③ 서로 다른 문화 집단 간에 불신이 커지면서 사회적 차별로 이어지게 되었다.
- ④ 크리스티교를 기반으로 하는 원주민과 이슬람 문화를 지닌 이주민 간의 갈등이다.
- ⑤ 갈등을 해결하기 위해서는 이주민들이 원주민의 문화에 적응하여 현지의 문화에 동화되어야 한다.

서술형 문제

19

다음 그림을 보고, 물음에 답하십시오.



(1) A~C에 들어갈 용어를 쓰시오.

A: \_\_\_\_\_ B: \_\_\_\_\_ C: \_\_\_\_\_

(2) C에 해당하는 사례를 한 가지 이상 쓰시오

-----

-----

20

갈등을 극복하고 문화가 공존하기 위해 가져야 할 태도에 대해 서술하십시오.

-----

-----

-----

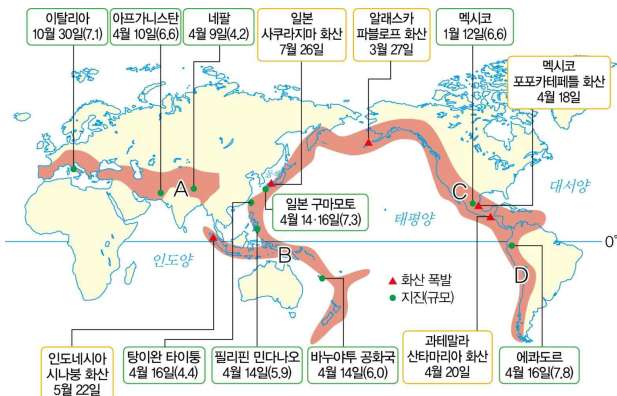
01

우리나라에서 발생하는 자연재해에 대한 설명으로 옳지 않은 것은?

- ① 여름에는 폭염과 홍수 피해가 나타난다.
- ② 겨울에는 한파와 폭설에 의한 피해가 나타난다.
- ③ 6~9월 열대 이동성 저기압에 의한 피해가 발생한다.
- ④ 우리나라에 가장 많은 피해를 주는 자연재해는 한파이다.
- ⑤ 지각판의 경계에서 멀어 지각 운동이 활발하지는 않지만, 최근 크고 작은 규모의 지진의 발생이 늘고 있다.

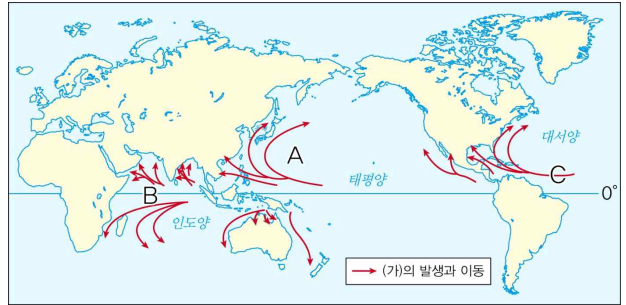
02

지도는 2016년에 발생한 주요 화산 폭발과 지진이 발생한 지역을 표시한 것이다. A~D에 대한 설명으로 옳은 것은?



- ① A 지역에서는 화산 활동이 활발하게 일어난다.
- ② B 지역은 대륙판과 대륙판이 충돌하는 지역이다.
- ③ C 지역은 두 지각판이 어긋나는 지역으로 지진은 일어나지만 화산 활동은 발생하지 않는다.
- ④ D 지역은 해양판이 대륙판 아래로 섭입하는 지역으로 지진과 화산 활동이 활발하게 발생한다.
- ⑤ A~D 지역 모두 화산 활동이 활발하여 불의 고리라고 한다.

[03~04] 지도를 보고, 물음에 답하시오.



03

(가) 대한 설명으로 옳은 것은?

- ① 중위도 해상에서 주로 발생한다.
- ② 장기간에 걸쳐 넓은 범위에 피해를 준다.
- ③ 북극해로 유입하는 하천에서 봄철에 발생한다.
- ④ 겨울철 습한 공기가 유입되는 지역에서 발생한다.
- ⑤ 적조 현상을 완화하고 지구의 열균형을 유지해 준다.

04

A~C에 대한 설명으로 옳은 것은?

- ① A는 태평양 열대 해상에서 발원하여 풍수해를 발생시킨다.
- ② A는 남태평양에서 발원하여 벵골만 지역으로 이동하면서 강한 홍수 피해를 준다.
- ③ B는 허리케인이라고 불리며, 뜨거운 육지를 지나며 세력이 점차 강해진다.
- ④ C는 사이클론이라고 불리며, 중심 부근의 최대 풍속이 17m/s 이상이다.
- ⑤ C는 대기가 따뜻하고 안정되어 있어 강한 안개를 발생시킨다.



05

다음 글에서 설명하는 자연재해는?

방글라데시는 갠지스강과 브라마푸트라강의 하류에 있으며, 국토 면적의 약 80%가 낮은 평야 지대이다. 따라서 인구 대부분이 하천이 흐르는 넓은 평야에서 벼농사를 지으며 살아간다. 이로 인해 해마다 벵골만에서 발생하는 사이클론과 여름철 집중호우로 하천 주변의 저지대가 쉽게 물에 잠겨 인명피해와 재산 피해가 엄청나다.

- ① 홍수                      ② 가뭄                      ③ 폭염
- ④ 폭설                      ⑤ 한파

06

자연재해가 빈번한 지역에서 사람들이 사는 이유로 옳지 않은 것은?

- ① 자연재해가 가져오는 긍정적인 측면도 있기 때문이다.
- ② 한꺼번에 대규모의 사람들이 이주할 곳이 없기 때문이다.
- ③ 자연재해로 인해 발생하는 스틸과 액티비티를 즐기기에 위해서이다.
- ④ 아직 큰 재해가 발생하지 않아 큰일이 없을 것이라고 생각하기 때문이다.
- ⑤ 자연재해가 발생해도 자신의 삶의 터전에서 떠나고 싶지 않아 다시 돌아오기 때문이다.

07

홍수가 인간 생활에 주는 긍정적인 측면만을 <보기>에서 있는 대로 고른 것은?

보기

- ㄱ. 오랫동안 비가 오지 않은 지역의 가뭄 문제를 해결한다.
- ㄴ. 하천 저지대에 위치한 농경지나 가옥, 도로 등을 침수시킨다.
- ㄷ. 생태계가 파괴되고 산사태가 일어나는 등 인명 및 재산 피해를 유발한다
- ㄹ. 홍수로 하천이 범람하면 한꺼번에 많은 물과 영양분이 공급되어 땅이 비옥해진다.

- ① ㄱ, ㄴ                      ② ㄱ, ㄹ                      ③ ㄴ, ㄷ
- ④ ㄱ, ㄴ, ㄹ                ⑤ ㄴ, ㄷ, ㄹ

08

가뭄이 인간 생활에 주는 영향으로 옳지 않은 것은?

- ① 비가 오지 않아 공업 발달이 유리해진다.
- ② 사람들의 식수가 부족해지고, 더러운 물로 인한 질병 문제가 발생한다.
- ③ 가뭄이 지속되면 하천수와 지하수의 고갈로 농사를 짓기 어려워진다.
- ④ 가뭄이 오랫동안 이어져 경작지가 파괴되고 기아와 기근 문제가 발생한다.
- ⑤ 고온 건조한 바람에 의하여 농작물이 말라죽거나 산불이 발생하기도 한다.

09

열대 저기압이 인간 생활에 주는 긍정적인 영향만을 <보기>에서 있는 대로 고른 것은?

보기

ㄱ. 바닷물을 뒤섞어 적조 현상을 완화한다.  
 ㄴ. 무더위를 식혀주고 가뭄을 해결해 준다.  
 ㄷ. 강한 바람에 의해 각종 시설물이 파괴된다.  
 ㄹ. 맑은 날이 유지되어 태양력 발전에 유리해진다.  
 ㅁ. 하천의 범람으로 하천 주변의 토양이 척박해진다.

- ① ㄱ, ㄴ            ② ㄱ, ㄷ            ③ ㄴ, ㄷ  
 ④ ㄴ, ㄹ, ㅁ        ⑤ ㄷ, ㄹ, ㅁ

10

지진 활동이 빈번한 지역의 주민 생활로 옳지 않은 것은?

- ① 건물을 지을 때 내진 설계를 통해 대비한다.  
 ② 피해 지역을 보존하여 교육과 관광 자원으로 활용하고 있다.  
 ③ 아프리카 지역에서는 경작지와 초지를 잃고 굶주림이 늘고 있다.  
 ④ 경보와 대피 체계를 구축하고 학교에서는 주기적으로 대피 훈련을 한다.  
 ⑤ 아파트 난간을 합판으로 지어 길이 막혔을 때 옆집으로 이동하여 피할 수 있게 하였다.

11

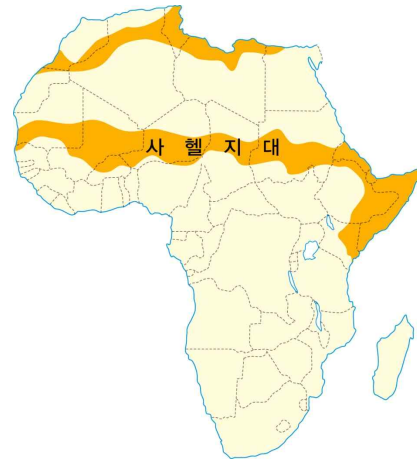
(가)와 (나)에서 공통으로 발생하는 자연재해는?

(가) 유황은 의학과 화학의 주원료이다. 광산에서는 유독가스가 뿜어져 나오지만, 순도 99%인 유황은 주민들의 중요 수입원이다.  
 (나) 곳곳에 간헐천이 솟구치는 이 지역은 1인당 지열 에너지를 가장 많이 사용하는 나라이다. 이 지역에서는 90%의 인구가 지열 에너지로 난방을 한다.

- ① 홍수            ② 가뭄            ③ 폭설  
 ④ 화산            ⑤ 지진 해일

12

지도에 표시된 지역에서 발생하는 자연재해의 원인을 <보기>에서 있는 대로 고른 것은?

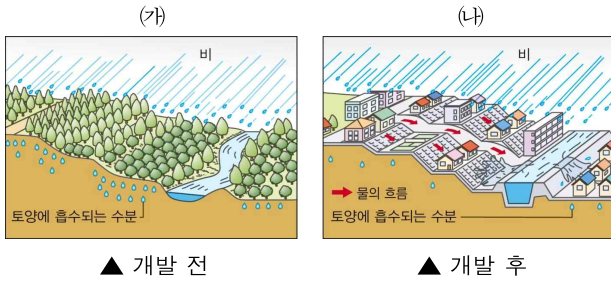


보기

ㄱ. 하천의 직선화  
 ㄴ. 과도한 방목과 목축  
 ㄷ. 지구 온난화에 의한 가뭄  
 ㄹ. 아스팔트 포장 면적의 증가  
 ㅁ. 인구 증가로 인하여 식량 요구량 증가

- ① ㄱ, ㄴ, ㄷ            ② ㄱ, ㄷ, ㄹ            ③ ㄴ, ㄷ, ㄹ  
 ④ ㄴ, ㄷ, ㅁ            ⑤ ㄷ, ㄹ, ㅁ

[13~14] 그림을 보고, 물음에 답하십시오.



### 13

위와 같은 변화로 인해 발생하는 자연재해에 대한 설명으로 옳은 것은?

- ① 지구 온난화로 인하여 이상 기후 발생이 증가한다.
- ② 지하수를 무분별하게 개발하여 사막화가 진행된다.
- ③ 이상 고온으로 인하여 이동성 저기압의 피해를 증가한다.
- ④ 대도시의 건물이 증가하여 일조량이 줄어들어 식물이 고사한다.
- ⑤ 아스팔트 포장 면적이 증가하여 빗물이 땅속으로 흡수되지 못하고 넘쳐 홍수 발생 위험이 커진다.

### 14

(나)에 나타나는 문제점을 해결하기 위한 방안으로 옳지 않은 것은 ?

- ① 높은 건물에 옥상 정원을 조성한다.
- ② 도시 곳곳에 빗물을 저장할 수 있는 빗물 저장소를 설치한다.
- ③ 포장 도로를 덮고 있는 아스팔트를 물이 투과될 수 있는 소재로 바꾼다.
- ④ 구불구불하게 흐르는 하천을 직선화하여 물이 바다로 빠르게 이동하게 한다.
- ⑤ 홍수 피해를 줄이기 위해 만들었던 콘크리트 제방을 제거하고 그곳에 식생이 자랄 수 있게 한다.

### 15

국제 사회에서 사막화 현상을 겪고 있는 개발 도상국을 재정적·기술적으로 지원하기 위한 협약은?

- ① 바젤 협약
- ② 람사르 협약
- ③ 도하 아젠다
- ④ 몬트리올 의정서
- ⑤ 유엔 사막화 방지 협약


### 16

녹색 댐의 기능으로 적절하지 않은 것은?

- ① 오염된 물을 정화하는 기능을 한다.
- ② 홍수 시 물을 저장하여 홍수를 조절한다.
- ③ 나무뿌리가 토양을 지탱하여 산사태를 예방한다.
- ④ 갈수기에 나무가 수분을 내뿜어 가뭄을 완화한다.
- ⑤ 강의 입구를 막아 물을 저장하여 홍수와 가뭄에 대비한다.

## 17

그림속의 ㉠~㉣ 중 홍수 피해를 증가시키는 인간 활동을 모두 고른 것은?



- ① ㉠, ㉡, ㉢                      ② ㉠, ㉢, ㉣  
 ③ ㉡, ㉢, ㉣                      ④ ㉡, ㉢, ㉣  
 ⑤ ㉢, ㉣, ㉣

## 18

다음 신문 기사와 관련된 자연재해 피해를 줄이기 위한 방법으로 옳은 것은?

○○신문

△△뉴스, 2016년 2월 16일

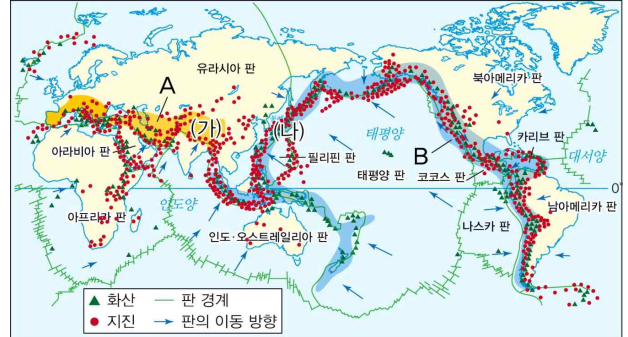
“얼어붙은 한반도! ○○과 강추위로 몸살”

2016년 2월 17일 서울은 눈을 뜨고 걷기 힘들 정도로 많은 눈이 내렸습니다. 중국 내륙에서 접근하던 저기압이 황해를 지나며 많은 수증기를 공급받아 우리나라 중부 내륙의 찬 공기와 충돌한 것이 그 원인입니다.

- ① 사방 댐을 건설한다.  
 ② 건물 붕괴를 막기 위한 내진 설계를 한다.  
 ③ 자가용 이용을 자제하고 대중교통을 이용한다.  
 ④ 탁자 밑에 들어가거나 방석 등을 이용하여 몸을 보호한다.  
 ⑤ 하천을 직선화하여 빠르게 하천의 물을 바다로 유입시킨다.

## 서술형 문제

[19~20] 지도를 보고, 물음에 답하십시오.



## 19

A, B에 들어갈 용어를 쓰고, (가) 지역에서 지진은 자주 발생하나 화산 활동은 발생하지 않는 이유를 서술하십시오.

A: \_\_\_\_\_ B: \_\_\_\_\_

-----  
 -----  
 -----

## 20

(나) 지역에서 자주 발생하는 자연재해를 쓰고, 이 자연재해가 주민 생활에 미치는 긍정적 영향과 부정적 영향을 각각 한 가지 이상 서술하십시오.

-----  
 -----  
 -----

01

밑줄 친 ㉠에 들어갈 용어로 옳은 것은?

석유, 물, 식량 등 인간 생활에 필요한 자원은 지구상에 고르게 분포하지 않고, 일부 지역에 집중된 경향이 있다. 이를 ㉠이라고 한다. 현대 사회에 꼭 필요한 자원은 ㉠이 커서 자원의 확보 과정에서 경쟁과 갈등이 발생한다.

- ① 자원의 희소성                      ② 자원의 유한성
- ③ 자원의 이동성                      ④ 자원의 편재성
- ⑤ 자원의 가변성

02

(가)와 (나)에서 설명하는 자원의 속성으로 옳은 것은?

(가) 주요 자원의 가채 연수



(나) 국가별 식량 자원의 소비 특성



(가)

(나)

- ① 자원의 편재성                      자원의 희소성
- ② 자원의 희소성                      자원의 유한성
- ③ 자원의 유한성                      자원의 가변성
- ④ 자원의 가변성                      자원의 이동성
- ⑤ 자원의 이동성                      자원의 편재성

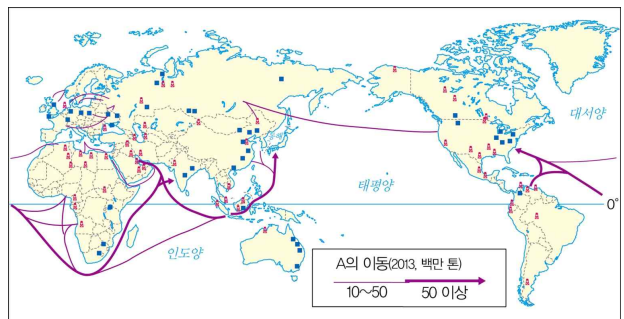
03

자원에 대한 설명으로 옳지 않은 것은?

- ① 철광석 같은 자원은 재생 불가능한 자원이다.
- ② 자원이란 현재 기술로 개발할 수 있으며 경제적으로 이용 가치가 있는 것을 의미한다.
- ③ 좁은 의미의 자원으로는 노동력, 창의력 등의 인적 자원이 포함된다.
- ④ 좁은 의미의 자원은 천연자원을 의미하는데 곡물, 육류와 같은 식량 자원이 포함된다.
- ⑤ 자원은 태양력, 수력과 같은 재생 가능한 자원과 석탄과 같은 재생 불가능한 자원으로 구분하기도 한다.

04

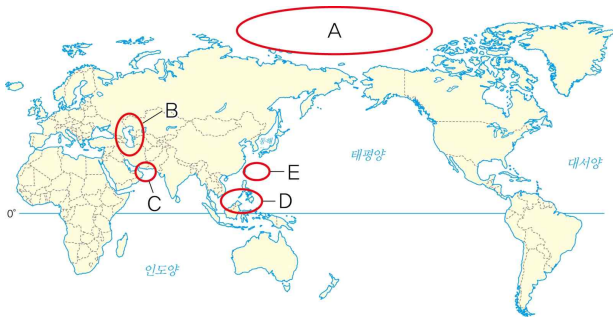
지도는 A 자원의 국제적 이동을 나타낸 것이다. A 자원으로 옳은 것은?



- ① 석유
- ② 석탄
- ③ 구리
- ④ 물 자원
- ⑤ 천연가스

## 05

A~E에 대한 설명으로 옳은 것은?



- ① A는 자원 매장량이 많아 국제 분쟁을 피하기 위해 영유권 주장이 금지되어 있다.
- ② B는 호수로 볼 것인가 바다로 볼 것인가에 따라 국가별로 석유 자원에 대한 이권이 달라져 자원 분쟁이 발생하고 있다.
- ③ C는 이란과 이라크 간의 석유 자원 분쟁이 발생하고 있다.
- ④ D는 일본, 중국, 타이완 간의 석유와 천연가스를 둘러싼 갈등이 발생하고 있다.
- ⑤ E는 중국, 필리핀, 브루나이, 베트남 등의 국가에서 석유 자원을 둘러싼 분쟁이 발생하고 있다.

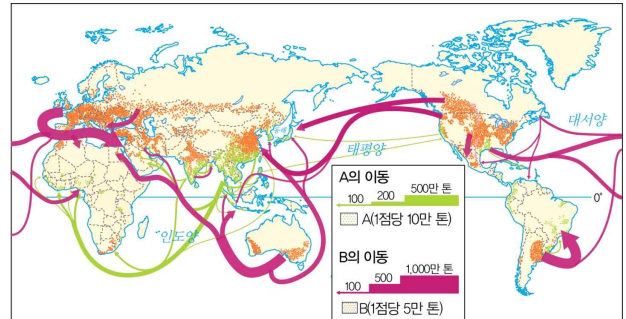
## 06

밑줄 친 ㉠에 들어갈 용어로 옳은 것은?

물 자원은 인간 생활에 필수적이지만 대체할 수 있는 자원이 없다는 특징이 있다. ㉠은/는 여러 나라를 가로질러 흐르는 하천을 의미한다. ㉠에서는 상류에서 더 많은 하천의 물을 확보하기 위해서 댐을 건설하고 있다. 이에 따라 수자원 분쟁이 발생한다.

- ① 건천                      ② 건조 하천              ③ 내륙 하천
- ④ 국내 하천              ⑤ 국제 하천

[07~08] 지도는 A와 B의 식량 자원의 이동을 나타낸 것이다. 물음에 답하시오.



## 07

지도의 A와 B 자원을 바르게 연결한 것은?

- |   |          |          |   |          |          |
|---|----------|----------|---|----------|----------|
|   | <u>A</u> | <u>B</u> |   | <u>A</u> | <u>B</u> |
| ① | 콩        | 귀리       | ② | 쌀        | 밀        |
| ③ | 밀        | 쌀        | ④ | 귀리       | 콩        |
| ⑤ | 옥수수      | 귀리       |   |          |          |

## 08

A와 B 자원에 대한 설명으로 옳은 것은?

- ① A는 기온이 낮고 건조한 기후에서 잘 자란다.
- ② A는 최근 바이오 에너지의 원료로 수요량이 증가하고 있다.
- ③ B는 고온 다습한 아시아 계절풍의 평야 지대에서 집중적으로 재배한다.
- ④ B는 아프리카에서 주로 생산하나 수출량이 많아 식량 부족 문제가 발생한다.
- ⑤ A는 생산지와 소비지가 비교적 일치하여 B보다 국제적 이동량이 적다.



09

(가), (나)의 밑줄 친 현상이 발생하는 공통적인 이유로 옳은 것은?

(가) 사우디아라비아는 국토 대부분이 건조하여서 농작물 생산에 적합하지 않으며, 식량의 대부분을 수입하고 있다. 그래서 에티오피아의 농장을 임대하여 이곳에서 생산된 농작물을 자국 내로 들여오는 '해외 농장 사업'을 시행하고 있다.

(나) 우리나라에서는 석유와 천연가스가 거의 매장되어 있지 않아 대부분 수입에 의존하고 있다. 따라서 페루나 베트남 등 해외에서 석유 광구를 직접 개발하고 있다.

- ① 자원 개발을 통한 경제적 이득을 보기 위해서이다.
- ② 자원의 희소성으로 자원이 고갈되고 있기 때문이다.
- ③ 자금을 투자, 국제적 영향력을 향상시키기 위해서이다.
- ④ 해외의 자원을 직접 개발하여 자원을 안정적으로 확보하기 위해서이다.
- ⑤ 자국에 많은 자본이 축적되어 새로운 자본의 투자처를 확보하기 위해서이다.

10

자원이 풍부한 지역에 대한 설명으로 옳지 않은 것은?

- ① 자원이 풍부하면 1인당 국민 총생산(GDP)이 매우 높다
- ② 자원 개발 과정에서 일자리가 생겨 지역 경제가 활성화된다.
- ③ 자원을 판매하여 얻은 수익으로 대규모 산업 단지를 조성하는 등 기반 시설을 늘릴 수 있다.
- ④ 미국과 캐나다 등은 풍부한 자원과 높은 기술력을 바탕으로 세계적인 선진국으로 성장할 수 있다.
- ⑤ 서남아시아 국가들은 자원을 개발하여 수출한 돈으로 불리한 자연환경을 극복하고 빠른 경제 성장을 이루었다.

11

A 국가가 다음과 같이 성장할 수 있었던 이유로 옳지 않은 것은 ?



A 국가는 풍부한 자원을 바탕으로 세계 13위 (2016년 기준)의 국내 총생산 규모를 갖게 되었다.

- ① 세계에서 3번째로 인구 수가 많아 인적 자원을 기반으로 산업을 성장시켰다.
- ② 서부 지역에 철광석이 풍부하게 매장되어 있어 산업 발전의 기반을 마련할 수 있었다.
- ③ 동부 지역에 풍부한 석탄이 매장되어 있어 2013년 기준 전세계의 30%를 생산하고 있다.
- ④ 열대 기후 지역에 속한 북부 지역에 보크사이트가 풍부하게 매장되어 있어 알루미늄 산업이 발달하였다.
- ⑤ 중부의 찬정 분지를 개발하여 소와 양 등 가축을 대규모로 기르면서 세계적인 목축업 국가로 성장하였다.

12

자원 개발로 인한 문제점으로 옳지 않은 것은?

- ① 자원 개발과 소유권을 둘러싸고 갈등이나 전쟁이 발생하기도 한다.
- ② 자원 개발과 관련된 산업이 발전하여 지역이 균형적으로 발전하게 된다.
- ③ 무리한 자원 개발로 인하여 대기 오염, 물 오염 등 환경 문제가 발생한다.
- ④ 자원의 수출 의존도가 높은 국가는 국제 환경의 변화에 지역 경제가 큰 영향을 받는다.
- ⑤ 자원 수출을 통해 얻은 이익을 특정 계층이 독점하면서 계층 간 빈부 격차가 발생할 수 있다.

### 13

밑줄 친 내용과 관련 있는 소비 방식은?

스마트폰을 만드는 데 필요한 탄탈륨은 콜탄이라는 광물에서 얻는다. 아프리카의 콩고 민주 공화국에는 콜탄이 많이 매장되어 있다. 그러나 이를 둘러싸고 주변 국가까지 개입하여 전쟁이 발생하고 있으며, 주민들은 열악한 환경에서 낮은 임금을 받으며 일하고 있다. 우리가 사용하는 스마트폰에도 콩고 민주 공화국의 콜탄이 사용되었을 가능성이 높다. 스마트폰으로 인해 누군가는 어려움을 겪을 수 있음을 알고, 우리의 소비 행위에 대해 반성해 볼 필요가 있다.

- ① 윤리적 소비
- ② 민주적 소비
- ③ 세계화된 소비
- ④ 지속가능한 소비
- ⑤ 다국적 기업과 소비

### 14

지속 가능한 자원에 대한 설명으로 옳지 않은 것은?

- ① 화석 에너지는 재생할 수 없어 고갈된다.
- ② 화석 에너지는 환경 오염과 지구 온난화를 일으킨다.
- ③ 지속 가능한 자원으로는 수력, 풍력, 태양광 발전 등이 있다.
- ④ 지속 가능한 자원은 환경 문제를 전혀 일으키지 않는 청정 에너지다.
- ⑤ 많은 국가가 화석 연료를 대체할 수 있는 지속 가능한 자원 개발을 위해 노력하고 있다.

### 15

지도를 보고 풍력 발전소가 발달할 수 있는 지역을 <보기>에서 있는 대로 고른 것은?



보기

ㄱ. 밀물과 썰물의 차이가 큰 지역  
 ㄴ. 장애물이 없어 바람이 일정하게 부는 해안가  
 ㄷ. 건조한 모래바람이 부는 사막  
 ㄹ. 높은 산지로 강한 바람이 부는 지역  
 ㅁ. 강수량이 적어 일조량이 많은 지역

- ① ㄱ, ㄴ                      ② ㄴ, ㄹ                      ③ ㄴ, ㄷ, ㄹ
- ④ ㄷ, ㄹ, ㅁ                  ⑤ ㄴ, ㄷ, ㄹ, ㅁ

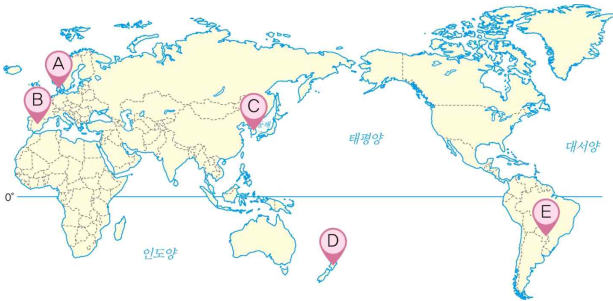
### 16

지속 가능한 자원의 문제점으로 옳지 않은 것은?

- ① 개발 비용이 높아 에너지 효율성이 낮다.
- ② 고갈의 위험이 적고 환경에 미치는 영향력이 적다.
- ③ 자연 조건의 영향을 많이 받아 개발 장소의 제한이 크다.
- ④ 대규모 발전 시설을 건설하는 과정에서 주변 생태계가 파괴된다.
- ⑤ 개발 과정에서 소음이나 수질 오염 등으로 주민과의 갈등이 발생한다.

17

A~E에서 발달한 지속 가능한 자원에 대한 설명으로 옳은 것은?



- ① A에서는 거대한 폭포를 이용한 수력 발전이 나타난다.
- ② B에는 조석 간만의 차가 커 세계에서 가장 큰 규모의 조력 발전이 나타난다.
- ③ C에서는 세계 최초로 바이오 에너지를 개발하였다.
- ④ D는 조산대에 위치하고 있어 지열 발전이 나타난다.
- ⑤ E는 맑은 날씨를 이용하여 세계 최대의 태양광 발전소가 나타난다.

18

글의 A 자원에 대한 옳은 설명만을 <보기>에서 있는 대로 고른 것은?

A는 옥수수, 사탕수수와 같은 곡물을 재료로 하여 만든다. A는 화석 연료와는 달리 고갈의 위험이 낮고 연소 시 이산화 탄소를 거의 배출하지 않는 장점이 있어 최근 세계적으로 생산량이 증가하고 있다.

보기

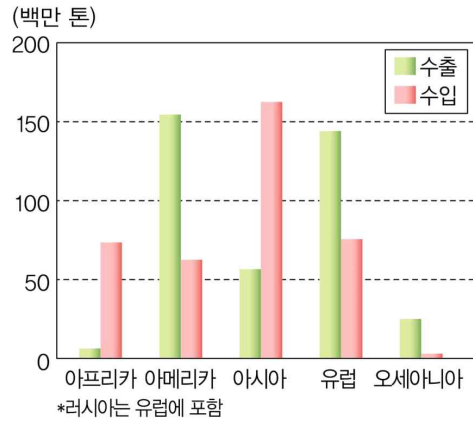
- ㄱ. A 자원은 바이오 에탄올이다.
- ㄴ. A 자원을 생산하는 과정에서 초원을 파괴한다는 문제점이 있다.
- ㄷ. A 자원은 날씨의 영향을 크게 받아 에너지의 안정적 공급이 어렵다.
- ㄹ. A 자원을 생산하는 과정에서 물의 순환을 막아 물 오염을 유발한다.
- ㅁ. A 자원 생산량이 증가하면서 국제 곡물 가격이 상승하여 식량 문제가 발생하였다.

- ① ㄱ, ㄴ, ㄷ                      ② ㄱ, ㄴ, ㅁ
- ③ ㄴ, ㄷ, ㄹ                      ④ ㄴ, ㄹ, ㅁ
- ⑤ ㄷ, ㄹ, ㅁ

서술형 문제

19

그래프를 보고 식량 부족 문제가 발생할 것으로 예상되는 지역과 그 이유를 서술하시오.



20

다음 글을 읽고 물음에 답하시오.

㉠은/는 1960년 석유 자원의 수출을 통제하여 경제적 안정 및 국제적인 영향력을 향상하기 위한 목적으로 만든 기구이다. 2016년을 기준으로 이란, 이라크, 쿠웨이트, 사우디아라비아, 베네수엘라 볼리바르, 나이지리아 등 10여 개의 국가가 가입되어 있으며 이들이 전세계 석유 시장의 40% 이상을 담당하고 있다.

(1) 밑줄 친 ㉠에 들어갈 국제기구?

(2) ㉠이 결성된 이유와 이로 인해 나타난 문제점을 서술하시오.





## 09

밑줄 친 ㉠~㉤에 대한 설명으로 옳은 것은?

중학생 A는 ㉠ 영화배우가 되고 싶어 ㉡ 학교의 ㉢ 연극 동아리에서 활동하고 있다. 지난번 축제에서는 잘 알려진 ㉣ 영화를 연극으로 만든 작품에서 주인공인 ㉤ 여왕 역할을 맡아 ㉥ 열심히 연기했고, ㉦ 관객들에게 큰 박수를 받았다.

- ① ㉠과 ㉤은 모두 A의 성취 지위이다.
- ② ㉡은 ㉢과 달리 공식적 사회화 기관이다.
- ③ ㉣은 A의 사회화에 영향을 미치지 않았다.
- ④ ㉥은 ㉠의 역할 행동이다.
- ⑤ ㉦은 ㉤의 역할 행동에 대한 보상이다.

## 10

역할 갈등에 대한 설명으로 옳지 않은 것은?

- ① 서로 다른 지위에 따른 역할이 충돌할 경우에 발생한다.
- ② 개인의 지위와 역할이 다양해지면서 더욱 증가하고 있다.
- ③ 하나의 지위에 대해 상반된 역할이 요구될 경우에 발생한다.
- ④ 개인적 측면에서는 우선순위에 따라 역할을 수행함으로써 해결할 수 있다.
- ⑤ 대부분 시간이 지나면 저절로 해결되기 때문에 그 대로 두는 것이 바람직하다.

## 11

다음 사례에 나타난 것과 같은 유형의 역할 갈등을 겪고 있는 사람만을 <보기>에서 고른 것은?



천주교 신부인 A는 며칠 전 고해 성사를 통해 중대한 범죄 사실을 알게 되었다. A는 지금 신부로서 고해 성사의 비밀을 지켜야 할지, 시민으로서 범죄자를 경찰에 신고해야 할지 고민하고 있다.

보기

- ㄱ. 인문계 고등학교에 진학해야 할지, 특성화 고등학교에 진학해야 할지 고민하는 중학생
- ㄴ. 범인을 잡으러 가야 할지, 친구가 출연하는 연극 공연을 보러 가야 할지 고민하는 경찰관
- ㄷ. 회사의 중요한 회의에 참석해야 할지, 아픈 딸을 데리고 병원에 가야 할지 고민하는 회사원
- ㄹ. 자녀를 친구처럼 친근하게 대해야 할지, 권위있고 엄격하게 훈육해야 할지 고민하는 어머니

- ① ㄱ, ㄴ                      ② ㄱ, ㄷ                      ③ ㄴ, ㄷ
- ④ ㄴ, ㄹ                      ⑤ ㄷ, ㄹ

## 12

(가), (나)는 일정한 기준으로 사회 집단을 분류한 것이다. 이에 대한 설명으로 옳지 않은 것은?

(가)



▲ 또래 집단

(나)



▲ 회사

- ① (가)에서는 전인격적인 인간관계가 형성된다.
- ② (나)에서는 형식적인 인간관계가 형성된다.
- ③ (가)는 내집단이고, (나)는 외집단이다.
- ④ (가)의 사례로는 가족, (나)의 사례로는 정당이 있다.
- ⑤ (가), (나)는 접촉 방식을 기준으로 분류할 수 있다.



13

다음 설명을 바탕으로 할 때 사회 집단의 사례로 적절한 것만을 <보기>에서 고른 것은?

사회 집단이란 비슷한 관심과 목적을 가진 둘 이상의 사람들이 소속감을 가지고 지속적인 상호 작용을 하는 집단을 말한다.

보기

ㄱ. ○○ 축구팀의 경기를 관람하는 관중  
 ㄴ. △△ 버스 회사에서 함께 일하는 기사들  
 ㄷ. □□ 야구팀에서 선수들을 관리하는 직원들  
 ㄹ. 매일 같은 시간에 같은 위치에서 지하철을 타는 승객들

- ① ㄱ, ㄴ      ② ㄱ, ㄷ      ③ ㄴ, ㄷ  
 ④ ㄴ, ㄹ      ⑤ ㄷ, ㄹ

14

표에 대한 옳은 설명을 <보기>에서 고른 것은? (단, A, B는 가족과 학교 중 하나이다.)

질문	사회 집단	
	A	B
수단적 만남과 형식적 인간관계가 주로 이루어지는가?	예	아니요
(가)	예	아니요
(나)	아니요	예

보기

ㄱ. A는 가족, B는 학교이다.  
 ㄴ. (가)에는 ‘자연 발생적으로 형성된 집단인가?’가 들어갈 수 있다.  
 ㄷ. (가)에는 ‘이해관계에 따른 결합 의지에 의해 형성된 집단인가?’가 들어갈 수 있다.  
 ㄹ. (나)에는 ‘기초적인 사회화를 담당하는 기관인가?’가 들어갈 수 있다.

- ① ㄱ, ㄴ      ② ㄱ, ㄷ      ③ ㄴ, ㄷ  
 ④ ㄴ, ㄹ      ⑤ ㄷ, ㄹ

15

자료는 중학교 교사인 A의 주간 계획표이다. 밑줄 친 ㉠~㉣과 관련된 내용을 옳게 연결한 것은?

월	수업
화	㉠ 교육청 출장
수	㉡ 학교 체육대회 학급 경기 응원
목	㉢ 우체국 택배 발송
금	㉣ 가족 저녁식사
토	휴식
일	㉤ 유기견 보호소 봉사 활동

- ① ㉠ - 1차 집단  
 ② ㉡ - 2차 집단  
 ③ ㉢ - A의 내집단  
 ④ ㉣ - 이익 사회  
 ⑤ ㉤ - 공동 사회

16

부당한 차별의 사례에 해당하지 않는 것은?

- ① 피부색 때문에 외국인 강사 채용에서 거부당한 외국인  
 ② 승차 시설이 없어 버스를 이용하지 못하는 발달 장애인  
 ③ 동일한 업무를 하지만 월급은 더 적게 받는 비정규직 직원  
 ④ 맞벌이 부부지만 육아와 가사 노동을 혼자서 책임지는 아내  
 ⑤ 대학 수학 능력 시험에서 비장애인보다 시간을 1.5배 더 부여받은 시각 장애인

17

다음 신문 기사를 읽고 A와 C에게 공통으로 할 수 있는 조언으로 적절하지 않은 것은?

○○신문 20○○년 ○○월 ○○일

**욕설 봉변당한 인도인, 불법 체류자 취급한 경찰**

한국인 A는 같은 버스를 탄 인도인 B에게 이유 없이 반말로 욕설을 하였다. A의 한국인 친구가 만류했는데도 A는 욕설을 그치지 않았고, 결국 B는 A를 경찰에 신고하였다.

문제는 여기서 그치지 않았다. 신고를 받고 현장에 도착한 경찰관 C는 우리나라 ○○ 대학교의 교수 신분증을 제시한 B에게 어떻게 외국인이 우리나라에서 교수가 되었느냐면서 B의 외국인 등록증을 빼앗고 B에 대한 신분 조사를 진행하였다.

- ① ‘다르다’를 ‘틀리다’로 이해해서는 안 됩니다.
- ② 차이를 인정하고 차별을 하지 말아야 합니다.
- ③ 인간이라면 누구나 존중받을 권리가 있습니다.
- ④ 피부색에 대한 편견을 버리기 위해서 노력해야 합니다.
- ⑤ 외국인이라고 함부로 무시한 것은 역차별에 해당합니다.

18

(가), (나)에 대한 옳은 설명만을 <보기>에서 고른 것은?

- (가) 국군 간호 장교를 양성하는 간호 사관학교는 남자가 지원하지 못하도록 하는 입학 자격 제한을 철폐하였다.
- (나) ○○ 중학교에서는 여학생에게 치마 교복만 입도록 한 교칙을 폐지하고 바지 교복을 선택할 수 있도록 하였다.

보기

- ㄱ. (가)는 사회 제도를 통해 기회의 평등을 보장한다.
- ㄴ. (나)는 성차별을 바로잡은 사례이다.
- ㄷ. (가), (나)는 모두 차이를 고려하지 않은 사례이다.
- ㄹ. (가), (나)는 모두 개인적 차원에서 차별을 없애려는 노력이다.

- ① ㄱ, ㄴ                      ② ㄱ, ㄷ                      ③ ㄴ, ㄷ
- ④ ㄴ, ㄹ                      ⑤ ㄷ, ㄹ

서술형 문제

19

다음 글을 읽고 물음에 답하시오.

학급 회장이라는 사회적 지위에는 학급을 잘 이끌어가는 역할이 기대된다. 하지만 역할이 같더라도 구체적인 행동인 (㉠)은/는 개인의 특성에 따라 다르게 나타난다. 학급 친구들의 의견을 수용하여 민주적으로 학급을 이끌어가는 학급 회장은 칭찬과 인정을 받지만, 학급 친구들의 의견을 무시하고 제멋대로 학급을 이끌어가는 학급 회장은 \_\_\_\_\_

(가)

(1) ㉠에 들어갈 용어를 쓰시오.

.....

(2) (가)에 들어갈 내용을 서술하시오.

.....

.....

20

다음 사례를 읽고 물음에 답하시오.

우즈베키스탄 출신의 A는 4년 전 한국인과 결혼한 후 귀화하였다. 그런데 며칠 전 A는 동네에 있는 대중목욕탕을 찾았다가 피부색이 다르다는 이유로 출입을 거부당하였다. A는 목욕탕 주인에게 주민 등록증을 보여 주면서 자신이 한국인임을 알렸지만 끝내 목욕탕에 들어가지 못하였다.

(1) 위 사례에 나타난 사회 문제는 무엇인지 쓰시오.

.....

(2) 위 사례에 나타난 사회 문제를 해결하기 위한 방안을 의식적 측면과 제도적 측면에서 각각 한 가지씩 서술하시오.

.....

.....

[01~02] 다음 글을 읽고 물음에 답하시오.

동아프리카에 사는 키크유족은 상대방의 손바닥에 침을 뱉어 반가움을 표현하는 ㉠ 인사 문화가 있다.

01

밑줄 친 ㉠과 ‘문화’가 다른 의미로 사용된 것은?

- ① 주말마다 문화생활을 하려고 노력한다.
- ② 줄임말을 사용하는 것은 청소년 문화의 특징이다.
- ③ 한국 문화에는 우리 민족만의 고유한 특징이 있다.
- ④ 기온이 높은 지역에서는 짜고 향신료가 많이 들어간 음식 문화가 발달한다.
- ⑤ 유목생활을 하는 민족은 주거 지역의 이동이 많기 때문에 화장을 하는 장례 문화가 발달한다.

02

키크유족의 인사 문화에 대한 태도가 가장 바람직한 사람은?

- ① 갑: 침을 뱉으며 인사를 한다니 너무 더러워.
- ② 을: 키크유족의 인사 방법이 독특하네. 무조건 따라해 보자.
- ③ 병: 타인의 손에 침을 뱉는 것은 인권을 침해하는 인사 방법이야.
- ④ 정: 우리나라처럼 목과 허리를 숙이고 인사하는 방법으로 바꾸라고 해야겠어.
- ⑤ 무: 키크유족이 사는 곳은 사막이기 때문에 수분을 나눈다는 의미가 있어서 존중해 줘야 해.

03

밑줄 친 부분을 통해 직접 알 수 있는 문화의 특성으로 가장 적절한 것은?

날씨가 추울 때 난방을 하는 것은 모든 지역에서 나타나는 현상이다. 하지만 지역마다 자연환경이나 사회적 상황 등에 따라 난방의 방식은 다양하게 나타난다. 예를 들어 우리나라는 아궁이에 불을 지피고, 그 열기로 바닥을 따뜻하게 하는 온돌 방식을 사용해 왔다. 이에 비해 서유럽에서는 전통적으로 벽난로에 나무를 넣고 태울 때 나오는 열이 방출되면서 실내의 공기를 데우는 방식으로 난방을 한다.

- ① 보편성                      ② 특수성                      ③ 학습성
- ④ 전체성                      ⑤ 변동성

04

다음 사례들을 통해 직접 파악할 수 있는 문화의 속성에 대한 설명으로 가장 적절한 것은?

- 김치를 먹어 보지 못했던 외국인이 우리나라에 살게 되면서 김치를 즐겨 먹게 되었다.
- 쌍둥이가 서로 다른 나라로 입양된 후 얼굴 생김새는 같지만 언어, 행동 등이 서로 달라졌다.

- ① 시간이 흐르면서 형태나 내용이 변화한다.
- ② 세대 간 전승을 통해 더 풍부하고 다양해진다.
- ③ 후천적 학습 과정을 통해 형성되는 생활 양식이다.
- ④ 사회 구성원 간 원활한 상호 작용의 토대가 된다.
- ⑤ 한 부분이 변화하면 다른 부분에 연쇄적인 변화를 초래한다.

[05~06] 다음 글을 읽고 물음에 답하시오.

우리나라에서는 사람이 죽으면 장례를 치루기 위해 가족들이 흰거나 검은 상복을 입는다. 그리고 이 모습을 본 사람들은 무슨 일인지 물어보지 않아도 상을 치루고 있다는 것을 이해한다.

05

윗글을 통해 직접 알 수 있는 문화의 속성에 대한 옳은 설명만을 <보기>에서 고른 것은?

보기  
ㄱ. 여러 구성 요소들이 밀접하게 영향을 미친다.  
ㄴ. 구성원의 공통적인 행동 방식과 사고를 형성한다.  
ㄷ. 특정 상황에서 상대방의 행동을 예측 가능하게 한다.  
ㄹ. 세대 간에 전승되면서 새로운 요소가 추가되어 더 풍부해진다.

- ① ㄱ, ㄴ      ② ㄱ, ㄷ      ③ ㄴ, ㄷ  
④ ㄴ, ㄹ      ⑤ ㄷ, ㄹ

06

윗글을 통해 직접 알 수 있는 문화의 속성을 보여 주는 사례로 가장 적절한 것은?

- ① 시험을 앞둔 사람에게 찹쌀떡이나 엿을 선물한다.  
② 외국인이 우리나라에서 젓가락으로 음식을 먹는다.  
③ 사람들이 명절 기간에 성묘 대신 가족여행을 떠난다.  
④ 벌레를 먹는 음식 문화는 단백질 보충이 어려운 자연환경과 관련되어 나타났다.  
⑤ 목축업이 도입되면서 유제품과 육류의 소비가 늘어나고 양모를 활용한 의복이 발달하였다.

07

다음 사례에 나타난 문화 이해 태도에 대한 설명으로 옳지 않은 것은?

팔미라 유적지는 시리아에 위치한 고대 유적으로, 유네스코 세계 문화유산으로 지정되었다. 그런데 이슬람 극단주의 무장 세력인 이슬람 국가(IS)가 우상 숭배라는 이유로 이 유적지에서 2,000년 된 고대 신전을 폭파하였다.

- ① 문화 제국주의로 흐를 가능성이 있다.  
② 세계화 시대에 국제 교류를 어렵게 할 수 있다.  
③ 사회 구성원들의 결속을 다지는 데 도움이 된다.  
④ 다른 문화와 갈등을 일으키는 원인이 될 수 있다.  
⑤ 자기 문화를 낮게 평가하여 문화적 정체성을 잃을 수 있다.

08

문화를 이해하는 자세로 바람직하지 않은 것은?

- ① 다른 문화의 고유한 가치를 인정한다.  
② 다양한 문화 속에서 보편성과 특수성을 파악한다.  
③ 각 문화를 비교하여 문화의 우수성과 열등성을 평가한다.  
④ 다른 문화에서 나에게 도움이 되는 점을 배우고 자신의 문화도 돌아본다.  
⑤ 다른 사회의 문화를 그 사회 구성원의 입장에서 바라보는 자세를 갖기 위해 노력한다.

09

밑줄 친 ㉠~㉣에 대한 옳은 설명만을 <보기>에서 고른 것은?

‘핼러윈 축제’는 유명이나 괴물 분장을 하고 돌아다니며 캔디를 주고받는 ㉠ 서양 명절이다. 하지만 언제부터인지 ㉡ 우리나라의 젊은 세대는 물론 아이들에게까지 핼러윈 문화가 침투하여 새로운 ㉢ 놀이 문화로 자리 잡았다. 이에 최근 유치원에서는 핼러윈 축제가 ㉣ 의상과 소품까지 준비해서 꼭 챙겨야 하는 기념일로 떠올랐다. 하지만 ㉤ 외국 문화를 ㉥ 내용이나 의미, 유래 등도 제대로 모른 채 무조건 받아들이는 데 대한 비판의 목소리도 있다.

보기

㉠. ㉠은 비물질 문화, ㉡은 물질문화이다.  
 ㉢. ㉢은 전승된 문화를 바탕으로 새로운 문화가 창출된다는 것을 보여 준다.  
 ㉣. ㉢과 ㉣에서 ‘문화’는 모두 넓은 의미로 사용되었다.  
 ㉤. ㉤은 문화 사대주의를 심화시킬 것이다.

- ① ㉠, ㉢                      ② ㉠, ㉣                      ③ ㉢, ㉣
- ④ ㉢, ㉣                      ⑤ ㉣, ㉣

10

다음 글을 통해 직접 알 수 있는 문화의 속성에 대한 설명으로 옳은 것은?

인도에서 소고기를 먹지 않는 이유를 이해하려면 인도의 종교와 농경생활을 함께 살펴보아야 한다. 암소는 농사에 매우 유용하고, 풍부한 유제품의 원료를 제공한다. 따라서 소를 잡아먹는 것보다는 보호하는 것이 더 이득이기 때문에 종교를 통해 소를 신성시하게 되었을 것이다.

- ① 선천적이기보다는 후천적으로 학습된다.
- ② 세대 간에 전승되면서 점점 더 풍부해진다.
- ③ 구성원의 사고와 행동의 동질성을 형성한다.
- ④ 하나의 문화 요소는 다른 문화 요소와 관련을 맺으며 존재한다.
- ⑤ 새로운 특성이 추가되거나 소멸하는 등 시간의 흐름에 따라 변화를 겪는다.

11

자문화 중심주의에 대한 설명으로 옳은 것은?

- ① 다른 문화를 거울삼아 자기 문화를 파악한다.
- ② 다른 문화를 적극적으로 수용하려는 태도이다.
- ③ 모든 문화의 고유한 가치를 존중하려는 태도이다.
- ④ 자문화의 결속력과 정체성의 보존에 유리하다.
- ⑤ 문화를 그 사회의 사회적 상황과 연결시켜 이해한다.

12

다음 대화에서 갑, 을의 문화 이해 태도에 대한 설명으로 옳은 것은?

갑: 어제 이슬람교를 믿는 외국인을 만났는데 돼지고기를 안 먹는데. 다음에는 삼겹살을 같이 먹으면서 꼭 생각을 바꿔 줘야겠어.  
 을: 상대방의 종교적 차이와 가치관은 인정해 줘야지. 삼겹살 대신 다른 음식을 함께 먹는 게 어때?

- ① 갑: 문화를 이해의 대상으로 본다.
- ② 을: 다른 문화와 갈등을 겪을 가능성이 높다.
- ③ 을: 사회적 상황과 문화를 연결시켜 파악한다.
- ④ 을: 특정 기준으로 다른 문화를 평가할 수 있다고 본다.
- ⑤ 갑, 을: 국수주의로 이어질 수 있다.





17

대중 매체의 특징에 대한 옳은 설명만을 <보기>에서 고른 것은?

보기

ㄱ. TV는 소비자가 직접 제작한 콘텐츠를 전달하기 위한 매체이다.

ㄴ. 인터넷은 정보 생산자와 소비자 간의 쌍방향 의사소통이 가능하다.

ㄷ. 라디오는 소리, 음악을 전달하고, 인쇄 매체보다 정보 전달 속도가 빠르다.

ㄹ. 신문은 문자와 사진 등 시각 자료를 이용해 정보를 전달하고, 정보 전달 속도는 가장 빠르다.

- ① ㄱ, ㄴ      ② ㄱ, ㄷ      ③ ㄴ, ㄷ  
 ④ ㄴ, ㄹ      ⑤ ㄷ, ㄹ

18

다음은 동일한 사건에 대한 서로 다른 신문 기사의 제목이다. 이를 바탕으로 알 수 있는 대중 매체에 대한 바람직한 수용 태도로 적절하지 않은 것은?

○○신문      2019년 8월 2일

올림픽 경기장 건설, 지역 경제 활성화 기대

○○신문      2019년 8월 2일

올림픽 경기장 건설, 환경 파괴 우려

- ① 대중 매체가 제공하는 정보는 무조건 수용해야 한다.  
 ② 대중 매체를 주체적으로 향유하려는 태도를 가져야 한다.  
 ③ 대중 매체가 제공하는 정보가 정확한지 비교하여 검토해야 한다.  
 ④ 대중 매체가 제공하는 잘못된 정보에 대해서는 적극적으로 문제를 제기해야 한다.  
 ⑤ 대중 매체가 제공하는 정보에 대해 객관적으로 해석하고 검토하려는 태도를 가져야 한다.

서술형 문제

19

다음 글을 읽고 물음에 답하시오.

오늘날 많은 사람들이 자신이 직접 주제를 정하고 방송하는 1인 미디어를 통해 유행을 만들고 수익까지 창출하고 있다. 하지만 광고비를 받고 광고가 아닌 것처럼 홍보하거나 거짓 정보를 유포하는 등의 문제점도 제기되고 있다.

- (1) 윗글에 나타난 대중 매체의 종류는 무엇인지 쓰시오.
- 
- (2) 윗글을 바탕으로 할 때 정보 수용자에게 요구되는 바람직한 태도를 서술하시오.
- 
- 

20

다음 글을 읽고 물음에 답하시오.

( ㉠ ) (이)란 대중이 즐기고 누리는 문화를 말한다. 대중 매체의 발달로 과거에는 소수의 특권층만 누릴 수 있던 오페라나 미술 작품 등을 누구나 즐길 수 있게 되면서 ( ㉠ )이(가) 형성되었다.

- (1) ㉠에 들어갈 용어를 쓰시오.
- 
- (2) ㉠의 문제점을 두 가지 서술하시오.
- 
-

01

㉠에 들어갈 사례로 가장 적절한 것은?

갑: '정치의 사례 찾기' 탐구 활동 다 했니?  
 을: 넓은 의미에 해당하는 사례는 찾았는데, 좁은 의미에 해당하는 사례를 못 찾겠어.  
 갑: 그랬구나. 좁은 의미의 정치에 해당하는 사례로는 ( ㉠ )이 있어.

- ① 학급회장을 선출하는 학급 회의
- ② 아파트 관리비를 결정하는 주민 회의
- ③ 외국과 조약을 체결하는 대통령의 활동
- ④ 시민 단체가 정부 정책을 감시하고 비판하는 활동
- ⑤ 바자회 수익금의 사용처를 결정하는 학생회 활동

02

㉡, ㉢에 대한 옳은 설명만을 <보기>에서 있는 대로 고른 것은?

( ㉡ )은/는 정치 현상을 정치권력을 획득하고 유지하기 위한 활동으로 본다. 반면에 ( ㉢ )은/는 일상생활에서 발생하는 구성원 간의 대립과 갈등을 조정하는 것도 정치 현상으로 본다.

보기

- ㉡. ㉡은 좁은 의미의 정치, ㉢은 넓은 의미의 정치에 해당한다.
- ㉢. ㉡은 ㉢보다 현대 사회의 다원화된 정치 현상을 설명하기에 적합하다.
- ㉣. ㉡과 ㉢ 모두 국회 의원의 입법 활동을 정치로 본다.
- ㉤. ㉢은 ㉡과 달리 학급에서 교칙을 개정하는 과정도 정치 현상으로 본다.

- ① ㉡, ㉢                      ② ㉡, ㉣                      ③ ㉢, ㉣
- ④ ㉡, ㉣, ㉤                ⑤ ㉢, ㉣, ㉤

03

다음 사례에 나타난 정치의 기능과 거리가 먼 것은?

신종 감염병의 유행으로 전염병 예방을 위한 사회적 거리 두기가 시행되고 있다. 이에 매출 감소 등 어려움을 호소하는 소상공인을 위해 정부는 경기 부양을 위한 특별 지원금을 지급하기로 하였다.

- ① 집단 간 대립과 갈등을 강제로 조정한다.
- ② 경제를 활성화하고 경제 발전을 도모한다.
- ③ 시민을 위한 여러 가지 법률과 정책을 만들고 집행한다.
- ④ 사회적 희소가치를 재배분하여 국민의 복지를 증진한다.
- ⑤ 공동체가 직면한 문제를 인식하고 해결책을 제시하여 사회가 나아갈 방향을 모색한다.

04

다음 사례들에 나타난 국가 기관의 노력이 공통으로 추구하는 목적으로 적절하지 않은 것은?

- ○○시는 시민이 제안한 아이디어를 정책으로 시행하는 제도를 운영하고 있다. 시민이 제안한 정책의 실현 가능성을 충분히 검토한 후에, 휴대 전화를 충전할 수 있는 '태양광 버스 정류장'과 같은 정책을 시행하고 있다.
- △△시는 노점상 연합 단체와 4년 동안 200회가 넘는 회의를 통해 의견을 조정한 결과, 노점상의 크기와 점포를 줄이는 데 합의하였다. 이를 통해 사업 시행 전보다 노점상 수를 40% 줄이는 데 성공하였고, 거리가 쾌적해졌다.

- ① 정책의 신속성과 효율성을 우선적으로 실현한다.
- ② 정책 결정 과정에서 시민의 의견을 충분히 반영한다.
- ③ 시민의 자발적인 참여를 통해 공공의 이익을 추구한다.
- ④ 국민의 동의와 지지를 바탕으로 정치권력을 행사한다.
- ⑤ 정당성을 갖춘 정치권력의 행사를 통해 사회 질서를 확립한다.

05

민주 정치의 발전 과정에 대한 설명으로 옳은 것은?

- ① 고대 아테네에서는 성인이면 누구나 정치에 참여할 수 있었다.
- ② 근대 시민 혁명으로 모든 사회 구성원들이 참정권을 갖게 되었다.
- ③ 근대 민주 정치에서는 의회를 중심으로 하는 대의 민주 정치가 확립되었다.
- ④ 현대 민주 정치에서는 국민 투표, 국민 소환 등 간접 민주 정치 요소를 시행하고 있다.
- ⑤ 오늘날 대부분의 민주 국가에서는 모든 시민이 직접 참여하여 국가의 중요한 일을 토론을 통해 결정한다.

06

(나) 시기에 비해 (가) 시기 민주 정치의 특징으로 가장 적절한 것은? (단, (가) 시기와 (나) 시기는 각각 고대와 근대 중 하나이다.)

(가) 시민이 직접 정책 결정에 참여했지만, 누구나 시민이 될 수 있었던 것은 아니다.  
 (나) 대표를 통해 정책 결정에 의사를 반영했지만, 일부 사람들에게는 대표를 뽑거나 대표가 될 권리를 주지 않았다.

- ① 입헌주의의 원리를 통해 민주주의를 실현하였다.
- ② 여성과 농민의 참정권 운동이 활발하게 이루어졌다.
- ③ 시민 혁명을 통해 시민의 자유와 권리가 신장되었다.
- ④ 시민의 대표로 구성된 의회가 중심이 되는 대의 민주 정치였다.
- ⑤ 공직 참여의 공정한 기회를 제공하기 위해 추천과 윤번제를 활용하였다.

07

(가), (나)는 민주 정치의 발전 과정에서 나타난 문서들이다. 각 문서와 관련된 사건에 대한 옳은 설명만을 <보기>에서 있는 대로 고른 것은?

(가) 제1조 의회의 동의 없이 인권에 의해 법률이나 법률 집행을 정지할 수 없다. - 「권리 장전」  
 (나) 제1조 인간은 자유롭고 평등한 권리를 지니고 태어난다. - 「프랑스 인권 선언」

보기

ㄱ. (가)를 통해 입헌주의에 입각한 정치 형태가 등장하였다.  
 ㄴ. (나)는 영국의 지나친 과세 때문에 발생하였다.  
 ㄷ. (가), (나)를 통해 보통 선거 제도가 확립되었다.  
 ㄹ. (가), (나) 모두 인간의 존엄성 등 민주주의의 이념을 실현하고자 하였다.

- ① ㄱ, ㄴ
- ② ㄱ, ㄹ
- ③ ㄴ, ㄷ
- ④ ㄱ, ㄷ, ㄹ
- ⑤ ㄴ, ㄷ, ㄹ

08

현대 민주 정치에 대한 설명으로 옳지 않은 것은?

- ① 모든 시민이 직접 정치에 참여하여 국가의 중요한 문제를 결정한다.
- ② 선거를 통해 정치를 시행하는 과정에서 시민의 의사가 왜곡될 수 있다.
- ③ 차티스트 운동, 여성 참정권 운동 등을 통해 보통 선거 제도가 확립되었다.
- ④ 일상생활에서 시민의 자발적인 정치 참여를 강조하는 참여 민주주의가 강조된다.
- ⑤ 전자 통신 기술의 발달로 인터넷, 스마트폰을 이용한 전자 민주주의가 발달하고 있다.



13

밑줄 친 ㉠을 행사할 때 기대할 수 있는 효과로 가장 적절한 것은?

의원 내각제 정부 형태를 채택하고 있는 A국에서 의회가 정치적 혼란의 책임을 물어 ㉠ 내각 불신임권을 행사하려고 한다.

- ① 다수당의 횡포를 방지할 수 있다.
- ② 행정부에 대하여 상호 견제와 균형을 유지할 수 있다.
- ③ 대통령이 임기 동안 안정적으로 정책을 수행할 수 있다.
- ④ 대통령에 권한이 집중되어 독재화하는 것을 막을 수 있다.
- ⑤ 의회와 행정부가 대립하여 조정이 어려워지는 것을 방지할 수 있다.

14

다음 내용이 공통으로 가리키는 정부 형태에 대한 옳은 설명만을 <보기>에서 고른 것은?

- 의회에서 다수당이 총리와 내각을 구성한다.
- 입법부와 행정부가 상호 긴밀하게 협력한다.

보기

ㄱ. 행정부는 법률안을 거부할 권리가 있다.  
 ㄴ. 국회와 행정부의 대립 시 조정이 곤란하다.  
 ㄷ. 국민의 요구에 민감하게 반응하는 장점이 있다.  
 ㄹ. 다수당에 의해서 단독으로 내각이 구성될 경우 다수당의 횡포가 나타날 수 있다.

- ① ㄱ, ㄴ                      ② ㄱ, ㄷ                      ③ ㄴ, ㄷ
- ④ ㄴ, ㄹ                      ⑤ ㄷ, ㄹ

15

㉠에 들어갈 정부 형태의 일반적 특징으로 옳지 않은 것은?

( ㉠ )에서는 입법부와 행정부가 별도의 선거를 통해 구성되고, 서로 책임을 지지 않는다.

- ① 국민이 직접 선거를 통해 대통령을 선출한다.
- ② 대통령은 법률안을 제안할 수 있는 권한이 있다.
- ③ 대통령의 임기 동안 정책의 연속성이 보장된다.
- ④ 대통령은 행정부 수반의 지위와 국가 원수의 지위를 동시에 갖는다.
- ⑤ 입법부와 행정부가 엄격하게 분리되어 권력 분립의 원칙에 충실하다.

16

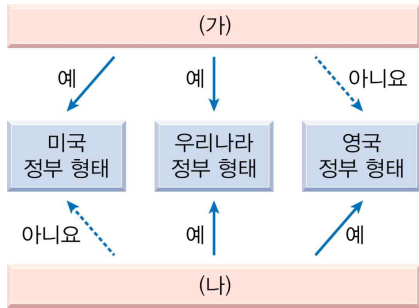
㉠에 들어갈 대통령의 권한으로 적절한 것은?

미국의 버락 오바마 대통령이 만든 건강보험 개혁법에 대해서, 미국 의회는 이 법안을 무력화시키는 새로운 법안을 통과시켰다. 그러자 오바마 대통령은 의회의 새로운 법안에 대해 ( ㉠ )을 행사하였다.

- ① 탄핵 소추권
- ② 의회 해산권
- ③ 법률안 거부권
- ④ 법률안 제출권
- ⑤ 내각 불신임권

17

그림은 여러 나라의 정부 형태를 나타낸 것이다. (가), (나)에 들어갈 질문을 옳게 연결한 것은?



- ① (가) - 국가 원수와 행정부 수반이 동일한가?
- ② (가) - 의회 의원은 각료를 겸직할 수 있는가?
- ③ (가) - 행정부는 의회에 법률안을 제출할 수 있는가?
- ④ (나) - 대통령의 법률안 거부권이 인정되는가?
- ⑤ (나) - 국민의 직접 선거로 행정부가 구성되는가?

18

우리나라의 정부 형태에 대한 설명으로 옳지 않은 것은?

- ① 국민의 직접 선거로 대통령을 선출한다.
- ② 국회 의원이 행정부 장관도 겸직할 수 있다.
- ③ 대통령은 국회를 해산할 수 있는 권리가 있다.
- ④ 대통령의 임기는 5년이며, 중임은 허용되지 않는다.
- ⑤ 국회는 대통령과 고위 공무원에 대한 탄핵 소추권을 갖는다.

서술형 문제

19

다음 시를 읽고, 정치적 무관심이 민주주의에 미치는 영향을 서술하십시오.

나치가 그들을 덮쳤을 때  
마틴 니뭘러

나치가 공산주의자들을 덮쳤을 때,  
나는 침묵했다.  
나는 공산주의자가 아니었으므로  
...(중략)...

그 다음에 그들이 유대인들에게 왔을 때,  
나는 아무 말도 하지 않았다.  
나는 유대인이 아니었으므로

그들이 나에게 닥쳤을 때는,  
나를 위해 말해 줄 이들이 아무도 남아 있지 않았다.

20

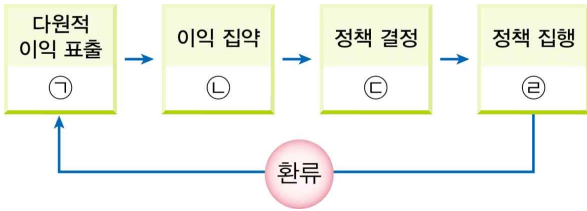
밑줄 친 부분을 옳게 고쳐 쓰시오.

A국에서는 국민이 대통령과 의회 의원을 별도의 선거를 통해 선출한다. 이 나라에서는 입법부와 행정부가 엄격히 분리되어 있어서 정부는 의회를 해산할 수 없고, 의회는 정부를 불신임할 수 없다. 한편, A국의 의회는 법률안 거부권을 통해, 행정부는 국정 감사권과 탄핵 소추권 등을 통해 상호 견제하며 균형을 추구한다.



01

그림은 정치 과정의 단계를 나타낸 것이다. ㉠~㉡에 들어갈 정치 주체를 옳게 연결한 것만을 <보기>에서 고른 것은?



보기

- 가. ㉠ - 개인, 집단      나. ㉡ - 언론, 정당
- 다. ㉢ - 시민 단체      라. ㉣ - 정당

- ① 가, 나                      ② 가, 다                      ③ 나, 다
- ④ 나, 라                      ⑤ 다, 르

02

다음 신문 기사 제목에 나타난 정치 과정의 단계로 가장 적절한 것은?

○○신문                      20○○년 ○○월 ○○일

어린이집 CCTV 설치 의무화 법안,  
국회 본회의 통과!

- ① 이익 표출                  ② 이익 집약                  ③ 정책 결정
- ④ 정책 집행                  ⑤ 정책 평가

03

밑줄 친 ㉠~㉣ 중 옳지 않은 것은?

정치 과정에서 ㉠ 국회는 국민의 다양한 의사를 반영하여 ㉡ 법률을 만들거나 고침으로써 정책을 결정한다. ㉢ 정부는 법률에 근거하여 구체적인 정책을 수립하고 이를 실행에 옮긴다. 법률이나 정책은 그 내용이 추상적이므로, ㉣ 국회는 다양한 방법과 대책을 찾아 정책을 집행한다. 법원은 정책과 관련한 분쟁이 발생하였을 때 ㉤ 재판을 통해 판결함으로써 정치 과정에 영향을 미친다.

- ① ㉠                              ② ㉡                              ③ ㉢
- ④ ㉣                              ⑤ ㉤

04

(가), (나)에 해당하는 정치 주체를 옳게 연결한 것은?

(가) 사실을 보도하고 논평하여 여론을 형성하는 데 주도적인 역할을 담당한다.

(나) 이해관계를 같이하는 사람들이 자신들의 특수한 이익을 실현하기 위해 만든 단체이다.

- |   |       |       |
|---|-------|-------|
|   | (가)   | (나)   |
| ① | 정당    | 언론    |
| ② | 정당    | 시민 단체 |
| ③ | 언론    | 시민 단체 |
| ④ | 언론    | 이익 집단 |
| ⑤ | 이익 집단 | 언론    |

05

정당에 대한 옳은 설명만을 <보기>에서 고른 것은?

보기

ㄱ. 정치 권력의 획득을 목적으로 한다.  
 ㄴ. 자기 집단의 이익 추구를 위해 노력한다.  
 ㄷ. 국민의 의견을 수렴하여 정책을 마련한다.  
 ㄹ. 법률을 만들거나 고침으로써 정책을 결정한다.

- ① ㄱ, ㄴ            ② ㄱ, ㄷ            ③ ㄴ, ㄷ  
 ④ ㄴ, ㄹ            ⑤ ㄷ, ㄹ

06

그림에 나타난 정부의 정책에 대해 이익 집단이 보일 수 있는 반응으로 가장 적절한 것은?



- ① 정책을 위반하는 약국을 처벌한다.  
 ② 사회 전체의 이익을 고려하여 찬성한다.  
 ③ 정책을 수행하는 모습을 공정하게 보도한다.  
 ④ 자기 집단의 경제적 손실을 이유로 반대한다.  
 ⑤ 국민의 요구를 반영하여 새로운 법률을 만든다.

07

다음 내용이 공통으로 가리키는 시민의 정치 참여 방법에 대한 옳은 설명을 <보기>에서 고른 것은?

- 행정부의 수반인 대통령을 선출한다.
- 입법부인 국회의 구성원을 선출한다.
- 지방 의회 의원과 지방 자치 단체장을 선출한다.

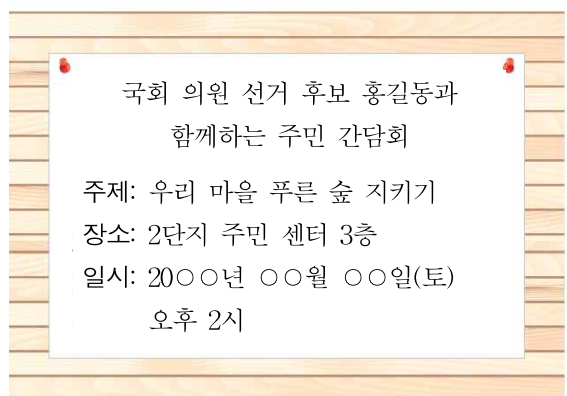
보기

ㄱ. 권력 통제의 수단은 아니다.  
 ㄴ. '민주주의의 꽃'이라고 불린다.  
 ㄷ. 시민의 대표적인 정치 참여 통로이다.  
 ㄹ. 직접 민주주의에서 더욱 중요한 역할을 한다.

- ① ㄱ, ㄴ            ② ㄱ, ㄷ            ③ ㄴ, ㄷ  
 ④ ㄴ, ㄹ            ⑤ ㄷ, ㄹ

08

자료는 어느 아파트 게시판에 붙은 벽보이다. 이를 통해 직접 알 수 있는 선거의 기능으로 가장 적절한 것은?



- ① 대표자를 선출한다.  
 ② 정치권력을 통제한다.  
 ③ 국가 정책을 집행한다.  
 ④ 정치권력에 정당성을 부여한다.  
 ⑤ 시민의 다양한 의견을 수렴한다.





17

(가), (나)에 해당하는 주민 참여 제도를 옳게 연결한 것은?

(가) 특정한 기관을 감사해 달라고 청구할 수 있다.  
 (나) 선출된 지역의 공직자가 직무를 잘 수행하지 못할 경우 주민 투표로 해임할 수 있다.

- |   | (가)       | (나)    |
|---|-----------|--------|
| ① | 청원        | 주민 발의제 |
| ② | 주민 소환제    | 주민 투표제 |
| ③ | 주민 투표제    | 주민 소환제 |
| ④ | 주민 감사 청구제 | 주민 발의제 |
| ⑤ | 주민 감사 청구제 | 주민 소환제 |

18

(가)에 들어갈 신문 기사의 제목으로 가장 적절한 것은?

○○ 신문                      20○○ 년 ○○ 월 ○○ 일

(가)

○○ 동 주민 자치회는 주민 총회를 통해 우선순 위 사업들을 선정하였다. 총회에서의 투표 결과, 주민들이 가장 원하는 사업은 ‘쓰레기 분리배출 처 리장 설치’였다. 이를 바탕으로 지방 자치 단체는 일반 주택 지역에도 아파트와 같은 쓰레기 분리수 거함을 설치해 골목 환경의 개선을 도모하였다. 인 근 주민을 대상으로 분리배출 처리장의 필요성에 대한 홍보가 이루어지면서 주민의 참여가 확대되 었고, 일반 주택가의 쓰레기 문제가 상당히 개선되 었다.

- ① 주민 참여 예산제의 중요성
- ② 지방 자치 제도의 등장 배경
- ③ 쓰레기 분리배출 사업의 목적
- ④ 주민 참여를 통한 지역 사회 문제의 해결
- ⑤ 지역 문제의 해결을 위한 중앙 정부의 노력

서술형 문제

19

표는 영국의 선거권 확대 과정을 나타낸 것이다. 이 과정을 통해 확립된 민주 선거의 원칙은 무엇인지 쓰고, 그 의미를 서술하시오.

시기	선거권 인정 대상
시민 혁명 이후	귀족, 부자
1832년	중산 계층의 성인 남자로 확대
1867년	도시 노동자, 소작농으로 확대
1884년	광산 노동자, 농민으로 확대
1918년	21세 이상 남성으로 확대, 30세 이상 여성으로 확대
1928년	21세 이상 모든 남녀로 확대

-----

-----

-----

20

다음 목적을 실현하기 위해 주민이 할 수 있는 노력을 두 가지만 서술하시오.

- 지역의 정책이 주민이 원하는 방향으로 추진되도록 한다.
- 지역의 대표가 주민의 요구와 필요에 맞게 활동하도록 유도한다.

-----

-----

01

도덕과 법의 특성에 대한 설명으로 옳지 않은 것은?

- ① 도덕은 위반 시 사회적 비난의 대상이 되며, 법은 위반 시 국가에 의해 제재를 받는다.
- ② 도덕은 인간 내면의 양심이나 동기를, 법은 겉으로 드러나는 행위의 결과를 중요시한다.
- ③ 도덕은 양심에 따라 자율적으로 지키면 되지만, 법은 강제성이 있어 모든 사회 구성원이 반드시 따라야 한다.
- ④ 도덕은 구체적인 내용이 무엇인지에 대해 사람마다 의견이 달라질 수 있지만, 법은 그 내용이 구체적으로 정해져 있다.
- ⑤ 도덕과 법은 모두 사회 구성원 간의 분쟁과 갈등을 예방하고 사회 질서를 유지하기 위해 국가가 정한 규범이다.

02

법에 대한 옳은 설명만을 <보기>에서 고른 것은?

보기

- ㄱ. 법을 어기면 국가로부터 제재를 받는다.
- ㄴ. 법은 다른 사회 규범보다 내용이 분명하다.
- ㄷ. 법은 현대 사회보다 전통 사회에서 중요시되었다.
- ㄹ. 법은 법관과 같은 전문가들에게만 영향을 미친다.

- ① ㄱ, ㄴ                      ② ㄱ, ㄷ                      ③ ㄴ, ㄷ
- ④ ㄴ, ㄹ                      ⑤ ㄷ, ㄹ

03

다음 사례를 통해 알 수 있는 법의 기능으로 가장 적절한 것은?

A는 몇 달 전 멕시코행 왕복 항공권을 구입했지만, 항공사의 일방적인 스케줄 변경으로 항공권이 취소되었다. A는 환불을 신청했지만, 항공사로부터 다음에 다시 항공권을 구입할 수 있는 증표로만 환불이 가능하고 현금으로 돌려줄 수는 없다는 답변을 받았다. 이에 A는 현금 환불을 요구하는 소송을 진행하였고, 법원은 항공사에 대해 항공권을 현금으로 환불하라고 판결하였다.

- ① 공공복리의 증진에 기여한다.
- ② 국가 권력의 강화에 기여한다.
- ③ 위반 시 양심의 가책을 느끼게 한다.
- ④ 분쟁이 발생했을 때 해결 기준을 제시한다.
- ⑤ 국가에 의해 부당하게 침해받은 권리를 구제한다.

04

다음 신문 기사에 나타난 법의 목적으로 가장 적절한 것은?

○○신문 2020년 10월 6일

미국 뉴저지주가 17일 고소득자에게서 세금을 더 많이 걷는 이른바 ‘백만장자세’를 도입하였다. 이에 따라 뉴저지주에서 연간 소득 100만 달러 이상 고소득자는 소득세율이 종전 8.97%에서 10.75%로 올라간다. 부자들에게서 더 걷는 돈은 가난한 사람들을 위해 사용될 것으로 보인다.

- ① 개인의 권리를 보장한다.
- ② 절대적 평등을 실현한다.
- ③ 배분적 정의를 실현한다.
- ④ 모든 인간을 똑같이 대우한다.
- ⑤ 분쟁을 효율적이고 합리적으로 해결한다.



05

밑줄 친 '이것'으로 가장 적절한 것은?

이것은 개인의 노력이나 능력에 따라 사회 구성원에게 각자가 받아야 할 정당한 몫을 주는 것으로, 법이 실현하고자 하는 궁극적인 목적이다.

- ① 자유의 보장
- ② 정의의 실현
- ③ 평등의 실현
- ④ 공공복리 추구
- ⑤ 사회적 약자 보호

06

(가)~(다)에 해당하는 법의 종류를 옳게 연결한 것만을 <보기>에서 고른 것은?

(가) 법원은 소송 절차가 공정하고 신속하며 경제적으로 진행되도록 노력하여야 한다.  
 (나) 사람을 협박한 자는 3년 이하의 징역, 500만 원 이하의 벌금, 구류 또는 과료에 처한다.  
 (다) 사람의 신체를 상해(사람의 몸에 해를 입힘)한 자는 7년 이하의 징역, 10년 이하의 자격 정지 또는 1천만 원 이하의 벌금에 처한다.

보기

가. (가) - 헌법	나. (가) - 소송법
다. (나) - 민법	르. (다) - 형법

- ① 가, 나
- ② 가, 다
- ③ 나, 다
- ④ 나, 르
- ⑤ 다, 르

07

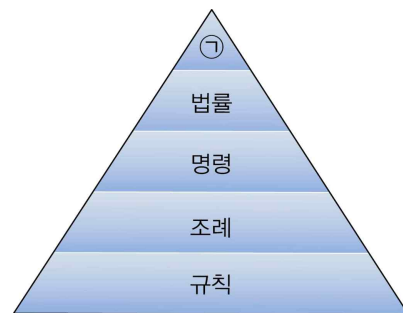
밑줄 친 ㉠~㉤ 중 법이 규율하는 생활 영역이 나머지 넷과 다른 것은?

오늘은 대통령 선거일이다. A는 아침 일찍 ㉠ 투표소에 가서 선거에 참여했다. 그리고 부동산 중개업소를 찾아가 새로 ㉡ 이사할 집을 계약했다. 집에 돌아와 ㉢ 군대에 가 있는 아들에게 편지를 쓰고, 작년에 구입한 자동차에 대한 ㉣ 세금을 냈다. 저녁 식사를 마치고 뉴스를 보다가 ㉤ 절도 사건의 용의자가 체포되었다는 소식을 접했다.

- ① ㉠
- ② ㉡
- ③ ㉢
- ④ ㉣
- ⑤ ㉤

08

㉠에 들어갈 우리나라의 최고 법에 대한 설명으로 옳은 것은?



- ① 개인 사이의 재산 관계를 규정한 법이다.
- ② 범죄의 종류와 처벌의 기준을 규정한 법이다.
- ③ 근로자의 권리와 근로 조건 등을 규정한 법이다.
- ④ 국가 기관의 구성과 운영 원리를 규정한 법이다.
- ⑤ 기업을 중심으로 한 생활관계를 규율하는 법이다.



13

재판에 대한 설명으로 옳지 않은 것은?

- ① 사회 정의를 실현한다.
- ② 사회 질서를 유지한다.
- ③ 국민의 인권을 보호한다.
- ④ 사회 구성원 간의 분쟁을 예방한다.
- ⑤ 분쟁을 해결하는 가장 바람직한 방법이다.

[14~15] (가)~(마)는 형사 재판의 절차이다. 이를 보고 물음에 답하십시오.

- (가) 고소 또는 고발
- (나) 판사의 판결 선고
- (다) 피의자에 대한 경찰 수사
- (라) 검사가 법원에 재판 청구
- (마) 검사의 신문, 변호인의 변론

14

(가)~(마)를 형사 재판의 절차에 따라 옳게 나열한 것은?

- ① (가) - (다) - (라) - (마) - (나)
- ② (가) - (라) - (다) - (마) - (나)
- ③ (가) - (마) - (다) - (라) - (나)
- ④ (다) - (가) - (라) - (마) - (나)
- ⑤ (다) - (라) - (가) - (마) - (나)

15

(라)를 의미하는 법률 용어로 옳은 것은?

- ① 공소                      ② 상고                      ③ 항소
- ④ 항고                      ⑤ 소장

16

㉠, ㉡에 들어갈 재판을 옳게 연결한 것은?

최근 층간 소음 문제로 인한 주민 간의 갈등이 깊어지면서 이와 관련된 소송이 늘어나고 있다. 층간 소음으로 피해를 본 아래층 주민이 위층 주민을 상대로 정신적·금전적 손해를 배상해 달라는 소송을 법원에 제기할 경우, 이 사건은 ( ㉠ )의 대상이 된다. 한편, 층간 소음 때문에 화가 난 아래층 주민이 위층 주민을 직접 찾아가 폭행하고, 폭행을 당한 위층 주민이 폭행을 가한 아래층 주민을 고소하여 처벌을 원할 경우, 이 사건은 ( ㉡ )의 대상이 된다.

- |         |       |
|---------|-------|
| ㉠       | ㉡     |
| ① 형사 재판 | 민사 재판 |
| ② 형사 재판 | 가사 재판 |
| ③ 민사 재판 | 형사 재판 |
| ④ 민사 재판 | 가사 재판 |
| ⑤ 행정 재판 | 형사 재판 |

17

다음 내용이 공통으로 추구하는 목적으로 적절한 것만을 <보기>에서 고른 것은?

- 원칙적으로 재판의 심리와 판결은 공개해야 한다.
- 재판에서의 사실 인정은 명확한 증거에 의해 이루어져야 한다.
- 재판은 외부 기관의 압력이나 간섭을 받지 않고 공정하게 이루어져야 한다.

- | 보기 |
- ㄱ. 신속한 재판
  - ㄴ. 공정한 재판
  - ㄷ. 사법부의 권한 강화
  - ㄹ. 시민의 자유와 권리 보장

- ① ㄱ, ㄴ                      ② ㄱ, ㄷ                      ③ ㄴ, ㄷ
- ④ ㄴ, ㄹ                      ⑤ ㄷ, ㄹ

## 18

심급 제도에 대한 설명으로 옳지 않은 것은?

- ① 법원에 급을 두어 실시한다.
- ② 하나의 사건에 대해서 여러 번 재판을 받을 수 있도록 한다.
- ③ 법관의 잘못된 판결로 발생할 수 있는 피해를 최소화하기 위한 제도이다.
- ④ 우리나라는 3심제를 원칙으로 하지만, 3심이 이루어지지 않는 재판도 있다.
- ⑤ 재판에 문제가 있을 경우, 재판 당사자 이외의 사람도 다시 재판을 해 달라고 요청할 수 있다.

## 19

다음 글에서 강조하는 공정한 재판을 위한 제도로 가장 적절한 것은?

대통령 각하, 마침내 \*드레뤼스가 군사 법정에서 졌습니다. 재판은 완전히 비공개로 진행되었습니다. 적에게 국경을 열어 독일 황제를 노트르담 성당까지 안내한 반역자라고 하더라도 이보다 더 쉬쉬하며 재판을 하지는 않았을 겁니다. 국민들은 대경실색한 채 온갖 풍문이 떠도는 이 무시무시한 드레뤼스의 배신 행위에 대해 수군거렸습니다.

- 에밀 졸라, 「나는 고발한다」

\*드레뤼스: 프랑스의 육군 장교로, 군사 정보를 독일 측에 알렸다는 혐의를 받고 종신형을 선고받았다.

- ① 심급 제도
- ② 증거 재판주의
- ③ 공개 재판주의
- ④ 비밀 재판주의
- ⑤ 사법권의 독립

## 서술형 문제

### 20

그림을 보고 물음에 답하십시오.



(1) (가), (나)에 적용되는 법의 영역을 각각 쓰시오.

-----

(2) (가), (나)에 적용되는 법의 영역을 규율 대상을 기준으로 비교하여 서술하십시오.

-----

-----

### 21

밑줄 친 ㉠, ㉡을 종합하여 알 수 있는 우리나라의 사법 제도는 무엇인지 쓰고, 그 목적을 서술하십시오.

A는 다리를 다쳐 의족을 사용해 왔는데, 아파트 경비원으로 근무하던 중 눈을 치우다가 미끄러져 다리를 심하게 다치고 의족도 파손되었다. ㉠ 1심과 2심 재판에서는 근로자의 부상은 신체에 상처를 입는 것을 의미하므로, 의족 파손은 부상이라고 할 수 없어 보상에서 제외된다고 판결하였다. 그러나 대법원은 ㉡ 3심 재판에서 의족은 신체의 일부인 다리를 실질적으로 대체하므로, 의족의 파손은 근로자의 부상에 포함되어야 한다고 판결하였다.

-----

-----

01

사회 변동에 대한 설명으로 옳지 않은 것은?

- ① 범위가 점점 넓어지고 있다.
- ② 양상은 사회마다 다르게 나타난다.
- ③ 속도는 현재보다 과거가 더 빠르다.
- ④ 사회 구조가 전반적으로 변화하는 현상이다.
- ⑤ 비물질 영역보다 물질 영역에서 더 빠르게 나타난다.

02

다음 모습이 주로 나타나는 사회의 특징으로 적절하지 않은 것은?

시간과 공간의 제약 없이 자유롭게 의사소통을 하고 수많은 정보를 주고받을 수 있다.

- ① 재택근무가 확산된다.
- ② 전자 민주주의가 가능해진다.
- ③ 자신도 모르게 개인 정보가 유출될 수 있다.
- ④ 노동과 자본이 부가 가치의 주요한 원천이 된다.
- ⑤ 누리 소통망(SNS)과 같은 뉴 미디어의 사용이 증가한다.

03

다음 글에 나타난 사회 변동의 요인으로 가장 적절한 것은?

“지난 80년간 세계를 바꾼 사건은 무엇일까?”  
2014년 영국 문화원이 10개국을 상대로 실시한 설문 조사의 제목이다. 조사 결과 가장 많은 사람들이 선택한 사건 1위는 인터넷망의 등장이었다. 그리고 2위는 페니실린의 대량 생산, 3위는 가정용 컴퓨터의 보급이 그 뒤를 이었다. 또한 휴대 전화의 보급과 발전이 15위에 올랐고, TV 방송의 시작과 신용카드 개발은 각각 24위, 34위를 기록했다.

- ① 교통의 발달
- ② 정치적 사건
- ③ 가치관의 변화
- ④ 자연환경의 변화
- ⑤ 과학 기술의 발달

04

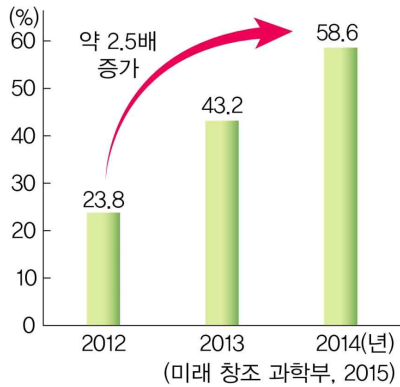
다음 글에서 설명하는 사회 변동으로 인한 문제로 보기 어려운 것은?

생산 활동이 분업화되고 기계화되면서 전체 산업에서 공업이 차지하는 비율이 높아지고, 그에 따라 생활 양식이 변화한다.

- ① 인간 소외 현상이 나타난다.
- ② 도시와 농촌의 격차가 증가한다.
- ③ 무분별한 개발로 환경 오염이 나타난다.
- ④ 노동자와 사용자 간의 갈등이 증가한다.
- ⑤ 사이버 범죄나 개인 정보 유출이 증가한다.

## 05

자료를 통해 알 수 있는 정보 사회의 특징으로 가장 적절한 것은?

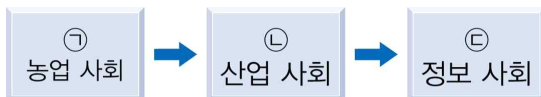


▲ 스마트폰을 이용한 인터넷 쇼핑 이용률의 변화

- ① 문화의 획일화가 나타난다.
- ② 시간과 공간의 제약이 감소한다.
- ③ 소품종 대량 생산이 이루어진다.
- ④ 제조업 중심의 사회로 변화한다.
- ⑤ 농업 중심에서 공업 중심으로 변화한다.

## 06

다음은 인류 사회의 변동 과정을 나타낸 것이다. 이에 대한 옳은 설명만을 <보기>에서 고른 것은?



보기

- ㉠. ㉠은 토지와 노동을 주된 기반으로 한다.  
 ㉡. ㉡ 시기에 제조업으로 생산성이 높아졌다.  
 ㉢. ㉢ 시기에 양방향 의사소통이 가능해졌다.  
 ㉣. ㉣ 시기에 인구가 촌락에서 도시로 급격하게 이동한다.

- ① ㉠, ㉡
- ② ㉠, ㉢
- ③ ㉡, ㉢
- ④ ㉡, ㉣
- ⑤ ㉢, ㉣

## 07

다음 글에 나타난 현상의 대응 방안으로 적절하지 않은 것은?

오늘날 우리 사회에서는 태어나는 아이의 수는 줄고, 노인 인구의 비율은 높아지는 현상이 나타나고 있다.

- ① 직장 내 보육 시설을 확충한다.
- ② 육아 휴직 제도를 확대 시행한다.
- ③ 개방적 태도를 통해 문화의 다양성을 추구한다.
- ④ 양성평등 및 일·가정 양립 문화의 확산을 위해 노력한다.
- ⑤ 노후 보장에 필요한 다양한 연금 및 노인 복지제도를 마련한다.

## 08

다음 상황에서 나타날 수 있는 현상으로 가장 적절한 것은?

우리나라는 국제결혼 이주민 및 외국인 노동자, 북한 이탈 주민들의 증가로 인해 다문화 사회로 변화하고 있다.

- ① 의사소통의 어려움
- ② 문화 다양성의 약화
- ③ 문화적 갈등의 해결
- ④ 노동력 부족 문제의 심화
- ⑤ 문화적 다수자에 대한 차별



09

밑줄 친 ㉠의 목적으로 가장 적절한 것은?

스웨덴은 세계에서 처음으로 남성 육아 휴직을 도입한 나라로, 2016년부터는 ㉠ 여성과 똑같은 90일로 남성 의무 육아 휴직 기간을 확대하였다.

- ① 인구 증가를 억제하기 위해
- ② 출산 지원금을 확대하기 위해
- ③ 고령화 사회로 진입하기 위해
- ④ 직장 여성의 출산을 장려하기 위해
- ⑤ 남녀 성비 불균형을 해결하기 위해

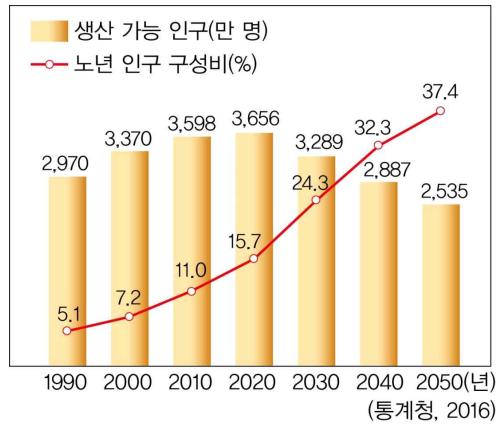
10

다음 사례들을 통해 설명할 수 있는 주제로 가장 적절한 것은?

- 인천 차이나타운은 화교 고유의 문화와 풍습을 간직하고 있다.
- 서래 마을의 프랑스 학교에서는 한국 문화 체험 교실을 열어 한국 전통 문화를 배우기도 한다.
- 서울 이태원의 한국 이슬람교 중앙 사원 근처에는 인도네시아, 파키스탄 등에서 온 이슬람교도들이 거주하고 있다.

- ① 산업화의 영향
- ② 다양한 문화의 갈등
- ③ 이주민에 대한 차별
- ④ 외국인 노동자의 유입
- ⑤ 다문화 사회로의 변화

[11~12] 자료를 보고 물음에 답하십시오



11

위 자료를 바탕으로 예상할 수 있는 한국 사회의 변화로 가장 적절한 것은?

- ① 고령화 사회에서 점차 벗어날 것이다.
- ② 외국인 노동자의 유입이 점점 감소할 것이다.
- ③ 노동력이 부족해져 경제 성장이 둔화될 것이다.
- ④ 노인 인구 부양에 필요한 비용이 감소할 것이다.
- ⑤ 정부가 출산율 감소를 위한 정책을 실시할 것이다.

12

위와 같은 현상으로 인해 나타날 수 있는 문제점에 대한 대응 방안으로 적절한 것만을 <보기>에서 고른 것은?

보기

- ㄱ. 연금 제도 개선
- ㄴ. 노인 일자리 마련
- ㄷ. 다문화 교육 실시
- ㄹ. 저임금 문제 해결

- ① ㄱ, ㄴ                      ② ㄱ, ㄷ                      ③ ㄴ, ㄷ
- ④ ㄴ, ㄹ                      ⑤ ㄷ, ㄹ

### 13

다음 상황에서 더욱 심화될 수 있는 현대 사회의 문제로 가장 적절한 것은?

2050년에는 인공지능과 또 다른 미래 기술들, 예를 들면 합성 생물학, 나노 기술, 사물 인터넷, 자율 주행 자동차, 로봇 공학 등이 우리의 일상을 비롯하여 경제, 문화의 본질에 근본적인 영향을 미칠 것이다. 또한 기후 관련 미래 기술들이 지금 인간이 하고 있는 많은 일을 대체할 것이다.  
- 박영숙, 제롬 글렌, 「유엔 미래 보고서 2050」

- ① 기아
- ② 실업
- ③ 인구 증가
- ④ 지구 온난화
- ⑤ 열대 우림 파괴

### 14

다음 글에 나타난 사회 문제의 원인으로 가장 적절한 것은?

과거에는 먹을 것이 부족하여 굶주림에서 벗어나는 것이 중요하였다. 그런데 시대가 바뀌어 사람들의 생각이 달라지면서 비만을 질병으로 보게 되었고, 비만세를 부과하는 나라가 생길 정도로 비만이 중요한 사회 문제로 대두하였다.

- ① 인구 감소
- ② 가치관의 변화
- ③ 자연환경의 변화
- ④ 전쟁과 교역 증가
- ⑤ 과학 기술의 발달

### 15

다음 글에 나타난 인도의 인구 문제를 해결하기 위한 방법으로 가장 적절한 것은?

인도는 2018년 인구수가 13억 5300만 명으로 세계 2위이다. 인도는 현재 강제로 인구 증가를 억제하지 못하고 있기 때문에 조만간 중국의 인구를 넘어설 전망이다.

- ① 육아에 대한 사회적 지원을 강화한다.
- ② 가족 계획을 실시하여 출산율을 높인다.
- ③ 여성이 육아를 전담하는 제도를 마련한다.
- ④ 여성의 사회 진출을 제한하는 정책을 실시한다.
- ⑤ 식량 생산을 늘리고 경제 발전을 위해 노력한다.

### 16

우리 사회에서 나타나는 노동 문제로 적절한 것만을 <보기>에서 고른 것은?

보기

- ㄱ. 남성과 여성의 임금 격차
- ㄴ. 정규직과 비정규직의 차별 대우
- ㄷ. 근로자와 사용자의 공동체 의식
- ㄹ. 전체 근로자 중 여성 근로자의 비율 증가

- ① ㄱ, ㄴ                      ② ㄱ, ㄷ                      ③ ㄴ, ㄷ
- ④ ㄴ, ㄹ                      ⑤ ㄷ, ㄹ

17

다음 사례들을 통해 추론할 수 있는 환경 문제의 특징으로 가장 적절한 것은?

- 1992년 브라질 리우에서 국제적 생물 다양성 보호를 위한 「생물 다양성 보존 협약」에 각국의 정상들이 서명하였다.
- 1994년 프랑스 파리에서 자원의 무분별한 개발과 토지의 잘못된 사용에 의한 지구 사막화를 막기 위해 「사막화 방지 협약」이 체결되었다.

- ① 특정 지역에만 영향을 미친다.
- ② 근대 산업 사회에서 시작되었다.
- ③ 지속 가능한 개발이 주요 원인이다.
- ④ 제도적 차원의 문제 해결이 가장 중요하다.
- ⑤ 문제 해결을 위해 국제적 협력이 필요하다.

18

사회 문제의 해결 방안 중 나머지 넷과 성격이 다른 것은?

- ① 실업 문제 해결을 위한 일자리 창출
- ② 노동 문제 해결을 위한 서명 운동 참여
- ③ 주택 문제 해결을 위한 주택 공급 증대
- ④ 인구 문제 해결을 위한 출산 및 육아 지원
- ⑤ 환경 문제 해결을 위한 폐수 처리 시설 확충

서술형 문제

19

다음 글을 읽고 물음에 답하십시오.

정보 사회에서 나타나는 사회 문제 중 이것은 다양한 양상으로 나타난다. 예를 들어 정치적 측면에서 생각해 보면, 노인과 같이 인터넷에 접근하기가 상대적으로 어려운 집단은 자신의 정치적 의견을 표출하기가 쉽지 않다. 경제적 측면에서도 마찬가지이다. 스마트폰 애플리케이션을 이용하여 좀 더 싸게 물건을 사는 사람이 있는가 하면, 그렇지 못한 사람도 있고, 이들 간에는 경제적 격차가 발생한다.

(1) 밑줄 친 ‘이것’에 해당하는 사회 문제는 무엇인지 쓰시오.

(2) (1) 문제의 의미를 서술하십시오.

20

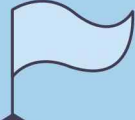
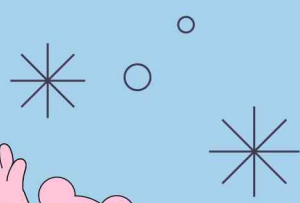
자료를 바탕으로 개발 도상국과 선진국에서 나타날 수 있는 인구 문제를 비교하여 서술하십시오.







# 차례



## 중학교 사회 2

### 단원 평가 문제집

1	인권과 헌법	66쪽
2	헌법과 국가 기관	71쪽
3	경제생활과 선택	76쪽
4	시장 경제와 가격	81쪽
5	국민 경제와 국제 거래	86쪽
6	국제 사회와 국제 정치	91쪽
7	인구 변화와 인구 문제	96쪽
8	사람이 만든 삶터, 도시	101쪽
9	글로벌 경제 활동과 지역 변화	106쪽
10	환경 문제와 지속 가능한 환경	111쪽
11	세계 속의 우리나라	116쪽
12	더불어 사는 세계	121쪽
	◆ 정답과 해설 ◆	153쪽

01

인권에 대한 설명으로 옳은 것은?

- ① 인간이 태어나 성인이 되면 주어지는 권리이다.
- ② 인간의 존엄성 유지 및 보장을 위한 전제 조건이다.
- ③ 사회적 의무를 다하는 사람에게 주어지는 권리이다.
- ④ 일정한 조건을 갖춘 사람에게만 보장되는 제한적 권리이다.
- ⑤ 국가에 속하지 않은 자연적인 상태의 경우 보장 받을 수 없다.

02

밑줄 친 부분을 통해 설명할 수 있는 용어로 가장 적절한 것은?

「프랑스 인권 선언」

제2조 모든 정치적 결사의 목적은 인간의 자연적이고 소멸할 수 있는 제 권리를 보전함에 있다. 그 권리란 자유, 재산, 안전 그리고 압제에의 저항 등이다.

제7조 누구도 법에 의해 규정된 경우, 그리고 법에 정하는 형식에 의하지 아니하고는 소추, 체포 또는 구금될 수 없다.

- ① 자유권
- ② 평등권
- ③ 재산권
- ④ 저항권
- ⑤ 국민 주권주의

03

다음은 독일 바이마르 공화국에서 발표된 어떤 문서의 일부이다. 이에 대한 설명으로 옳은 것은?

제163조 ② 모든 국민은 경제적 노동을 통해 자신의 생계를 확보할 기회를 보장 받는다.

③ 만약 적합한 일자리가 제공되지 못하는 경우, 모든 국민은 재정지원을 받을 수 있다.

- ① 최초로 사회권을 헌법으로 규정하였다.
- ② 근대 민주 정치가 시작되는 계기가 되었다.
- ③ 절대주의 왕정의 억압에 대항하여 등장하였다.
- ④ 노동자에 의한 참정권 확대 운동의 결과로 등장하였다.
- ⑤ 민족이나 집단 차원에서 누리는 연대권의 개념을 제기하였다.

04

인권과 헌법의 관계에 대한 설명으로 옳은 것은?

- ① 헌법은 국가를 위한 법으로 인권과는 관계가 없다.
- ② 헌법이 만들어지기 전에는 인권이 존재하지 않았다.
- ③ 인권은 헌법에 명시되어야만 보장받을 수 있는 권리이다.
- ④ 헌법은 국가 권력에 의해 국민의 인권을 제한하기 위해 만들어진 것이다.
- ⑤ 오늘날 대부분의 국가에서는 헌법에 인권을 국민의 기본권으로 규정하고 있다.



05

밑줄 친 '이 선언'의 명칭을 쓰시오.

제1조 모든 사람은 자유로운 존재로 태어났고, 똑같은 존엄과 권리를 가진다. 사람은 이성과 양심을 타고 났으므로 서로를 형제애의 정신으로 대해야 한다.

제2조 모든 사람은 인종, 피부색, 성, 언어, 종교, 정치적 견해 또는 그 밖의 견해, 출신 민족 또는 사회적 신분, 재산의 많고 적음, 출생 또는 그 밖의 지위에 따른 그 어떤 구분도 없이, 이 선언에 나와 있는 모든 권리와 자유를 누릴 자격이 있다.

( )

06

다음 권리를 모두 포함하는 기본권에 대한 설명으로 옳은 것은?

- 국민의 대표를 선출할 수 있는 권리
- 특정 사안에 대해 국민이 직접 찬반의 의견을 투표로 말할 수 있는 권리
- 국민이 국가나 지방 자치 단체의 구성원이 되어 공무를 담당할 수 있는 권리

- ① 국가의 의사 결정에 참여할 수 있는 권리이다.
- ② 국가에 대해 일정한 행위를 요구할 수 있는 권리이다.
- ③ 국민들이 부당하게 차별받지 않고 동등하게 대우받을 권리이다.
- ④ 국민이 국가에 인간다운 생활을 요구할 수 있는 적극적 권리이다.
- ⑤ 국가의 간섭이나 침해받지 않고 자유롭게 생활할 수 있는 권리이다.

07

㉠에 들어갈 권리로 적절한 것은?

사회권은 인간다운 생활의 보장을 국가에 요구할 수 있는 권리로 ( ㉠ ) 등을 포함한다.

- ① 법 앞에서 평등할 권리
- ② 쾌적한 환경에서 살 권리
- ③ 직업을 자유롭게 선택할 권리
- ④ 국민의 대표를 뽑을 수 있는 권리
- ⑤ 법률에 의하지 않고는 체포당하지 않을 권리

08

(가)~(다)는 우리나라의 헌법 조항이다. 각 조항이 직접 규정하고 있는 기본권을 옳게 연결한 것은?

- (가) 모든 국민은 법률이 정하는 바에 의하여 공무 담임권을 가진다.
- (나) 모든 국민은 언론·출판의 자유와 집회·결사의 자유를 가진다.
- (다) 모든 국민은 건강하고 쾌적한 환경에서 생활할 권리를 가지며, 국가와 국민은 환경 보전을 위하여 노력하여야 한다.

- |   | (가) | (나) | (다) |
|---|-----|-----|-----|
| ① | 자유권 | 참정권 | 청구권 |
| ② | 참정권 | 자유권 | 청구권 |
| ③ | 참정권 | 자유권 | 사회권 |
| ④ | 청구권 | 참정권 | 사회권 |
| ⑤ | 사회권 | 자유권 | 청구권 |

09

밑줄 친 ㉠에 해당하는 권리로 가장 적절한 것은?

대의제는 시민의 의사를 정치에 정확하게 반영하지 못하거나, 시민의 정치적 무관심을 초래할 수 있다는 한계를 지니고 있다. 이를 보완하기 위해 현대 민주 국가에서는 ㉠ 직접 민주제 요소를 도입하였다.

- ① 선거권
- ② 청원권
- ③ 국민 투표권
- ④ 공무 담임권
- ⑤ 재판 청구권

10

우리나라 헌법에 규정된 기본권 제한에 대한 설명으로 옳지 않은 것은?

- ① 기본권은 무제한으로 누릴 수 있는 것이 아니다.
- ② 기본권을 제한하는 요건과 한계를 엄격하게 규정하지 않았다.
- ③ 기본권을 제한하는 경우에도 기본권의 본질적인 내용은 침해할 수 없다.
- ④ 개발 제한 구역을 지정하여 기본권을 제한할 수 있는 것은 공공복리를 위해서 필요하기 때문이다.
- ⑤ 국가 권력의 남용을 방지하고 국민의 기본권을 최대한 보장하기 위해 기본권 제한에 한계를 두었다.

11

㉠, ㉡에 들어갈 용어를 옳게 연결한 것은?

17세 고등학생 A는 국회 의원 선거일에 지지하는 후보자에게 투표하기 위해 투표소에 갔다가 선거권이 없다는 이유로 제지당했다. A는 선거권 연령을 18세 이상으로 정한 「공직 선거법」 제15조가 헌법에 보장된 자신의 참정권을 침해한다고 주장하면서 ( ㉠ )에 ( ㉡ )을/를 청구하였다.

- |   |           |          |
|---|-----------|----------|
|   | ㉠         | ㉡        |
| ① | 법원        | 선거 재판    |
| ② | 수사 기관     | 고소       |
| ③ | 헌법 재판소    | 위헌 법률 심판 |
| ④ | 헌법 재판소    | 헌법 소원 심판 |
| ⑤ | 국민 권익 위원회 | 행정 심판    |

12

㉠에 대한 설명으로 옳은 것은?

청각 장애인인 A는 한국 영화를 관람하기 위해 영화관을 방문했지만, 영화관 측에서 청각 장애인을 위한 자막을 제공하지 않아 영화를 관람하지 못했다. A는 해당 영화관이 청각 장애인에 대한 정당한 편의를 제공하지 않는 것은 엄중한 차별이라고 주장하면서 독립적 인권 전담 기구인 ( ㉠ )에 진정을 제기하였다.

- ① 시민 단체이다.
- ② 법무부 소속 기관이다.
- ③ 위헌 법률 심판을 담당한다.
- ④ 인권 침해나 차별 행위를 조사하여 구제한다.
- ⑤ 범죄 행위로 개인의 권리가 침해되었을 때 재판을 통해 권리를 구제한다.



## 17

(가)~(다)에 해당하는 근로자의 권리를 옳게 연결한 것은?

- (가) 노동조합과 같은 단체를 만들 수 있는 권리  
 (나) 노동조합을 통해 사용자와 근로 조건을 협의할 수 있는 권리  
 (다) 사용자와 교섭이 원만하게 이루어지지 않을 때 일정한 절차를 거쳐 쟁의 행위를 할 수 있는 권리

- |   | (가)    | (나)    | (다)    |
|---|--------|--------|--------|
| ① | 단결권    | 단체 교섭권 | 단체 행동권 |
| ② | 단결권    | 단체 행동권 | 단체 교섭권 |
| ③ | 단체 교섭권 | 단결권    | 단체 행동권 |
| ④ | 단체 교섭권 | 단체 행동권 | 단결권    |
| ⑤ | 단체 행동권 | 단결권    | 단체 교섭권 |

## 18

다음 상황에서 A가 권리 구제를 위해 할 수 있는 노력으로 가장 적절한 것은?

A는 제과점에서 두 달 동안 아르바이트를 하기로 하였다. 그런데 한 달만 일한 후에 집안 사정으로 일을 그만두게 되었다. 그러자 제과점 사장은 계약한 내용을 지키지 않았다고 임금 지불을 거부하고 있다.

- ① 임금 액수만큼의 빵을 달라고 요구한다.
- ② 계약 조건을 지키지 못했으므로 임금을 포기한다.
- ③ 고용 노동부에 밀린 임금을 받게 해 달라고 신고한다.
- ④ 최우선적으로 제과점을 상대로 법원에 소송을 제기한다.
- ⑤ 사장과의 합의를 통하여 문제를 해결하는 것은 최후의 방법이다.

## 서술형 문제

## 19

다음 우리나라 헌법 조항을 읽고 물음에 답하시오.

제26조 ① 모든 국민은 법률이 정하는 바에 의하여 국가 기관에 문서로 청원할 권리를 가진다.

제27조 ① 모든 국민은 헌법과 법률이 정한 법관에 의하여 법률에 의한 재판을 받을 권리를 가진다.

- (1) 위의 헌법 조항이 공통으로 보장하고 있는 기본권은 무엇인지 쓰시오.

- (2) (1)의 기본권이 갖는 특징을 서술하시오.

## 20

다음 글을 읽고 물음에 답하시오.

○○ 대학의 생활 협동조합 노동자들은 노동 환경 및 휴게 시설의 개선을 위해 ㉠ 노동조합을 조직하였다. 노동조합 측은 사용자 측과 단체 교섭을 시도했지만 원만하게 이루어지지 않았고, ㉡ 파업을 시작하였다. 한편, ○○ 대학 노동자들은 노동자 8명이 에어컨도 없이 1평의 휴게실을 사용하는 것으로 나타났다.

- (1) 밑줄 친 ㉠, ㉡에 해당하는 노동 3권의 명칭을 각각 쓰시오.

- (2) 밑줄 친 ㉠, ㉡과 같은 노동 3권이 추구하는 목적을 두 가지 서술하시오.

01

우리나라 국회에 대한 설명으로 옳은 것은?

- ① 법을 만드는 국가 작용을 하므로 사법부라고 한다.
- ② 5년에 한 번씩 선거를 통해 선출된 대표로 구성된다.
- ③ 지역구 국회 의원과 비례 대표 국회 의원으로 구성된다.
- ④ 현행 헌법상 300명 이상의 국회 의원으로 구성되어야 한다.
- ⑤ 10명 이상의 소속 의원을 가진 정당은 교섭 단체를 구성할 수 있다.

02

㉠에 들어갈 용어를 쓰시오.

현대 민주 국가에서는 국가 권력을 법을 제정하는 권한, 법을 집행하는 권한, 법을 적용하는 권한으로 나누고, 이를 각각 독립된 국가 기관에 부여하고 있다. 그 중 법을 제정하는 권한을 국민이 직접 선출한 대표로 구성되는 의회에 부여하는데, 우리나라도 의회, 즉 국회가 국민의 의견과 요구를 반영하여 법률을 만듦으로써 ( ㉠ ) 기관으로서의 역할을 한다.

( )

03

우리나라의 법률 제정 절차에 대해 잘못 말한 사람은?

- ① 갑: 국회 의원 10인 이상이 법률안을 제출할 수 있어.
- ② 을: 국회 의장은 상임 위원회를 거친 법률안을 본회의에 상정해.
- ③ 병: 국회 의장이 직접 본회의로 법률안을 상정하기도 해.
- ④ 정: 국회 본회의에서 재적 의원 과반수의 출석과 출석 의원 과반수의 찬성으로 법률안이 통과돼.
- ⑤ 무: 본회의를 통과한 법률안은 대통령이 15일 이내에 공포해야 하며, 대통령은 공포를 거부할 수 없어.

04

(가)~(라)는 「아동 학대 범죄의 처벌 등에 관한 특례법」이 만들어진 과정이다. 법률의 제정 과정에 따라 순서대로 옳게 나열한 것은?

(가) 제출된 법안을 관련 상임 위원회인 여성 가족위원회에서 심사하였다.  
 (나) 국회에서 의결된 법률안이 정부로 이송되어 대통령이 공포한 후 효력이 발생하였다.  
 (다) 본회의에 올라온 법률안이 질의와 토론을 거쳐 일정 수 이상 국회 의원의 찬성으로 통과되었다.  
 (라) 아동 학대와 관련된 사회 문제가 심각해지자 10인 이상의 국회 의원이 아동 학대 범죄의 처벌에 관한 법률안을 제출하였다.

- ① (가) - (나) - (다) - (라)
- ② (가) - (라) - (다) - (나)
- ③ (다) - (가) - (라) - (나)
- ④ (라) - (가) - (다) - (나)
- ⑤ (라) - (다) - (가) - (나)

## 05

다음 글에서 설명하는 역할을 직접 실현하기 위한 국회의 권한으로 적절한 것만을 <보기>에서 있는 대로 고른 것은?

국회는 국민의 대표 기관으로서 국정 전반을 감시하고 견제하는 역할을 한다.

보기

- ㄱ. 법률 제·개정권
- ㄴ. 탄핵 소추 의결권
- ㄷ. 주요 공무원 임명 동의권
- ㄹ. 국정 감사 및 국정 조사권
- ㅁ. 헌법 개정안 제안 및 의결권

- ① ㄱ, ㄷ      ② ㄴ, ㄹ      ③ ㄷ, ㅁ
- ④ ㄴ, ㄷ, ㄹ    ⑤ ㄴ, ㄹ, ㅁ

## 06

다음 사례에 나타난 국회의 권한으로 적절한 것은?

국회는 본회의를 열고 ○○○ 국무총리 후보자 임명에 대한 동의안 투표를 실시하였다.

- ① 조약 체결 동의권
- ② 법률의 제정 및 개정권
- ③ 국정 감사 및 국정 조사권
- ④ 헌법 기관 구성원 임명 동의권
- ⑤ 헌법 개정안의 제안 및 의결권

## 07

다음에서 설명하는 정부 조직의 의장과 부의장을 옳게 연결한 것은?

- 행정부의 최고 심의 기관이다.
- 법률의 제정안과 개정안, 예산안과 같이 행정부의 중요한 정책을 논의한다.

- | 의장     | 부의장      |
|--------|----------|
| ① 대통령  | 국무총리     |
| ② 대통령  | 국회 의장    |
| ③ 대통령  | 행정 각부의 장 |
| ④ 국무총리 | 국회 의장    |
| ⑤ 국무총리 | 행정 각부의 장 |

## 08

(가), (나)의 역할을 수행하는 행정 각부를 옳게 연결한 것은?

- (가) 학생 참여형 수업을 실시하고 학생의 소질과 적성을 키울 수 있는 다양한 체험 활동을 운영할 수 있도록 중학교에서 자유학기제를 실시하게 한다.
- (나) 학교 앞 어린이 보호 구역에서 시속 30km 이하로 속도를 제한하고 과속 방지턱을 추가 설치하여 어린이 안전사고를 예방한다.

- | (가)      | (나)    |
|----------|--------|
| ① 교육부    | 고용 노동부 |
| ② 교육부    | 행정 안전부 |
| ③ 교육부    | 보건 복지부 |
| ④ 보건 복지부 | 행정 안전부 |
| ⑤ 기획 재정부 | 교육부    |



09

㉠에 들어갈 행정부의 조직에 대한 설명으로 옳지 않은 것은?

○○신문 20○○년 ○○월 ○○일

환경부가 ( ㉠ )의 '미세먼지 관리 대책 추진 실태' 감사 결과를 수용하면서 앞으로 각 부문별 지적 사항에 대한 보완 대책을 조속히 추진하기로 했다. ( ㉠ )은/는 환경부의 미세먼지 대책에 대해 대기오염 물질 배출량 통계 개선 미흡 등과 관련하여 문제를 제기하였다.

- ① 행정부의 최고 감사 기관이다.
- ② 국가의 수입과 지출을 검사한다.
- ③ 행정 기관과 공무원의 직무를 감찰한다.
- ④ 대통령을 도와 행정 각부를 지휘 또는 조정한다.
- ⑤ 대통령에 소속된 기관이지만 독립적인 지위를 가진다.

10

밑줄 친 ㉠을 행사한 사례만을 <보기>에서 고른 것은?

우리나라의 대통령은 ㉠ 국가 원수로서의 권한과 행정부 수반으로서의 권한을 동시에 행사한다.

보기

- ㄱ. 국회의 동의를 얻어 대법원장을 임명하였다.
- ㄴ. 국회에서 의결된 법률안에 거부권을 행사하였다.
- ㄷ. 우리나라를 방문한 인도네시아 대통령을 접견하였다.
- ㄹ. 새 국토 교통부 장관을 임명하면서 서민 주거 안정을 당부하였다.

- ① ㄱ, ㄴ                      ② ㄱ, ㄷ                      ③ ㄴ, ㄷ
- ④ ㄴ, ㄹ                      ⑤ ㄷ, ㄹ

11

다음 사례를 통해 알 수 있는 대통령의 권한으로 가장 적절한 것은?

대통령은 관계 부처 장관 등 국무 위원들과 장시간 회의를 진행하였다. 회의에서는 최근 발생한 아동학대 문제의 심각성을 인지하고 이를 해결하기 위한 대책을 심의하였다.

- ① 국가 원수로서 행정부를 지휘·감독한다.
- ② 국군의 최고 사령관으로서 국군을 지휘하고 통솔한다.
- ③ 외교나 국방 등 중요 정책의 결정을 위해 국민 투표를 실시한다.
- ④ 행정 각부의 장 등 법률이 정한 공무원을 임명하거나 해임한다.
- ⑤ 국무 회의의 의장으로서 국가의 중요한 정책을 심의하고 결정한다.

12

표는 대통령의 일정을 가상으로 나타낸 것이다. 밑줄 친 ㉠~㉣ 중 옳지 않은 것은?

월	㉠ 국무 회의에 참석하였다.
화	㉡ 국무총리에 대한 탄핵 소추를 의결하였다.
수	㉢ 국회의 동의를 얻어 대법원장을 임명하였다.
목	㉣ 전방 군부대를 방문하여 장병을 격려하였다.
금	㉤ 프랑스 대통령을 접견하였다.

- ① ㉠                              ② ㉡                              ③ ㉢
- ④ ㉣                              ⑤ ㉤

### 13

㉠의 사례로 가장 적절한 것은?

( ㉠ )은/는 법을 해석하고 적용하여 판단하는 국가의 활동으로, 법원이 사법부로서 담당한다.

- ① 맞벌이 가정의 돌봄 공백을 방지하기 위해 돌봄 교실 운영을 확대하였다.
- ② 학교 폭력을 예방하기 위해 「학교 폭력 예방 및 대책에 관한 법률」을 제정하였다.
- ③ 무인 단속 카메라가 규정 속도 이상으로 달리는 자동차를 적발하여 벌금을 매겼다.
- ④ A는 최근 이사한 집이 속해 있는 주민 센터에 방문해 주소 이전과 전입 신고를 하였다.
- ⑤ 재판부는 말싸움 끝에 직장 동료를 폭행한 B에게 형법을 적용하여 벌금 300만 원을 선고하였다.

### 14

㉠, ㉡에 들어갈 용어를 옳게 연결한 것은?

사람들 사이에 다툼이 있거나 범죄가 발생했을 때 국가는 분쟁을 해결하고 사회 질서를 유지하기 위해 법을 해석하고 구체적 사건에 적용한다. 이렇게 법을 적용하여 판단하는 국가 활동을 ( ㉠ )(이)라고 하며, 이 역할을 담당하는 곳은 ( ㉡ )(이다).

- |      |        |
|------|--------|
| ㉠    | ㉡      |
| ① 입법 | 국회     |
| ② 입법 | 헌법 재판소 |
| ③ 행정 | 행정부    |
| ④ 사법 | 법원     |
| ⑤ 사법 | 헌법 재판소 |

[15~16] 그림은 우리나라의 심급 제도를 나타낸 것이다. 이를 보고 물음에 답하시오.



### 15

㉠, ㉡에 들어갈 용어를 옳게 연결한 것은?

- |       |    |
|-------|----|
| ㉠     | ㉡  |
| ① 항소  | 상고 |
| ② 항소  | 상소 |
| ③ 항고  | 상고 |
| ④ 항고  | 상소 |
| ⑤ 재항고 | 항고 |

### 16

위 제도에 대한 설명으로 옳은 것은?

- ① (가)의 판사는 항상 3명으로 이루어진다.
- ② (나)는 행정 법원의 1심 판결에 불복한 사건일 경우 고등 법원에서 진행된다.
- ③ (다)는 헌법 재판소에서 이루어진다.
- ④ (가) 또는 (나) 단계에서는 사건이 종결될 수 없다.
- ⑤ 반드시 한 사건당 세 번의 재판을 해야 한다.

17

(가), (나)에서 설명하는 법원을 옳게 연결한 것은?

(가) 이혼, 양자, 상속과 같은 가사 사건이나 소년 보호 사건을 담당하여 재판한다.  
 (나) 국가 기관의 잘못된 행정 작용 등 행정과 관련된 사건을 담당하여 재판한다.

- | (가)     | (나)       |
|---------|-----------|
| ① 대법원   | 고등 법원     |
| ② 가정 법원 | 특허 법원     |
| ③ 가정 법원 | 행정 법원     |
| ④ 지방 법원 | 행정 법원     |
| ⑤ 특허 법원 | 지방 법원의 지원 |

18

다음 사례에 나타난 헌법 재판소의 권한에 대한 설명으로 옳은 것은?

인터넷에서 표현의 자유를 침해한다는 비판을 받아 온 '인터넷 실명제'에 대하여 위헌 결정이 내려졌다. 헌법 재판소는 인터넷 사이트 게시판에 인적 사항을 등록한 후 댓글이나 게시글을 남길 수 있도록 한 법률 조항에 대하여 재판관 전원 일치로 위헌 결정을 내렸다.

- ① 정당이 헌법에 위반되는 활동을 할 때 해산 여부를 결정한다.
- ② 법률이 국민의 기본권을 침해하고 헌법에 위반되는지를 판단한다.
- ③ 국회에서 고위 공무원을 파면하기로 의결했을 때 그 여부를 결정한다.
- ④ 국가 기관 간에 권한의 다툼이 있을 때 권한이 누구에게 있는지 판단한다.
- ⑤ 지방 자치 단체 사이에 권한의 다툼이 있을 때 권한이 누구에게 있는지 판단한다.

서술형 문제

19

다음 우리나라 헌법 조항을 읽고 물음에 답하시오.

제66조 ④ 행정권은 대통령을 수반으로 하는 정부에 속한다.

(1) 위 헌법 조항에 나타난 대통령의 지위는 무엇인지 쓰시오.

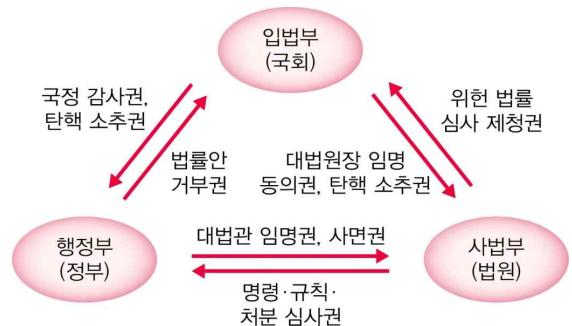
-----

(2) (1)의 지위에 따른 대통령의 권한을 두 가지 이상 서술하시오.

-----  
 -----

20

그림에 나타난 국가 기관의 권한들이 공통으로 추구하는 목적을 서술하시오.



-----  
 -----



05

표는 인형 가게에서 판매하는 상품의 가격과 남은 개수를 나타낸 것이다. 이에 대한 설명으로 옳은 것은? (단, 희소성과 가격은 비례한다고 가정한다.)

구분	토끼	곰	강아지
가격	5,000원	7,000원	10,000원
남은 개수	10개	2개	20개

- ① 모든 인형은 무상재에 해당한다.
- ② 강아지 인형은 희소성이 가장 크다.
- ③ 사람들은 모두 곰 인형을 선택할 것이다.
- ④ 토끼 인형과 강아지 인형의 효율성은 같다.
- ⑤ 남은 상품의 절대적인 양과 가격은 비례한다.

06

(가)~(마)는 스마트폰 구매를 위한 합리적 의사 결정 과정을 나타낸 것이다. 이를 순서대로 옳게 나열한 것은?

- (가) 평가 결과 기회비용보다 편익이 더 높은 스마트폰을 선택한다.
- (나) 구입 과정을 정리하고, 구입한 제품에 대한 장점과 단점을 살펴본다.
- (다) 다양한 목적으로 사용할 수 있는 스마트폰이 필요하여 구입하고자 한다.
- (라) 스마트폰 구입에 쓸 수 있는 금액을 확인하고, 그 금액으로 구입할 수 있는 스마트폰의 종류를 찾아본다.
- (마) 구매할 수 있는 스마트폰들에 대해 디자인, 처리 속도, 배터리 지속 시간, 무게 등 다양한 기준에 따라 점수를 매겨 본다.

- ① (가) - (다) - (라) - (마) - (나)
- ② (나) - (다) - (라) - (가) - (마)
- ③ (다) - (가) - (마) - (라) - (나)
- ④ (다) - (라) - (마) - (가) - (나)
- ⑤ (라) - (마) - (가) - (나) - (다)

07

다음 사례에 대한 옳은 설명만을 <보기>에서 있는 대로 고른 것은?

A는 중국 음식점에서 짜장면과 짬뽕 중 한 가지 음식을 선택하려고 한다. 아래 표는 두 가지 음식에 대한 정보이다. (단, 제시된 내용 외의 요인은 고려하지 않는다.)

구분	짜장면	짬뽕
가격	5,000원	5,500원
A의 편익	6,500원	6,000원

- 보기
- ㄱ. A는 짜장면을 선택하는 것이 합리적이다.
  - ㄴ. A가 짬뽕을 선택할 때의 기회비용은 6,500원이다.
  - ㄷ. A의 선택은 재화와 서비스 중 서비스를 소비하는 행위이다.
  - ㄹ. A가 짜장면을 선택할 때의 기회비용은 짬뽕을 선택할 때의 기회비용에 비해 작다.

- ① ㄱ, ㄴ                      ② ㄱ, ㄹ                      ③ ㄴ, ㄷ
- ④ ㄱ, ㄷ, ㄹ                ⑤ ㄴ, ㄷ, ㄹ

08

A국이 채택하고 있는 경제 체제의 특징으로 옳은 것만을 <보기>에서 있는 대로 고른 것은?

A국에서는 국가가 공장을 소유하고 생산 품목과 생산량을 결정하고 있다.

- 보기
- ㄱ. 근로 의욕이 저하될 수 있다.
  - ㄴ. 빈부 격차가 심해질 수 있다.
  - ㄷ. 분배에서의 평등을 추구한다.
  - ㄹ. 사회 전체의 생산성이 향상된다.
  - ㅁ. 개인의 창의적 경제 활동이 제한된다.

- ① ㄱ, ㄴ                      ② ㄷ, ㄹ                      ③ ㄱ, ㄴ, ㄷ
- ④ ㄱ, ㄷ, ㅁ                ⑤ ㄴ, ㄹ, ㅁ

## 09

다음 사례에서 A, B가 고민하고 있는 경제 문제를 옳게 연결한 것은?

A와 B는 자신의 농지에 각각 쌀농사를 짓고 있다. 최근 쌀 풍년으로 쌀값이 폭락하자, 두 사람은 이에 대한 대책을 고민하고 있다. A가 내년에 비용 면에서 좀 더 장점이 있는 기계를 도입하기로 한 데 비해, B는 내년부터 쌀 대신 다른 작물을 재배하기로 하였다.

- ① A: 어떻게 생산할 것인가?  
B: 누구에게 분배할 것인가?
- ② A: 어떻게 생산할 것인가?  
B: 무엇을 얼마나 생산할 것인가?
- ③ A: 누구에게 분배할 것인가?  
B: 무엇을 얼마나 생산할 것인가?
- ④ A: 무엇을 얼마나 생산할 것인가?  
B: 어떻게 생산할 것인가?
- ⑤ A: 무엇을 얼마나 생산할 것인가?  
B: 누구에게 분배할 것인가?

## 10

표는 두 나라의 경제 체제를 비교한 것이다. 이에 대한 설명으로 옳지 않은 것은?

구분	시장에 대한 정부 개입	생산 수단의 사적 소유 허용	경제적 효율성 중시
A국	강함	낮음	낮음
B국	약함	높음	높음

- ① A국보다 B국에서 경제 활동의 자유를 더 보장할 것이다.
- ② A국보다 B국에서 '보이지 않는 손'의 기능이 더 중시될 것이다.
- ③ B국보다 A국이 시장 경제 체제에 더 가깝다.
- ④ B국보다 A국이 분배의 형평성을 더 중시할 것이다.
- ⑤ A국과 B국 모두에서 기본적인 경제 문제가 발생한다.

## 11

㉠~㉣에 들어갈 용어를 옳게 연결한 것은?

기업은 상품을 생산하기 위해 생산 요소를 필요로 하는데, 생산 요소는 주로 가게로부터 제공받는다. 노동을 제공한 사람에게는 ( ㉠ )을/를, 자본을 제공한 사람에게는 ( ㉡ )을/를, 공장의 부지나 땅을 제공한 사람에게는 ( ㉢ )을/를 지급함으로써 기업은 생산 요소를 제공한 대가를 가게에 지불한다.

- ① ㉠ - 이자
- ② ㉠ - 지대
- ③ ㉡ - 이자
- ④ ㉡ - 임금
- ⑤ ㉢ - 임금

## 12

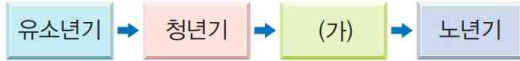
다음 사례를 통해 설명할 수 있는 주제로 가장 적절한 것은?

○○ 기업은 박스 제조업체로 직원의 60%가 사회 취약 계층에 해당한다. 이 회사는 북한 이탈 주민을 비롯한 사회 취약 계층의 자립을 돕기 위해 설립되었다. 따라서 이윤 창출을 최우선으로 하지 않고, 기업 운영을 통해 공공선을 달성하고자 한다. ○○ 기업의 대표는 "2008년에 회사를 설립하여 여러 가지 어려움에 부딪혔지만 포기하지 않고 경영해 온 결과, 회사를 연 매출 50억 원대의 기업으로 성장시켰다."라고 말했다.

- ① 기술 혁신
- ② 기업이 정신
- ③ 윤리적 소비
- ④ 노사 간의 경쟁
- ⑤ 기업의 사회적 책임

13

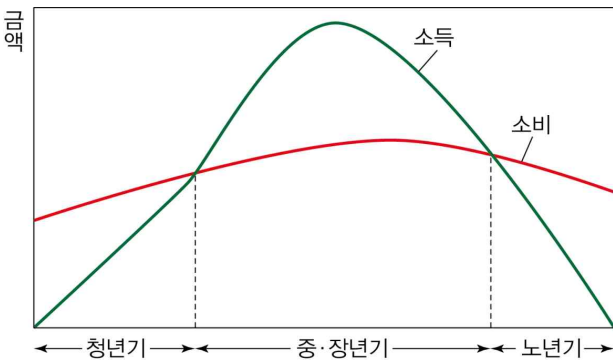
다음 생애 주기에서 (가) 시기에 대한 설명으로 옳은 것은?



- ① 노후 대비 자금이나 연금으로 생활한다.
- ② 주로 부모의 소득에 의존하여 소비 생활을 한다 .
- ③ 인생에서 첫 직장을 가지고 본격적으로 생산 활동에 참여한다.
- ④ 직장에서 은퇴하여 소득은 크게 줄어들지만 소비 생활은 지속된다.
- ⑤ 소득이 크게 늘지만 자녀 양육, 주택 마련, 노후 준비 등으로 소비도 크게 증가한다.

14

그림은 A의 생애 주기에 따른 소득 - 소비 곡선이다. 이에 대한 옳은 분석만을 <보기>에서 고른 것은? (단, 소득은 소비와 저축을 합한 값이다.)



보기

ㄱ. 청년기에 흑자 인생을 살았다.

ㄴ. 중·장년기에는 소비보다 소득이 더 컸다.

ㄷ. 소득과 소비는 평생 일정한 수준으로 유지되었다.

ㄹ. 중·장년기에 자산을 성공적으로 관리했다면 노년기에 안락한 삶을 누렸을 것이다.

- ① ㄱ, ㄴ                      ② ㄱ, ㄷ                      ③ ㄴ, ㄷ
- ④ ㄴ, ㄹ                      ⑤ ㄷ, ㄹ

15

자산 관리가 필요한 이유로 적절하지 않은 것은?

- ① 삶의 질을 높이기 위해
- ② 안정된 노후를 준비하기 위해
- ③ 일생 동안 소득이 일정하지 않기 때문
- ④ 미래의 불확실한 상황을 대비하기 위해
- ⑤ 금융 기관에서 자금을 쉽게 빌리기 위해

16

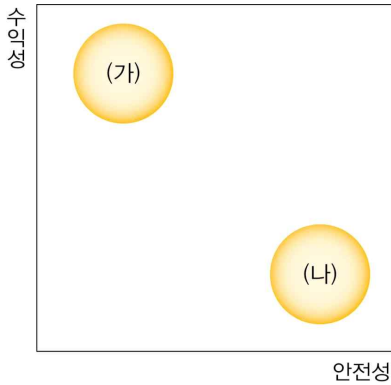
자산 및 신용 관리에 대한 설명으로 옳은 것은?

- ① 예금이나 적금은 수익성이 높은 데 비해 안전성은 낮은 편이다.
- ② 수익성은 쉽고 빠르게 현금으로 바꿀 수 있는 정도를 가리킨다.
- ③ 지속 가능한 경제생활을 하려면 현재의 소득만을 고려하여 자산을 관리해야 한다.
- ④ 신용도가 떨어지면 신용을 이용하지 못하거나 다른 사람보다 높은 이자를 지불해야 한다.
- ⑤ 신용을 잘 관리하면 자신의 소득이나 경제적 능력과 관계없이 원하는 대로 신용 거래를 할 수 있다.



### 17

(가), (나)는 서로 다른 자산 관리 방법이다. 이에 대한 옳은 설명만을 <보기>에서 고른 것은? (단, (가), (나)는 예금과 주식 중 하나이다.)



보기

ㄱ. (가)는 원금 손실을 볼 수 있다.  
 ㄴ. (나)는 위험성이 낮은 상품이다.  
 ㄷ. (가), (나) 모두 실물 자산에 해당한다.  
 ㄹ. (나)는 (가)와 달리 배당금을 기대할 수 있다.

- ① ㄱ, ㄴ      ② ㄱ, ㄷ      ③ ㄴ, ㄷ  
 ④ ㄴ, ㄹ      ⑤ ㄷ, ㄹ

### 18

밑줄 친 '이것'에 대한 설명으로 옳은 것은?

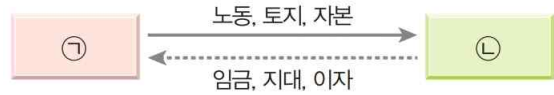
이것은 돈을 빌려 쓰거나 상품을 사용한 뒤 약속한 날짜에 그 대가를 치를 수 있는 능력을 말한다.

- ① 많이 활용할수록 소득이 높아진다.  
 ② 현금으로만 거래가 가능하도록 해 준다.  
 ③ 현재의 소득 내에서 소비할 수 있게 해 준다.  
 ④ 미래의 소득으로 갚아야 하는 부채에 해당한다.  
 ⑤ '이것'의 등급이 낮을수록 빌릴 수 있는 자금이 늘어난다.

### 서술형 문제

### 19

그림은 서로 다른 경제 주체 간의 상호 작용을 나타낸 것이다. 이를 보고 물음에 답하시오.



(1) ㉠, ㉡에 해당하는 경제 주체를 각각 쓰시오.

-----

(2) ㉠, ㉡ 간에 이루어지는 상호 작용의 내용을 서술하시오.

-----

-----

### 20

다음 헌법 조항을 바탕으로 우리나라 경제 체제의 특징을 서술하시오.

제119조 ① 대한민국의 경제 질서는 개인과 기업의 경제상의 자유와 창의를 존중함을 기본으로 한다.  
 ② 국가는 균형 있는 국민 경제의 성장 및 안정과 적정한 소득의 분배를 유지하고, 시장의 지배와 경제력의 남용을 방지하며, 경제 주체 간의 조화를 통한 경제의 민주화를 위하여 경제에 관한 규제와 조정을 할 수 있다.

-----

-----

01

밑줄 친 ㉠에 해당하는 사람만을 <보기>에서 고른 것은?

시장은 상품을 ㉠ 사고자 하는 사람과 팔고자하는 사람이 자발적으로 만나 거래가 이루어지는 장소이다.

조건

- ㄱ. 겨울에 입을 외투를 사려는 A
- ㄴ. 중학교에서 사회를 가르치는 B
- ㄷ. 교향악단의 연주회를 관람하려는 C
- ㄹ. 레스토랑에서 스파게티를 만드는 D

- ① ㄱ, ㄴ
- ② ㄱ, ㄷ
- ③ ㄴ, ㄷ
- ④ ㄴ, ㄹ
- ⑤ ㄷ, ㄹ

02

빈칸에 들어갈 거래의 형태를 네 글자로 쓰시오.

농사를 짓는 반투족은 곡식이 풍부하고, 수렵 생활을 하는 피그미족은 고기가 풍부하다. 밤이 되면 반투족은 피그미족과의 경계 지역에 곡식을 가져다 두고, 피그미족은 곡식을 가져가는 대신 그 자리에 고기를 놓아둔다. 이처럼 반투족과 피그미족은 각각 자신들에게 특화된 곡식과 고기를 서로 맞바꾸는 ( )을/를 한다.

( )

03

다음 교사의 질문에 잘못 대답한 학생은?



- ① 갑: 거래의 효율성을 높입니다.
- ② 을: 상품에 관한 정보를 제공합니다.
- ③ 병: 거래에 드는 시간과 비용을 늘립니다.
- ④ 정: 다양한 상품을 선택할 기회를 줍니다.
- ⑤ 무: 분업을 촉진시켜 생산성을 증대시킵니다.

04

(가), (나) 시장에 대한 설명으로 옳은 것은?

(가) 대형 마트                      (나) 인터넷 쇼핑몰

- ① (가)는 생산 요소가 거래되는 시장이다.
- ② (가)에서는 특정 분야의 상품만을 거래한다.
- ③ (나)는 시공간의 제약과 거래 비용을 줄여 준다.
- ④ (나)에서는 소비자와 판매자가 직접 만나 거래가 이루어진다.
- ⑤ (가), (나)는 모두 거래하는 모습이 눈에 보이지 않는 시장이다.

## 05

수요와 관련된 설명으로 옳지 않은 것은?

- ① 수요는 아직 실현되지 않은 개념이다.
- ② 수요는 어떤 상품을 구매하고자 하는 욕구이다.
- ③ 수요량은 어떤 가격 수준에서 수요자가 사려고 하는 구체적인 수량이다.
- ④ 수요 법칙은 수요량이 증가할수록 가격이 하락하는 현상이다.
- ⑤ 수요 곡선은 상품 가격과 수요량의 관계를 나타낸 그래프이다.

## 06

㉠~㉢에 들어갈 내용을 옳게 연결한 것은?

수요는 수요자가 어떤 상품을 구매하려는 욕구이다. 일반적으로 수요자는 상품 가격이 ( ㉠ )할 때, 수요량을 ( ㉡ ). 따라서 상품 가격과 수요량은 ( ㉢ )의 관계를 갖는데, 이를 수요 법칙이라고 한다.

- |      |     |     |
|------|-----|-----|
| ㉠    | ㉡   | ㉢   |
| ① 상승 | 늘린다 | 비례  |
| ② 상승 | 늘린다 | 반비례 |
| ③ 상승 | 줄인다 | 비례  |
| ④ 하락 | 늘린다 | 반비례 |
| ⑤ 하락 | 줄인다 | 비례  |

## 07

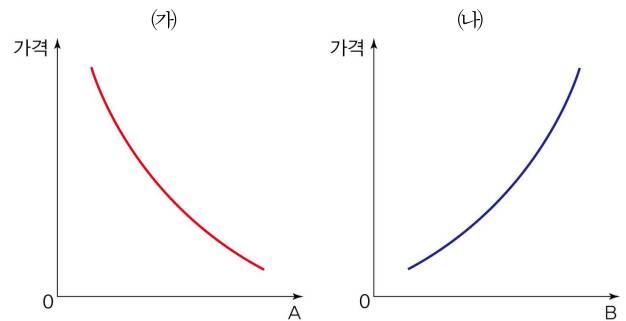
㉣에 대한 설명으로 옳지 않은 것은?

가위의 윗날과 아랫날이 만나 종이를 자르듯 수요와 ( ㉣ )이 동시에 작용해 가격을 결정한다.

- ① 어떤 상품을 판매하고자 하는 욕구이다.
- ② ㉣을 수량으로 표시한 것은 공급량이다.
- ③ ㉣ 곡선은 가격이 하락할 때 왼쪽으로 이동한다.
- ④ ㉣과 수요가 만나는 가격 수준에서 균형 가격이 결정된다.
- ⑤ ㉣ 법칙이란 가격이 상승할 때 공급량이 늘어나는 현상이다.

## 08

(가), (나)에 대한 설명으로 옳은 것은?



- ① (가)는 공급 곡선이다.
- ② (나)는 수요 곡선이다.
- ③ A에는 '공급량'이 들어갈 수 있다.
- ④ B에는 '수요량'이 들어갈 수 있다.
- ⑤ (가)는 수요 법칙, (나)는 공급 법칙을 보여 준다.

09

표는 콜라의 가격과 공급량을 나타낸 것이다. 이에 대한 옳은 설명만을 <보기>에서 고른 것은?

가격(원)	1,000	2,000	3,000	4,000	5,000
공급량(개)	10	20	30	40	50

보기

- ㄱ. 공급 법칙이 만족되고 있다.
- ㄴ. 공급 곡선은 우상향할 것이다.
- ㄷ. 콜라 가격과 공급량은 반비례 관계이다.
- ㄹ. 콜라 가격이 상승하면 공급 곡선은 오른쪽으로 이동할 것이다.

- ① ㄱ, ㄴ                      ② ㄱ, ㄷ                      ③ ㄴ, ㄷ
- ④ ㄴ, ㄹ                      ⑤ ㄷ, ㄹ

10

초과 수요에 대한 옳은 설명만을 <보기>에서 고른 것은?

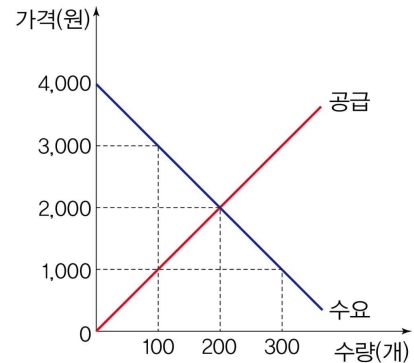
보기

- ㄱ. 수요량이 공급량보다 많은 상태이다.
- ㄴ. 초과 수요가 없어질 때까지 가격이 상승한다.
- ㄷ. 초과 수요가 발생한 가격 수준은 시장 균형 가격 수준보다 높다.
- ㄹ. 초과 수요가 발생한 가격 수준에서의 수요량은 균형 거래량보다 적다.

- ① ㄱ, ㄴ                      ② ㄱ, ㄷ                      ③ ㄴ, ㄷ
- ④ ㄴ, ㄹ                      ⑤ ㄷ, ㄹ

11

그래프에 대한 분석으로 옳지 않은 것은?



- ① 공급자의 판매 수입은 400,000원이다.
- ② 수요 법칙과 공급 법칙이 모두 만족되고 있다.
- ③ 균형 가격에서 수요량과 공급량은 모두 200개이다.
- ④ 가격이 1,000원일 때 200개의 초과 수요가 발생한다.
- ⑤ 가격이 4,000원일 때, 수요자들이 상품을 소비하기 위해 경쟁할 것이다.

12

시장 가격의 결정에 대한 설명으로 옳은 것은?

- ① 한 번 결정된 시장 가격은 변하지 않는다.
- ② 초과 공급이 발생할 경우 시장 가격은 상승한다.
- ③ 초과 수요가 발생할 경우 공급자 간 경쟁이 발생한다.
- ④ 수요량이 최대가 되는 지점에서 시장 가격이 결정된다.
- ⑤ 초과 수요와 초과 공급이 해소되는 지점에서 시장 가격이 결정된다.

### 13

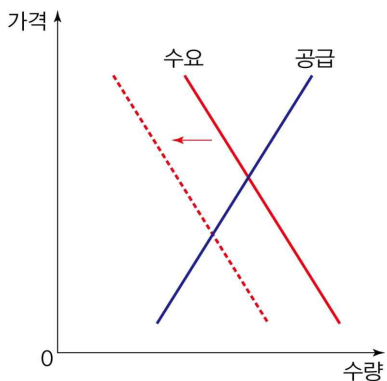
다음 글을 통해 내릴 수 있는 결론으로 가장 적절한 것은?

생산자가 만든 상품은 가격을 지불한 소비자에게 돌아가는데, 가격을 지불했다는 것은 소비로 얻는 만족이 그 가격 이상으로 크다는 뜻이다.

- ① 시장은 분업을 통한 특화를 촉진한다.
- ② 시장 가격은 자원을 효율적으로 배분한다.
- ③ 시장은 소비자에게 다양한 정보를 전달한다.
- ④ 시장 가격은 경제 활동의 신호등 기능을 한다.
- ⑤ 시장 가격은 정부 정책을 효율적으로 달성할 수 있게 한다.

### 14

그림은 X재의 수요·공급 곡선이다. 이러한 변화가 나타날 수 있는 상황으로 가장 적절한 것은?



- ① X재의 가격이 상승하였다.
- ② X재의 생산비가 감소하였다.
- ③ X재 공급자의 수가 감소하였다.
- ④ X재에 대한 선호도가 증가하였다.
- ⑤ X재 보완재의 가격이 상승하였다.

### 15

다음 상황에서 나타날 수 있는 현상으로 가장 적절한 것은?

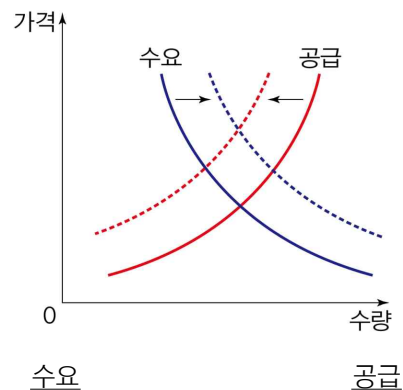
스마트폰 생산 기술의 발달로 인해 스마트폰의 생산 비용이 낮아졌다. 이는 스마트폰 시장, 스마트폰 애플리케이션 시장, \*피쳐폰 시장에 영향을 주었다. 단, 스마트폰과 스마트폰 애플리케이션은 보완재 관계이고, 스마트폰과 피쳐폰은 대체재 관계이다.

\* 피쳐폰: 스마트폰보다 상대적으로 성능이 떨어지지만 가격이 낮은 휴대 전화

- ① 스마트폰 가격은 상승할 것이다.
- ② 피쳐폰의 거래량은 증가할 것이다.
- ③ 스마트폰의 공급은 줄어들 것이다.
- ④ 스마트폰 애플리케이션의 수요는 증가할 것이다.
- ⑤ 피쳐폰과 달리 스마트폰 애플리케이션 가격은 하락할 것이다.

### 16

그림은 밀가루 떡볶이의 수요·공급 곡선이다. 이러한 변화의 요인으로 가장 적절한 것은? (단, 떡볶이와 순대는 대체재 관계이고, 떡볶이와 튀김은 보완재 관계이다.)

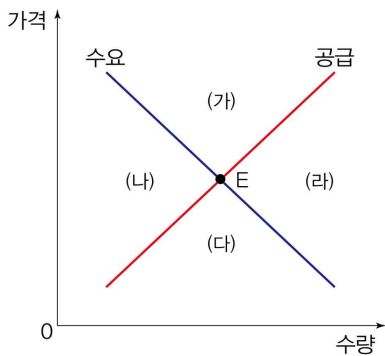


- |              |              |
|--------------|--------------|
| ① 튀김 가격 하락   | 순대 가격 하락     |
| ② 튀김 가격 상승   | 밀가루 가격 하락    |
| ③ 순대 가격 상승   | 밀가루 가격 상승    |
| ④ 떡볶이 선호도 상승 | 튀김 가격 하락     |
| ⑤ 학생들의 용돈 감소 | 떡볶이 공급자 수 증가 |

17

다음 현상들이 동시에 발생한 경우, 햄버거 시장에서 현재의 균형점 E가 이동할 방향으로 가장 적절한 것은?

- 햄버거를 만들 때 들어가는 식재료 가격이 하락하였다.
- 많은 사람들이 햄버거와 함께 먹는 음료의 가격이 하락하였다.



- ① (가)                      ② (나)                      ③ (다)  
 ④ (라)                      ⑤ 변동 없음

18

(가), (나)가 전기차 시장에 미치는 영향으로 적절하지 않은 것은? (단, 전기차 시장에서는 수요 및 공급 법칙이 적용된다고 가정한다.)

- (가) 최근 휘발유차 대신 전기차를 선택하는 사람이 늘고 있다.
- (나) 전기차를 연구·개발하는 자동차 회사들이 늘어나고 있다.

- ① (가)의 영향으로 전기차 가격이 상승할 것이다.  
 ② (가)로 인해 전기차 수요 곡선은 오른쪽으로 이동할 것이다.  
 ③ (나)의 영향으로 전기차 공급은 늘어날 것이다.  
 ④ (나)의 영향으로 전기차 시장에 일시적인 초과 수요가 발생할 것이다.  
 ⑤ (가)와 (나)의 영향으로 전기차 거래량은 증가할 것이다.

서술형 문제

19

(가)~(다)를 보고 물음에 답하십시오.

- (가) 의료 시장
- (나) 농수산물 시장
- (다) 구인·구직 사이트

(1) (가)~(다)에서 거래되는 대상을 각각 쓰시오.

-----

(2) (가)~(다)를 생산물 시장과 생산 요소 시장으로 구분하고, 그 의미를 서술하십시오.

-----  
 -----

20

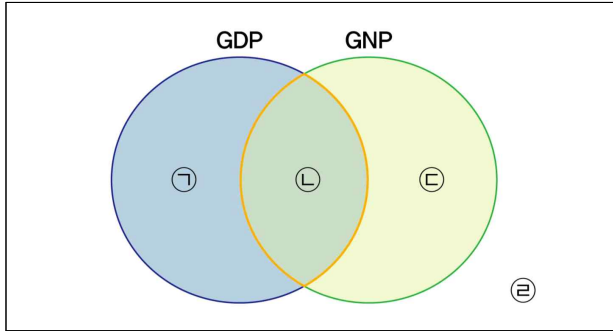
다음 상황에서 우리나라의 바나나 가격에 나타날 변화를 예상하여 서술하십시오.

식품업계에서 바나나 맛 열풍이 불어 과자, 주류, 아이스크림에까지 그 인기가 확산되고 있다. 그러나 바나나 공급은 원활하지 않은 상황이다. 우리나라에서는 대부분의 바나나를 필리핀에서 수입하고 있는데, 필리핀에서 심각한 병충해가 발생하여 바나나 생산량이 줄고 있기 때문이다.

-----  
 -----

01

그림은 우리나라의 국내 총생산(GDP)과 국민 총생산(GNP)을 나타낸 것이다. ㉠~㉣의 사례를 잘못 연결한 것은?



- ① ㉠ - 일본인이 한국 방송에 출연해 받은 출연료
- ② ㉠ - 미국 기업이 한국 공장에서 생산한 생수의 가치
- ③ ㉡ - 한국인 대학생이 한국에 있는 미국 커피 회사에서 아르바이트를 하고 받은 임금
- ④ ㉢ - 한국 반도체 회사가 베트남 공장에서 생산한 반도체의 가치
- ⑤ ㉣ - 한국에 있는 독일 자동차 회사에 취직한 이탈리아인이 생산 활동을 하고 받은 임금

02

다음 사례에서 A국의 국내 총생산을 구하시오. (단, 모든 생산 활동은 2019년 한 해 동안 A국 안에서 이루어졌다고 가정한다.)

A국에는 갑, 을, 병 세 사람만 살고 있다. 갑은 농사를 지어 10가마의 쌀을 생산했고, 을은 갑에게 5가마의 쌀을 구입하여 400kg의 떡을 생산했다. 그리고 병은 을에게 200kg의 떡을 구입하여 1,000그릇의 떡국을 생산했다. 이때, 쌀 1가마의 가격은 20만 원, 떡 1kg의 가격은 1만 원, 떡국 1그릇의 가격은 5천 원이다.

( )

03

다음 사례에서 지적하고 있는 국내 총생산의 한계로 가장 적절한 것은?

국내 총생산(GDP)은 오염을 발생시키는 생산 활동은 계산에 포함하지만, 오염으로 인한 국민의 삶의 질 저하는 포함하지 않는다.

- ① 빈부 격차 정도를 파악하기 어렵다.
- ② 시장에서 거래되는 상품만 포함된다.
- ③ 중간 생산물의 가치를 측정하지 못한다.
- ④ 삶의 질 수준을 정확하게 반영하지 못한다.
- ⑤ 한 나라의 경제 활동 규모를 파악하기 어렵다.

04

다음 사례에 대한 옳은 분석을 <보기>에서 고른 것은?

C는 올해 국내에서 활동하는 목수 A에게 의자를 구입했다. 의자의 가격은 10,000원이다. 이 의자 생산에 사용된 목재는 A가 벌목업자 B에게 3,000원에 산 것이다. B는 나무를 베어 목재 형태로 가공하여 A에게 팔았다.

보기

- ㉠. 목재의 가치는 국내 총생산에 포함된다.
- ㉡. 새롭게 발생한 국내 총생산은 13,000원이다.
- ㉢. A는 7,000원의 부가 가치를 발생시켰다.
- ㉣. A의 국적이 외국이더라도 의자의 가치는 국내 총생산에 포함된다.

- ① ㉠, ㉡
- ② ㉠, ㉢
- ③ ㉡, ㉣
- ④ ㉡, ㉣
- ⑤ ㉢, ㉣



05

경제 성장에 대한 옳은 설명만을 <보기>에서 고른 것은?

보기

ㄱ. 국내 총생산(GDP)의 증가를 가져온다.  
 ㄴ. 경제 성장 정도와 삶의 질 수준은 항상 비례한다.  
 ㄷ. 경제 성장이 이루어지면 일반적으로 소득 수준도 높아진다.  
 ㄹ. 경제 성장률이 높아질수록 빈부 격차가 줄어드는 경향이 있다.

- ① ㄱ, ㄴ                      ② ㄱ, ㄷ                      ③ ㄴ, ㄷ  
 ④ ㄴ, ㄹ                      ⑤ ㄷ, ㄹ

06

(가), (나)에 들어갈 개념을 옳게 연결한 것은?

국내 총생산은 대체로 매년 증가하지만, 때때로 감소하기도 한다. 국내 총생산이 증가하면 소득이 증가하고 개인의 소비와 기업의 투자가 증가한다. 반대로 국내 총생산이 감소하면 소득이 감소하여 개인의 소비와 기업의 투자도 감소한다. 이처럼 한 국가의 경제 상황이 좋아지는 호황과 나빠지는 불황을 반복하는 현상을 ( ㉠ ) (이)라고 한다. ( ㉠ ) 현상은 비교적 단기적으로 나타나며, 장기적으로는 국내 총생산이 대체로 상승하는데, 이를 ( ㉡ ) (이)라고 한다.

- |         |       |
|---------|-------|
| (가)     | (나)   |
| ① 경제 발전 | 경제 성장 |
| ② 경제 성장 | 경제 발전 |
| ③ 경제 성장 | 경기 변동 |
| ④ 경기 변동 | 경제 성장 |
| ⑤ 경기 변동 | 경제 순환 |

07

표는 A국의 국내 총생산(GDP)을 나타낸 것이다. A국의 2020년 경제 성장률로 옳은 것은?

구분	2019년	2020년
명목 국내 총생산(백 달러)	100	300
실질 국내 총생산(백 달러)	100	200

- ① 0%                      ② 10%                      ③ 50%  
 ④ 100%                      ⑤ 200%

08

지속적인 물가 상승에 대한 각 주체들의 대응 방안으로 가장 적절한 것은?

- ① 한국은행 - 금리를 조절하여 통화량을 늘린다.  
 ② 근로자 - 물가 상승을 초과하는 수준의 임금 인상을 요구한다.  
 ③ 정부 - 세금을 적게 걷고 공공사업 등을 늘려 총수요를 증가시킨다.  
 ④ 기업가 - 기술 개발 및 연구에 대한 투자를 확대하여 생산비를 줄인다.  
 ⑤ 소비자 - 물건 가격이 더 오르기 전에 필요한 물건들을 미리 구입해 놓는다.

09

물가에 대한 설명으로 옳지 않은 것은?

- ① 경제가 성장하면 일반적으로 물가도 상승한다.
- ② 경제 전체의 총수요가 총공급보다 많으면 물가가 상승한다.
- ③ 물가가 지속적으로 하락하는 현상을 인플레이션이라고 한다.
- ④ 물가 변동에 따라 경제 주체 간의 경제적 이익과 손해가 엇갈린다.
- ⑤ 물가는 여러 상품의 가격을 종합하여 평균적으로 나타낸 수치이다.

10

물가가 지속적으로 상승할 때 상대적으로 유리한 사람만을 <보기>에서 고른 것은?

보기

- ㄱ. 수출업자
- ㄴ. 임금 근로자
- ㄷ. 돈을 빌린 사람
- ㄹ. 실물 자산 보유자

- ① ㄱ, ㄴ            ② ㄱ, ㄷ            ③ ㄴ, ㄷ
- ④ ㄴ, ㄹ            ⑤ ㄷ, ㄹ

11

표는 A국의 물가 지수를 나타낸 것이다. 이에 대한 옳은 분석만을 <보기>에서 고른 것은?

2018년	90
2019년	100
2020년	110

\*기준 연도: 2019년

보기

- ㄱ. 2018년부터 2020년까지 A국에 존재하는 모든 물건의 가격이 상승하였다.
- ㄴ. 2018년에 비해 2019년의 물가가 10% 상승하였다.
- ㄷ. 2020년에 비해 2019년의 화폐 가치가 더 높다.
- ㄹ. 2018년부터 2020년까지 A국에서 인플레이션이 발생했다면 위와 같은 물가 지수 변화가 나타날 수 있다.

- ① ㄱ, ㄴ            ② ㄱ, ㄷ            ③ ㄴ, ㄷ
- ④ ㄴ, ㄹ            ⑤ ㄷ, ㄹ

12

㉠에 해당하는 실업의 유형에 대한 설명으로 옳은 것은?

세계 경제 포럼(WEF)은 「일자리의 미래」 보고서에서 “인공 지능, 로봇 기술, 생명 과학 등이 주도하는 4차 산업 혁명으로 인해 ㉠ 상당수 기존 직업이 사라질 것”이라고 예측하였다.

- ① 마찰적 실업에 해당한다.
- ② 급격한 경기 변동으로 인해 나타난다.
- ③ 개인적 측면에서는 대비가 불가능하다.
- ④ 일반적으로 자발적인 의사에 의해 나타난다.
- ⑤ 정부는 인력 개발과 체계적인 직업 교육 시행을 대책으로 제시할 수 있다.

13

표는 A국의 2020년 고용 통계이다. 이에 대한 옳은 분석만을 <보기>에서 있는 대로 고른 것은?

15세 이상 인구	1,200명
취업자 수	950명
실업자 수	50명
㉠	200명

보기

- ㉠. 실업률은 5%이다.
- ㉡. 경제 활동 인구는 950명이다.
- ㉢. 노동 가능 인구는 1,000명이다.
- ㉣. 15세 이상 인구 중 일자리를 구하기를 포기한 사람은 ㉠에 포함된다.

- ① ㉠, ㉡      ② ㉠, ㉢      ③ ㉡, ㉣
- ④ ㉠, ㉢, ㉣      ⑤ ㉡, ㉣, ㉣

14

다음과 같은 현상이 발생하게 된 배경으로 적절하지 않은 것은?

전 세계 무역액이 1965년 3,890억 달러에서 2015년 33조 2,070억 달러로 약 85배 늘어났다.

- ① 세계화와 개방화 추세
- ② 국제 거래의 대상 확대
- ③ 국가 간 무역 마찰 심화
- ④ 교통 및 정보 통신 기술의 발달
- ⑤ 자유 무역 협정(FTA)의 체결 증가

15

(가)~(마)가 외환 시장에 미칠 영향으로 가장 적절한 것은?

- (가) 우리나라 기업이 베트남에서 운동화를 수입하였다.
- (나) 우리나라로 여행을 오는 외국인 관광객의 수가 늘어났다.
- (다) 외국으로 어학연수를 가는 우리나라 학생의 수가 줄어들었다.
- (라) 우리나라 기업이 외국에 수출하는 자동차 대수가 줄어들었다.
- (마) 우리나라 기업이 중국에서 현지 기업이 새로 시작하는 사업에 투자하였다.

- ① (가)는 외화의 수요가 감소하는 요인이다.
- ② (나)는 외화의 공급이 감소하는 요인이다.
- ③ (다)는 외화의 수요가 감소하는 요인이다.
- ④ (라)는 외화의 공급이 증가하는 요인이다.
- ⑤ (마)는 외화의 공급이 증가하는 요인이다.

16

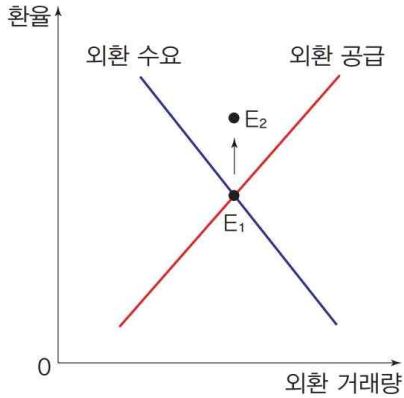
밑줄 친 ㉠의 사례로 적절하지 않은 것은?

우리나라를 비롯하여 많은 국가가 국제 거래를 하는 까닭은 거래를 통해 서로 이익을 얻을 수 있기 때문이다. 국제 거래를 통한 이익은 각국이 처한 ㉠ 생산 여건의 차이에서 비롯된다.

- ① 자연환경
- ② 기술 수준
- ③ 노동력의 질
- ④ 희소성의 발생 여부
- ⑤ 천연 자원의 보유 상태

### 17

외환 시장의 균형이  $E_1$ 에서  $E_2$ 로 변했을 때, 그 요인을 옳게 연결한 것은?



외환 수요 요인

외환 공급 요인

- |                |              |
|----------------|--------------|
| ① 수입 증가        | 해외 취업자 증가    |
| ② 수출 증가        | 내국인 해외 투자 증가 |
| ③ 외채 상환 증가     | 수출 감소        |
| ④ 외국인 국내 투자 증가 | 수입 감소        |
| ⑤ 내국인 해외여행 감소  | 외국인 국내 여행 증가 |

### 18

표는 환율의 변동을 예상한 것이다. 이러한 상황에서 가장 합리적으로 행동한 사람은?

구분	달러(미국)	위안(중국)
현재	1달러 = 1,000원	1위안 = 200원
한 달 후	1달러 = 1,200원	1위안 = 150원

- ① 해외 직구로 사고 싶은 미국 제품의 구매를 미루었다.
- ② 미국으로의 수출이 늘어날 것에 대비해서 제품 생산을 서둘렀다.
- ③ 미국에서 수입한 목재의 대금을 한 달 후에 지급하기로 하였다.
- ④ 한 달 일정의 중국 여행을 위해서 필요한 모든 경비를 즉시 위안으로 바꾸었다.
- ⑤ 중국에서 공부하는 아들에게 필요한 유학 자금을 지금 모두 위안으로 바꾸어 송금하였다.

## 서술형 문제

### 19

밑줄 친 ㉠으로 인해 발생하는 실업률의 한계를 서술하시오.

한 나라의 경제 활동 인구 중 실업자가 차지하는 비율을 실업률이라고 한다. 그런데 ㉠ 15세 이상의 노동 가능 인구 중 구직을 포기한 사람을 뜻하는 구직 단념자는 실업자에 포함되지 않는다.

### 20

㉡에 들어갈 교사의 대답을 ‘특화’를 포함하여 서술하시오.

학생: 선생님, 우리나라에서 생산되지 않은 상품을 외국에서 수입하는 것은 이해가 되는데요. 우리가 만들 수 있는 상품도 수입하는 이유는 무엇인가요?

교사: \_\_\_\_\_ (가) \_\_\_\_\_

01

국제 사회에 대한 설명으로 옳은 것은?

- ① 인격을 지닌 독립된 개인을 기본 단위로 구성된다.
- ② 중앙 정부가 존재하지 않기 때문에 국가 간 분쟁 해결이 쉽지 않다.
- ③ 국제 관계의 다양화와 의존성 심화는 국제기구의 필요성을 감소시킨다.
- ④ 국제법은 형식상으로도 존재할 뿐 개별 국가의 행위를 제한할 수는 없다.
- ⑤ 개별 국가가 가진 국력과 관계없이 각국은 국제 사회에서 평등한 영향력을 행사한다.

02

다음 글을 바탕으로 알 수 있는 국제 사회의 특성으로 가장 적절한 것은?

국제 연합(UN) 안전 보장 이사회는 국제 평화와 안전을 유지하기 위해 필요한 행동을 취할 책임과 권한을 가진 국제 연합의 핵심 기관이다. 안전 보장 이사회는 5개의 상임 이사국과 10개의 비상임 이사국으로 구성된다. 국제 연합의 중요한 결의안은 상임 이사국이 모두 찬성해야 의결되며, 상임 이사국 중 한 나라라도 거부권을 행사하면 무산된다.

- ① 각국은 원칙적으로 평등한 주권을 행사한다.
- ② 국제 사회 내의 분쟁을 해결할 강제성을 가진 중앙 정부가 존재하지 않는다.
- ③ 힘의 논리에 의해 실제로는 국력에 따라 주권을 행사하는 정도에 차이가 발생한다.
- ④ 자국의 이익을 최우선으로 추구하고, 이해관계에 따라 국가 간의 관계가 달라진다.
- ⑤ 국제법을 준수하고 국제 여론을 존중함으로써 국제 사회의 질서를 유지하려고 노력한다.

03

다음 글에서 설명하는 국제기구로 옳은 것은?

제2차 세계 대전 이후 전쟁을 방지하고 국제 평화를 유지하기 위해 만들어진 국제기구이다. 주요 기관에는 총회, 안전 보장 이사회, 국제 사법 재판소 등이 있다.

- ① 그린피스
- ② 국제 연합(UN)
- ③ 유럽 연합(EU)
- ④ 세이브 더 칠드런
- ⑤ 국제 사면 위원회

04

(가), (나)에 해당하는 국제 사회의 행위 주체를 옳게 연결한 것은?

(가) 독립적인 지위를 가지고 외교 활동을 하며 국제 기구에 가입하여 회원으로서 공식적인 활동을 한다.  
 (나) 한 나라에 본사를 두고, 해외 여러 국가에 자회사와 공장을 설립하여 국제적 규모로 상품을 생산하고 판매한다.

- |   | (가)    |  | (나)    |
|---|--------|--|--------|
| ① | 국가     |  | 국제기구   |
| ② | 국가     |  | 다국적 기업 |
| ③ | 국제기구   |  | 다국적 기업 |
| ④ | 국제기구   |  | 국가     |
| ⑤ | 다국적 기업 |  | 국가     |

## 05

다국적 기업에 대한 설명으로 옳지 않은 것은?

- ① 국제적 규모로 상품을 생산하고 판매한다.
- ② 세계화의 심화에 따라 경제력이 점점 더 커지고 있다.
- ③ 일부 다국적 기업의 규모는 개별 국가의 경제 규모를 넘어선다.
- ④ 환경 오염, 인권 침해 등의 문제를 해결하는 것을 주요 목적으로 한다.
- ⑤ 경제적 측면뿐만 아니라 정치적·문화적 측면에서도 영향력을 행사한다.

## 06

국제 사회의 행위 주체로 적절하지 않은 것은?

- ① 국제기구에 회원국으로 가입하여 활동하는 국가
- ② 전 세계를 상대로 경제 활동을 하는 다국적 기업
- ③ 정치외교학을 전공하며 열심히 공부하고 있는 대학생
- ④ 지진 피해를 입은 지역을 방문해 사람들을 구호하는 국제 비정부 기구
- ⑤ 분쟁 지역을 방문하여 당사국의 입장을 조율해 보려는 국제 연합(UN) 사무총장

## 07

밑줄 친 ㉠의 내용으로 적절하지 않은 것은?

제2차 세계 대전 이후 국제 사회에서는 이념 경쟁이 치열하게 나타났지만, 1990년대에 들어서는 그동안 이념 경쟁에 가려져 있던 새로운 갈등 요소들이 나타나는 가운데 ㉠ 세계화 시대로 접어들게 되었다.

- ① 각 국가의 이해관계와 가치 등이 다원화되고 있다.
- ② 다양한 영역에서 국가 간 상호 의존성이 증대되고 있다.
- ③ 소련 중심의 사회주의 이념이 전 세계적으로 영향력을 행사하게 되었다.
- ④ 국가 간 경쟁이 심화되어 다국적 기업의 투자 유치 등을 위해 노력하게 되었다.
- ⑤ 국가뿐 아니라 국제기구, 다국적 기업 등 여러 행위 주체 사이의 이해관계가 다양해졌다.

## 08

다음 글에 나타난 국제 사회의 갈등 유형으로 가장 적절한 것은?

카스피해에 매장되어 있는 석유, 천연가스 등의 개발을 둘러싸고 연안국인 러시아, 카자흐스탄, 투르크메니스탄, 이란, 아제르바이잔이 대립하고 있다.

- ① 환경 문제를 둘러싼 갈등
- ② 영토와 자원을 둘러싼 분쟁
- ③ 민족, 종교, 인종 차이로 인한 갈등
- ④ 세계 시장을 차지하기 위한 다국적 기업 간의 경쟁
- ⑤ 정보 사회의 발달과 함께 사이버 공간에서 이루어지는 국가 간 분쟁

09

㉠에 들어갈 용어로 적절하지 않은 것은?

국제 사회에서는 여러 국가 간에 갈등이나 분쟁이 발생할 경우, 이를 해결하는 것이 쉽지 않다. 하지만 ( ㉠ ) 등이 국가들의 행위를 어느 정도 제약하기 때문에 국제 사회의 질서가 유지될 수 있다.

- ① 국제법
- ② 국제기구
- ③ 세계 여론
- ④ 세계 정부
- ⑤ 국제 비정부 기구

10

다음 문제들의 공통적인 해결 방안으로 가장 적절한 것은?

- 핵 확산
- 환경 오염
- 국제 사이버 범죄

- ① 강대국의 힘에 의존한다.
- ② 자국의 이익만 고려한다.
- ③ 무력 사용을 우선으로 한다.
- ④ 국가 간 상호 의존을 줄인다.
- ⑤ 국가 간 협력 방안을 마련한다.

11

㉠에 들어갈 용어에 대한 설명으로 옳은 것은?

국제 사회에서 각국은 ( ㉠ )을/를 통해 공존을 추구한다. 우리나라 역시 국가 안전 보장, 평화 통일, 경제 발전 등 우리나라의 정치적 목적이나 이익을 평화적으로 실현하는 것은 물론 국제 사회 전체의 공동 문제를 해결하기 위해 활발한 ( ㉠ ) 활동을 펼치고 있다.

- ① 협상보다는 무력 사용을 우선적으로 고려한다.
- ② 전쟁을 통해 자국의 이익을 실현하려는 활동이다.
- ③ 국가 원수나 외교관의 공식적인 활동만 인정된다.
- ④ 시민 단체의 활동과 국가의 대외적 위상은 관계가 없다.
- ⑤ 예술, 문화, 체육 등 다양한 분야에서 이루어질 수 있다.

12

다음 글을 읽고 설명한 내용으로 옳은 것은?

세계 여러 나라들은 환경 오염을 줄이고 삶의 질을 높이기 위한 대책을 마련하기 시작했다. 이러한 노력으로 1992년 6월 브라질 리우 환경 회의에서 지구 온난화에 따른 기후 변화 현상을 막기 위한 「기후 변화 협약」이 채택되었다. 「기후 변화 협약」의 정식 명칭은 「기후 변화에 관한 유엔 기본 협약」이다. 회의 참가국 178개국 중 154개국이 서명하였으며, 1994년 3월 21일에 공식 발효되었다. 우리나라는 1993년 12월에 47번째 가입 국가가 되었다.

- ① 민간단체들이 주도하여 기후 변화 협약이 채택되었다.
- ② 기후 변화 협약은 조약이 아니라는 점에서 한계가 있다.
- ③ 여러 국가들이 자국의 이익 실현과는 관계없이 협약에 참여하였다.
- ④ 국제기구와는 무관하게 개별 국가들의 노력이 결실을 맺은 협약이다.
- ⑤ 협약에 가입함으로써 우리나라의 대외적 위상이 향상되었다고 볼 수 있다.



### 13

밑줄 친 ㉠~㉣에 대한 설명으로 옳은 것은?

㉠ 반크는 한국에 대해 알고 싶어 하는 사람들에게 이메일을 통해 정보를 알려 주는 사이버 관광 가이드이자 외교 사절단이다. 특히 ㉡ 일본해의 동해 표기를 위한 항의 서한 및 시정 요구 메일을 보내는 등 ㉢ 우리나라에 관한 역사 왜곡이나 잘못 기재되어 있는 자료를 바로잡는 활동을 전개하고 있다.

- ① ㉠ - 정부 간 국제기구에 해당한다.
- ② ㉡ - 일본은 세계 지도의 일본해 단독 표기를 주장하고 있다.
- ③ ㉢ - 시민 사회와 개인은 이러한 문제를 해결하는데 기여할 방법이 없다.
- ④ ㉣ - 과거사에 대한 역사 왜곡은 정부 차원에서 대응할 가치가 없는 문제이다.
- ⑤ ㉣ - 우리나라가 직면한 역사 왜곡 문제와 연관되어 있는 국가는 국제 사회에서 일본이 유일하다.

### 14

㉠에 대한 설명으로 옳지 않은 것은?

( ㉠ )은/는 고려 시대에 만들어진 우리의 문화재로, 세계에서 가장 오래된 금속 활자본으로 인정받고 있다.

- ① 『직지심체요절』이다.
- ② 현재 프랑스 파리 국립 도서관에서 보관하고 있다.
- ③ 우리 정부가 프랑스 정부에 돌려줄 것을 요구하고 있다.
- ④ 우리나라가 프랑스와 국가 간 갈등을 빚는 원인이 되고 있다.
- ⑤ 프랑스 정부가 합법적으로 입수한 것이므로 돌려주지 않아도 된다.

[15~16] 다음 글을 읽고 물음에 답하시오.

중국은 중국의 국경 안에서 전개된 모든 역사를 중국의 역사로 편입하려는 연구인 ‘동북 공정’을 실시하고 있다. 중국은 이를 통해 고조선, 고구려, 발해의 역사까지도 고대 중국 지방 정권의 일부로 편입하고자 한다.

### 15

윗글에서 중국이 동북 공정을 실시하는 목적으로 가장 적절한 것은?

- ① 주변국과 상호 의존 및 협력을 강화하기 위해
- ② 우리나라에 대해 관심을 갖고 우리의 역사를 존중하기 위해
- ③ 우리나라와의 분쟁을 줄이고 원만한 외교적 교류를 하기 위해
- ④ 소수 민족을 통제하고, 만주 지역에서의 영향력을 강화하기 위해
- ⑤ 우리나라와 함께 역사 연구를 진행하면서 균형적 시각을 지니기 위해

### 16

윗글에 나타난 중국의 움직임에 대해 우리나라가 취해야 할 자세로 적절하지 않은 것은?

- ① 우리의 역사와 영토를 지키려는 자세를 가져야 한다.
- ② 체계적인 고대사 연구를 통해 대응 논리를 마련해야 한다.
- ③ 과거에 대한 왜곡이므로 오늘날 우리가 대응할 필요는 없다.
- ④ 중국의 역사 왜곡 문제에 대해 지속적인 관심을 가져야 한다.
- ⑤ 중국이 이러한 연구를 추진하고 있는 숨은 의도를 널리 알려야 한다.

17

일본의 독도 영유권 주장에 대한 대응 방안으로 적절하지 않은 것은?

- ① 독도가 우리 영토임을 뒷받침할 수 있는 객관적 근거를 정리한다.
- ② 일본 정부에 독도 영유권 주장을 철회할 것을 공식적으로 촉구한다.
- ③ 역사적 자료를 통해 독도가 우리나라의 영토임을 국제 사회에 알린다.
- ④ 독도 영유권 분쟁이 더 오래 지속될 경우에는 국제 사법 재판소의 판단을 받는다.
- ⑤ 독도는 우리나라 행정 구역에 속하며, 우리 국민이 거주하고 우리 경찰이 경비하고 있음을 분명히 한다.

18

밑줄 친 ㉠의 방법으로 적절하지 않은 것은?

우리나라와 주변국 간에 발생하는 갈등은 정부의 노력만으로 해결하기가 쉽지 않다. 따라서 대학과 연구 기관, 시민 단체, 개인 등 ㉠ 학계와 시민 사회에서도 적극적으로 노력해야 한다.

- ① 갈등 해결 과정에 지속적인 관심을 가지고 적극적으로 참여한다.
- ② 갈등 상황이 오래 지속되면 군사력 사용을 우선적으로 주장한다.
- ③ 국가 간 갈등을 평화적으로 해결하기 위해 민간 외교 활동을 펼친다.
- ④ 다양한 캠페인 활동과 홍보를 통해 국가 간 갈등을 국민들에게 정확하게 알린다.
- ⑤ 갈등 발생 분야의 학자들이 국가 간 공동 연구를 통해 갈등 상황의 사실 관계를 밝힌다.

서술형 문제

19

밑줄 친 ㉠을 통해 알 수 있는 국제 사회의 특징을 서술하시오.

「교토 의정서」는 온실 가스 배출량을 줄이도록 합의한 국제 협약이다. 2005년 2월 공식 발효되면서 기후 변화에 대한 대표적인 국제 규약으로 자리 잡았으나, 개발 도상국의 대표 주자인 ㉠ 중국이 온실 가스 감축 의무에서 제외되고 미국과 일본 등 선진국들이 자국 산업 보호를 이유로 이탈하면서 반쪽짜리 규약이라는 한계를 갖게 되었다.

20

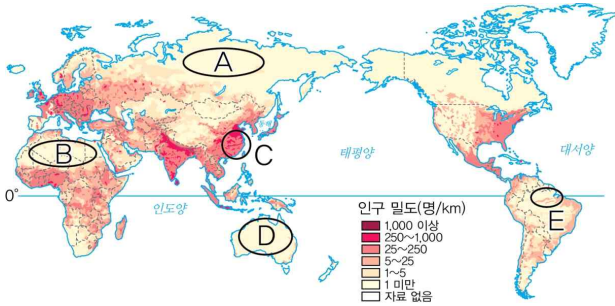
다음 글을 읽고 물음에 답하시오.

한 국가가 국제 사회에서 자국의 이익을 평화적으로 달성하기 위해 수행하는 모든 행위를 ( ㉠ ) (이)라고 한다.

(1) ㉠에 들어갈 용어를 쓰시오.

(2) ㉠의 목적을 두 가지 이상 서술하시오.

[01~02] 지도는 세계의 인구 밀도를 나타낸 것이다. 이를 보고, 물음에 답하시오.



01

(가), (나)에서 설명하는 지역을 지도의 A~E에서 고른 것은?

(가) 벼농사가 활발하게 이루어져 쌀 생산량이 많은 곳이다.  
 (나) 건조 기후 지역에서 오아시스 농업과 유목 생활이 이루어지는 곳이다.

- |     |     |     |     |
|-----|-----|-----|-----|
| (가) | (나) | (가) | (나) |
| ① A | E   | ② B | A   |
| ③ C | B   | ④ C | E   |
| ⑤ E | B   |     |     |

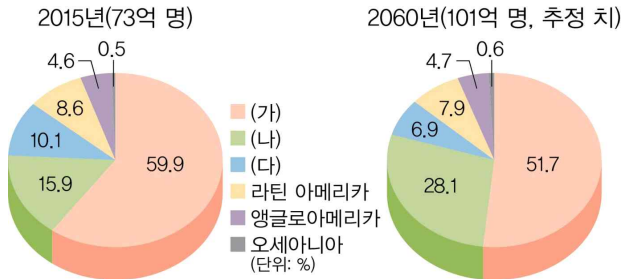
02

A~E 지역의 인구 분포에 대한 설명으로 옳은 것은?

- ① A - 인간 거주에 불리한 열대 기후 지역이다.
- ② B - 벼농사 지역으로 인구 밀도가 높다.
- ③ C - 잦은 내전으로 인구 유출이 많은 지역이다.
- ④ D - 인간 거주에 불리한 한대 기후 지역이다.
- ⑤ E - 저지대보다 고산 기후가 나타나는 지역을 중심으로 인구 밀도가 높다.

03

그래프는 대륙별 인구 비중을 나타낸 것이다. (가)~(다) 대륙으로 옳은 것은?



- |        |      |      |
|--------|------|------|
| (가)    | (나)  | (다)  |
| ① 아시아  | 유럽   | 아프리카 |
| ② 아시아  | 아프리카 | 유럽   |
| ③ 아프리카 | 유럽   | 아시아  |
| ④ 아프리카 | 아시아  | 유럽   |
| ⑤ 유럽   | 아시아  | 아프리카 |

04

㉠, ㉡에 들어갈 알맞은 말을 각각 쓰시오.

동아시아와 남아시아 벼농사 지역과 서부 유럽, 미국 북동부 연안 지역은 모두 인구 ( ㉠ ) 지역이며, 사하라 사막과 아마존 열대 우림, 높은 산지 지역과 기온이 낮은 북극해 주변 지역은 모두 인구 ( ㉡ ) 지역이다.

㉠: (                      ), ㉡: (                      )

05

지도를 보고 우리나라의 지역별 인구 분포 특성에 대한 옳은 설명만을 <보기>에서 고른 것은?



보기

ㄱ. 경상남도 해안 지역은 인구 밀도가 낮다.  
 ㄴ. 전라남도 해안 지역은 인구 밀도가 낮다.  
 ㄷ. 태백산맥 일대에는 높은 인구 밀도가 나타난다.  
 ㄹ. 수도권은 서울을 중심으로 많은 인구가 집중되어 있다.

- ① ㄱ, ㄴ      ② ㄱ, ㄷ      ③ ㄴ, ㄷ  
 ④ ㄴ, ㄹ      ⑤ ㄷ, ㄹ

06

우리나라 인구 분포에 대한 설명으로 옳지 않은 것은?

- ① 북동부 지역보다 남서부 지역의 인구 밀도가 높다.  
 ② 현재 서울을 중심으로 하는 수도권 지역에 전체 인구의 약 절반이 살고 있다.  
 ③ 산업화 이전에는 인구 분포가 기후와 지형 등 자연적 요인의 영향을 크게 받았다.  
 ④ 태백산맥과 소백산맥 일대의 산간 지역은 인구가 감소하거나 정체되어 인구 밀도가 낮다.  
 ⑤ 2000년대 이후 산업화 과정과 함께 이촌 향도 현상에 의해 도시의 인구 밀도가 높아졌다.

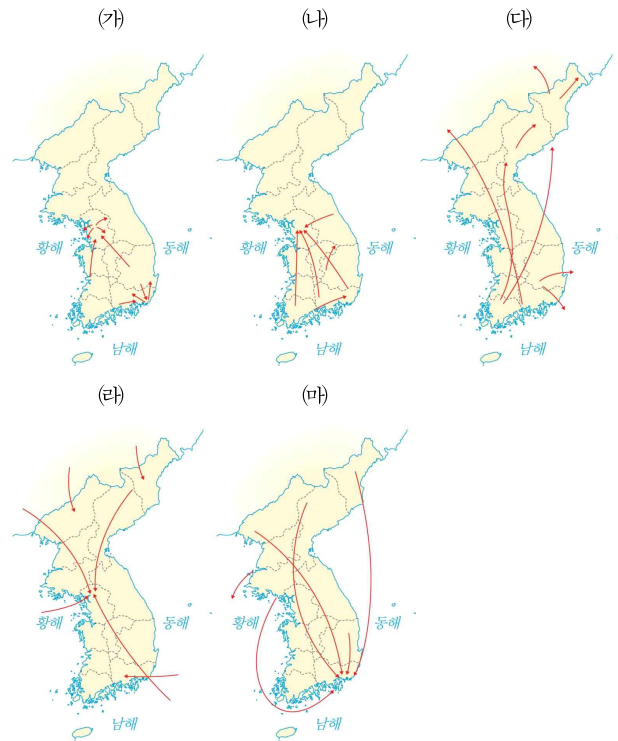
07

인구 배출 요인과 흡인 요인을 바르게 연결한 것은?

배출 요인	흡인 요인
① 자연재해	풍부한 일자리
② 자연재해	의료 시설의 부족
③ 정치적 박해	자연재해
④ 쾌적한 주거 환경	정치적 불안정
⑤ 의료 시설의 부족	정치적 불안정

08

(가)~(마)를 시기 순으로 바르게 나열한 것은?



- ① (다) - (나) - (가) - (라) - (마)  
 ② (다) - (라) - (나) - (마) - (가)  
 ③ (다) - (라) - (마) - (나) - (가)  
 ④ (마) - (가) - (라) - (나) - (다)  
 ⑤ (마) - (라) - (다) - (나) - (가)

### 09

(가), (나) 인구 이동에 대한 옳은 설명만을 <보기>에서 고른 것은?

- (가) 영화 『국제시장』 속에서 주인공 덕수는 가족의 생계를 책임지기 위해서 독일의 광부 인력 모집 공고에 지원하여 독일로 떠난다.
- (나) 영화 『방가? 방가!』의 배경인 경기도 안산시 원곡동은 대규모 산업 단지가 조성되어 많은 외국인 노동자들이 유입된 지역이다.

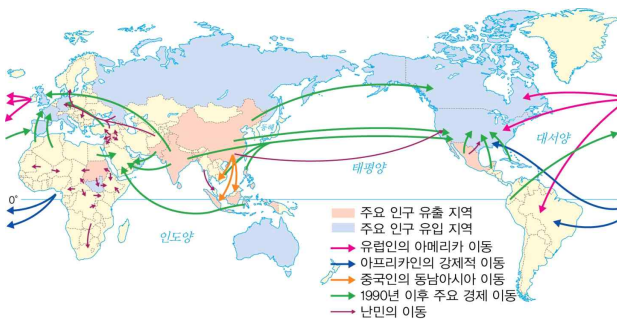
**보기**

ㄱ. (가)는 일자리를 찾아 떠난 경제적 이동이다.  
 ㄴ. (나)는 내전을 피해 이주한 경우이다.  
 ㄷ. (가)는 (나)보다 인구 이동의 시기가 이른다.  
 ㄹ. (가)와 (나) 모두 인구 유입국보다 인구 유출국의 경제적 수준이 높다.

- ① ㄱ, ㄴ      ② ㄱ, ㄷ      ③ ㄴ, ㄷ
- ④ ㄴ, ㄹ      ⑤ ㄷ, ㄹ

### 10

지도는 세계의 인구 이동을 나타낸 것이다. 옳은 설명만을 <보기>에서 고른 것은?



**보기**

ㄱ. 신항로 개척 이후 유럽인들이 신대륙으로 이동하였다.  
 ㄴ. 오늘날은 선진국에서 개발 도상국으로 이동하는 경제적 이동이 대부분이다.  
 ㄷ. 서부 유럽, 앵글로아메리카, 오세아니아 지역은 인구 유출 현상이 나타난다.  
 ㄹ. 과거 아프리카 흑인들은 노예 무역으로 강제적으로 아메리카 대륙으로 이동하였다.

- ① ㄱ, ㄴ      ② ㄱ, ㄹ      ③ ㄴ, ㄷ
- ④ ㄴ, ㄹ      ⑤ ㄷ, ㄹ

### 11

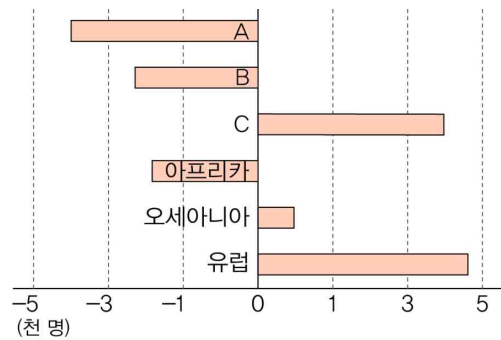
다음 설명에 해당하는 용어를 쓰시오.

- 전쟁, 분쟁, 정치적 탄압 등을 피하기 위해 다른 나라로 탈출하는 사람들을 가리킨다.
- 내전 중인 시리아, 아프가니스탄, 소말리아 등지에서 주로 발생한다.

(                                      )

### 12

그래프는 지역(대륙)별 인구의 순이동 인구수를 나타낸 것이다. A~C 지역(대륙)명으로 옳은 것은?



\* 순이동 인구수는 유입 인구수에서 유출 인구수를 뺀 값임.  
 \* 1990~2020년 합계

- |   | A        | B        | C        |
|---|----------|----------|----------|
| ① | 아시아      | 라틴 아메리카  | 앵글로 아메리카 |
| ② | 아시아      | 앵글로 아메리카 | 라틴 아메리카  |
| ③ | 앵글로 아메리카 | 라틴 아메리카  | 아시아      |
| ④ | 앵글로 아메리카 | 아시아      | 라틴 아메리카  |
| ⑤ | 라틴 아메리카  | 앵글로 아메리카 | 아시아      |

13

오늘날 국제 인구 이동에 관한 설명으로 옳지 않은 것은?

- ① 아프리카는 유출 인구가 유입 인구보다 많다.
- ② 교통의 발달은 국제 인구 이동을 촉진하고 있다.
- ③ 기후 변화에 따른 환경 난민 형태의 국제 이주는 강제적 이주에 해당한다.
- ④ 임금 수준이 높은 선진국에서, 임금 수준이 낮은 개발 도상국으로의 이주 형태가 뚜렷하다.
- ⑤ 인구 유출 지역은 이주 노동자들의 송금으로 외화 유입 증가로 지역 경제가 활성화되기도 한다.

14

㉠, ㉡에 대한 옳은 분석만을 <보기>에서 고른 것은?

2011년 시리아 내전으로 유럽행 ㉠ 난민의 숫자는 폭발적으로 증가하였다. 이러한 난민 사태를 해결하기 위해 ㉡ 유럽 연합 국가들은 여러 대책을 마련하고 있다. - 연합뉴스, 2016. 9. 19.

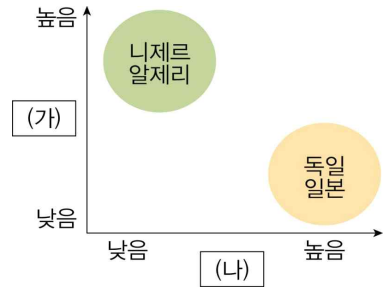
보기

- ㉠. ㉠의 대부분은 이슬람교를 믿는다.
- ㉡. ㉠의 이동은 자발적 이동에 해당된다.
- ㉢. ㉠이 유입된 ㉡ 지역에서는 저임금 노동력 확보가 유리해졌다.
- ㉣. ㉡ 지역 대부분은 높은 출생률과 낮은 사망률에 따른 과잉 인구 성장 문제를 겪고 있다.

- ① ㉠, ㉡
- ② ㉠, ㉢
- ③ ㉡, ㉢
- ④ ㉡, ㉣
- ⑤ ㉢, ㉣

15

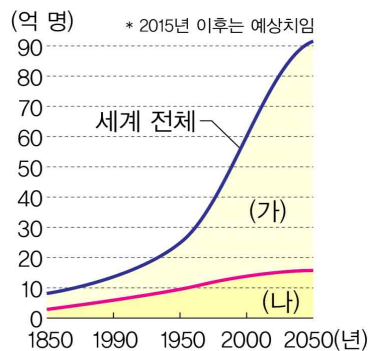
다음 그래프에서 (가), (나)에 들어갈 용어를 바르게 연결한 것은?



- | (가)        | (나)          |
|------------|--------------|
| ① 인구 증가율   | 14세 이하 인구 비율 |
| ② 합계 출산율   | 14세 이하 인구 비율 |
| ③ 합계 출산율   | 65세 이상 인구 비율 |
| ④ 평균 출산 연령 | 인구 증가율       |
| ⑤ 평균 출산 연령 | 65세 이상 인구 비율 |

16

그래프는 세계의 인구 성장을 나타낸 것이다. (가), (나) 국가군의 인구 특성에 대한 옳은 설명만을 <보기>에서 고른 것은? (단, (가), (나)는 선진국과 개발 도상국 중 하나임.)



보기

- ㉠. (가)는 (나)보다 합계 출산율이 낮다.
- ㉡. (가)는 (나)보다 인구 급증에 따른 문제점이 크다.
- ㉢. (가)는 (나)보다 노인 1명을 부양하는 생산 가능 인구가 적다.
- ㉣. (가)는 개발 도상국, (나)는 선진국이다.

- ① ㉠, ㉡
- ② ㉠, ㉢
- ③ ㉡, ㉢
- ④ ㉡, ㉣
- ⑤ ㉢, ㉣



## 17

우리나라의 합계 출산율이 감소하는 원인으로 가장 적절한 것은?

- ① 공중 보건 환경이 개선되었기 때문이다.
- ② 여성의 사회 진출이 늘어났기 때문이다.
- ③ 노인을 위한 일자리가 많이 보급되었기 때문이다.
- ④ 농업 노동력으로서 자식이 갖는 중요성이 높아졌기 때문이다.
- ⑤ 적극적인 출산 장려 정책으로 양육 부담이 감소했기 때문이다.

## 18

교사의 질문에 대해 옳지 않은 답변을 한 학생은?

교사: 우리나라의 고령화 진행 속도를 다른 나라들과 비교해 볼까요?  
 갑 : 우리나라의 고령화 진행 속도는 미국, 일본, 독일, 프랑스보다 빠른 편입니다.  
 교사: 이와 같은 추세가 지속된다면 우리나라는 앞으로 어떤 인구 문제를 겪게 될까요?  
 을 : 청장년층 인구의 노인 부양 부담이 크게 늘어납니다.  
 병 : 노인 빈곤층 인구 증가에 따른 사회 문제가 심각해집니다.  
 교사: 이와 같은 문제를 해결하기 위해서는 어떤 노력이 필요할까요?  
 정 : 젊은 사람들의 고용을 늘리기 위해서 정년을 단축해야 합니다.  
 무 : 노인 질환에 특화된 전문 병원 및 요양 시설을 보급해야 합니다.

- ① 갑
- ② 을
- ③ 병
- ④ 정
- ⑤ 무

## 서술형 문제

## 19

다음 자료를 보고, 물음에 답하시오.

캐나다의 인구 밀도처럼  
분포하려면 필요한 육지 면적

방글라데시의 인구 밀도처럼 분포하려면 필요한 육지 면적

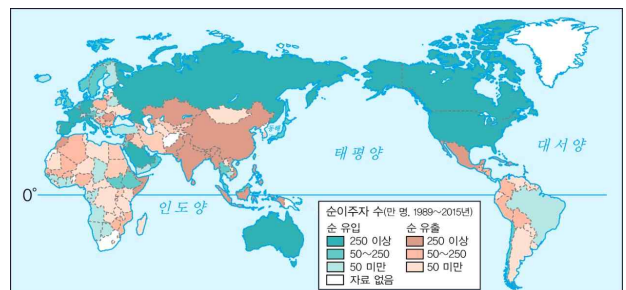
만약 전 세계 인구 약 73억 명이 캐나다와 같은 인구 밀도로 살려면 지구가 약 14개 필요하고, 방글라데시와 같은 인구 밀도로 살려면 오스트레일리아에 모두 모여 사는 것과 같다.

(1) 캐나다와 방글라데시 중 어느 나라의 인구 밀도가 더 높은지 쓰시오.

(2) 전 세계 인구가 우리나라와 같은 인구 밀도처럼 분포하려면 어느 정도의 육지 면적에 모두 모여 사는 것과 같은지 방글라데시와 비교하여 서술하시오. (단, 인구 밀도는 방글라데시가 약 6,406명/km<sup>2</sup>, 우리나라(남한)가 약 510명/km<sup>2</sup>임.)

## 20

지도는 세계 각 지역별 인구 순이동을 나타낸 것이다. 인구가 유입되는 지역과 유출되는 지역의 특징을 각각 두 가지씩 서술하시오.





01

도시와 촌락의 특징을 비교한 내용 중 옳지 않은 것은?

구분	도시	촌락
① 인구 밀도	높음	낮음
② 건물 높이	높음	낮음
③ 산업 구조	1차 산업 발달	2·3차 산업 발달
④ 주요 경관	인문 경관	자연 경관
⑤ 토지 이용	도로, 건물	농경지

02

다음 도시의 형성과 발달 과정을 시대 순으로 바르게 나열한 것은?

- (가) 농업에 유리한 조건을 갖춘 문명의 발상지에서 발달하였다.
- (나) 교역과 교환이 활발한 시장을 중심으로 상업 도시가 발달하였다.
- (다) 산업 혁명의 발달과 함께 석탄 산지를 중심으로 공업 도시가 발달하였다.
- (라) 정치·경제·교육·문화 등 다양한 기능을 수행하는 도시가 발달하였다.

- ① 가 - 나 - 다 - 라
- ② 가 - 다 - 라 - 나
- ③ 나 - 가 - 다 - 라
- ④ 나 - 다 - 가 - 라
- ⑤ 다 - 가 - 라 - 나

03

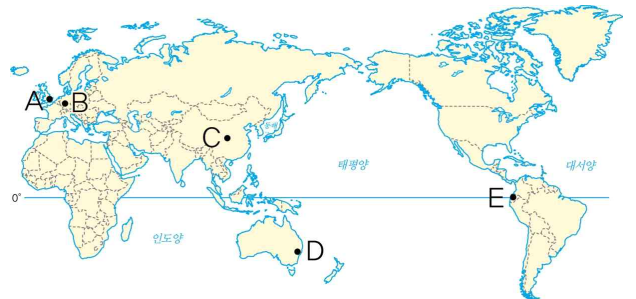
지도를 보고 알 수 있는 인구 500만 명 이상의 대도시에 대한 설명으로 옳지 않은 것은?



- ① 해안가에 많이 위치한다.
- ② 대부분 북반구에 위치한다.
- ③ 적도 부근의 저위도 지역에 집중한다.
- ④ 인구가 많은 아시아에 가장 많이 있다.
- ⑤ 오세아니아를 제외하고 아프리카에 가장 적게 있다.

04

다음 지도에 표시된 A~E 도시의 위치와 특징에 대한 설명으로 옳은 것은?



- ① A - 연중 봄과 같은 기후가 나타난다.
- ② B - 오페라 하우스로 유명한 도시이다.
- ③ C - 세계의 환경 수도로 불리는 곳이다.
- ④ D - 잘 보존된 성벽을 볼 수 있는 곳이다.
- ⑤ E - 저위도의 산지 지역으로 고산 도시라 불린다.



09

밑줄 친 ㉠, ㉡이 도시화 곡선의 어느 단계에 속하는지 각각 쓰시오.

우리나라는 ㉠ 1960년대 중반 서울과 부산, 대구 등 대도시와 공업 도시를 중심으로 산업화가 시작되면서 도시화가 빠른 속도로 진행되었다. 1970년대에는 인구의 절반 이상이 도시에 살게 되었고 도시 문제가 나타나기 시작하였다. ㉡ 1990년대에는 서울과 부산 등 대도시 외곽 지역에 성남, 고양, 양산 등의 위성 도시가 발달하였다.

㉠ (                      ), ㉡ (                      )

10

다음은 ○○시 시장의 연설문이다. 밑줄 친 ㉠에 들어갈 문장으로 가장 적절한 것은?

시장: 현재 우리 ○○시는 많은 문제를 직면하고 있습니다. 그중 가장 큰 문제가 교통 및 대기 오염 문제입니다. 저에게 이 두 문제를 동시에 해결할 방법이 있습니다. 내년부터 우리 ○○시는 \_\_\_\_\_ ㉠ \_\_\_\_\_

- ① 범죄 없는 도시로 탈바꿈할 것입니다.
- ② 대중교통의 운행 시간을 축소시킬 것입니다.
- ③ 시민들에게 무료로 자전거를 대여해 줄 것입니다.
- ④ 공원을 활성화하여 생태 도시로 재탄생할 것입니다.
- ⑤ 도시 재개발을 통한 ‘스마트 시티’로 재탄생할 것입니다.

11

다음 살기 좋은 도시의 조건으로 옳은 것만을 <보기>에서 고른 것은?

보기

- ㄱ. 시설이 노후화된 도시
- ㄴ. 과도한 인구와 기능이 집중된 도시
- ㄷ. 범죄율이 낮고 정치적으로 안정된 도시
- ㄹ. 도시 기반 시설을 잘 갖추고 있는 도시

- ① ㄱ, ㄴ                      ② ㄱ, ㄷ                      ③ ㄴ, ㄷ
- ④ ㄴ, ㄹ                      ⑤ ㄷ, ㄹ

12

㉠~㉤에 해당하는 도시를 바르게 연결한 것은?

세계 곳곳에는 수많은 도시가 존재하는데 그 중 유명한 도시는 주로 인구 규모가 큰 도시이거나 ㉠ 정치, 경제의 중심 도시, 또는 ㉡ 문화를 이끌어 가는 도시이다. 이외에도 ㉢ 종교적, 역사적 의미가 있는 도시나 ㉣ 빼어난 자연 경관을 자랑하며 관광 산업이 발달한 도시, ㉤ 환경이 쾌적하여 삶의 질이 높은 도시로 명성이 높다.

- ① ㉠ - 브라질의 쿠리치바
- ② ㉡ - 프랑스의 파리
- ③ ㉢ - 아이슬란드의 레이카비크
- ④ ㉣ - 미국의 뉴욕
- ⑤ ㉤ - 이스라엘의 예루살렘

### 13

다음 두 도시의 공통점으로 옳은 것은?

- 미국의 라스베이거스
- 아랍 에미리트의 두바이

- ① 저위도에 위치한 고산 도시이다.
- ② 아름다운 항구로 유명한 도시이다.
- ③ 사막이라는 불리한 자연환경을 극복한 도시이다.
- ④ 오랜 세월에 걸쳐 만들어진 유적이 많은 도시이다
- ⑤ 백야 현상과 오로라를 볼 수 있어 유명해진 관광 도시이다.

### 14

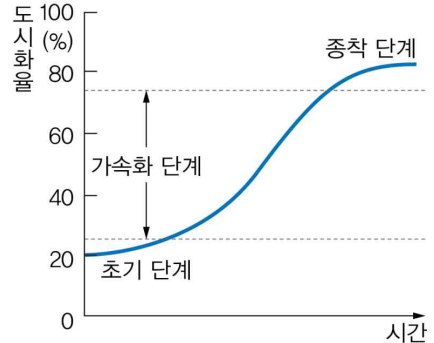
내가 가고 싶은 도시에 대해 작성한 카드이다. 빈칸에 들어갈 내용으로 옳은 것은?

도시	가고 싶은 곳	도시의 특징
예 로마	콜로세움	고대, 중세, 르네상스 시대의 유산을 잘 간직하여 지상과 지하에 유적이 많다.
싱가포르	리틀인디아, 아랍스트리트	

- ① 교역의 중심 도시로 독특한 문화가 형성되어 있다.
- ② 각종 상공업이 발달한 남아메리카의 경제의 중심이다.
- ③ 천년이 넘는 역사를 간직한 아프리카 최대의 도시이다.
- ④ 정치, 경제, 교통의 중심지로 유럽 연합(EU) 본부가 있다.
- ⑤ 적도 부근 고원에 위치하여 야생 동물이 서식하기에 유리하다.

### 15

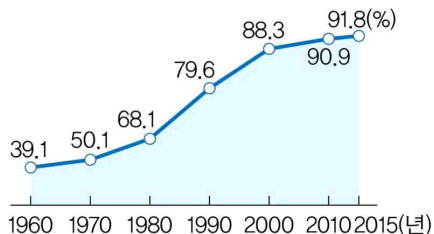
다음 그래프의 종착 단계에서 볼 수 있는 특징으로 옳지 않은 것을 모두 고르면?



- ① 도시화 속도가 감소한다.
- ② 인구가 농촌에 고르게 분포한다.
- ③ 대도시 주변에 위성 도시가 발달하기도 한다.
- ④ 우리나라는 이 시기에 국토 불균형 문제가 대두되었다.
- ⑤ 농촌에서 도시로의 이동보다 도시 간 이동이 증가한다.

### 16

그래프는 우리나라의 도시화율 변화를 나타낸 것이다. 이를 통해 알 수 있는 것으로 옳은 것은?



- ① 1960년대 우리나라는 종착 단계에 해당한다.
- ② 2000년대 이후 도시화가 급격히 진행되고 있다.
- ③ 현재 우리나라 대부분의 사람들이 도시에 거주할 것이다.
- ④ 1970년 우리나라는 90%가 넘는 도시화율을 보이고 있다.
- ⑤ 2000~2010년 사이에 도시화율이 가장 급격하게 변화하였다.

17

도시 문제와 그 해결 방안을 연결한 것으로 옳지 않은 것은?

도시 문제	해결 방안
① 도심 교통 체증	혼잡 통행료 징수
② 넘치는 쓰레기	재활용 시스템의 정비
③ 심각한 대기 오염	친환경 에너지 사용 정책
④ 제조업 쇠퇴로 인한 실업률 상승	도심의 기능 분산
⑤ 시설 노후화, 도심 불량 주거 지역 형성	도시 재개발 사업

18

살기 좋은 도시를 만들기 위한 노력으로 (가)와 (나)의 사례를 통해 알 수 있는 것이 아닌 것은?

(가) 브라질의 쿠리치바에서는 비용이 많이 드는 지하철을 건설하는 대신에 기존 도로망을 활용한 버스 교통 체계를 마련하였다. 버스를 중심으로 하는 대중 교통 시스템과 시민의 보행권을 우선으로 하는 교통 정책은 오늘날 세계적인 모범 사례로 꼽힌다.

(나) 울산광역시에서는 시민, 환경 단체들과 함께 '태화강 살리기 사업'을 본격적으로 추진하였다. 우선 태화강으로 유입되는 폐수를 차단하고, 하수 처리장 건설 및 넓은 하수관 정비, 강바닥의 오염된 흙 제거, 시민의 자발적인 감시와 청소 등을 통해 수질과 주변 환경을 개선하였다.

- ① 자연과 인간이 공존하는 방법을 찾기 위해 노력하였다.
- ② 브라질의 쿠리치바는 심각한 교통 문제를 겪었을 것이다.
- ③ 울산의 태화강은 공업화로 인한 하천 오염 문제가 있었을 것이다.
- ④ 효율성을 중요시하여 정부가 주도하여 도시 문제를 해결하였다.
- ⑤ 두 도시 모두 특정 도시로 인구와 기능이 집중되면서 생긴 문제를 해결하였다.

서술형 문제

19

다음은 도시와 촌락의 상호 작용을 나타낸 것이다.

㉠, ㉡에 들어갈 알맞은 내용을 각각 서술하시오.



㉠: \_\_\_\_\_

\_\_\_\_\_

\_\_\_\_\_

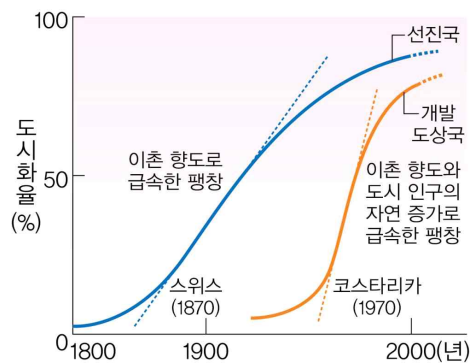
㉡: \_\_\_\_\_

\_\_\_\_\_

\_\_\_\_\_

20

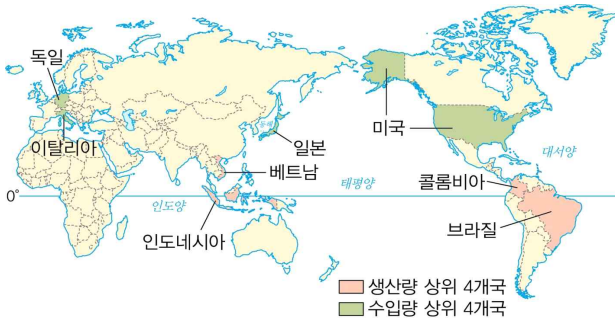
그래프를 보고, 물음에 답하시오.



- (1) 그래프를 이르는 명칭은 무엇인지 쓰시오.  
\_\_\_\_\_
- (2) 선진국과 개발도상국의 도시화의 특징을 그래프의 기울기를 비교하여 서술하시오.  
\_\_\_\_\_
- \_\_\_\_\_

01

지도는 어떤 농작물의 생산국과 소비국을 나타낸 것이다. 옳은 설명만을 <보기>에서 고른 것은?



보기

- ㄱ. 작물의 국제 가격 변동이 작다.
- ㄴ. 생산 작물의 대부분이 선진국으로 수출된다.
- ㄷ. 생산지에서 대부분 소비되어 국제 이동량이 적다.
- ㄹ. 주로 열대 기후 지역에 위치한 플랜테이션 농장에서 생산된다.

- ① ㄱ, ㄴ                      ② ㄱ, ㄷ                      ③ ㄴ, ㄷ
- ④ ㄴ, ㄹ                      ⑤ ㄷ, ㄹ

02


밀줄 친 ㉠, ㉡에 대한 설명으로 옳지 않은 것은?

농업 생산의 기업화에 따라 생산 지역에서는 상업적 농업이 확대되고, 자영농의 비중이 감소하고 있다. 이에 따라 토지 이용의 형태는 ㉠ 상품 작물 재배 면적의 확대와 ㉡ 사료 작물 재배 면적 확대로 나타나고 있다.

- ① ㉠으로 인해 식량 자급률이 증가한다.
- ② ㉠은 주로 플랜테이션 농업을 통해 나타난다.
- ③ ㉠의 대표적인 상품 작물은 커피, 바나나이다.
- ④ ㉡의 주요 원인은 육류 소비량의 증가이다.
- ⑤ ㉡은 아메리카 대륙의 대평원에서 활발하다.

03

㉠에 들어갈 수 있는 내용으로 옳지 않은 것은?



- ① 농축산물의 경쟁력을 높일 수 있습니다.
- ② 농부들의 근로 시간이 늘어날 수 있습니다.
- ③ 원격으로 농장과 농기계를 제어할 수 있습니다.
- ④ 농산물 재배에 알맞은 환경을 조성할 수 있습니다.
- ⑤ 일정한 면적의 토지에서 많은 양의 농축산물을 생산할 수 있습니다.

04

㉠에 대한 옳은 설명만을 <보기>에서 고른 것은?

세계적인 팜유 생산 국가가 위치하고 있는 보르네오 섬은 최근 팜유에 대한 수요가 증가하면서 ㉠ 생태계 및 환경 변화 문제를 겪고 있다.

보기


- ㄱ. 자급적 농업 지역이 확대되고 있다.
- ㄴ. 원주민의 생활 수준이 높아지고 있다.
- ㄷ. 열대 우림이 줄어들면서 희귀 동물의 서식지도 파괴되고 있다.
- ㄹ. 온실 가스 배출량이 늘어나면서 지구 온난화가 가속화되고 있다.

- ① ㄱ, ㄴ                      ② ㄱ, ㄷ                      ③ ㄴ, ㄷ
- ④ ㄴ, ㄹ                      ⑤ ㄷ, ㄹ



05

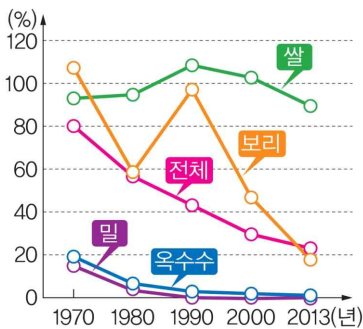
그림은 밥상 위에 오른 먹거리의 원산지를 나타낸 것이다. 이와 같은 변화의 배경으로 옳지 않은 것은?



- ① 자영농의 수가 늘어났다.
- ② 다국적 농업 기업이 등장하였다.
- ③ 농업의 기계화로 먹거리 대량 생산이 가능해졌다.
- ④ 농업 기술의 발달로 먹거리의 생산 가능 범위가 확대되었다.
- ⑤ 냉장 및 냉동 기술의 발달로 먹거리의 장거리 운송이 가능해졌다.

06

그래프는 우리나라 주요 곡물의 자급률 변화를 나타낸 것이다. 옳은 설명만을 <보기>에서 고른 것은?



보기

- ㄱ. 쌀의 수입 의존도는 밀보다 높다.
- ㄴ. 우리나라의 곡물 자급률이 증가하고 있다.
- ㄷ. 세계 곡물 생산에 문제가 생기면 식량 부족 우려가 있다.
- ㄹ. 1970년 대비 2013년의 자급률 감소폭은 보리가 쌀보다 크다.

- ① ㄱ, ㄴ      ② ㄱ, ㄷ      ③ ㄴ, ㄷ
- ④ ㄴ, ㄹ      ⑤ ㄷ, ㄹ

07

다국적 기업의 특징으로 옳은 것만을 <보기>에서 고른 것은?

보기

- ㄱ. 다국적 기업은 제조업 분야에서만 나타난다.
- ㄴ. 세계 경제에서 차지하는 영향력이 커지고 있다.
- ㄷ. 세계 여러 지역 간 교류의 감소로 인한 결과물이다.
- ㄹ. 최근에는 개발 도상국의 기업도 다국적 기업으로 발전하고 있다.

- ① ㄱ, ㄴ      ② ㄱ, ㄷ      ③ ㄴ, ㄷ
- ④ ㄴ, ㄹ      ⑤ ㄷ, ㄹ

08

지도는 ○○ 자동차 기업의 공간적 분업 상황 일부를 나타낸 것이다. 옳은 설명만을 <보기>에서 고른 것은?



보기

- ㄱ. 영업소가 가장 많이 입지한 국가는 스웨덴이다.
- ㄴ. 자동차 생산에 대한 최종 의사 결정 및 기획 기능은 독일에 있다.
- ㄷ. 생산 공장의 입지 결정에는 저임금 노동력이 풍부하다는 점이 크게 고려되었다.
- ㄹ. 기술 연구소와 디자인 센터는 전문 기술 인력을 쉽게 확보할 수 있는 곳에 입지하였다.

- ① ㄱ, ㄴ      ② ㄱ, ㄷ      ③ ㄴ, ㄷ
- ④ ㄴ, ㄹ      ⑤ ㄷ, ㄹ



09

㉠에 들어갈 생산 공장의 이전 배경으로 옳은 것은?

미국의 F 사와 G 사에 이어 일본의 T 사도 오스트레일리아에서 자동차 생산을 중단할 예정이다. 오스트레일리아는 세금이 매우 적어 세계적 자동차 회사들이 모여들었으나, 오스트레일리아 달러의 강세와 \_\_\_\_\_ ㉠ \_\_\_\_\_, 정부의 노동 규제로 생산 조건이 불리해졌다. - 파이낸셜뉴스, 2013. 12. 12.

- ① 높은 임금 수준
- ② 기업 투자 증가
- ③ 생산 비용 감소
- ④ 산업 규제 약화
- ⑤ 본국의 자동차 수요 증가

10

밑줄 친 ㉡~㉣에 대한 옳은 설명만을 <보기>에서 있는 대로 고른 것은?

최근 패스트푸드처럼 빠르게 소비하는 ㉡ ‘패스트 패션(Fast Fashion)’ 의류가 인기를 끌고 있다. ‘패스트 패션’ 의류는 ㉢ 제품의 디자인과 옷감의 생산, 옷의 재봉 과정 등을 공간적으로 분업화하여 생산하고 있다. 국내에 들어온 U 사, Z 사, H 사 등 일부 업체는 ㉣ 소비자의 취향에 빠르게 반응하여 의류 제품의 생산, 유통 등 전 과정을 하나의 기업이 통합 관리하는 체계를 만들었다. ‘패스트 패션’ 의류를 생산하기 위해서 \_\_\_\_\_ ㉣ \_\_\_\_\_.

보기

- ㉡. ㉡은 높은 가격과 고급 품질을 특징으로 한다.
- ㉢. ㉢은 주로 전문 인력 확보가 용이한 선진국에서 이루어진다.
- ㉣. ㉣은 정보 통신 기술을 활용한다.
- ㉤. ㉤에는 ‘생산 지역의 근로자들은 낮은 임금을 받고 장시간 일해야 한다’가 들어갈 수 있다.

- ① ㉡, ㉢      ② ㉡, ㉣      ③ ㉡, ㉢, ㉣
- ④ ㉡, ㉢, ㉤      ⑤ ㉢, ㉣, ㉤

11

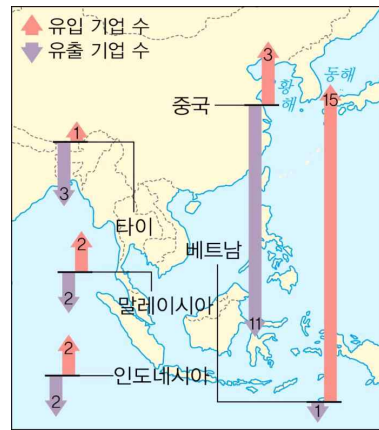
다음은 다국적 기업의 공간적 분업을 설명한 것이다. (가), (나)의 기능으로 옳은 것은?

(가) 고급 인력이 풍부하고, 교육 및 연구 시설이 잘 갖추어진 지역에 두는 것이 좋다.  
 (나) 인구가 많거나 소득이 높아 제품을 많이 구매할 것으로 예상되는 지역에 위치시킨다.

- |         |       |
|---------|-------|
| (가)     | (나)   |
| ① 연구소   | 판매 지점 |
| ② 연구소   | 생산 공장 |
| ③ 판매 지점 | 연구소   |
| ④ 판매 지점 | 생산 공장 |
| ⑤ 생산 공장 | 연구소   |

12

지도는 중국 및 동남아시아 지역 생산 공장의 이동 현황을 나타낸 것이다. 옳은 설명만을 <보기>에서 고른 것은?



보기

- ㉡. 중국보다 베트남의 임금 수준이 높다.
- ㉢. 중국보다 베트남으로 생산 공장의 유입이 활발하다.
- ㉣. 유입 기업 수와 유출 기업 수의 차이가 가장 큰 국가는 중국이다.
- ㉤. 생산 공장의 유입이 활발한 국가는 저임금 노동력을 활용한 산업이 발달하였다.

- ① ㉡, ㉢      ② ㉡, ㉣      ③ ㉢, ㉣
- ④ ㉢, ㉤      ⑤ ㉣, ㉤

13

밑줄 친 ㉠에 대한 설명으로 가장 적절한 것은?

㉠ 기업 콜센터가 많이 입지한 전 세계 상위 8개 도시들이 인도와 필리핀에 집중하고 있다.

- ① 풍부한 천연자원 매장
- ② 연구소가 가까워 고급 인력 확보에 유리
- ③ 영어 사용 능력이 우수한 저임금 노동력 풍부
- ④ 녹지 비율이 높아 쾌적한 환경에서 근무 가능
- ⑤ 물류 교통이 발달하여 신속한 제품 배달 가능

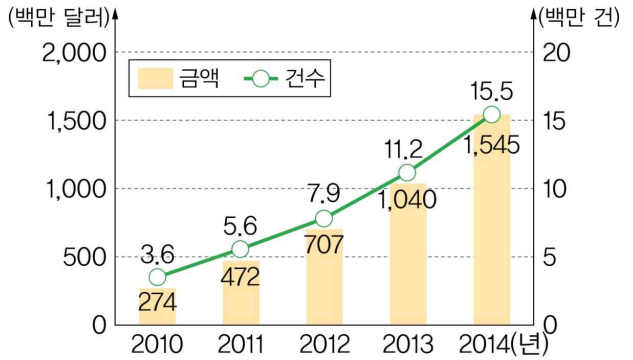
14

다음 중 서비스 산업의 특징으로 옳지 않은 것은?

- ① 다른 산업을 지원하고 보조하는 성격을 갖는다.
- ② 대표적인 예로 도·소매업, 음식 및 숙박업, 광고업과 부동산업 등이 있다.
- ③ 기계화와 자동화 수준이 높아 다른 산업에 비해 고용 창출 효과가 낮은 편이다.
- ④ 경제가 발전하면서 생산과 고용 측면에서 서비스업이 차지하는 비중이 커진다.
- ⑤ 선진국은 개발 도상국보다 생산과 고용 측면에서 서비스업이 차지하는 비중이 높다.

15

그래프는 우리나라의 온라인 쇼핑 해외 직접 구매 규모의 변화를 나타낸 것이다. 이와 같은 추세가 지속되면 나타나게 될 변화만을 <보기>에서 고른 것은?



보기

- ㄱ. 유통 단계가 늘어난다.
- ㄴ. 제품 구매에 시간적·공간적 제약이 커진다.
- ㄷ. 항공 화물, 택배업과 같은 물류 산업이 발달한다.
- ㄹ. 해외 상품과 비슷한 상품을 판매하는 국내 기업들의 시장 점유율이 하락할 수도 있다.

- ① ㄱ, ㄴ
- ② ㄱ, ㄷ
- ③ ㄴ, ㄷ
- ④ ㄴ, ㄹ
- ⑤ ㄷ, ㄹ

16

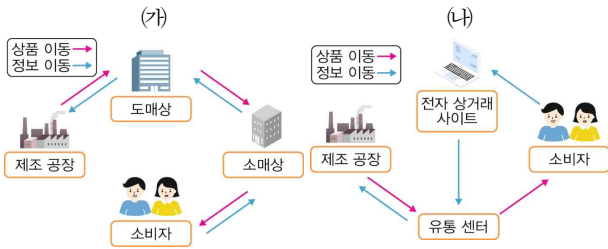
밑줄 친 ㉠의 특징으로 옳지 않은 것은?

최근에는 여행자에게도 환경과 현지인에 대한 책임 의식을 강조하는            ㉠ 이/가 강조되고 있다. 멸종 위기의 동물을 구하는 활동에 참여하는 생태 자원 봉사 여행, 지구 온난화의 위험성을 알리며 세계 곳곳을 누비는 여행 등 그 모습은 다양하다.  
- 전국지리교사연합회, 『살아 있는 지리 교과서』

- ① 단순 관광보다 체험을 중시한다.
- ② 관광객과 지역 주민 간 상호 작용을 강조한다.
- ③ 지역 특색을 활용한 관광 자원 개발에 힘쓴다.
- ④ 주민 참여보다 외부 기업의 투자를 중시한다.
- ⑤ 단체 관광보다 개별 관광의 형태로 이루어진다.

### 17

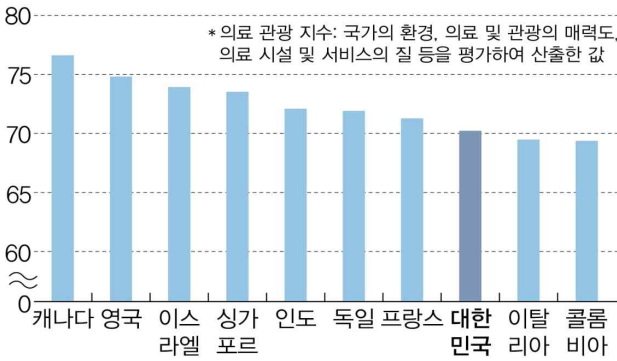
(가), (나) 상거래 방식에 대한 설명으로 옳은 것은?



- ① (가)의 성장은 택배 산업을 활성화 시켰다.
- ② (나)는 정보 통신 기술의 발달과 관련이 있다.
- ③ (가)는 (나)보다 대형 매장의 필요성이 작다.
- ④ (가)는 (나)보다 상품 유통 구조가 단순하다.
- ⑤ (나)는 (가)보다 시공간의 제약이 크다.

### 18

그래프는 의료 관광 지수 상위 10개국을 나타낸 것이다. 이에 대한 옳은 설명만을 <보기>에서 고른 것은?



보기

ㄱ. 의료 관광 지수는 인도가 우리나라보다 낮다.

ㄴ. 교통과 통신 기술의 발달은 의료 관광 확대에 영향을 미친다.

ㄷ. 의료 관광 지수 상위 10개국은 모두 경제 발전 수준이 높은 선진국이다.

ㄹ. 의료 관광은 의료 기술뿐만 아니라, 교통 및 숙박 등 연관 산업의 발전에 영향을 미친다.

- ① ㄱ, ㄴ      ② ㄱ, ㄷ      ③ ㄴ, ㄷ
- ④ ㄴ, ㄹ      ⑤ ㄷ, ㄹ

### 서술형 문제

### 19

다음 자료를 보고, 물음에 답하시오.

$$\text{푸드 마일(kg} \cdot \text{km)} = \text{무게(kg)} \times \text{거리(km)}$$

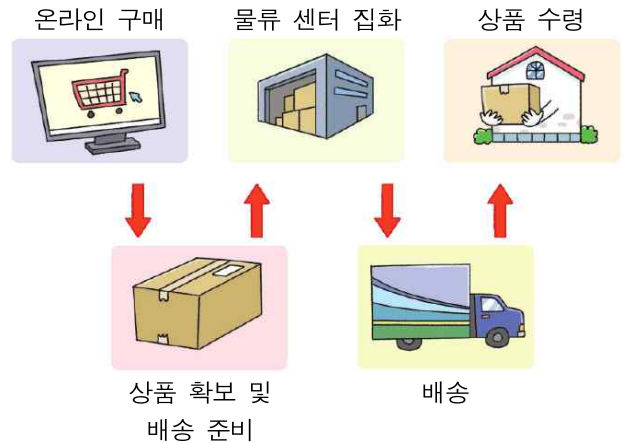
농축산물의 무게에 이동 거리를 곱한 값을 ‘푸드 마일리지(food miles)’라고 한다. 푸드 마일리지의 값이 클수록 ㉠ 농축산물이 생산지에서 소비지까지만 거리를 이동해 왔다는 것을 뜻한다.

(1) 밑줄 친 ㉠의 문제점을 쓰시오.

(2) 푸드 마일리지를 줄이기 위한 대안적 성격을 띤 운동의 이름을 쓰고, 이 운동의 의미를 서술하시오.

### 20

그림과 같이 거래가 이루어지는 상거래 방식을 쓰고, 그 특징을 서술하시오.



01

기후 변화의 자연적인 요인과 인위적 요인을 <보기>에서 찾아 바르게 연결한 것은?

보기

- ㄱ. 화산재의 분출
- ㄴ. 태양 활동의 변화
- ㄷ. 지나친 화석 연료의 사용
- ㄹ. 도시화와 무분별한 산림 개발
- ㅁ. 태양과 지구의 상대적인 위치 변화

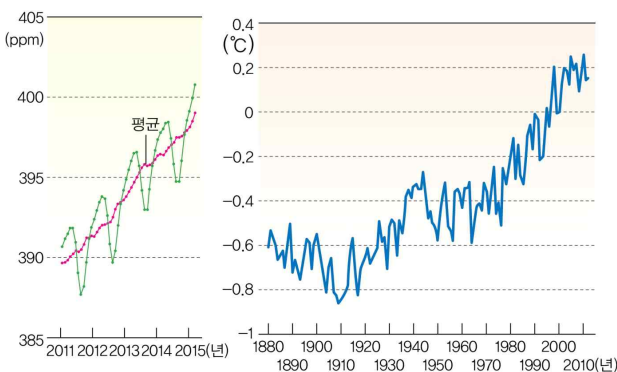
자연적 요인

인위적 요인

- |           |         |
|-----------|---------|
| ① ㄱ, ㄴ, ㄹ | ㄷ, ㅁ    |
| ② ㄱ, ㄴ, ㅁ | ㄷ, ㄹ    |
| ③ ㄷ, ㄹ, ㅁ | ㄱ, ㄴ    |
| ④ ㄴ, ㄷ    | ㄱ, ㄹ, ㅁ |
| ⑤ ㄹ, ㅁ    | ㄱ, ㄴ, ㄷ |

02

그래프는 어떤 기체 A의 농도 변화와 지구의 평균 기온 변화를 나타낸 것이다. 이를 통해 알 수 있는 것으로 옳은 것은?



- ① A는 메테인이다.
- ② A와 지구의 평균 기온은 반비례 관계이다.
- ③ A의 농도가 올라갈수록 지구의 평균 기온이 증가한다.
- ④ 지구의 평균 기온은 일시적인 하락 없이 계속 상승하고 있다.
- ⑤ A의 농도는 증가와 감소를 반복하면서 평균적으로는 감소하는 추세이다.

03

기후 변화의 영향으로 옳지 않은 것은?

- ① 기상 이변의 감소
- ② 빙하 면적의 감소
- ③ 동물의 서식지 변화
- ④ 평균 해수면의 상승
- ⑤ 작물의 재배 지역 변화

04

기후 변화에 따른 지역 변화로 옳은 것만을 <보기>에서 있는 대로 고른 것은?

보기

- ㄱ. 사막화 면적이 늘어난다.
- ㄴ. 식물의 개화 시기 느려진다.
- ㄷ. 멸종 위기의 동식물이 감소한다.
- ㄹ. 고산 지역 빙하의 면적이 감소한다.
- ㅁ. 해발 고도가 낮은 저지대는 침수 위험이 있다.

- |           |           |        |
|-----------|-----------|--------|
| ① ㄱ, ㄴ    | ② ㄱ, ㄷ    | ③ ㄴ, ㄷ |
| ④ ㄱ, ㄹ, ㅁ | ⑤ ㄴ, ㄷ, ㄹ |        |

## 05

다음 설명에 해당하는 국제적 협의에 대한 것으로 옳은 것은?

2015년 말, 190여 개국이 서명한 협정으로 주요 내용은 산업화 이전과 비교하여 지구 평균 온도 상승폭을 2°C 이내로 제한하고, 가능한 한 1.5°C 이내로 상승폭을 제한하는 것이다. 또 선진국은 2025년까지 개발 도상국이 온실가스 감축 기술을 개발할 수 있도록 재정적 지원을 하기로 약속하였다.

- ① 바젤 협약이다.
- ② 교토 의정서 이전 협약이다.
- ③ 선진국의 온실가스 배출 감소를 목표로 한다.
- ④ 브라질 리우 환경 개발 회의에서 채택된 협약이다.
- ⑤ 목표 자체에 구속력이 없어 당사국의 자발적인 참여가 중요하다.

## 06

지도는 전자 쓰레기의 이동을 나타낸 것이다. 이에 대한 설명으로 옳은 것은?



- ① 유럽에서 발생하는 전자 쓰레기는 전부 아프리카로 이동한다.
- ② 중국에서 발생하는 전자 쓰레기는 주로 오스트레일리아로 이동한다.
- ③ 전자 쓰레기가 많이 발생하는 국가는 대표적으로 미국, 중국이 있다.
- ④ 1인당 전자 쓰레기 발생량이 많은 지역은 아프리카와 남아메리카이다.
- ⑤ 그래프에서 가장 먼 거리를 이동하는 것은 미국에서 발생한 전자 쓰레기이다.

## 07

다음 대화에서 환경 문제 유발 산업의 이동에 대한 설명으로 옳지 않은 것은?

Q 항구에 있는 폐선박은 어디서 왔나요?  
 A 대부분 미국이나 유럽의 선진국에서 온 배입니다.

Q 폐선박 해체 시 어려운 점은 뭔가요?  
 A 배에 같이 실려 오는 유해 물질 처리 과정에서 목숨을 잃는 경우도 있고, 과거 선박의 단열재로 많이 쓰인 발암 물질인 석면의 해체 과정에서 질병을 얻기도 합니다.

Q 예전 이곳의 모습은 어땠나요?  
 A 해산물이 풍부한 어촌이었는데, 지금은 선박을 해체하면서 흘러나온 기름으로 물고기가 줄어들고 있습니다.

- ① 환경 및 경제적 부담을 줄이기 위해 이동하였다.
- ② 환경 오염에 대한 인식이 낮은 곳으로 이동하였다.
- ③ 경제적으로 어렵고 인건비가 저렴한 곳으로 이동하였다.
- ④ 인권 및 환경에 대한 규제가 느슨한 곳으로 이동하였다.
- ⑤ 위와 같은 이동을 규제하기 위한 국제적인 협의는 없었다.

## 08

다음 케냐에 대한 다양한 의견 중 옳은 것은?

케냐는 해발 고도가 높은 고원 지대가 널리 나타나 기후 조건이 장미 재배에 적합하며 나이바샤 호수의 물을 이용할 수 있어 장미 재배 산업이 활발하다. 또한 수도 나이로비는 주요 수출 시장인 유럽과 연결되는 항공 노선이 발달하여 수출에 유리하다.

- ① 수질이 개선되어 인근에서 잡히는 물고기가 늘어났어요.
- ② 친환경적인 장미 재배로 인근 지역의 생태계에 전혀 지장이 없어요.
- ③ 장미 농장에서 일하면서 고정적인 수입이 생겼고 생활이 나아졌어요.
- ④ 나이바샤 호수의 물이 장미 재배에 필요한 지하수가 유입되어 늘었어요.
- ⑤ 장미 농장에서 다량의 물을 뽑아 가서 호수가 줄어들어 경작지가 늘어났어요.

09

밑줄 친 곳에 들어갈 말로 가장 적합한 것은?

쾌적한 환경에 대한 요구가 높고 환경 오염 물질에 대한 배출 허용 기준이 엄격한 선진국에서 개발도상국으로의 환경 문제를 유발하는 산업의 국제적 이동은 \_\_\_\_\_을/를 심화시킨다.

- ① 기후 변화 문제
- ② 생활 환경 이슈
- ③ 환경 문제의 공간적 불평등
- ④ 환경 문제와 지속 가능한 환경
- ⑤ 다양한 공간적 규모의 환경 이슈

10

다음 내용과 관련 있는 것은?

- 각 나라는 유해 폐기물의 발생을 최소화해야 한다.
- 유해 폐기물을 적절히 관리할 수 없는 국가에 수출해서는 안 된다.
- 유해 폐기물의 국가 간 이동은 협약에 규정된 방법에 따라 이루어져야 한다.

- ① 바젤 협약
- ② 스위스 협약
- ③ 교토 의정서
- ④ 파리 협정
- ⑤ 경제 개발 협력 기구

11

다음 중 성격이 다른 하나는?

- ① 가나의 아그보그블로시는 전자 쓰레기를 처리하는 과정에서 유독가스를 들이마시고 중금속에 쉽게 노출된다.
- ② 태평양 한가운데에 썩지 않는 비닐과 플라스틱이 뒤엉켜 거대한 쓰레기 섬이 만들어졌는데, 그 면적이 우리나라 영토의 14배에 달한다.
- ③ 세계적인 의류 회사들이 이전한 인도 최대의 의류 산업 도시인 티루푸르에서는 폐수로 강물이 오염되었고, 이로 인한 피해는 해당 지역의 주민들이 받고 있다.
- ④ 1984년 12월 2일 밤, 미국 어느 기업이 인도 보팔에 세운 살충제 공장에서 유독가스 40톤이 누출되어 많은 인원이 죽거나 다치고 현재까지 사고 후유증으로 고생하고 있다.
- ⑤ 일본의 한 회사가 말레이시아 주석 생산지인 이포시에 설립한 공장 주변에서 방사능 오염이 되어 1980년대 말 인근 마을의 어린이들에게 백혈병, 소아암이 비정상적으로 높게 발생하였다.

12

다음 글을 읽고, <보기>의 찬성과 반대의 의견을 구분한 것 중 옳은 것은?

최근 유전자 재조합 기술이 본래의 유전자를 변형시켜 기존의 번식 방법으로는 나타날 수 없는 새로운 성질의 유전자를 지니도록 개발한 농산물을 유전자 변형 농산물이라고 한다.

| 보기 |

- ㄱ. 세계 식량 부족 문제 해결
- ㄴ. 수확 후 관리 운송이 용이
- ㄷ. 적은 비용으로 많은 양 수확
- ㄹ. 인체에 미치는 안전성 미확보
- ㅁ. 추위와 병충해에 강한 작물 재배
- ㅂ. 재배 과정에서 생태계 교란의 문제 발생

	찬성	반대
①	ㄱ, ㄴ, ㄷ	ㄹ, ㅁ, ㅂ
②	ㄱ, ㄴ, ㄷ, ㅁ	ㄹ, ㅂ
③	ㄴ, ㄹ, ㅁ	ㄱ, ㄷ, ㅂ
④	ㄷ, ㄹ, ㅁ, ㅂ	ㄱ, ㄴ
⑤	ㄹ, ㅂ	ㄱ, ㄴ, ㄷ, ㅁ

### 13

환경 이슈에 대한 설명으로 옳지 않은 것은?

- ① 환경 관련 기관의 환경 정책에 관심을 두고 지켜본다.
- ② 주로 전 지구적 규모로 나타나는 기후 변화 문제에 해당한다.
- ③ 환경 이슈에 대해 자신만의 견해를 정립하여 적극적으로 행동한다.
- ④ 환경 단체에 가입하여 환경 문제에 대한 감시, 관찰, 캠페인 활동, 후원 활동을 한다.
- ⑤ 환경 문제 중 원인이나 해결 방안을 서로 다르게 생각하여 논쟁이 벌어지는 것을 말한다.

### 14

일상생활과 밀접한 환경 이슈 중 성격이 다른 하나는?

- ① 밤에도 대낮 같은 인공조명으로 인한 빛 공해
- ② 발암 물질인 석면 공장의 개발 도상국 이전 문제
- ③ 아파트와 같은 공동 주택에서 발생하는 층간소음
- ④ 가습기 살균제와 같은 화학 제품의 안전성에 대한 문제
- ⑤ 바다로 흘러 들어가 해양 생태계를 오염시키는 미세플라스틱

### 15

국립 공원의 케이블카 설치에 대한 찬성과 반대의 의견을 <보기>에서 나눈 것 중 옳은 것은?

보기	
ㄱ. 생태계와 자연경관이 파괴된다.	<p>찬성</p> <p>반대</p>
ㄴ. 무분별한 개발을 유발할 수 있다.	
ㄷ. 신체적 약자도 관광을 즐길 수 있다.	
ㄹ. 등산객이 분산되어 등산로 훼손이 줄어든다.	
ㅁ. 관광 소득이 늘어나고 지역 경제가 활성화된다.	
ㅂ. 케이블카 설치 주변 지역에만 이익이 돌아간다.	
ㅅ. 관광객이 늘면 자연 훼손이 더 심각해질 수 있다.	
ㅇ. 환경친화적 개발을 통해 환경 파괴를 최소화한다.	

- | 찬성           | 반대         |
|--------------|------------|
| ① ㄱ, ㄴ, ㄷ, ㄹ | ㅁ, ㅂ, ㅅ, ㅇ |
| ② ㄴ, ㄹ, ㅂ, ㅅ | ㄱ, ㄷ, ㅁ, ㅇ |
| ③ ㄷ, ㄹ, ㅁ, ㅇ | ㄱ, ㄴ, ㅂ, ㅅ |
| ④ ㄹ, ㅁ, ㅅ, ㅇ | ㄱ, ㄴ, ㄷ, ㅂ |
| ⑤ ㅁ, ㅂ, ㅅ, ㅇ | ㄱ, ㄴ, ㄷ, ㄹ |

### 16

다음 자료에 대해 바르게 설명한 학생만을 <보기>에서 고른 것은?



북태평양에는 거대한 섬이 만들어졌는데, 그 면적이 우리나라 영토의 14배에 달하며 '제7의 대륙'으로 불린다.

보기	
갑: 주요 구성 물질은 금방 자연 정화될 것입니다.	<p>① 갑, 을                      ② 갑, 병                      ③ 을, 병</p> <p>④ 을, 정                      ⑤ 병, 정</p>
을: 해류의 흐름이 강한 곳에 모여 있을 것입니다.	
병: 해양 물고기가 오염되거나 폐사할 수 있습니다.	
정: 해결책으로는 플라스틱과 비닐 사용을 줄여야 합니다.	



17

다음 기사를 읽고, 환경 이슈에 관한 갈등 해결 과정에 대한 설명으로 옳지 않은 것은?

**<수도권 매립지 사용 연장에 대한 논란>**

인천광역시 서구에 위치한 수도권 매립지는 서울특별시, 경기도, 인천광역시의 쓰레기 처리를 위해 조성된 대규모 쓰레기 매립장이다. 이곳은 2016년까지 사용하고 매립을 종료할 예정이었지만 서울특별시와 경기도, 환경부에서는 수도권 매립지의 매립 기한을 연장할 것을 요구하였다. 그러나 매립지의 악취와 부정적 이미지 때문에 해당 지역 주민들은 연장을 극심하게 반대하였다. 결국 치열한 논쟁 끝에 2025년까지 수도권 매립지를 연장하여 사용하기로 결정하였다. 그 대신 도시 철도와 테마파크 조성, 매립장 관리 권한 부여 등 매립지가 위치한 인천광역시에 경제적 이익을 줄 수 있는 방안이 제시되었다. 하지만 2025년 이후 매립지를 어디로 이전할 것인지에 대한 갈등이 남아있어 논쟁은 쉽게 마무리되지 못할 것으로 예상된다.

- 한국경제, 2016. 8. 15.

- ① 환경 이슈가 지역 이기주의로 발전되는 경우는 별로 없다.
- ② 갈등을 해결하기 위해서 기본적으로 관련법과 제도를 확인해야 한다.
- ③ 공정한 의사결정을 위해서 토의와 토론 등을 통해 다양한 의견을 수렴한다.
- ④ 개인과 지역 사회가 대안을 협력적으로 모색하여 실천하려는 태도가 필요하다.
- ⑤ 해결 방안을 찾기 위한 공청회를 개최하는 등 합리적이고 민주적인 절차가 필요하다.

18

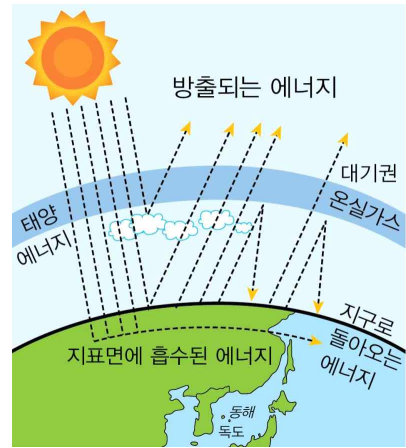
환경 이슈 중 성격이 다른 하나는?

- ① 댐 건설 논란
- ② 지하 터널 공사를 둘러싼 갈등
- ③ 원자력 발전소 건설을 둘러싼 갈등
- ④ 쓰레기 봉투 실명제를 둘러싼 논쟁
- ⑤ 신공항 건설 부지 선정을 둘러싼 논란

서술형 문제

19

다음 그림을 보고, 물음에 답하십시오.



(1) 그림에서 설명하는 현상을 쓰고, 이러한 현상이 나타나는 원인을 서술하십시오.

(2) (1)의 현상이 과도할 때 나타나는 현상을 쓰시오.

20

다음 글을 읽고, 물음에 답하십시오.

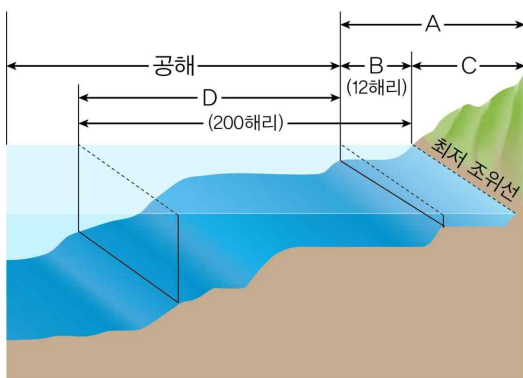
공기 중에 떠다니는 먼지 중 지름이 10 $\mu$ m (0.001mm) 이하의 것을 말한다. 주로 질산염, 황산염 등의 이온 성분과 탄소 화합물, 금속 화합물 등으로 이루어져 있으며, 환경 호르몬이나 중금속이 달라붙기도 한다. 이에 세계 보건 기구(WHO)에서는 1급 발암 물질로 정하였다.

(1) 위 글이 설명하는 먼지의 명칭과 주요 발생 원인을 쓰시오.

(2) (1)의 문제점에 대한 국가와 개인의 대응 방안을 서술하십시오.

01

그림은 영역을 나타낸 모식도이다. A~D에 관한 옳은 설명만을 <보기>에서 고른 것은?



보기

- ㄱ. A는 영토와 영해의 수직 상공으로 항공 교통의 발달과 함께 그 중요성이 커지고 있다.
- ㄴ. B는 배타적 경제 수역이다.
- ㄷ. 우리나라에서 C는 한반도와 그 부속 도서를 포함한다.
- ㄹ. 타국의 선박이나 항공기가 D에서 자유롭게 이동하기 위해서는 반드시 인접국의 사전 허가가 필요하다.

- ① ㄱ, ㄴ                      ② ㄱ, ㄷ                      ③ ㄴ, ㄷ
- ④ ㄴ, ㄹ                      ⑤ ㄷ, ㄹ

02

(가), (나) 섬에 대한 옳은 설명만을 <보기>에서 있는 대로 고른 것은?

(가) 섬	동경 131도 52분 22초
(나) 섬	북위 33도 06분 45초

보기

- ㄱ. (가) 섬은 우리나라 동쪽 끝에 있다.
- ㄴ. (가) 섬과 가장 가까이 위치한 유인도는 울릉도이다.
- ㄷ. (나) 섬은 행정구역상 경상북도에 속한다.
- ㄹ. (가) 섬은 (나) 섬보다 일출 시각이 더 빠르다.

- ① ㄱ, ㄴ                      ② ㄱ, ㄷ                      ③ ㄴ, ㄷ
- ④ ㄱ, ㄴ, ㄹ                ⑤ ㄴ, ㄷ, ㄹ

03

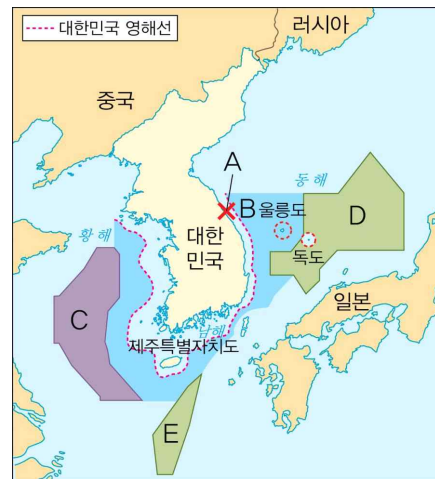
밑줄 친 ㉠~㉣에 대한 설명으로 옳지 않은 것은?

㉠ 영역은 영토와 영해, 영공으로 구성된다. ㉡ 영토는 국민의 삶의 터전이 되는 땅이다. 영해는 영토 주변의 바다로, 보통 ㉢ 영해 기선으로부터 12해리까지의 해역을 가리킨다. 최근에는 ㉣ 배타적 경제 수역(EEZ)에 대한 관심이 높아지고 있다. ㉤ 영공은 영토와 영해의 수직 상공이다.

- ① ㉠은 한 나라의 주권이 미치는 공간적 범위를 말한다.
- ② 우리나라의 ㉡ 중에서 가장 면적이 넓은 섬은 울릉도이다.
- ③ 서·남해안에서 ㉣은 가장 바깥쪽의 섬을 연결한 선이다.
- ④ ㉣에는 영해가 포함되지 않는다.
- ⑤ ㉣은 보통 대기권 내로 범위를 한정한다.

04

지도는 우리나라 주변의 배타적 수역도를 나타낸 것이다. A~E에 대한 설명으로 옳은 것은?



- ① A의 상공에서 일본의 헬기가 우리나라의 사전 허가 없이 비행할 수 있다.
- ② B에서 한국과 일본 어선이 공동으로 조업 활동할 수 있다.
- ③ C의 상공에서 중국의 군용기가 우리나라의 사전 허가 없이 비행할 수 없다.
- ④ D는 한·중 잠정 조치 수역이다.
- ⑤ E는 한국과 일본이 공동으로 어족 자원을 관리하는 수역이다.

05

㉠에 대한 옳은 설명만을 <보기>에서 고른 것은?



보기

- ㉠. 우리나라의 영토이다.
- ㉡. 종합 해양 과학 기지가 설치되어 있다.
- ㉢. 해수면 바깥으로 드러나 있는 암초이다.
- ㉣. 우리나라의 배타적 경제 수역에 포함된다.

- ① ㉠, ㉡      ② ㉠, ㉢      ③ ㉡, ㉣
- ④ ㉡, ㉣      ⑤ ㉢, ㉣

06

㉠, ㉡에 들어갈 용어와 밑줄 친 ㉢에 대한 옳은 설명만을 <보기>에서 고른 것은?

약 460~250만 년 전에 해저에서 형성된 화산섬인 ㉠은/는 다양한 동식물이 서식하는 생태계의 보고이며, 주변 바다에는 해양 자원이 풍부하다. ㉡ 약 50~60여 종의 희귀한 식물이 자생하고 있다. 또한 이 섬이 1982년 ㉢(으)로 지정되면서 갯이갈매기, 바다제비, 습새 등의 서식지가 보호 받을 수 있게 되었다.

보기

- ㉠. ㉠은 우리나라 영토 중 가장 남쪽에 위치한다.
- ㉡. 제시된 내용은 ㉠의 생태학적 가치의 중요성을 강조하고 있다.
- ㉢. ㉢은 강한 해풍에 잘 견디는 특성이 있다.
- ㉣. ㉣ 내용은 '유네스코 세계 자연 유산'이다.

- ① ㉠, ㉡      ② ㉠, ㉢      ③ ㉡, ㉣
- ④ ㉡, ㉣      ⑤ ㉢, ㉣

07

독도에 대한 설명으로 옳지 않은 것은?

- ① 화산 활동으로 분출한 용암이 굳어 형성된 섬이다.
- ② 동도와 서도, 그리고 89개의 부속 도서로 이루어져 있다.
- ③ 육지의 영향으로 기온의 연교차가 큰 대륙성 기후가 나타난다.
- ④ 조류, 식물, 곤충 등 다양한 생물이 가득한 생태계의 보고이다.
- ⑤ 주변 바다는 한류와 난류가 교차하여 영양 염류가 풍부한 조경 수역을 이루고 있다.

08

㉠~㉣에 대한 옳은 설명만을 <보기>에서 있는 대로 고른 것은?

1693년에 ㉠ 울릉도에서 고기잡이를 하던 부산 동래 출신 (㉡)은/는 일본 오키섬으로 납치되었다. 여기에서 (㉡)은/는 울릉도와 ㉢ 독도가 조선의 땅임을 주장하고 이를 인정하는 문서를 받았다고 한다.

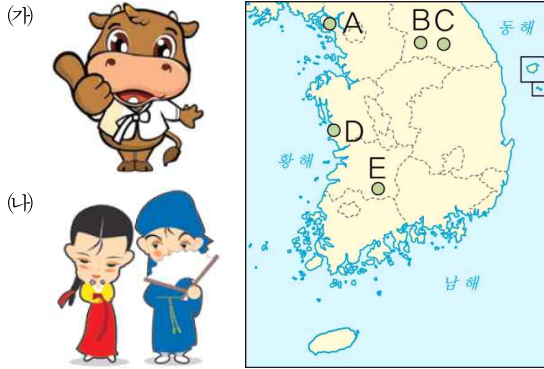
보기

- ㉠. ㉡에 들어갈 인물은 심홍택이다.
- ㉡. ㉠ 섬이 ㉢ 섬보다 거주 인구가 많다.
- ㉢. ㉠과 ㉢ 섬은 모두 화산 활동으로 형성되었다.
- ㉣. ㉢ 섬의 영해 기선 바깥쪽 12해리까지의 수역은 대한민국의 영해이다.

- ① ㉠, ㉡      ② ㉠, ㉢      ③ ㉡, ㉣
- ④ ㉠, ㉡, ㉢      ⑤ ㉡, ㉢, ㉣

### 09

(가), (나) 브랜드 이미지를 사용하는 지역을 지도의 A~E에서 고른 것은?



- |     |     |
|-----|-----|
| (가) | (나) |
| ① A | D   |
| ② B | E   |
| ③ C | A   |
| ④ D | B   |
| ⑤ E | C   |

### 10

지리적 표시제에 대한 설명으로 옳지 않은 것은?

- ① '이천 쌀'이 우리나라 최초로 등록되었다.
- ② 원산지의 지명을 상표권으로 인정해 준다.
- ③ 소비자에게 특산품에 대한 신뢰감을 준다.
- ④ 지역의 이미지를 개선해 주는 효과가 있다.
- ⑤ 상품이 지역의 생산품임을 증명하고 표시한다.

### 11

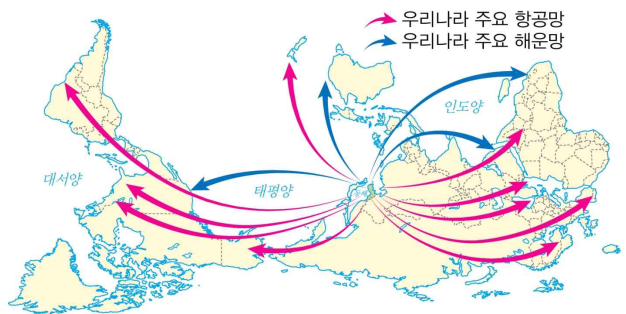
지역 브랜드 ㉠~㉣에 대한 설명으로 옳은 것은?



- ① ㉠: 청색은 바다를, 주황색은 대게와 일출을, 녹색은 청정 자연과 친환경적 농업을 상징한다.
- ② ㉡: 왕관은 지역에서 출토된 유물을 표현하고, 여섯 개의 점은 첨성대에서 바라본 별을 상징한다.
- ③ ㉢: 다양한 문화적 기반을 둔 지역의 역동성을 상징한다.
- ④ ㉣: 고장의 특산물인 배 모양으로 나이테는 오랜 역사를, 푸른색은 영산강을 상징한다.
- ⑤ ㉣: 청정 환경에서 자란 벼와 통일 한국의 중심 도시, 철새 도래지, 자연환경을 표현한다.

### 12

다음 지도를 통해 알 수 있는 우리나라 위치의 지리적 장점만을 <보기>에서 고른 것은?



보기

- ㉠. 우리나라는 반도국이어서 외세의 침략과 지배를 받기 쉽다.
- ㉡. 대륙과 해양 사이의 다리 역할을 하며, 문화의 발달과 전파에 큰 역할을 하였다.
- ㉢. 유라시아 대륙과 태평양을 연결하는 중계 무역의 핵심지로 성장할 잠재성이 크다.
- ㉣. 남북 통일로 해양의 진출이 차단되는 대신에 대륙으로의 진출이 활발해질 것이다.

- |        |        |        |
|--------|--------|--------|
| ① ㉠, ㉡ | ② ㉠, ㉢ | ③ ㉡, ㉣ |
| ④ ㉡, ㉣ | ⑤ ㉢, ㉣ |        |

13

지도는 아시안 하이웨이를 나타낸 것이다. 옳은 설명만을 <보기>에서 고른 것은?



보기

- ㉠. 남북통일이 되면 육로를 통해 유럽까지 진출할 수 있다.
- ㉡. 기존 해상 운송과 비교할 때, 아시안 하이웨이를 통한 물류비용은 비싸다.
- ㉢. 6번 아시안 하이웨이보다 1번 아시안 하이웨이가 더 많은 수의 국가를 통과한다.
- ㉣. 동남아시아를 거쳐 유럽으로 가기 위해서는 아시안 하이웨이 6번 도로를 이용해야 한다.

- ① ㉠, ㉡      ② ㉠, ㉢      ③ ㉡, ㉣
- ④ ㉡, ㉣      ⑤ ㉢, ㉣

14

지도는 남북통일 이후의 철도 노선을 나타낸 것이다. 이를 토대로 남북통일 이후 국토 공간의 변화 모습을 추론한 내용으로 옳지 않은 것은?



- ① 육로로 유럽까지 가는 길이 단순해질 것이다.
- ② 북한의 자원을 활용하는 공업이 성장할 것이다.
- ③ 러시아의 자원을 육로로 수입할 수 있을 것이다.
- ④ 물류 중심지로 신의주의 역할이 강화될 것이다.
- ⑤ 남북 간 교류가 늘어 관광 산업이 발전할 것이다.

15

다음 자료를 통해 알 수 있는 남북한 분단의 문제점은?

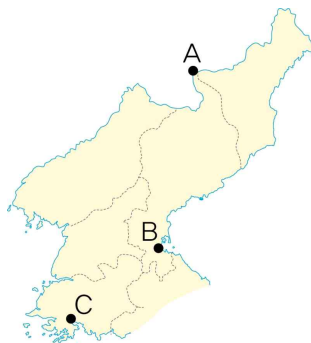
남한 말	북한 말	남한 말	북한 말
볶음밥	기름밥	도넛	가락지빵
달걀	닭알	주스	과일단물
달걀찜	닭알두부	도시락	곽밥
달걀말이	색쌈	족발	발쫂찜
양계장	닭공장	잡곡밥	얼력밥
수제비	뜨더국	아이스크림	얼음보송이

- ① 세계 평화 위협
- ② 경제 격차 확대
- ③ 군사비 부담 증가
- ④ 민족의 동질성 약화
- ⑤ 한반도의 위치적 장점 상실

16

자료는 통일 후 북한 여행을 가상하고 개발한 여행 상품 내용을 나타낸 것이다. 여행 일정에 따른 순서를 지도의 A~C에서 골라 순서대로 나열한 것은?

- 1일차: 한반도에서 가장 높은 산에 올라 분화구가 무너져 생긴 호수인 천지를 보고, 주변에서 온천욕을 즐긴다.
- 2일차: 고운 모래가 10리에 걸쳐 뻗어 있는 해변이라는 뜻을 갖는 곳에서 깨끗한 백사장을 거닐며 풍광을 감상한다.
- 3일차: 유네스코 세계 유산으로 지정된 역사 지구 내에 위치한 만월대와 첨성대 유적, 고려 성군관 등을 둘러본다.



- ① A → B → C
- ② A → C → B
- ③ B → A → C
- ④ B → C → A
- ⑤ C → B → A

## 17

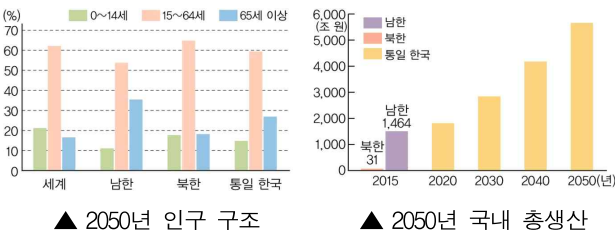
다음 대화에서 예측할 수 있는 통일 한국의 미래 모습으로 옳지 않은 것은?

소정: 우아! 중국을 거치지 않고 백두산 천지를 볼 수 있어.  
 총원: 주변국의 역사 왜곡이나 영유권 주장에 대해 남북이 공동으로 대처할 수 있게 되었어.  
 지후: 통일 이후 남북한이 지닌 경쟁력에 따라 대표적인 산업을 특색 있게 발전시킬 수 있어.  
 민수: 이제 유럽으로 수출품을 운송할 때는 철도를 이용한다고 해.

- ① 국제 사회에 정치적·경제적 영향력이 높아진다.
- ② 유라시아 대륙과 육로를 통해 연결되어 물류 산업이 발달한다.
- ③ 관광 산업이 활성화되어 관광 수입을 통해 지역 경제를 발전시킬 수 있다.
- ④ 언어, 생활 양식 등 남북 간 민족 문화 이질화가 심화되어 사회적 갈등이 지속될 수 있다.
- ⑤ 남한의 자본과 기술이 북한의 지하자원, 노동력과 결합되어 국토를 효율적으로 이용할 수 있다.

## 18

그래프는 2050년 인구 구조와 국내 총생산 예상 지표를 나타낸 것이다. 옳은 설명만을 <보기>에서 고른 것은?



보기

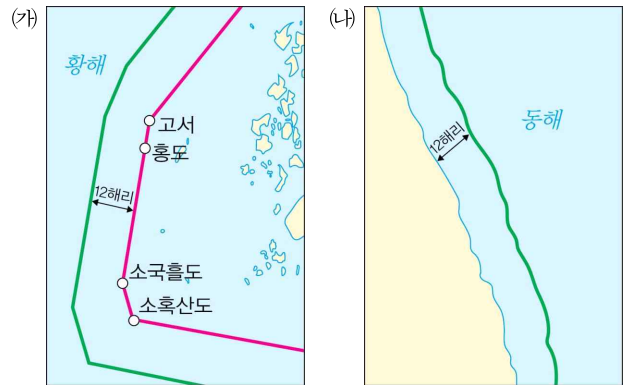
- ㄱ. 북한은 남한보다 인구 고령화가 뚜렷하다.
- ㄴ. 통일 한국은 남한보다 평균 연령이 낮다.
- ㄷ. 통일 한국은 남한보다 15세 미만 인구가 적다.
- ㄹ. 통일 한국은 남한에 비해 국내 총생산이 크다.

- ① ㄱ, ㄴ      ② ㄱ, ㄷ      ③ ㄴ, ㄷ
- ④ ㄴ, ㄹ      ⑤ ㄷ, ㄹ

## 서술형 문제

## 19

지도는 우리나라의 영해를 나타낸 것이다. (가)와 (나)에서 영해를 설정하는 기준이 어떻게 다른지 각각 서술하시오.



-----

-----

## 20

자료에서 설명하는 지역화 전략의 명칭을 제시한 후, 얻을 수 있는 긍정적인 효과를 두 가지 서술하시오.

1. 의미: 특정 장소가 가지고 있는 자연환경이나 역사적·문화적 특성을 드러내어 장소를 매력적인 상품으로 만들어 이를 판매하려는 활동을 말한다.
2. 사례: 함평 나비 축제, 화천 산천어 축제, 무주 반딧불 축제, 보령 머드 축제 등

-----

-----



01

다음 글에서 나타나는 세계의 다양한 문제의 원인만을 <보기>에서 있는 대로 고른 것은?

1948년 팔레스타인에 유대인 국가인 이스라엘이 세워지면서 원래 거주하던 팔레스타인 사람들은 삶의 터전을 잃게 되었다. 이들은 이스라엘과 전쟁을 시작하였고, 두 진영 사이의 전쟁은 아직도 진행 중이다.

보기

지구상의 지리적 문제는 ㉠ 국가 및 지역 간 경제 격차의 심화, ㉡ 서로 다른 종교 또는 민족 간의 대립, ㉢ 자원을 둘러싼 국가 간의 이해관계 대립, ㉣ 환경 오염 물질의 장거리 이동 등 여러 원인이 있다.

- ① ㉠                      ② ㉡                      ③ ㉢
- ④ ㉣                      ⑤ ㉡, ㉣

02

다음 자료의 주제로 가장 적합한 것은?

<세계적인 곡물 유통 회사의 운영 현황>

연매출	1,349억 달러 (약 148조 원)
순수익	18억 7,000만 달러 (약 2조 594억 원)
직원 수	14만 3,000명
거래 국가	130개국
사업장 수	67개국 1,200곳
곡물 창고 수	8,000개
접안 시설	확보한 항구 수 600곳

세계 곡물 유통 시장의 약 80%는 4대 곡물 대기업이 장악하고 있다. 곡물 대기업들은 이윤을 극대화하려고 유통량을 조절하는데, 이 과정에서 곡물 가격이 상승하면서 저개발 국가의 곡물 수입이 더욱 어려워지는 문제가 발생한다.

- ① 세계의 기아 현황
- ② 식량 생산량의 감소
- ③ 대기업의 이익 창출
- ④ 식량 작물의 용도 변화
- ⑤ 식량 분배의 국제적 불균형

[03~04] 다음 글을 읽고, 물음에 답하시오.

지구는 다양한 생명체가 서로 영향을 주고받으며 살아가고 있는 곳으로 생물 다양성은 생태계가 변화에 적응하고 스스로 회복할 수 있도록 하는 기본 조건이다. 그런데 최근 생물의 다양성이 감소하고 있다. 생물종이 감소하면 인간이 이용 가능한 생물 자원의 수가 감소할 뿐만 아니라 먹이 사슬이 끊겨 생태계가 빠르게 파괴된다.

03

생물 다양성 감소의 원인만을 <보기>에서 있는 대로 고른 것은?

보기

- ㄱ. 기후 변화
- ㄴ. 무분별한 남획
- ㄷ. 외래종의 유입
- ㄹ. 동물의 서식지 파괴
- ㅁ. 산업화와 도시화로 인한 숲의 파괴

- ① ㄱ, ㄴ                      ② ㄱ, ㄷ, ㅁ
- ③ ㄴ, ㄷ, ㄹ                ④ ㄴ, ㄷ, ㄹ, ㅁ
- ⑤ ㄱ, ㄴ, ㄷ, ㄹ, ㅁ

04

위의 문제를 위해 국제 연합(UN)이 1992년 채택한 것은?

- ① 바젤 협약
- ② 파리 협약
- ③ 교토 의정서
- ④ 세계 자연 기금
- ⑤ 생물 다양성 협약



## 05

기아 문제의 발생 원인 중에서 성격이 다른 하나는?

- ① 잦은 분쟁
- ② 빈번한 자연재해
- ③ 곡물 가격의 상승
- ④ 급격한 인구 증가
- ⑤ 식량 자원의 분배 문제

## 06

다음 사례에서 해결하고자 하는 문제로 옳은 것은?

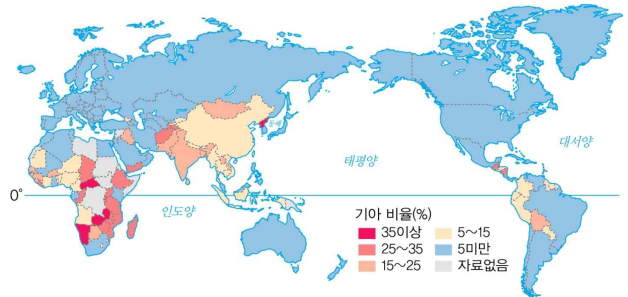
적정 기술은 어느 특정한 지역의 사정에 알맞은 기술로 문제 해결에 적절하게 사용될 수 있는 기술이다. 주로 개발 도상국에 적용된다.

- 예
- 전기가 들어오지 않는 더운 지역의 ‘항아리 냉장고’
  - 한 번에 많은 양의 물을 쉽게 옮길 수 있는 ‘큐드럼’
  - 매연이 줄어들고 연료비가 절감되는 ‘지 세이버’
  - 오염된 물을 정화해주는 빨대 형태의 ‘라이프 스트로’
  - 페트병과 물, 표백제로 만드는 ‘페트병 전구’

- ① 농작물의 다양성을 늘릴 수 있다.
- ② 불공정한 국제 무역 구조를 개선할 수 있다.
- ③ 저개발국의 영양 부족 문제를 해결할 수 있다.
- ④ 배타적 경제 수역을 둘러싼 갈등을 해결할 수 있다.
- ⑤ 빈곤 지역 주민들의 삶을 개선하고 소득을 증대할 수 있다.

## 07

지도는 각국의 인구 대비 기아 현황(2015년)을 나타낸 것이다. 이에 대한 설명으로 옳은 것은?



- ① 유럽은 비만 비율이 낮고 기아 비율이 높게 나타난다.
- ② 남아시아는 가뭄, 홍수 등에 따른 식량 부족으로 기아 비율이 가장 높게 나타난다.
- ③ 사하라 이남 아프리카는 사막화 면적이 증가함에 따라 기아 비율이 낮게 나타난다.
- ④ 중·남부 아메리카는 식량 분배의 국제적인 불균형으로 인해 기아 비율이 가장 낮게 나타난다.
- ⑤ 급격한 인구 증가와 잦은 분쟁으로 어려움을 겪고 있는 지역에서 기아 비율이 높게 나타난다.

## 08

다음 지역에서 분쟁이 발생하는 원인으로 옳은 것은?



- ① 빈곤
- ② 민족 대립
- ③ 자연재해
- ④ 종교 갈등
- ⑤ 오염 물질의 이동

09

지도를 통해 유추할 수 있는 잦은 분쟁의 원인으로 옳은 것은?



- ① 다양한 인종이 섞여 있기 때문
- ② 국가별로 경제 체제가 다르기 때문
- ③ 국경과 부족의 경계가 다르기 때문
- ④ 지역마다 추구하는 이념이 다르기 때문
- ⑤ 농사에 유리한 평원과 산악 지형의 구분 때문

10

지도와 같이 영역을 둘러싼 갈등이 증가하는 이유로 옳은 것을 <보기>에서 있는 대로 고른 것은?



보기

- ㄱ. 자원의 확보
- ㄴ. 해상 교통로의 요지
- ㄷ. 군사적 요충지 획득
- ㄹ. 해양 자원의 가치 상승

- ① ㄱ, ㄴ      ② ㄴ, ㄷ      ③ ㄱ, ㄴ, ㄷ
- ④ ㄴ, ㄷ, ㄹ      ⑤ ㄱ, ㄴ, ㄷ, ㄹ

11

지도는 세계의 지리적 문제 발생 지역을 나타낸 것이다. A에 들어갈 말로 옳은 것은?



- ① 빈곤 문제
- ② 언어 분쟁
- ③ 역사적 배경
- ④ 민족·종교 분쟁
- ⑤ 바다를 둘러싼 분쟁

12

발전 수준의 다양한 지표 중 선진국과 개발 도상국에서 각각 높게 나타나는 것끼리 바르게 연결한 것은?

보기

- ㄱ. 1인당 국내 총생산(GDP)
- ㄴ. 기대 수명
- ㄷ. 성 불평등 지수
- ㄹ. 성인 문자 해독률
- ㅁ. 교사 1인당 학생 수
- ㅂ. 영아 사망률

선진국

개발 도상국

- ① ㄱ, ㄴ, ㄷ      ㄷ, ㅁ, ㅂ
- ② ㄱ, ㄷ, ㅁ      ㄴ, ㄹ, ㅂ
- ③ ㄴ, ㄹ, ㅁ      ㄱ, ㄷ, ㅂ
- ④ ㄷ, ㅂ      ㄱ, ㄴ, ㄹ, ㅁ
- ⑤ ㄷ, ㄹ, ㅁ, ㅂ      ㄱ, ㄴ

### 13

다음 글과 관련 있는 국제기구는?

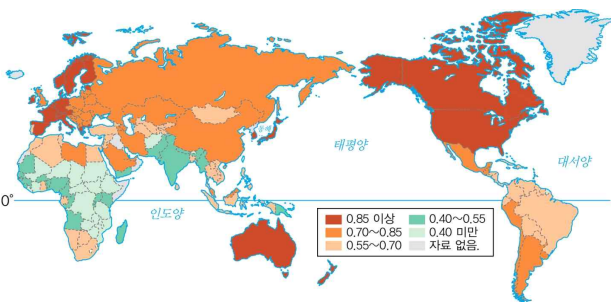
노벨 평화상을 받은 ○○○이 전 세계 억만장자에게 기아 퇴치를 위한 기부에 동참해 달라고 호소했다고 보도하였다. 올해 극심한 기아에 시달리는 사람이 1억 3천 800만 명에 다가갈 것이고, 기후 충격과 경제적 압박으로 곤경이 악화했고, 세계적인 감염병으로 더욱 기아로 내몰리고 있다고 말하였다.

- MBC 뉴스, 2020. 10. 10.

- ① 국제 연합(UN)
- ② 세이브 더 칠드런
- ③ 세계 식량 계획(WFP)
- ④ 경제 협력 개발 기구(OECD)
- ⑤ 국제 연합 식량 농업 기구(FAO)

### 14

지도는 인간 개발 지수(HDI)를 나타낸 것이다. 이에 대한 설명으로 옳은 것은?



- ① 국가별 국민의 행복 지수를 평가한 지표이다.
- ② 국제 연합 평화 유지군(PKF)에서 지표를 종합하여 발표한다.
- ③ 1인당 국민 소득, 평균 수명과 학력 수준 등을 기준으로 한다.
- ④ 주로 선진국에서 낮게 나타나고, 개발 도상국에서 높게 나타난다.
- ⑤ 국내 총생산, 기대 수명, 사회적 자본, 부패 지수, 관용의 지표를 활용한다.

### 15

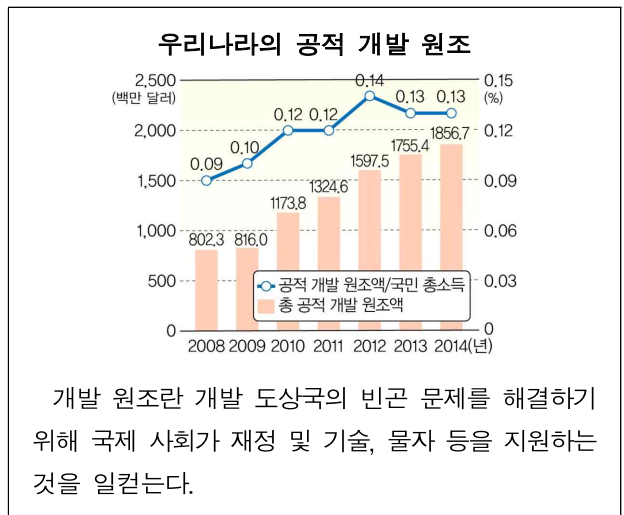
㉠~㉣에 들어갈 내용을 바르게 연결한 것은?

국제 연합(UN)	㉠
㉡	분쟁 지역에 파견되어 질서 유지 및 주민 안전 보장
㉢	난민 보호 및 난민 문제 해결
국제 연합 아동 기금(UNICEF)	㉣
㉣	세계의 질병 및 보건 위생 문제 해결

- ① ㉠ - 아동 구호와 아동의 복지 향상
- ② ㉡ - 국제 연합 난민 기구(UNHCR)
- ③ ㉢ - 국제 연합 평화 유지군(UNPKF)
- ④ ㉣ - 국제 평화와 안전의 유지, 인권 및 자유 확보를 위해 노력
- ⑤ ㉣ - 세계 보건 기구(WHO)

### 16

다음 자료를 보고 지역 간 불평등 완화를 위한 노력으로 옳지 않은 것은?



- ① 우리나라는 한국 국제 협력단(KOICA)을 통해 지원하고 있다.
- ② 우리나라는 원조를 받던 나라에서 도움을 주는 나라가 되었다.
- ③ 공적 개발 원조는 개발 도상국의 경제 발전과 복지 증진이 목적이다.
- ④ 경제 협력 개발 기구(OECD)의 개발 원조 위원회(DAC)에서 담당한다.
- ⑤ 과거에는 사회 기반 시설 구축을 지원하였으나 최근에는 식량이나 물품의 형태로 지원한다.

17

다음 (가)에 들어갈 단체를 <보기>에서 고른 것은?

오늘날에는 (가)의 비중이 점점 커지고 있다. 민간 단체가 중심이 되어 만들어진 조직으로 인도 주의적 차원에서 구호 활동을 하는 단체이다. 이들은 자체 활동을 하면서 국제기구를 보조하기도 하는데 최근 이들의 기여도가 높아지고 있다.

가. 그린피스                      나. 월드비전  
 다. 국제 연합 아동 기금      라. 한국 국제 협력단  
 마. 국경 없는 의사회

- ① 가, 나, 다            ② 가, 나, 마            ③ 나, 다, 라
- ④ 나, 라, 마            ⑤ 다, 라, 마

18

다음의 문제에 대응하는 세계 시민으로서의 자세로 옳지 않은 것은?

오늘날 우리의 삶의 공간이 전 지구로 확대되고 국가 간, 지역 간 상호 의존성이 더욱 높아지면서 환경 오염, 분쟁, 빈곤 등 전 지구적 차원의 협력이 필요한 문제가 나타나고 있다.

- ① 일회용품 사용 자제와 생태 환경 보호를 위한 노력
- ② 서로의 차이와 다양성을 인정하고 존중하려는 자세
- ③ 경제 발전을 위해 사회적 책임보다 효율성을 중요시하는 자세
- ④ 빈곤과 기아 문제를 해결하기 위한 봉사 활동이나 기부 등에 동참
- ⑤ 지구촌을 하나의 공동체로 인식하고 세계 곳곳의 지리적 문제에 관심을 가짐

서술형 문제

19

다음에서 설명하는 현상을 무엇이라고 하는지 쓰고, 이를 해결하기 위한 방안을 서술하시오.

지구상에는 경제 발전 수준이 높은 국가와 경제 발전 수준이 낮은 국가가 있다. 경제 발전 수준이 높은 선진국들은 주로 북반구에 있고, 상대적으로 경제 발전 수준이 낮은 개발 도상국들은 주로 적도 주변과 남반구에 위치한다. 이들 간에는 경제적 격차 때문에 다양한 갈등이 나타나고 있다.

---



---

20

밑줄 친 '운동'이 무엇인지 쓰고, 이에 대한 효과를 생산자와 소비자로 나누어 서술하시오.

최근 기존의 국제 무역 체계로는 세계의 가난을 해결하는 데 한계가 있다는 인식 아래 개발 도상국에서 생산되는 환경친화적인 제품들에 대해 중간 유통 과정을 거치지 않고 선진국의 소비자가 정당한 가격을 지급하여 생산자들에게 무역의 혜택이 돌아가도록 하자는 운동이 확대되고 있다.

---



---

# ✦ Memo ✦

A series of horizontal dashed lines for writing, spanning the width of the page.



중학교 사회 ①, ②

# 단원 평가 문제집



## 정답과 해설

- ◆ 중학교 사회 1  
◆ 정답과 해설 ..... 128쪽
- ◆ 중학교 사회 2  
◆ 정답과 해설 ..... 153쪽



사회 1

김영사

단원 평가	1회	1단원 내가 사는 세계			
01 ③	02 ④	03 ③	04 ㉠ 등고선, ㉡ 방위		
05 ⑤	06 ①	07 ②	08 ⑤	09 ②	
10 시차	11 ①	12 ①	13 ⑤	14 ②	
15 지리 정보 시스템(GIS)			16 ③	17 ②	
18 ③	19 해설 참조		20 해설 참조		

01 주제 파악: 다양한 지도

자연환경 정보를 나타내는 지도에는 지형도와 기후도가 있다. 인문 환경은 인간이 자연을 토대로 만들어낸 환경으로, 자연환경에 대비되는 개념이다. 교통, 문화, 산업, 인구 등의 환경이 여기에 속한다.

02 주제 파악: 지도에 나타난 다양한 정보 읽기

우리나라는 유라시아 대륙의 동쪽에 위치하며, 태평양과 접해 있다.

03 주제 파악: 지도에 나타난 다양한 정보 읽기

A는 축척으로 실제 거리를 지도상의 거리로 줄여서 나타낸 것이다. 따라서 축척을 통해서 실제 거리를 알 수 있다. B는 방위를 나타낸 방위표이다. 방위표가 없을 때는 위쪽이 북쪽, 아래쪽이 남쪽이다. C는 도로와 가옥을 표시한 기호이다. 지도의 C에는 도로와 가옥 및 상가가 밀집되어 있음을 확인할 수 있다. 이렇게 지도에 표시된 축척, 방위, 등고선 및 다양한 기호를 통해 자연 및 인문 환경을 쉽게 파악할 수 있다. ㄱ. A를 통해 해발 고도를 알 수 있다. (x) → A는 축척으로 실제 거리를 알 수 있다. 해발 고도는 등고선을 통해서 알 수 있다. ㄴ. A~C를 통해 인문 환경을 파악하기 어렵다. (x) → 축척을 통해서 실제 거리를, 방위표를 통해서 방위를, 기호를 통해서 도로 및 상가, 학교 등을 파악할 수 있다.

04 주제 파악: 지도에 나타난 정보 읽기

등고선은 해발 고도가 높은 지점을 연결한 선으로 그 간격이 넓으면 완경사, 간격이 좁으면 급경사이다. 방위표는 지도에서 방향을 나타낸 것으로 방위표가 없을 경우 지도의 위쪽을 북쪽으로 본다.

05 주제 파악: 다양한 지도

그림에서 우리 집은 랜드마크나 주소 등을 이용하여 구체적으로 작은 규모의 위치를 표현하여 설명해야 한다. ③과 ④는 대륙이나 경위도를 이용하여 큰 규모의 위치를 표현한 예이다. ②는 그림만으로 알 수 없고, 완전한 도로명 주소를 사용하면 작은 규모의 위치 표현 방법이라 할 수 있다.

06 주제 파악: 위도에 따른 기후 차이

A는 저위도, B는 고위도이다. 저위도에서 고위도로 갈수록 태양 에너지를 적게 받아 열대-온대-냉대-한대 기후가 나타난다. 위도에 따른 기후 차이는 의식주 문화와 산업 활동 등 인간 생활에 많은 영향을 주고 있다.

07 주제 파악: 백야 현상 이해하기

고위도 지방에서 하지를 전후로 해가 지지 않는 현상을 '백야', 동지를 전후로 하루 종일 해가 뜨지 않는 현상을 '극야'라고 한다.

08 주제 파악: 위도에 따른 인간 생활의 차이 이해하기

지구는 둥글기 때문에 태양이 지표면을 비추는 각도에 따라 일사량이 달라진다. 적도 부근은 태양이 수직으로 비추어 일사량이 많고, 극지방은 태양이 비스듬히 비추어 일사량이 적다. 이로 인하여 적도에서 극지방으로 갈수록 기온이 낮아지며, 열대 기후, 온대 기후, 냉대 기후, 한대 기후가 차례로 나타난다.

09 주제 파악: 북반구와 남반구의 계절 차이가 인간 생활에 미치는 영향 이해하기

남반구와 북반구는 밀의 수확 시기가 다르기 때문에 전 세계적으로 보면 밀은 일 년 내내 생산되는 셈이다. 주요 수출국인 미국, 캐나다 등의 밀 생산 기간이 5~8월에 집중되는 반면, 11월경이 되면 아르헨티나와 오스트레일리아 등 남반구의 국가에서 밀이 생산된다. 8월과 11월 사이 약 2개월의 공백 기간이 있어 이 시기에 전 세계적으로 밀 가격이 상승한다. 따라서 남반구의 밀 생산 국가들은 11월에 생산한 밀을 비싼 가격에 팔 수 있게 되는 것이다.

10 주제 파악: 시차의 의미

시차는 지구가 하루에 한 바퀴씩 서쪽에서 동쪽으로 자전하며 발생하는데, 하루 24시간에 한 바퀴 360°를 회전하므로 경도 15°마다 1시간씩 시차가 발생한다.

11 주제 파악: 시차와 주민 생활

지구는 1시간마다 15°씩 자전을 한다. 표준 경선 15° 차이는 1시간의 시차를 발생한다. 영국의 런던을 기준으로 서울과 로스앤젤레스 두 도시의 표준 경선 차이를 계산해보면 255°이다. 시차는 255°/15°로 계산하면 17시간이 된다. 서울은 동경, 로스앤젤레스는 서경에 위치하고 있기 때문에 서울이 로스앤젤레스보다 시간이 빠르다. 우리나라 시간에서 17시간을 빼주면 로스앤젤레스의 시간을 알 수 있다.

12 주제 파악: 표준 경선 구하기

현지 시각보다 우리나라의 시각이 빠르기 때문에 우리나라는 동계올림픽 개최지보다 더 동쪽에 위치하고 있음을 알 수 있다. 시차가 5시간이기에 표준 경선 차이는 5시간×15°=75°이다. 우리나라의 표준 경선 135°에서 75°를 빼면 동경 60°가 된다.



**13 주제 파악: 공간 규모가 좁은 지역 표현하기**

랜드마크는 한 장소를 상징하는 대표적인 건축물이나 조형물 등을 말한다. 랜드마크는 주변 경관 중에서 눈에 가장 잘 띄기 때문에 사람들이 자신의 위치를 파악하는데 도움을 준다.

**14 주제 파악: 지리 정보 수집 도구의 특징**

(가) 종이 지도, (나) 인터넷 전자 지도이다. 인터넷 전자 지도는 지도의 확대와 축소가 쉽고, 찾는 지역의 위치와 사진 등을 빠르게 검색할 수 있다. 그리고 위성 사진과 항공 사진으로 전환하여 볼 수 있다.

**15 주제 파악: 지리 정보 시스템(GIS)의 개념**

지리 정보 시스템(GIS, Geographic Information System)은 컴퓨터를 이용하여 다양한 지리 정보를 디지털 자료로 변환하여 저장하고, 이를 분석·활용하는 종합 관리 시스템을 의미한다. 지리 정보 시스템을 이용하면 원하는 정보를 쉽게 추출하고, 사용자의 요구에 맞게 효과적으로 표현할 수 있다는 장점이 있다.

**16 주제 파악: 지리 정보 시스템(GIS)의 활용**

모든 조건을 부합하는 곳을 표시한 것은 ③이다. ①, ②, ④, ⑤은 초등학교에서 1km 이내 조건을 충족하지 못한다.

**17 주제 파악: 지리 정보 시스템(GIS)의 활용**

지리 정보 시스템은 도시 계획, 환경 관리, 각종 시설물과 사업체의 입지 선정 등 공간적 의사결정이 필요한 다양한 분야에서 활용되고 있다. 지표면의 여러 현상을 기호로 나타내는 것은 종이 지도의 특징이다.

**18 주제 파악: 지리 정보 수집 도구의 특징**

종이 지도는 가장 오래된 지리 정보 수집 도구이다. 위성 사진은 대기 중의 현상들을 사실적으로 관찰할 수 있지만, 확대와 축소가 자유롭지 않다.

**19 주제 파악: 지도에 나타난 정보 읽기**

**예시 답안 |** 농작물은 원산지와 기후가 달라지면 재배가 어려워지므로 비슷한 위도대로 전파가 활발하게 이루어지고, 그에 따라 사람들의 이주도 동서 방향으로 나타났다. 아프리카 및 아메리카 대륙의 남북 방향으로 이동은 위도가 달라 문명 전파에 불리했다. 왜냐하면, 다양한 기후가 나타나 농작물의 전파와 사람들의 이주 및 적응이 어렵기 때문이다.

**핵심 단어 |** 위도, 기후, 농작물

등급	채점 기준
상	비슷한 기후를 가진 위도를 따라 동서 방향으로 이동했다를 서술한 경우
하	동서 방향으로 이동했다라고만 쓴 경우

**20 주제 파악: 시차를 산업에 활용한 사례**

**예시 답안 |** 미국 로스앤젤레스와 인도 벵갈루루는 약 13시간 30분의 시차가 있다. 따라서 미국의 연구원들이 퇴근할 때 진행하던 업무를 온라인 상으로 인도 벵갈루루의 지사에 발송하고, 인도 연구원들이 퇴근할 때 다시 미국 본사로 업무를 넘기는 방식으로 모두 주간에만 근무하면서 24시간 동안 업무를 진행할 수 있다.

**핵심 단어 |** 대략 12~13시간의 시차 활용, 업무 교환 가능

등급	채점 기준
상	13시간 30분의 시차를 활용하여 로스앤젤레스와 벵갈루루 두 곳에서 24시간 동안 업무를 진행할 수 있다는 포함하여 서술한 경우
하	시차를 활용하여 두 도시에서 업무 교환이 가능하다고만 서술한 경우

단원 평가	2회	2단원 우리와 다른 기후, 다른 생활			
01 자연환경	02 ②	03 ⑤	04 ③		
05 ①	06 ②	07 ⑤	08 ①	09 ⑤	
10 ⑤	11 ⑤	12 ②	13 ①	14 ①	
15 ④	16 ④	17 영구 동토층		18 ②	
19 해설 참조	20 해설 참조				

**01 주제 파악: 자연환경**

자연환경은 인간 거주에 영향을 미치기 때문에 자연환경에 따라 인간 거주에 유리한 지역과 불리한 지역이 있다.

**02 주제 파악: 날씨와 기후의 구분**

(가) 날씨, (나) 기후이다. 날씨는 짧은 시간에도 자주 변하지만 이러한 상태를 30년 정도의 오랜 기간을 두고 관찰하면 변화 모습이 거의 규칙적으로 반복하여 나타난다. 이렇게 여러 해 동안 반복적으로 나타나는 평균적인 대기 상태를 기후라고 한다. ② 기후에 대한 설명이다.

**03 주제 파악: 위도별 일사량의 차이**

햇빛이 수직으로 들어와 좁은 지역에 열이 집중되는 지역은 태양 에너지를 많이 받고, 햇빛이 지구 둥근 표면을 따라 비스듬하게 분산되면서 넓은 지역에 걸쳐 들어오면 태양 에너지를 적게 받는다. 이로 인해 저위도에서 고위도 지역으로 갈수록 기온이 낮아진다.

**04 주제 파악: 열대 기후의 특징**

글에서 설명하는 기후 지역은 열대 기후 지역이다. 열대 기후는 가장 추운 달의 평균 기온이 18℃ 이상이다. 이 지역에서는 아마존 밀림과 같은 열대 밀림이 나타난다. ① 한대 기후, ② 온대 기후, ③ 열대 기후, ④ 건조 기후, ⑤ 냉대 기후 그래프이다.

**05 주제 파악: 열대 우림의 특징 파악**

열대 우림 기후 지역은 비가 많이 내려 다양한 종류의 나무와 풀들이 자랄 수 있는 환경이 조성되어 있다. 열대 우림의 상층에는 키가 큰 나무들이 뻗뻗하게 들어서 있으며, 하층에는 햇빛이 잘 들지 않아 키가 작은 나무와 덩굴이 자라고 있다. ㄷ 적도 부근의 열대 우림 기후 지역에 분포한다. ㄹ 열대 우림은 식량 자원 및 의약품의 원료 공급지로 높은 잠재적 가치를 지닌다.

**06 주제 파악: 이동식 화전 농업**

열대 우림 지역에 거주하는 원주민들은 수렵과 채집을 통해 먹을 것을 구하기도 하지만, 이동식 화전 농업을 통해 카사바, 양 등을 재배한다.

**07 주제 파악: 열대 우림 지역의 변화**

관개 농업 지역을 확대하거나 일자리를 제공하여 일정한 곳에 정착하여 생활하는 유목민들이 늘고 있는 지역은 건조 지역에 해당한다.

**08 주제 파악: 열대 우림 지역의 음식 문화**

덥고 습한 열대 우림 기후 지역의 사람들은 음식이 쉽게 상하지 않도록 조리할 때 기름이나 향신료를 많이 사용한다.

**09 주제 파악: 온대 기후의 특징**

서안 해양성 기후는 연중 바다에서 불어오는 편서풍과 난류의 영향으로 기온의 연교차가 작다.

**10 주제 파악: 온대 기후의 다양한 주민 생활**

A는 서안 해양성 기후, B는 지중해성 기후, C는 온대 계절풍 기후 지역이다. 서안 해양성 기후(A) 지역은 흐리고 비 내리는 날이 많아 외출 시 우산과 가벼운 겉옷을 준비한다. 이곳 주민들은 늘 햇빛의 부족함을 느끼기 때문에 맑은 날에는 공원의 잔디밭이나 강변에서 일광욕을 즐기곤 한다. 지중해성 기후(B) 지역은 여름철 고온 건조한 기후로 인해 가옥의 벽을 두껍게 만들고 창문을 작게 하여 햇빛과 열기를 차단한다. 특히 외벽을 흰색으로 칠한 경우가 많은데 이는 햇빛을 반사해 기온을 낮출 수 있기 때문이다. 또 사람들은 낮 동안 태양 열기를 피해 '시에스타'라고 불리는 낮잠을 즐긴다. 온대 계절풍(C) 기후 지역은 고온 다습한 여름철의 기후 조건을 바탕으로 벼농사가 발달하였으며 저위도의 경우 벼의 2기작이 이루어지기도 한다. 특히 우리나라는 고온 다습한 여름철의 기후 조건이 벼의 생육에 유리하여 벼농사가 발달하였다.

**11 주제 파악: 온대 지역의 주민 생활**

고산 가옥은 열대 우림 지역, 유목 생활은 건조 지역에 대한 설명이다.

**12 주제 파악: 서안 해양성 기후 특징**

기후 그래프를 통해 여름철 7월의 기온이 평균 기온이 20℃를 넘지 않은 서늘한 기온을 보이고 있다. 또 1월 평균 기온이 영상이 넘는다. 강수는 연중 계절적 편차가 작게 나타남을 알 수 있다. 이를 통해 해당 기후 지역이 서안 해양성 기후임을 알 수 있다.

- ① 대륙 동안에서 나타난다. (x) → 서안 해양성 기후는 대륙의 서안에서 나타난다.
- ③ 여름철에 덥고 건조한 날씨가 나타난다. (x) → 기온 그래프를 보면 여름철 평균 기온이 20℃를 넘지 않은 서늘한 날씨가 나타난다.
- ④ 계절풍의 영향으로 겨울에는 춥고 건조하다. (x) → 계절풍의 영향을 받으면 연교차가 크게 나타난다. 하지만 해당 지역은 연중 바다에서 불어오는 편서풍의 영향을 받아 연교차가 작게 나타나고 있다.
- ⑤ 기온의 연교차가 큰 대륙성 기후가 나타난다. (x) → 연중 바다에서 불어오는 편서풍의 영향을 받아 기온의 연교차가 작은 해양성 기후의 특징을 보이고 있다.

**13 주제 파악: 인간 거주 기후 조건**

(가) 강수량보다 증발량이 많아 물이 부족한 건조 기후 지역, (나) 사계절이 나타나고 농업에 유리한 온대 기후 지역 또는 냉대 기후 지역에 해당한다.

**14 주제 파악: 사막 기후 분포**

빛금 친 지역은 사막이 분포하는 지역을 표시한 것이다.

**15 주제 파악: 건조 지역의 기후 특징과 관개 시설**

카나트는 건조 기후 지역에서 나타나는 관개 시설이다. 건조 기후 지역은 연 강수량이 500mm 미만으로, 강수량이 부족하여 식물이 자라기 어려우므로 농업 활동을 하기에 불리하며, 기온의 일교차가 매우 크다.

**16 주제 파악: 건조 지역의 가옥 특징**

사막 지역 사람들은 주변에서 쉽게 구할 수 있는 흙을 이용하여 흙집이나 흙벽돌집을 짓는데, 일교차를 조절하고 뜨거운 바람을 막기 위해 벽을 두껍게 만들고 창문을 작게 낸다. 또한 골목길이 그늘지도록 건물을 다닥다닥 붙여서 지으며, 비가 거의 오지 않아 가옥의 지붕을 평평하게 한다.

**17 주제 파악: 툰드라 기후 지역의 영구 동토층**

영구 동토층은 툰드라 기후 지역에서 땅속 온도가 0℃ 이하를 유지하여 항상 얼어있는 토양층으로 여름철에도 형태를 유지한다.

**18 주제 파악: 툰드라 지역의 생활 모습**

툰드라는 ‘나무가 없는 땅’이라는 뜻이다. 툰드라 기후 지역은 기온이 매우 낮은 편으로, 이 지역의 지표 밑에는 여름에도 녹지 않고 얼어있는 영구 동토층이 있다. 영구 동토층 위의 지표면 부근 토양층에는 짧은 여름철에 눈과 얼음이 녹아서 생긴 습지가 곳곳에 분포한다.

**19 주제 파악: 열대 우림의 다양한 가치**

**예시 답안 |** 첫째, 열대 우림은 다양한 동식물의 서식지가 되어 생물 다양성이 매우 높으며 생태계의 보고이기 때문이다. 둘째, 열대 우림은 이산화 탄소를 흡수하고 산소를 공급해 주며 지구 환경적 측면에서 온실 효과를 억제해 지구 온난화를 방지해 주기 때문이다. 셋째, 열대 우림은 식량 자원 및 의약품의 원료 공급지로 높은 잠재적 가치를 지니고 있기 때문이다.

**핵심 단어 |** 생물 다양성, 산소 공급, 식량 자원

등급	채점 기준
상	열대 우림의 다양한 가치를 여러 가지 방향에서 서술한 경우
하	지구에 필요하다라고만 쓴 경우

**20 주제 파악: 지중해성 기후 지역의 빈번한 여름 산불 이유**

**예시 답안 |** 유럽의 남부 지역으로 제시된 에스파냐, 이탈리아, 프랑스 남부는 지중해성 기후 지역에 해당하며, 이곳에 여름철 산불이 빈번한 이유는 고온 건조한 기후적 특징으로 인한 것이다.

**핵심 단어 |** 고온 건조

등급	채점 기준
상	고온 건조한 기후적 특징을 서술한 경우
하	기후적 특징이라고만 서술한 경우

단원 평가	3회	3단원 자연으로 떠나는 여행	
01 ⑤	02 ①	03 ⑤	04 마추픽추
05 ④	06 ③	07 ⑤	08 ④ 09 ③
10 ①	11 ③	12 ⑤	13 동고서저
14 ②	15 ④	16 ⑤	17 ④ 18 ④
19 해설 참조	20 해설 참조		

**01 주제 파악: 지형 형성 작용**

지형 형성 작용에는 지구 내부의 힘에 의한 것과 지구 외부의 힘에 의한 것이 있다. 지구 내부의 힘은 지구 내부의 열에너지가 지각에 작용하는 지표의 기복 형성, 융기, 침강, 습곡, 단층, 화산 활동이 있고, 지구 외부의 힘은 지구 외부의 태양 에너지에 의한 물과 공기의 순환, 지표 평탄화, 하천, 빙하, 강수, 바람 등에 의한 침식·운반·퇴적, 풍화 작용 등이 있다.

**02 주제 파악: 지형 형성 작용**

지구 내부의 힘(내인적 작용)은 습곡, 융기, 침강, 화산 활동을 통해 지형을 변화시켰다. (가)는 침식·운반·퇴적·풍화 작용 등 지구 외부의 힘(외인적 작용)을 나타낸 것으로 지구 내부의 힘에 의해 형성된 지형은 외인적 작용을 끊임없이 받으면서 더욱 다양한 지형을 만든다.

**03 주제 파악: 세계의 산맥과 산지**

산지는 지층이 습곡 작용을 받아 휘어지거나, 땅속 깊은 곳의 뜨거운 마그마가 땅 위로 분출하는 화산 활동과 같은 지구 내부의 힘으로 만들어진다. 이러한 산지는 하천과 빙하, 비와 바람의 작용으로 높이나 형태 등이 변화한다.

**04 주제 파악: 안데스 산지의 마추픽추**

페루의 마추픽추는 해발 고도 2,200m에 자리 잡은 잉카 문명의 흔적이 남아 있는 도시이다. 도시는 계단식 형태로 발달하여 있으며 해마다 많은 관광객이 찾는 남아메리카의 유명한 관광지이다.

**05 주제 파악: 다양한 산지 지역의 주민 생활 모습**

(가)의 알프스 산지는 계절에 따른 기온 변화가 뚜렷하여 더운 여름철에는 고지대에도 풀이 자라 가축을 기를 수 있지만 겨울철에는 가축을 기르기 힘들기 때문에 고지대에 비해 기온이 높고 마을이 있는 저지대로 가축과 함께 이동한다. 이러한 것을 이목이라고 한다. (나)의 몽골고원은 넓은 초원으로 계절에 따라 기온이 달라 풀을 찾아 이동하며 가축을 기른다. 이러한 것을 유목이라고 한다. (다)와 (라)는 산지 지역의 계단식 경작지로 평지에 비해 인간이 살기 불리한 지형 조건이다. 계단식 경작지는 기온과 강수량에 따라 각각 논과 밭의 형태로 이용된다. 논에서는 주로 벼를 재배하는데, 벼는 고온 다습

한 기후에서 잘 재배된다. 이에 비해 밭에서는 서늘한 기후에서 잘 자라는 감자, 옥수수 등을 재배한다.

**06 주제 파악: 산지의 주민 생활**

산맥과 산지는 각종 지하자원과 물 자원, 삼림 자원이 풍부할 뿐만 아니라 외부로부터 방어에 유리하다. 따라서 산지의 주민들은 경사지를 농경지나 목초지로 개간하여 이용하거나 임산물을 채취하면서 살아간다.

**07 주제 파악: 해안 지형의 형성 과정 및 특징**

곳은 육지가 바다 쪽으로 돌출한 곳으로 파랑 에너지가 집중되어 파랑의 침식 작용이 활발하다. 해안 절벽, 돌기둥, 동굴 등 해안 침식 지형이 발달한다. 만은 바다가 육지 쪽으로 들어간 곳으로 파랑 에너지가 분산되어 파랑의 퇴적 작용이 활발하다. 모래사장, 갯벌 등 해안 퇴적 지형이 발달한다.

- ㄱ. 만은 파랑의 침식 작용이 활발하다. (×) → 만은 파랑의 퇴적 작용이 활발한 지역이다.
- ㄴ. 파랑 에너지가 분산되는 곳은 곳이다. (×) → 파랑 에너지가 분산되는 곳은 만이다.

**08 주제 파악: 해안 지형**

㉠ 해식에, ㉡ 사빈, ㉢ 해식 동굴, ㉣ 석호이다.

**09 주제 파악: 암석 해안**

바다와 육지가 만나는 해안은 구성하는 물질에 따라 암석 해안, 모래 해안, 갯벌 해안, 산호초 해안 등으로 구분할 수 있다. 암석 해안에는 파도의 침식 작용으로 형성된 해안 절벽인 해식애와 다양한 모양의 암석 기둥인 시 스택 등이 나타나며, 해식 동굴이 형성되기도 한다.

**10 주제 파악: 파랑의 침식 작용**

프랑스의 에트르타는 파랑에 의해 깎이고 남은 바위의 모습이 촛대(시 스택)와 코끼리(시 아치)를 닮아서 유명하다.

**11 주제 파악: 해안 지역의 주민 생활**

관광지에서 발생한 수입이 외부 지역으로 유출되면서 지역 경제에 이익을 가져다주지 못하는 경우도 발생한다.

**12 주제 파악: 바람직한 해안 지역의 개발 방향**

해안 지역이 지속 가능한 관광지로 발전하기 위해서는 자연환경을 보호하고, 개발 이익이 지역 주민에게 돌아가는 방안을 모색해야 한다. 관광객은 지역과 지역 주민에 대한 이해와 배려의 자세를 가져야 한다. 또 관광의 형태도 환경의 피해를 최소화하면서 해안 생태계를 체험하고 즐기는 여행 방식인 생태 관광으로 변하고 있다.

**13 주제 파악: 우리나라 산지 지형의 특징**

우리나라는 장기간에 걸쳐 침식을 받아 평평해진 땅이 동쪽으로 치우쳐 융기하여 높은 산지들이 동해안에 가깝게 분포한다. 이러한 지형을 동고서저 지형이라 한다.

14 주제 파악: 우리나라의 지형

우리나라는 오랫동안 침식을 받아 평평했던 땅이 동쪽으로 치우쳐 융기하여 동고서저 지형이 나타난다. 이로 인해 북동부 지역에는 높은 산지가 나타나고, 남서부 지역에는 낮은 산지와 평야가 나타난다. 대부분의 큰 하천도 동쪽의 산지에서 시작하여 황해로 흘러들어 간다.

15 주제 파악: 카르스트 지형

우리나라 강원도 남부, 충청북도 북동부, 경상북도 북부 지역에는 석회암이 넓게 분포한다. 석회암은 이산화 탄소 가 포함된 물에 의해 녹는 성질이 있다. 이 과정에서 석회암이 물에 녹아 움푹 파여 만들어진 돌리네와 같은 지형이 나타난다. 특히 땅속의 석회암이 지하수에 의해 녹으면 중유석, 석순, 석주 등이 나타나는 석회 동굴이 만들어진다.

16 주제 파악: 백두산 천지와 한라산 백록담 특징 이해

(㉠)는 백두산 정상부의 천지, (㉡)는 한라산 정상부의 백록담이다. ⑤ 천지와 백록담 모두 화산 활동으로 형성된 곳에 물이 고여 있다.

- ① (㉠)가 위치한 산은 세계 자연 유산에 등재되었다. (×) → (㉡) 백록담이 있는 한라산은 세계 자연 유산에 등재되었다.
- ② (㉠)는 우리나라 최고봉에 위치한다. (×) → 우리나라 최고봉은 백두산인데, 천지는 백두산 정상부에 있다.
- ③ (㉡)는 (㉠)보다 수심이 깊다. (×) → 천지가 백록담보다 호수의 수심이 깊다.
- ④ (㉡)는 (㉠)보다 둘레의 길이가 길다. (×) → 천지가 백록담보다 호수의 규모가 크다.

17 주제 파악: 우리나라의 동해안

‘우리나라의 동해안은 섬이 적고 해안선이 단조롭다. 또한 수심이 깊고 밀물과 썰물의 차이가 작아 갯벌은 발달하지 않는다. 동해안에는 모래 해안을 따라 바다와 마주보는 호수인 석호가 형성되어 해수욕장과 함께 주요 관광지로 이용된다.

18 주제 파악: 제주도

우리나라의 화산섬인 제주도는 다양한 화산 지형이 나타나며, 한라산, 성산 일출봉, 거문오름 용암 동굴계는 지형학적 가치를 인정받아 유네스코 세계 자연 유산으로 지정되었다. 전체적으로 완만한 형태의 한라산의 봉우리에는 화구호인 백록담이 있으며, 한라산을 중심으로 360여 개의 오름이 나타난다.

19 주제 파악: 산지 지역의 여행 준비

**예시 답안 |** 고산병의 원인은 저지대에 비해 고지대에서 산소가 부족하기 때문에 발생한다. 따라서 고산 도시를 여행하기 위해서는 첫째, 산소 스프레이를 준비하여 산소가 부족하여 매우 힘든 상황이 되면 산소를 흡입한

다. 둘째, 고산병 약을 준비하여 현기증과 두통을 미리 대비한다. 셋째, 추위를 대비하기 위해 두툼한 옷을 준비하고 충분한 물을 준비하여야 한다.

**핵심 단어 |** 산소 부족, 산소 스프레이, 고산병 약, 두툼한 옷, 충분한 물

등급	채점 기준
상	산소 부족을 쓰고, 제시문에 대한 준비해야 할 것들을 두 가지 모두 서술한 경우
중	산소 부족을 쓰거나 제시문에 대한 해결책을 한 가지 서술한 경우
하	산소 부족만을 쓴 경우

20 주제 파악: 해안 지역 관광 산업의 긍정적 · 부정적 영향

**예시 답안 |** (1) 지역 주민들은 호텔을 비롯한 관광 산업과 관련된 새로운 일자리를 갖게 되었다.

(추가 허용 가능한 답안: 관광 산업 발달에 따른 국가 수익이 증가되었다, 관광 산업 발달에 따른 도로, 통신 등 기반 시설이 개선되었다.)

(2) <찬성의 입장> 관광제로 개발해야 한다. 국가 수익의 증대, 서비스업의 일자리 창출로 지역 경제 활성화 등 긍정적인 효과가 많기 때문이다.

<반대의 입장> 관광지로 개발해서는 안된다. 무분별한 해안 생태계가 파괴되고, 쓰레기 배출로 인한 환경 오염, 물 부족 문제, 주민과 관광객들의 갈등 등 다양한 문제가 발생하기 때문이다.

**핵심 단어 |** 새로운 일자리, 기반 시설 개선, 생태계 파괴, 주민과 관광객의 갈등 등

등급	채점 기준
상	개발의 찬성 입장과 반대 입장을 알맞게 서술한 경우
하	이유가 불분명하게 찬성과 반대 입장을 서술한 경우



단원 평가	4회	4단원 다양한 세계, 다양한 문화			
01 ②	02 ④	03 ④	04 ⑤	05 ①	
06 ④	07 ⑤	08 ①	09 ③	10 ⑤	
11 ①	12 ③	13 ①	14 ③	15 ⑤	
16 ④	17 ②	18 ⑤	19 해설 참조		
20 해설 참조					

**01 주제 파악: 문화 지역의 구분**

문화 지역은 구분 기준에 따라 다양하게 분류될 수가 있다. (가) 남부 유럽(가톨릭교), 북서부 유럽(개신교), 동부 유럽(동방 정교) 및 러시아에 따라 3지역으로 구분되는 것으로 보아 종교에 따라 문화 지역이 구분되었음을 알 수 있다. (나) 북서부 유럽, 남부 유럽, 동부 유럽 및 러시아에 따라 구분이 되며, 헝가리와 핀란드가 다른 문화 지역 구분된 형태로 보이고 있어 민족(인종)에 따른 문화 지역 구분에 해당됨을 알 수 있다.

**02 주제 파악: 문화 지역의 특징**

인도 문화권에서는 더운 기후로 인하여 음식이 쉽게 상하는 것을 막기 위해 향신료를 많이 사용하고 굵거나 튀긴 조리법이 발달하였다.

- ① A 건조 문화 지역으로 열기를 차단하기 위하여 두꺼운 벽과 작은 창문을 가진 흙집이 나타난다.
- ② B 동아시아 문화 지역으로 유교와 불교를 중심으로 문화가 발달하였다.
- ③ C 중남부 아프리카 문화 지역으로 열대 기후가 주로 나타나 통풍이 잘 되는 간편한 옷을 입으며, 모래바람을 차단하기 위해 전신을 감싸는 헝겊한 옷을 입는 곳은 건조 문화 지역이다.
- ⑤ E 동남아시아 문화권으로 동부 아시아와 남부 아시아의 문화와 식민지 지배기를 거치면서 유럽 문화의 영향을 받아 다양한 문화가 공존하고 있다.

**03 주제 파악: 동아시아 문화 지역**

동아시아 문화 지역은 한자 문화권이며, 유교와 불교가 사상에 영향을 주었다는 공통점이 있다. 또 대부분 지역에서 젓가락을 사용하지만 각 지역의 자연환경과 식생활에 맞춰 젓가락의 모양이 다르다.

**04 주제 파악: 건조 문화 지역과 인도 문화 지역의 비교**

A는 건조 문화 지역으로 햇빛을 가리기 위한 온몸을 감싸는 옷, 연료가 부족하여 비교적 조리법이 간단한 음식이 발달하고, 주로 이슬람교를 믿는다. 반면 D는 인도 문화 지역(남부 아시아 문화권)으로 힌두교의 영향으로 바늘구멍이 없는 옷을 입고, 다양한 향신료를 사용하는 요리가 발달한다.

**05 주제 파악: 아메리카 문화 지역의 비교**

A 앵글로아메리카, B 라틴 아메리카로 리오그란데강을

기준으로 구분된다. A 초기 영국인이 정착하였고, 이후 북서부 유럽, 남부와 동부 유럽 출신의 이주민들과 노예 제도로 인한 강제 이동으로 아프리카계 주민이 이주하였다. B는 에스파냐와 포르투갈의 남부 유럽 출신의 라틴계 출신 이주민이 많았고, 이로 인하여 종교와 언어 등 사회 문화적으로 라틴 문화의 영향을 받았다.

**06 주제 파악: 자연환경에 따른 의복 문화**

건조 기후에서는 햇빛을 차단하기 위해 부르카, 디쉬다샤와 같이 온몸을 감싸는 옷이 발달하였다.

**07 주제 파악: 자연환경에 따른 가옥 문화**

가옥 주변에서 쉽게 얻을 수 있는 재료를 사용한다. A는 순록 유목을 하는 지역으로 동물의 가죽을 이용한 이동식 가옥이나 얼음을 이용한 이글루를 짓는다. B는 냉대 기후 지역으로 침엽수림을 이용한 통나무집이 발달한다. C는 돌을 이용한 가옥이 나타나는 지역으로 특히 C의 그리스에서는 고온 건조한 여름에 햇빛을 차단하기 위한 흰 벽돌집이 나타난다. D는 건조 기후 지역으로 흙집이 발달한다. E는 열대 우림 기후 지역으로 고온 다습한 기후를 극복하기 위해 지붕 경사가 급하고 통풍을 위한 고상 가옥이 나타난다.

**08 주제 파악: 종교 문화 지역의 특징**

A 크리스티교, B 유대교, C 이슬람교, D 힌두교, E 불교에 해당한다. ㉠ B가 아니라 E의 불교에 대한 설명이며, ㉡ E가 아니라 B의 유대교에 대한 설명이다.

**09 주제 파악: 문화 변용의 의미**

문화 전파 등에 의해 기존 문화가 변화하거나 새로운 문화가 만들어지는 것을 문화 변용이라고 한다.

**10 주제 파악: 문화 전파**

축구는 공과 공간이 있으면 쉽게 경기를 할 수 있어 전 세계적으로 확산되었으나, 크리켓은 다양한 도구와 규칙이 장벽의 역할을 하여 영국의 영향을 강하게 받은 일부 지역에서만 경기가 이루어진다. 따라서 지도는 문화의 장벽에 따라 문화의 속도와 범위에 차이가 있다는 주제를 담고 있다.

**11 주제 파악: 문화 동화**

제시된 글은 다수가 사용하는 영어로 인하여, 원주민이 사용하는 소수 언어가 사라지고 있는 예로 문화 동화에 해당한다.

**12 주제 파악: 문화의 획일화**

대화에서 선진국의 대형 영화사의 영화가 세계화되어 다양한 나라의 문화가 담긴 영화가 사라진다는 것으로 보아 문화 획일화임을 알 수 있다.

**13 주제 파악: 문화의 공존과 갈등**

문화의 갈등은 정부의 법적, 제도적 노력뿐만 아니라 문화 상대주의적 관점에서 다른 문화를 존중하고 이해하

는 관용적인 태도가 함께 이루어져야 해결 가능하다.

**14 주제 파악: 싱가포르의 문화 공존**

지도와 글을 통해 싱가포르에서는 불교, 크리스티교, 이슬람교, 힌두교 등 다양한 문화가 공존하고 있음을 알 수 있다.

**15 주제 파악: 언어 문화에 따른 공존과 갈등**

(가)는 스위스로 프랑스어, 독일어, 이탈리아어, 레토로망어를 공용어로 사용하고 있고, 정부의 정책과 제도를 기반으로 문화 갈등을 해결하였다. (나)는 벨기에로 남부 왈롱 지역의 프랑스어를 사용하는 주민과 북부 플랑드르 지방의 네덜란드어를 사용하는 주민 간의 갈등이 발생하고 있다.

**16 주제 파악: 언어와 종교 분쟁**

(가) 캐나다에서는 프랑스어를 사용하는 퀘벡주가 분리, 독립을 요구하고 있다. (나) 스리랑카는 불교 신자(주로 싱할라족)가 국민의 약 69%를 차지하며, 그 밖에 힌두교 신자(주로 티밀족), 이슬람교 신자, 크리스티교 신자가 있다.

**17 주제 파악: 세계의 다양한 문화 갈등**

A는 나이지리아로 북부에서 전파된 이슬람교와 식민지 시대를 거치면서 유입된 크리스티교도 간의 갈등이 발생하고 있다. B는 수단으로 남부와 북부의 종교 차이와 석유 자원 개발에 따른 경제적 이권 다툼이 결부되어 갈등이 발생하여 남수단과 북수단으로 분리되었다. C는 카슈미르 분쟁으로 힌두교도와 이슬람교도 간의 갈등이다. D는 스리랑카로 불교를 믿는 싱할라족과 인도에서 유입되어 힌두교를 믿는 타밀족 간의 갈등이 나타난다. E는 캐나다 퀘벡으로 다른 지역과 달리 프랑스계 이주민이 정착하여 프랑스어를 사용하는 지역으로 분리 독립 운동이 나타난다.

**18 주제 파악: 문화 갈등의 해결**

문화 갈등을 해결하기 위해서는 문화 상대주의적 관점으로 다른 문화를 이해하기 위한 노력이 필요하다.

**19 주제 파악: 문화 변화**

**예시 답안 |** (1) A: 문화 공존, B: 문화 동화, C: 문화 변용

(2) 멕시코의 과달루페 성모상, 우리나라의 김치 냉장고나 돌솥밥, 이슬람 지역의 케밥 버거 등

**핵심 단어 |** 문화 공존, 문화 동화, 문화 변용

등급	채점 기준
상	A: 문화 공존, B: 문화 동화, C: 문화 변용 예시를 1개 이상 제시하고, 문화 변용의 사례인 이유를 설명한 경우
중	A: 문화 공존, B: 문화 동화, C: 문화 변용 예시를 1개 이상 제시한 경우
하	A: 문화 공존, B: 문화 동화, C: 문화 변용 예시를 제시하지 못한 경우

**20 주제 파악: 문화 인식 태도**

**예시 답안 |** 문화적 차이에 따른 갈등을 줄여나가려면 문화 상대주의적 관점에서 상대방의 문화, 특히 소수의 문화를 존중하는 자세와 다양한 문화를 이해하고 인정하는 관용적 태도가 필요하다.

**핵심 단어 |** 문화 상대주의, 관용적인 태도, 존중

등급	채점 기준
상	핵심 단어를 모두 포함하여 다른 문화를 이해하는 바람직한 태도를 논리적으로 설명한 경우
중	핵심 단어를 1~2개 포함하여 다른 문화를 이해하는 바람직한 태도를 설명한 경우
하	자신의 생각을 표현하였으나 핵심 단어가 포함되지 않는 경우



단원 평가	5회	5단원 지구 곳곳에서 일어나는 자연재해			
01 ④	02 ④	03 ⑤	04 ①	05 ①	
06 ③	07 ②	08 ①	09 ①	10 ④	
11 ④	12 ④	13 ⑤	14 ④	15 ⑤	
16 ⑤	17 ⑤	18 ③	19 해설 참조		
20 해설 참조					

**01 주제 파악: 우리나라에서 발생하는 자연재해**

우리나라는 기후와 관련된 자연재해가 계절별로 다르게 발생한다. 봄에는 가뭄, 여름에는 홍수·태풍·폭염, 겨울에는 폭설(대설)과 한파 등이 주로 발생한다. 그중 호우와 태풍, 폭설에 의한 피해가 가장 크다. 한편 우리나라는 지각판의 경계에서 떨어져 있어 지각 운동이 활발하지 않지만, 최근에는 크고 작은 규모의 지진 발생이 늘고 있다.

④ 우리나라에서 가장 많은 피해를 주는 자연재해는 호우이다.

**02 주제 파악: 조산대**

A는 히말라야 산맥으로 대륙판과 대륙판이 충돌하여 지각이 두꺼워 용암이 지표로 뚫고 올라오지 못하여 지진은 활발하지만, 화산 활동은 거의 없다. B는 해양판과 해양판이 부딪치는 곳이다. C, D에서는 지진과 화산 활동 둘 다 일어난다.

**03 주제 파악: 열대 저기압**

(가)는 열대 저기압에 해당된다. 열대 저기압은 적도 주변 열대 해상에서 발원하여 중위도로 이동한다. 열대 해상은 수온이 높아 수증기의 유입이 많고 상승 기류가 형성되어 강한 저기압이 형성되어, 이것이 성장하면 태풍으로 변화된다. 태풍은 바람에 의한 건물 붕괴 등 많은 피해를 주기도 하지만, 지구 열균형을 유지하고 바다의 적조 현상을 완화하는 긍정적인 측면도 있다.

**04 주제 파악: 열대 저기압의 지역별 종류**

열대 저기압은 지역에 따라 부르는 명칭이 다르다. A는 태풍, B 사이클론, C 허리케인에 해당한다. 열대 저기압은 중심 풍속이 17m/s 이상이며, 대기가 불안정하다.

② 남태평양에서 발원하여 벵골만 지역으로 이동하면서 강한 홍수 피해를 주는 것은 B 사이클론이다.

③ B는 사이클론이며, 열대 저기압은 육지로 이동하면 수분 공급이 줄어들면서 세력이 약화된다.

④ C는 허리케인이다.

⑤ 열대 저기압은 저기압으로 대기가 불안정하다.

**05 주제 파악: 홍수**

여름철 집중 호우로 인한 자연재해는 홍수이다.

**06 주제 파악: 자연재해와 주민 생활**

자연재해가 많이 발생하는 지역에서 주민들이 사는 이유는 자신이 그동안 살아왔던 지역에 대한 애착을 가져 떠나기 싫어하는 경우가 많고, 대규모의 인구가 이주할 곳이 없기 때문이다. 또한 이주가 가능해도 안전 불감증으로 인하여 이주하지 않기도 한다.

**07 주제 파악: 홍수의 긍정적인 측면**

홍수는 강수가 많이 내려 발생하는 경우가 많아 오랫동안 비가 내리지 않는 지역에서는 가뭄 문제를 해결하기도 하고, 하천의 범람으로 비옥한 토양이 쌓여 농경이 발달할 수 있게 한다.

**08 주제 파악: 가뭄과 인간 생활**

공업 활동에는 공업용수가 필요하기 때문에 비가 적당히 내리거나 하천이 발달한 지역이 유리하다.

**09 주제 파악: 열대 저기압의 긍정적 측면**

열대 저기압은 저위도의 열을 중위도로 이동시켜 지구의 열균형을 유지해 준다. 이로 인해 무더위를 식혀주고 가뭄을 해결해 주며, 적조 현상이 완화된다.

**10 주제 파악: 지진과 주민 생활**

지진이 빈번하게 나타나는 지역에서는 재난 예보 및 경보 체계를 갖추고 있으며, 주기적인 대피 훈련을 한다. 또한 재난 발생 시 안전을 위해 건물을 건설할 때 내진 설계를 하거나, 건물 내 대피로를 만들기도 한다.

**11 주제 파악: 화산 활동이 빈번한 지역의 이용**

(가)와 (나)는 화산 활동이 빈번한 지역에서의 인간 활동이다. 화산 활동이 빈번한 인도네시아 가와이젠 화산에서는 유황을 채굴하여 경제 활동을 하고 있다. 아이슬란드에서는 간헐천과 온천을 이용한 관광 산업이 발달하고, 지열 발전을 하고 있다.

**12 주제 파악: 사헬 지대의 사막화 현상**

사헬 지대는 사하라 사막 남쪽 가장자리를 의미한다. 이 지역은 인구 증가로 인해 식량 요구량이 증가하면서 농경지 확보를 위해 무분별한 삼림 개발, 과도한 방목과 목축 등이 이루어지고, 지구 온난화로 오랜 가뭄이 지속되어 사막화가 진행되고 있다.

**13 주제 파악: 도시 홍수**

그림은 도시화로 인하여 포장 면적이 증가하여 토양으로 흡수되는 물은 감소하고, 지표 위를 흘러 하천으로 유입하는 유량이 많아지면서 하천의 범람이 잦아지는 모습을 나타낸 것이다.

**14 주제 파악: 도시 홍수의 해결 방법**

포장 면적 증가로 인한 도시 홍수를 해결하기 위해서는 빗물 저장소, 투과성 아스팔트 설치, 하천의 복원, 옥상정원 설치 등의 방법이 있다.

## 15 주제 파악: 사막화 현상

사막화 현상의 해결을 위해 유엔 사막화 방지 협약을 체결하였다.

## 16 주제 파악: 녹색 댐

녹색 댐은 홍수와 가뭄 등을 예방하기 위한 목적으로 삼림을 조성하는 것이다. 숲은 홍수 시 물을 저장하였다가 갈수기에 수분을 내뿜어 가뭄을 완화한다.

## 17 주제 파악: 홍수와 인간 생활

㉠과 ㉡는 홍수 피해를 줄이기 위한 인간의 노력이며, ㉢~㉤의 활동은 홍수 피해를 증가시킨다.

## 18 주제 파악: 폭설 발생 시 행동 요령

폭설 발생 시에는 대중교통을 이용하고, 사람들이 길에서 미끌어져 부상을 입는 것을 방지하기 위해서 자기 집 앞의 눈을 치운다.

## 19 주제 파악: 조산대

**예시 답안 |** A는 알프스 히말라야 조산대, B는 환태평양 조산대이다. '가' 지역에서 지진은 자주 일어나지만 화산 활동이 발생하지 않는 이유는 대륙판과 대륙판이 충돌하여 지각판이 두꺼워 용암이 지각을 뚫고 분출하지 못하기 때문이다.

**핵심 단어 |** 알프스 히말라야 조산대, 환태평양 조산대, 대륙판, 충돌

등급	채점 기준
상	A 알프스 히말라야 조산대, B 환태평양 조산대를 서술하고, '가' 지역에서 화산 활동이 일어나지 않는 이유를 대륙판과 대륙판이 충돌하는 지역은 지각판이 두꺼워 용암이 뚫지 못한다는 점을 논리적으로 서술한 경우
중	A 알프스 히말라야 조산대, B 환태평양 조산대를 서술하고, '가' 지역에서 화산 활동이 일어나지 않는 이유를 지각판이 두껍기 때문이라는 점을 제시한 경우
하	A 알프스 히말라야 조산대, B 환태평양 조산대만을 서술한 경우

## 20 주제 파악: 화산 활동의 긍정적·부정적 영향

**예시 답안 |** '나' 지역에서 자주 발생하는 자연재해는 화산 활동이다. 화산 활동의 단점으로는 용암류나 화산쇄설물에 의한 인명 및 재산 피해가 발생하고, 화산재가 상공으로 날려 항공 교통을 마비시킨다. 장점으로는 화산재가 쌓여 비옥한 토양인 화산회토가 형성되어 농업이 발달하며, 온천이나 간헐천을 이용하여 관광 산업이 발달하고, 지열 발전을 한다.

**핵심 단어 |** 화산 활동, 인명 및 재산 피해, 화산재, 화산회토, 온천, 지열 발전

등급	채점 기준
상	(나)에서 자주 발생하는 자연재해가 화산 활동이라는 점을 제시하고, 화산 활동의 긍정적·부정적 영향을 각각 1개 이상 서술한 경우
중	(나)에서 자주 발생하는 자연재해가 화산 활동이라는 점을 제시하고, 화산 활동의 긍정적 영향(또는 부정적 영향)만 제시한 경우
하	(나)에서 자주 발생하는 자연재해가 화산 활동이라는 점을 제시하고, 화산 활동의 긍정적·부정적 영향을 제시하지 못한 경우

단원 평가	6회	6단원 자원을 둘러싼 경쟁과 갈등			
01 ④	02 ③	03 ③	04 ①	05 ②	
06 ⑤	07 ②	08 ⑤	09 ④	10 ①	
11 ①	12 ②	13 ①	14 ④	15 ②	
16 ②	17 ④	18 ②	19 해설 참조		
20 해설 참조					

**01 주제 파악: 자원의 편재성**

㉠은 자원이 지구상에 고르게 분포하는 것이 아니라 일부 지역에 집중되어 있다는 것으로 보아 자원의 편재성에 대한 설명이다.

**02 주제 파악: 자원의 특성**

(가)의 가채 연수는 자원 고갈에 대한 것으로 자원의 유한성에 대한 설명이며, (나)는 지역에 따라 같은 자원이라도 가치가 달라질 수 있다는 점으로 자원의 가변성에 대한 설명이다.

- ① 자원의 희소성: 인간의 욕구에 비하여 욕구를 충족하는 수단인 자원이 질적이나 양적으로 제한되어 있다는 것
- ② 자원의 가변성: 자원의 의미와 가치는 시대와 장소에 따라 달라짐
- ③ 자원의 유한성: 자원은 매장량의 한계로 언젠가는 고갈됨 → 자원의 고갈 문제 발생
- ④ 자원의 편재성: 주요 자원은 특정 지역에 편중되어 분포 → 자원 민족주의 발생

**03 주제 파악: 재생 가능한 자원과 재생 불가능한 자원**

③ 노동력, 창의력 등의 인적 자원은 넓은 의미의 자원이다.

**04 주제 파악: 석유 자원**

A는 서남아시아, 러시아 지역에서 산업이 발달한 유럽, 동부 아시아, 미국으로 이동하는 것으로 보아 석유임을 알 수 있다.

**05 주제 파악: 자원 분쟁**

A 북극해로 자원 매장량이 많아 주변 국가들 간 분쟁이 발생하고 있다. 영유권 주장이 금지된 곳은 남극 대륙이다. B 카스피해 분쟁으로 옳은 설명이다. C 아부무사섬으로 이란과 아랍 에미리트 간의 석유 수송로를 두고 갈등이 발생하고 있다. D 남중국해 분쟁으로 석유와 천연가스 등을 둘러싸고 중국, 타이완, 필리핀, 브루나이, 말레이시아 등의 국가들 간의 갈등이 발생하고 있다. E 동중국해 분쟁으로 중국과 일본 간에 가스전을 두고 갈등이 발생하고 있다.

**06 주제 파악: 국제 하천**

여러 나라를 가로지르는 하천을 국제 하천이라고 한다.

**07 주제 파악: 식량 자원**

A는 B보다 국제적 이동량이 적고, 동남아시아 지역에서 주로 수출하는 것으로 보아 ‘쌀’이다. B는 국제적 이동이 많고, 주로 오스트레일리아와 미국의 신대륙에서 유럽이나 아시아의 구대륙으로 이동하는 것으로 보아 ‘밀’이다.

**08 주제 파악: 식량 자원**

A의 쌀은 성장기에는 고온 다습하고, 수확기에는 건조한 자연환경이 필요하다. 쌀은 주로 아시아 계절풍 기후 지역의 평야 지대에서 주로 재배한다. 반면 B의 밀은 냉량한 지역에서도 건조한 지역에서도 잘 자라 재배 면적이 넓다. 최근 바이오 에너지 원료로 사용하는 곡물은 옥수수이다.

**09 주제 파악: 자원의 안정적 공급**

(가) 식량 자원의 안정적 공급을 위해 해외 농장 사업을 시행하고 있고, (나) 우리나라는 석유와 천연가스의 안정적 공급을 위해 해외에서 에너지 자원을 개발하고 있다.

**10 주제 파악: 자원이 풍부한 지역의 장점**

자원이 풍부하다고 해서 항상 1인당 국민 총생산이 높은 것은 아니다. 자원 개발이 이익을 둘러싼 갈등이 심하고, 자원 개발로 인한 이윤이 소수 계층에게 집중되는 지역에서는 빈부 격차가 심하고 열악한 환경에서 일하는 등의 문제점이 발생한다. 이러한 지역은 1인당 국민 총생산이 낮다.

**11 주제 파악: 자원이 풍부한 지역의 주민 생활**

A 오스트레일리아로 인구수는 전 대륙에서 가장 적지만, 자원이 풍부하게 매장되어 있다. 이러한 자원을 개발하여 일자리를 창출하고 경제를 활성화시켰다. 오스트레일리아의 서부에는 철광석, 동부에는 석탄, 북부에는 보크사이트가 다량 매장되어 있고, 내륙의 건조 지역에 찬정을 개발하여 농목업을 발달시켰다.

**12 주제 파악: 자원 개발의 문제점**

자원 개발과 관련된 산업이 국내 산업의 대부분인 경우 산업이 불균형적으로 발전하여 지역 불균형 문제를 유발하기도 한다.

**13 주제 파악: 윤리적 소비**

윤리적 소비란 소비 활동이 개인의 이익만을 추구하는 것이 아니라 공적 행동이자 사회적 활동이라는 인식을 바탕으로 하는 소비를 의미한다. 밑줄 친 내용은 스마트폰의 소비가 다른 국가나 지역에 해로운 영향을 줄 수 있다는 점을 인식하고 있다는 점에서 윤리적 소비에 해당한다.

**14 주제 파악: 지속 가능한 자원**

지속 가능한 자원인 수력이나 풍력, 조력 등은 이산화탄소를 배출하지 않으나 대규모 발전소를 짓는 과정에서 생태계를 파괴하고, 소음 문제를 발생하는 등 환경 문제를 유발한다.

**15 주제 파악: 풍력 발전**

풍력 발전은 장애물이 없어 바람이 강하게 부는 해안가나 고원 지역에 건설한다.

**16 주제 파악: 지속 가능한 자원의 문제점**

② 지속 가능한 자원의 긍정적인 면이다.

**17 주제 파악: 세계의 지속 가능한 자원**

D는 뉴질랜드 북섬으로, 환태평양 조산대에 있어 지열이 풍부하여 많은 전력을 지열 발전을 이용하여 생산하고 있다.

- ① A 북해 연안으로, 강한 바람을 이용한 풍력 발전이 주로 나타난다.
- ② B 에스파냐로, 지중해성 기후 지역으로 여름철 고온 건조한 기후를 이용하여 태양열 발전이 나타난다. 특히 안다솔 지역은 세계 최대의 태양열 발전소로 지중해성 기후의 강한 태양열을 이용하여 약 15만 가구에 공급할 수 있는 전력을 생산할 수 있다.
- ③ C 우리나라의 서해안으로, 조석 간만의 차가 큰 특성을 이용하여 조력 발전을 하고 있다. 대표적으로 시화호 조력 발전소가 있다.
- ⑤ E 이구아수 폭포가 있는 브라질의 이타이푸 발전소로 높은 낙차를 이용하여 수력 발전을 하고 있다. 이타이푸 수력 발전소에서는 브라질의 일부 전력과 파라과이 전력의 절반 이상을 생산하고 있다.

**18 주제 파악: 바이오 에탄올**

A는 바이오 에탄올로, 옥수수나 사탕수수를 정제하여 휘발유를 대체할 수 있는 에너지 자원이다. 바이오 에탄올의 원료를 수확하기 위해 초지를 태우기 때문에 환경 문제를 유발하기도 하며, 바이오 에탄올의 수요가 증가하면서 원료가 되는 옥수수의 가격이 폭등하면서 옥수수를 주식으로 하는 멕시코 등 라틴 아메리카 지역의 식량 문제를 가지고 왔다.

**19 주제 파악: 식량 자원**

**예시 답안 |** 식량 부족 문제가 발생할 것으로 예상되는 지역은 아프리카와 아시아이다. 아프리카와 아시아는 식량의 수출에 비해 수입이 상대적으로 많은 지역이다. 국내 식량 생산이 적어 해외에서 식량을 수입하고 있어 경제 발전이 낮아 식량 수입이 어려운 지역의 경우 식량 부족 문제가 나타날 수 있다.

**핵심 단어 |** 아시아, 아프리카, 수출, 수입, 경제 발전

등급	채점 기준
상	식량 부족 문제가 발생하는 지역으로 아프리카와 아시아를 모두 제시하고, 그 이유를 그래프를 분석하여 식량의 수입과 수출량의 차이를 이해하여, 경제력에 따라 식량 부족 문제가 발생할 수 있음을 서술한 경우
중	식량 부족 문제가 발생하는 지역을 1개 제시하고 그 이유를 식량의 수입과 수출의 차이만으로 설명한 경우
하	식량 부족 문제가 발생하는 지역만 제시한 경우

**20 주제 파악: 자원 민족주의**

**예시 답안 |** (1) 석유 수출국 기구(OPEC)

(2) 석유 수출국 기구(OPEC)는 국제 석유 자원의 생산량을 결정하여 자원을 자국의 이권을 위한 무기로 사용하는 자원 민족주의가 나타날 수 있다.

**핵심 단어 |** 석유 수출국 기구, 자원의 무기화, 자원 민족주의

등급	채점 기준
상	석유 수출국 기구(OPEC)를 제시하고, 자원을 이용하여 자국의 이권을 위한 무기로 사용하는 자원 민족주의가 나타날 수 있다는 문제점을 논리적으로 설명한 경우
중	석유 수출국 기구(OPEC)를 제시하고, 자원 민족주의가 나타날 수 있다는 점을 단순히 설명한 경우
하	석유 수출국 기구(OPEC)만 제시한 경우

단원 평가	7회	7단원 개인과 사회생활			
01 ②	02 ⑤	03 ④	04 ④	05 ②	
06 ①	07 남자, 아들, 손자, 조카, 사촌동생, 중학생, 청소년				
12 ③	08 ④	09 ②	10 ⑤	11 ③	
17 ⑤	13 ③	14 ⑤	15 ②	16 ⑤	
	18 ①	19 해설 참조		20 해설 참조	

**01 주제 파악: 사회화의 특징**

A국은 남녀 모두 성품이 부드럽고, B국은 남녀 모두 성품이 사납고 공격적이지만, C국은 남성과 여성의 성품이 다르게 나타난다. 이처럼 사회마다 성별에 따른 차이가 달라진다는 것을 통해 성별에 따른 차이가 사회적 상황과 맥락에 따라 학습된 행동임을 파악할 수 있다.

- ① 선천적으로 타고나는 것이다. (x) → 각국에서 나타나는 부드러운 성품, 사납고 공격적인 성품 등은 해당 사회의 구성원들에게서는 동일하게 나타나므로 선천적으로 타고났다기보다는 사회적 영향을 받아 학습되었다고 보는 것이 더 적절하다.
- ③ 자신이 속한 사회와 무관하게 형성된다. (x) → 자신이 속한 사회에 적응하는 과정에서 성별에 따른 특성을 배우게 되고, 그 결과 자신의 자아 정체성을 형성하게 된다.
- ④ 급격한 사회 변화에 대처하기 위한 것이다. (x) → 재사회화에 대한 설명이다.
- ⑤ 개인의 노력에 따라 자신만의 자아 정체성을 형성하는 것이다. (x) → 성별 차이는 자신이 속한 사회 내의 사회화 과정에서 학습된 것으로, 개인이 노력하여 자아 정체성을 형성한 것으로 보기는 어렵다.

**02 주제 파악: 사회화의 중요성**

제시문에는 유년기에 실종되었다가 18년 만에 발견된 사람에게 인간의 언어와 생활 습관을 가르쳤지만 학습이 제대로 이루어지지 않고 적응에 어려움을 겪는 모습이 나타나있다. 이를 통해 인간은 성장 단계에 맞게 적절한 사회화를 경험해야만 사회생활에 필요한 인간다운 모습을 갖출 수 있다는 점을 추론할 수 있다.

- ① 인간의 행동은 생물학적 본능에만 영향을 받는다. (x) → 인간의 행동은 생물학적 본능뿐만 아니라 사회적 규범의 영향도 받는다.
- ② 사회화는 모든 사회에서 동일한 내용으로 이루어진다. (x) → 사회마다 환경, 사회적 맥락, 역사적 상황 등에 따라 서로 다른 내용의 사회화가 이루어진다.
- ③ 문화를 다음 세대에 전달하여 사회를 유지·존속해야 한다. (x) → 제시된 프니엥의 사례를 통해 직접 파악할 수 있는 내용은 아니다.
- ④ 사회 변화에 따라 새로운 기술을 습득하기 위해 노

력해야 한다. (x) → 재사회화에 대한 설명이다.

**03 주제 파악: 사회화 기관의 유형**

텔레비전은 사회화 기관으로서 대중 매체에 해당하고, 중학교는 사회화 기관으로서 학교에 해당한다. 학교는 사회화를 목적으로 설립된 기관으로, 공식적이고 체계적인 사회화가 이루어진다.

- ① ㉠은 가장 기초적인 사회화를 담당한다. (x) → 가장 기초적인 사회화를 담당하는 사회화 기관은 가정이다.
- ② ㉠은 노년기의 사회화에 영향을 미치지 않는다. (x) → 대중 매체는 노년기의 재사회화에 주로 영향을 미치는 사회화 기관이다.
- ③ ㉡을 통해 사회화가 완료된다. (x) → 사회화는 평생에 걸쳐 지속되는 과정이므로 학교에서 완료된다고 보기 어렵다.
- ⑤ ㉠은 ㉡과 달리 사회의 유지와 존속에 기여하는 역할을 한다. (x) → 대중 매체와 학교는 모두 사회화 기관으로서 사회의 유지와 존속에 기여한다.

**04 주제 파악: 사회화의 기능**

청소년기는 부모에게 거의 전적으로 의존하는 유아기 및 유년기와는 다르게 부모로부터 독립하여 다른 사회화 기관의 영향을 많이 받는데, 특히 공식적인 사회화 기관인 학교와 비공식적인 또래 집단, 대중 매체 등의 영향을 크게 받는다. 이 중 비슷한 연령대의 친구 집단으로 심리적인 위안과 소속감을 얻는 사회화 기관은 또래 집단이다.

**05 주제 파악: 사회화 기관의 특징**

대중 매체는 신문, 인터넷, 텔레비전 등을 통해 정보와 지식 등을 제공하는 사회화 기관으로 현대 사회에서 영향력이 커지고 있다.

- ① ㉠과 ㉡은 모두 전문적인 사회화를 담당한다. (x) → 텔레비전(대중 매체)과 친구(또래 집단)는 모두 사회화 기관에 해당하지만, 전문적인 사회화를 담당하는 기관이라고 보기는 어렵다.
- ③ ㉠과 ㉡은 항상 매체를 통해 새로운 정보를 전달한다. (x) → 항상 매체를 통해 새로운 정보를 전달하는 것은 대중 매체만의 특징이다.
- ④ ㉢과 ㉣은 모두 공식적 사회화 기관이다. (x) → 학교는 사회화를 목적으로 설립된 공식적 사회화 기관이지만, 환경 보호 단체는 그렇지 않다.
- ⑤ ㉣은 ㉢과 달리 구성원에게 공동체 의식과 소속감을 부여한다. (x) → 환경 보호 단체는 사회 집단으로 구성원에게 공동체 의식과 소속감을 부여한다.

**06 주제 파악: 귀속 지위와 성취 지위**

제시된 지위는 모두 개인의 능력이나 노력에 의해 후천적으로 얻게 되는 성취 지위에 해당한다.

- ② 성취 지위는 현대 사회에서 중시되는 지위이다.



- ③ 남자, 누나는 모두 귀속 지위이다.
- ④ 개인의 노력에 따라 얻을 수 있는 지위이다.
- ⑤ 후천적으로 얻어지는 지위이다.

## 07 주제 파악: 사회적 지위

A는 중학생이자 청소년이고, 부모님의 아들이며, 조부모님의 손자이고, 사촌형의 사촌동생이며, 큰아버지와 큰어머니의 조카이다.

## 08 주제 파악: 사회적 지위의 특징

지위는 한 번 결정되면 바꿀 수 없는 것이 아니라 후천적 능력이나 노력에 따라 달라질 수 있고, 현대 사회에서는 귀속 지위보다 성취 지위의 중요성이 커지고 있으며, 한 사람은 여러 개의 지위를 동시에 가질 수 있다.

## 09 주제 파악: 공식적 사회화 기관

학교는 사회화를 목적으로 설립된 공식적 사회화 기관이다. 이에 비해 연극 동아리는 사회화에 영향을 미치는 하지만 사회화 자체를 목적으로 하는 공식적 사회화 기관은 아니다.

- ① A는 현재 영화배우가 아니고 여왕은 실제 지위가 아니라 배역일 뿐이므로 모두 성취 지위에 해당하지 않는다.
- ③ 영화는 대중 매체의 하나로 개인의 사회화에 영향을 미친다.
- ④ 열심히 연습한 것은 연극 동아리 회원으로서의 역할 행동이지 영화배우로서의 역할 행동이 아니다.
- ⑤ 관객에게 박수를 받은 것은 여왕으로서가 아니라 연극 동아리 회원으로서의 역할 행동에 대한 보상이다.

## 10 주제 파악: 역할 갈등의 특징

- ⑤ 대부분의 역할 갈등은 시간이 지남다고 해서 저절로 해결되지 않는다. 따라서 해결을 위해 개인과 사회가 함께 적극적으로 노력해야 한다.

## 11 주제 파악: 역할 갈등의 사례

제시된 사례에서 A는 천주교 신부라는 지위에 따른 역할과 시민이라는 지위에 따른 역할이 서로 충돌하여 갈등하고 있는 상태이다.

- ㄴ. 경찰관이라는 지위와 친구로서의 지위가 충돌하는 역할 갈등의 사례이다.
- ㄷ. 회사원으로서의 지위와 부모라는 지위가 충돌하는 역할 갈등의 사례이다.
- ㄱ. 진로 고민의 사례이다.
- ㄹ. ‘어머니’라는 한가지 지위에 대해 친구처럼 친근한 어머니로서의 역할과, 권위 있고 엄격하게 훈육하는 어머니로서의 역할이 동시에 요구되면서 역할 갈등을 겪고 있는 사례이다.

## 12 주제 파악: 사회 집단의 분류

또래 집단은 일반적으로 친밀한 접촉과 전인격적인 인

간관계가 이루어진다는 점에서 1차 집단에 해당하고, 회사는 일반적으로 목적 달성을 위한 수단적 만남과 형식적인 인간관계가 이루어진다는 점에서 2차 집단에 해당한다. 이처럼 1차 집단과 2차 집단은 접촉 방식에 따라 구분된다. 가족은 대표적인 1차 집단이고, 정당은 대표적인 2차 집단이다.

- ③ 또래 집단과 회사 모두 그 집단에 소속된 구성원에게는 내집단에 해당한다.

## 13 주제 파악: 사회 집단의 성립 조건

사회 집단이란 둘 이상의 사람들이 소속감이나 공동체 의식을 가지고 지속적인 상호 작용을 하는 모임을 말한다. ㄴ, ㄷ은 같은 직장에서 함께 일하는 사람들이므로 사회 집단의 사례에 해당한다.

- ㄱ. ○○ 축구팀의 경기를 관람하는 관중 (×)
- ㄹ. 매일 같은 시간에 같은 위치에서 지하철을 타는 사람들 (×) → 두 사례는 모두 둘 이상의 사람들이 함께 있더라도 소속감이나 공동체 의식이 없고 지속적인 상호 작용도 하지 않으므로 사회 집단이라고 볼 수 없다.

## 14 주제 파악: 사회 집단의 유형

가족은 1차 집단으로, 구성원 간에 친밀한 대면 접촉을 바탕으로 전인격적인 인간관계가 형성되고, 기초적인 사회화가 이루어진다. 이에 비해 학교는 2차 집단이자 공식적 사회화 기관으로, 구성원 간에 수단적 만남과 형식적 인간관계가 주로 이루어진다.

- ㄱ. A는 학교, B는 가족이다.
- ㄴ. 자연 발생적으로 형성된 집단은 가족이다.

## 15 주제 파악: 집단의 유형과 특징

- ② 교육청은 특정한 목적을 달성하기 위해 만들어진 2차 집단의 특징, 선택적 의지에 따라 형성된 이익 사회의 특징이 동시에 나타난다.

## 16 주제 파악: 부당한 차별의 사례

- ⑤ 시각 장애인에게 비장애인보다 1.5배 더 시험 시간을 부여하는 것은 제도적 보완을 통해 조건에 따른 불평등을 극복하는 것으로, 부당한 차별에 해당하지 않는다.

## 17 주제 파악: 차별의 사례

제시된 사례에서 인도인 B가 외국인이라는 이유로 한국인들에게 겪은 차별에는 인종과 국적의 다양성을 존중하지 않는 태도가 나타나 있으므로 이를 극복하기 위한 조언이 이루어져야 한다.

- ⑤ 역차별은 부당한 차별을 받는 쪽을 보호하기 위한 제도나 장치가 너무 강하여 오히려 반대편이 차별을 받는 현상을 의미한다. 역차별에 해당하는 내용은 나타나 있지 않다.

**18 주제 파악: 차별의 해결 노력**

- (가), (나) 모두 제도 개선을 통해 성차별을 바로잡고 기회의 평등을 보장하기 위한 노력에 해당한다.
- ㄱ. (가)는 성차별을 극복하기 위해 입학 자격 제한을 폐지한 것이므로 사회 제도를 통해 기회의 평등을 보장하고 있다.
- ㄴ. (가), (나) 모두 성차별을 바로잡은 사례이다. 입학 자격 제한 철폐, 교칙 폐지 등은 모두 차이를 고려하여, 성별이라는 차이가 차별의 이유가 될 수 없도록 제도적으로 보완한 사례이다.
- ㄷ. 입학 자격 제한 철폐, 교칙 폐지 등은 모두 사회적 차원에서 성차별 문제를 해결하려는 노력이다.

**19 주제 파악: 역할 행동에 따른 보상과 제재**

- 예시 답안 |** (1) 역할 행동  
 (2) 학급 친구들에게는 비난을 받고, 담임선생님에게는 제재를 받을 수 있다.

**핵심 단어 |** 역할 행동, 비난, 제재

등급	채점 기준
상	비난이나 제재를 받는다고 서술한 경우
하	비난과 제재 중 한 가지만 서술한 경우

**20 주제 파악: 차별의 해결 방안**

- 예시 답안 |** (1) 차별(인종 차별)  
 (2) 의식적 측면에서는 차이를 인정하고 차별하지 않는 의식을 함양하고, 부당한 차별을 거부하며, 다른 사람을 배려하고 존중하는 자세를 확립해야 한다. 그리고 제도적 측면에서는 차별을 금지하는 법이나 제도를 제정하고, 인간다운 삶을 보장할 수 있는 복지 제도를 마련해야 한다.

**핵심 단어 |** 차이 인정, 배려, 존중, 차별 금지, 복지 제도

등급	채점 기준
상	의식적 측면의 해결 방안과 제도적 측면의 해결 방안을 모두 서술한 경우
하	의식적 측면의 해결 방안과 제도적 측면의 해결 방안 중 한 가지만 서술한 경우



단원 평가	8회	8단원 문화의 이해			
01 ①	02 ⑤	03 ②	04 ③	05 ③	
06 ①	07 ⑤	08 ③	09 ②	10 ④	
11 ④	12 ③	13 ③	14 비교하여 이해하기		
(비교론적 관점)		15 ④	16 ⑤	17 ③	
18 ①	19 해설 참조	20 해설 참조			

**01 주제 파악: 문화의 의미**

인사 문화에서 ‘문화’는 인간의 사회적 생활 양식의 총체를 뜻하는 넓은 의미로 사용되었다. ① 문화생활에서 ‘문화’는 예술적인 것, 세련되고 교양 있는 것 등의 좁은 의미로 사용되었다.

**02 주제 파악: 문화 상대주의의 필요성**

문화는 그 문화가 나타난 사회의 자연환경, 역사적 배경, 사회적 상황 등에 따라 다양하게 나타난다. 따라서 각 사회가 처한 환경을 고려해 그 사회의 문화를 이해하는 문화 상대주의적인 태도가 필요하다.

**03 주제 파악: 문화의 보편성과 특수성**

모든 문화에는 공통적으로 나타나는 특징이 있는데, 이를 문화의 보편성이라고 한다. 한편, 문화는 사회가 처한 환경에 따라 각각 다르게 형성되어 왔다. 따라서 각 사회의 문화는 고유한 특징을 가지며 서로 다른 모습으로 나타나는데, 이를 문화의 특수성이라고 한다.

**04 주제 파악: 문화의 학습성**

외국인이 우리나라에 살면서 김치를 즐겨 먹게 된 것, 생물학적 특성이 거의 비슷한 쌍둥이의 언어와 행동이 시간에 따라 달라진 것은 모두 문화가 선천적인 것이 아니라 후천적 학습에 의해 형성되는 생활 양식임을 보여 준다. 따라서 두 사례를 통해 도출할 수 있는 문화의 속성은 학습성이다.

**05 주제 파악: 문화의 공유성**

상복을 입은 모습을 본 사람들은 물어보지 않아도 장례를 치르고 있다는 것을 이해한다. 이것은 행동의 동질성을 형성하여 상대방의 행동을 쉽게 예측할 수 있게 하는 공유성의 특징이다.

ㄱ. 여러 구성 요소들이 밀접하게 영향을 미친다. → 전체성

ㄴ. 세대 간 전승되면서 새로운 요소가 추가되어 더 풍부해진다. → 축적성

**06 주제 파악: 문화의 속성**

① 시험을 앞둔 사람에게 찹쌀떡이나 엿을 선물하는 것은 합격을 바라는 마음을 전하는 것으로 문화의 공유성을 보여 주는 사례이다.

② 외국인이 우리나라에서 젓가락으로 음식을 먹는다. (×) → 학습성

③ 사람들이 명절 기간에 성묘 대신 가족여행을 떠난다. (×) → 변동성

④ 벌레를 먹는 음식 문화는 단백질 보충이 어려운 자연환경과 관련되어 나타났다. (×) → 전체성

⑤ 목축업이 도입되면서 유제품과 육류의 소비가 늘어나고 양모를 활용한 의복이 발달하였다. (×) → 전체성

**07 주제 파악: 문화 이해 태도의 문제점**

제시된 사례에 나타난 문화 이해 태도는 자문화 중심주의이다. 자문화 중심주의는 자기 문화만을 우수하다고 생각하고 다른 사회의 문화를 열등하다고 보는 태도로, 문화 제국주의, 다른 문화와의 갈등, 세계화 시대의 고립 등으로 이어질 수 있다.

⑤ 자기 문화를 낮게 평가하여 문화적 정체성을 잃을 수 있는 문화 이해 태도는 문화 상대주의이다.

**08 주제 파악: 바람직한 문화 이해 태도**

한 나라의 문화는 그 사회의 환경과 필요에 따라 형성되어 고유한 가치를 지니고 있다. 따라서 문화 간에 우열을 평가하는 것은 바람직하지 않다.

**09 주제 파악: 문화의 의미와 특징**

명절은 제도로 비물질 문화에 해당하고, 의상과 소품은 인간 생활에 필요한 물질문화이다. 놀이 문화와 외국 문화는 모두 사회적 생활 양식의 의미로 사용되어 넓은 의미의 문화에 해당한다.

**10 주제 파악: 문화의 전체성**

제시문은 인도에서 암소를 잡아먹지 않는 문화가 나타난 이유를 인도의 종교 및 농경문화와 관련지어 설명한다. 따라서 문화는 여러 구성 요소들이 서로 밀접하게 관계를 유지하면서 하나의 전체로서 의미를 갖는 생활 양식이라는 문화의 전체성을 확인할 수 있다.

**11 주제 파악: 자문화 중심주의**

자문화 중심주의는 자신이 속한 사회의 문화에 대해 자부심을 느끼게 하고, 내부의 결속력을 강화하는 데 기여할 수 있다.

① 다른 문화를 거울삼아 자기 문화를 파악한다. (×) → 자문화 중심주의는 자기 문화를 기준으로 다른 문화를 평가하는 태도이다.

② 다른 문화를 적극적으로 수용하려는 태도이다. (×) → 자문화 중심주의는 다른 문화의 수용에 부정적인 태도이다.

③ 모든 문화의 고유한 가치를 존중하려는 태도이다. (×) → 자문화 중심주의는 다른 문화의 고유한 가치를 존중하지 않는다.

⑤ 문화를 그 사회의 사회적 상황과 연결시켜 이해한다. (×) → 자문화 중심주의는 문화가 나타난 사회의 상황을 고려하지 않는다.

**12 주제 파악: 문화 이해 태도**

제시된 대화에서 갑은 자문화 중심주의, 을은 문화 상대주의에 해당한다.

- ③ 문화 상대주의는 다른 사회의 문화를 그 문화가 나타난 사회적 상황과 연결시켜 파악한다.
- ① 갑: 문화를 이해의 대상으로 본다. (×) → 갑은 문화를 평가의 대상으로 본다.
- ② 을: 다른 문화와 갈등을 겪을 가능성이 높다. (×) → 갑의 태도는 다른 문화와 갈등을 겪을 가능성이 높다.
- ④ 을: 특정 기준으로 다른 문화를 평가할 수 있다고 본다. (×) → 갑은 특정 기준으로 다른 문화를 평가할 수 있다고 본다.
- ⑤ 갑, 을: 국수주의로 이어질 수 있다. (×) → 갑의 태도는 국수주의로 이어질 수 있다.

**13 주제 파악: 문화 이해 태도**

(㉠)는 자문화 중심주의, (㉡)는 문화 상대주의, (㉢)는 극단적 문화 상대주의이다.

- ③ 문화 상대주의는 극단적 문화 상대주의와 달리 인간의 존엄성 등 인간의 보편적 가치를 훼손하는 문화에 대해서는 인정하지 않는다.

**14 주제 파악: 비교하여 이해하기**

제시된 자료에서처럼 서로 다른 문화 간의 공통점과 차이점을 비교하여 문화의 보편성과 특수성을 파악하는 관점은 비교론적 관점이다. 비교하여 이해하는 태도를 통해 자기 문화의 특징을 더 잘 이해할 수 있을 뿐만 아니라 다른 문화에 대한 이해의 폭을 넓힐 수 있다.

**15 주제 파악: 대중문화의 바람직한 수용 태도**

대중은 대중문화의 긍정적 측면과 부정적 측면을 동시에 이해하면서, 잘못된 내용에 대해서는 적극적으로 문제를 제기하고 이를 개선하려는 자세를 가져야 한다.

**16 주제 파악: 대중 매체의 특징**

A는 뉴 미디어, B는 신문이다.

- ⑤ 신문은 전통적인 대중 매체로 정보 생산자가 소비자에게 정보를 일방적으로 전달한다.

**17 주제 파악: 대중 매체의 특징**

- ㄴ. 인터넷은 쌍방향 의사소통이 가능한 뉴 미디어이다.
- ㄷ. 라디오는 음성 매체로, 인쇄 매체보다 정보 전달 속도가 빠르다.

**18 주제 파악: 대중 매체 수용의 비판적인 자세**

제시된 자료에서 동일한 기사의 내용이 언론사에 따라 전혀 다른 관점에서 서술된 것을 알 수 있다. 따라서 소비자는 대중매체가 제공하는 정보를 무조건적으로 수용해서는 안 되고, 정보의 객관성을 비교하여 검토해야 한다.

**19 주제 파악: 대중 매체의 기능**

**예시 답안 |** (1) 뉴 미디어

(2) 대중문화를 있는 그대로 받아들이기보다 비판적으로 수용하면서 주체적으로 향유하려는 태도를 가져야 한다.

**핵심 단어 |** 비판적 수용, 주체적 향유

대중문화를 있는 그대로 받아들이기보다 비판적으로 수용하면서 주체적으로 향유하려는 태도를 가져야 한다.

등급	채점 기준
상	비판적 수용 자세, 주체적 향유 자세를 모두 포함하여 서술한 경우
중	비판적 수용 자세, 주체적 향유 자세 중 한 가지만 포함하여 서술한 경우
하	비판적 수용 자세, 주체적 향유 자세 외에 다른 내용을 서술한 경우

**20 주제 파악: 대중문화의 문제점**

**예시 답안 |** (1) 대중문화

(2) 상업성을 지녀 문화의 질적 수준을 저하시킬 수 있고, 획일화로 인해 사람들을 몰개성화하고 문화의 다양성을 훼손할 수 있다.

**핵심 단어 |** 상업성, 획일화

대중문화는 비판적으로 수용해야 하며 대중문화의 긍정적인 측면과 부정적인 측면을 균형적으로 이해해야 한다.

등급	채점 기준
상	대중문화의 문제점을 두 가지 서술한 경우
하	대중문화의 문제점을 한 가지만 서술한 경우

단원 평가	9회	9단원 정치 생활과 민주주의			
01 ㉓	02 ㉔	03 ㉑	04 ㉑	05 ㉓	
06 ㉕	07 ㉒	08 ㉑	09 ㉒	10 ㉗ 입법 부, ㉘ 행정부, ㉙ 사법부	
13 ㉒	14 ㉕	15 ㉒	16 ㉓	17 ㉑	
18 ㉓	19 해설 참조	20 해설 참조			

**01 주제 파악: 정치의 의미**

대통령, 국회 의원 등 국가나 정부에 한정되어 나타나는 권력 활동을 좁은 의미의 정치라고 한다. ㉑, ㉒, ㉔, ㉕는 모두 넓은 의미의 정치에 해당한다.

**02 주제 파악: 정치의 의미**

㉑은 좁은 의미의 정치, ㉘은 넓은 의미의 정치이다. 국회 의원의 입법 활동은 좁은 의미와 넓은 의미에서 모두 정치로 보고, 학급의 교칙 개정 과정은 넓은 의미에서만 정치로 본다.

ㄴ. 현대 사회의 다원화된 정치 현상을 설명하는 데는 좁은 의미의 정치보다 넓은 의미의 정치가 더 적합하다.

**03 주제 파악: 정치의 기능**

제시된 사례에 나타난 경기 부양을 위한 특별 지원금은 경제 발전, 복지 증진, 사회 문제 해결 등 다양한 목적을 위한 정부의 정치 활동이다.

㉑ 집단 간 대립과 갈등을 강제로 조정하는 내용은 나타나 있지 않다.

**04 주제 파악: 국가의 역할**

제시된 사례들은 국가가 정책 결정과 같은 공적 영역에 시민의 적극적 참여를 이끌어 낸 것이다.

㉑ 국민의 참여는 정책의 신속성과 효율성을 오히려 저하시킬 수도 있다.

**05 주제 파악: 민주 정치의 발전 과정**

㉓ 근대 민주 정치는 의회를 중심으로 하는 대의 민주 정치를 가장 큰 특징으로 한다.

㉑ 고대 아테네에서는 노예, 외국인, 여성을 제외한 자국의 성인 남성에게만 시민의 지위가 제한적으로 부여되었다.

㉒ 근대 민주 정치에서는 일정한 수준 이상의 재산을 가진 남성들만 참정권을 행사하였다.

㉔ 국민 투표, 국민 소환은 직접 민주 정치 요소이다.

㉕ 오늘날 대부분의 민주 국가에서는 국민의 선거로 뽑힌 대표자가 나라의 중요한 일을 결정하는 대의 민주 정치를 채택하고 있다.

**06 주제 파악: 고대 아테네 민주 정치와 근대 민주 정치**

(가)는 고대 아테네 민주 정치, (나)는 근대 민주 정치의 특징에 해당한다.

㉕ 고대 아테네 민주 정치에서는 추첨과 운번제를 실시함으로써 되도록 많은 시민에게 공직 참여의 기회를 제공하고자 하였다.

**07 주제 파악: 민주 정치의 발전 과정**

권리 장전은 영국의 명예혁명 과정에서 나타난 문서이고, 프랑스 인권 선언은 프랑스 혁명 과정에서 나타난 문서이다.

ㄴ. 미국 독립 혁명에 대한 설명이다.

ㄷ. 보통 선거 제도는 현대 민주 정치에서 확립되었다.

**08 주제 파악: 현대 민주주의의 특징**

㉑ 직접 민주 정치에 대한 설명이다. 현대 민주 정치에서는 국민의 대표가 국가의 중요한 문제를 결정하는 대의 민주 정치를 기본으로 한다.

**09 주제 파악: 민주 정치의 기본 원리와 헌법 조항**

국회가 국정 감사를 통해 정부를 견제하고, 대통령이 법률안 거부권을 통해 국회를 견제하는 것은 국가 권력을 서로 독립된 기관이 나누어 맡도록 해야 한다는 권력 분립의 원리에 해당한다.

**10 주제 파악: 권력 분립의 원리**

법 제정은 입법부, 법 집행은 행정부, 법 적용은 사법부가 담당함으로써 권력 분립의 원리를 실현할 수 있다.

**11 주제 파악: 탄핵 제도와 입헌주의의 원리**

대통령에 대한 탄핵 제도는 국가 권력의 남용을 방지하고 헌법에 따라 국가 권력을 행사하도록 함으로써 입헌주의의 원리를 실현하기 위한 제도이다.

**12 주제 파악: 입헌주의의 원리**

제시된 제도는 헌법 소원이다. 헌법 소원은 법률 또는 국가 권력에 의해 기본권을 침해당한 사람이 권리 구제를 요청할 수 있는 수단이다. 따라서 국가의 모든 권력 작용이 헌법에 의해 이루어져야 한다는 입헌주의의 원리를 근거로 하는 제도이다.

**13 주제 파악: 의원 내각제의 특징**

㉒ 내각 불신임권은 의원 내각제에서 입법부가 행정부를 견제하기 위한 수단이다.

**14 주제 파악: 의원 내각제의 특징**

제시된 내용이 공통으로 가리키는 정부 형태는 의원 내각제이다.

ㄷ, ㄴ. 의원 내각제는 책임 정치가 실현될 수 있지만, 다수당의 횡포에 대응하기 어렵다.

ㄱ, ㄴ. 대통령제 정부 형태의 특징이다.

**15 주제 파악: 대통령제의 특징**

㉒ ㉑에 들어갈 정부 형태는 대통령제이다. 일반적인 대통령제에서는 행정부의 법률안 제출권을 인정하지 않는다. 법률안 제출권은 의원 내각제의 특징이다.

**16 주제 파악: 법률안 거부권**

제시된 사례에서 오바마 대통령은 의회가 만든 법률안에 대해 거부권을 행사함으로써 입법부인 의회를 견제하였다.

**17 주제 파악: 여러 나라의 정부 형태**

미국은 대통령제, 영국은 의원 내각제 정부 형태를 채택하고 있다. 우리나라는 대통령제를 기본으로 의원 내각제 요소를 일부 도입하고 있다. (가)에는 우리나라와 미국의 공통점이 들어가야 하고, (나)에는 우리나라와 영국의 공통점이 들어가야 한다.

- ① 국가 원수와 행정부 수반이 동일한 것은 우리나라와 미국의 공통점이다.
- ② 우리나라와 영국의 공통점이다.
- ③ 우리나라와 영국의 공통점이다.
- ④ 우리나라와 미국의 공통점이다.
- ⑤ 우리나라와 미국의 공통점이다.

**18 주제 파악: 우리나라의 정부 형태**

③ 의회 해산권은 의원 내각제의 특징으로, 우리나라에 서는 보장되고 있지 않다.

**19 주제 파악: 시민의 역할**

**예시 답안 |** 시민이 정치에 참여하지 않고 무관심하면 독재 정권이 출현하여 국민의 기본권이 침해되고 국민의 자유와 권리가 보장되는 민주주의가 제대로 실현되기 어렵게 된다.

**핵심 단어 |** 기본권 침해, 민주주의 실현 곤란

등급	채점 기준
상	기본권이 침해되고 민주주의가 제대로 실현되기 어렵다고 서술한 경우
하	민주주의가 제대로 실현되기 어렵다고만 서술한 경우

**20 주제 파악: 대통령제의 특징**

**예시 답안 |** A국의 의회는 국정 감사권과 탄핵 소추권 등을 통해, 행정부는 법률안 거부권을 통해 상호 견제하며 균형을 추구한다.

**핵심 단어 |** 국정 감사권, 탄핵 소추권, 법률안 거부권

등급	채점 기준
상	의회와 행정부의 권한을 모두 옳게 고쳐 쓴 경우
하	의회와 행정부의 권한 중 한 가지만 옳게 고쳐 쓴 경우

단원 평가	10회	10단원 정치 과정과 시민 참여			
01 ①	02 ③	03 ④	04 ④	05 ②	
06 ④	07 ③	08 ⑤	09 ④		
10 선거 관리 위원회		11 ①	12 ③		
13 ③	14 ②	15 ②	16 ②	17 ⑤	
18 ④	19 해설 참조	20 해설 참조			

## 01 주제 파악: 정치 주제

제시된 그림에서 ㉠은 개인과 집단, ㉡은 언론과 정당, ㉢은 국가 기관(국회, 정부, 법원), ㉣은 정부(행정부)가 들어가야 한다.

## 02 주제 파악: 정치 과정 단계

③ 국회 본회의에서 법률이 통과된 것은 국회가 여론을 바탕으로 관련 법률을 제정한 것이다. 따라서 정치 과정에서 정책 결정 단계에 해당한다.

## 03 주제 파악: 정치 주체의 역할

㉤ 다양한 방법과 대책을 찾아 정책을 집행하는 것은 정부이다. 국회는 법률을 만들거나 고침으로써 정책을 결정한다.

## 04 주제 파악: 정치 참여 주제

(가)는 언론, (나)는 이익 집단에 해당한다. 언론은 사실의 보도뿐만 아니라 여론 형성을 주도하고, 공정하고 객관적인 태도로 정책에 대한 해설을 제공할 것을 요구받는다. 한편, 이익 집단은 다양한 집단의 이익을 대변하고, 전문성을 바탕으로 사회 문제의 해결책을 제시한다. 언론과 이익 집단 모두 국가 기관의 활동을 감시하고 비판하는 역할을 한다.

## 05 주제 파악: 정당의 역할

정당은 정치권력을 획득하기 위해 정치적 의견을 같이 하는 사람들이 만든 단체로 여론을 집약하여 정책안을 마련한다. 또한 시민의 다양한 의견을 반영하여 국회나 정부에 전달하고 정책을 수립한다. 선거에 후보자를 추천하는 역할도 한다.

나. 이익 집단에 대한 설명이다.

르. 법률을 만들거나 고치는 것은 국회의 역할이다.

## 06 주제 파악: 이익 집단의 성격

이익 집단은 자신의 특수한 이익을 실현하기 위해 만든 단체로 노동 조합, 의사 협회 등이 있다. 이익 집단은 정책에 대해서도 자기 집단에 유리한지 불리한지를 따져 찬성하거나 반대할 것이다.

## 07 주제 파악: 선거의 의미

제시된 내용은 모두 선거를 가리킨다. 선거는 시민의 대표적인 정치 참여 통로로 '민주주의의 꽃'이라고 불린다.

가. 선거는 권력 통제의 수단으로 작용한다.

르. 선거는 간접 민주주의의 근간이 되는 제도이다.

## 08 주제 파악: 선거의 기능

제시된 자료에서 국회 의원 선거 후보자와 주민이 간담회를 갖는 것은 후보자는 시민의 의견을 듣고, 시민은 자신의 의견을 후보자에게 표현하는 기회가 된다. 이처럼 선거는 시민의 다양한 의견을 수렴하여 정치 과정에 반영하는 수단이 될 수 있다.

## 09 주제 파악: 민주 선거의 원칙

(가)에서 일정한 연령 이상의 모든 시민에게 투표권을 부여하는 것은 보통 선거의 원칙이고, (나)에서 선거권을 가진 시민이 직접 투표소에 나가 투표하는 것은 직접 선거의 원칙이다.

가. (가)는 보통 선거, (나)는 직접 선거에 해당한다. 보통 선거는 선거권을 주는 자격을 제한하지 않아야 한다는 원칙이고, 평등 선거는 어떤 사람의 선거권이든 선거 결과에 기여하는 힘이 똑같아야 한다는 원칙이다.

나. (가)의 반대는 제한 선거이고, (나)의 반대는 대리 선거이다.

## 10 주제 파악: 선거 관리 위원회의 역할

제시된 사례에는 선거법을 위반하는 행위들이 나타나 있다. 공정한 선거를 위해 만들어진 선거 관리 위원회는 이러한 행위를 규제함으로써 공정한 선거를 실현하고자 한다.

## 11 주제 파악: 선거구 법정주의

선거구의 분할 방법 및 절차를 국회의 법률로 정하는 것을 선거구 법정주의라고 한다. 선거구 법정주의를 통해 특정 정당이나 후보자에게 유리한 결과가 나오는 것을 방지하여 공정한 선거를 실현할 수 있다.

## 12 주제 파악: 선거 공영제의 목적

선거 공영제는 공정한 선거를 위하여 선거에 들어가는 선거 비용의 일부를 국가가 부담하고 정부가 선거를 관리하는 제도이다. 선거 공영제는 선거 운동의 과열을 방지하고 후보자 간 선거 운동의 기회 균등을 보장함으로써 선거가 공정하게 치러지는 것을 추구한다. 우리나라의 헌법에서는 선거에 들어가는 경비는 법률이 정하는 바를 제외하고는 정당이나 후보자에게 부담시킬 수 없으며, 선거 관리 위원회의 관리하에 균등한 기회가 보장되어야 한다고 명시하고 있다.

③ 선거권은 일정한 연령 이상의 유권자에게 보장되며, 이는 선거 공영제의 목적과 직접적인 관계가 없다.

## 13 주제 파악: 우리나라의 지방 자치 제도

③ 지방 자치 단체장의 선출 방법은 나라마다 다르다. 프랑스와 독일에서는 의회 의원들이 간접 선거로 선출하고, 우리나라를 비롯하여 일본 등의 나라에서는 주민이 선거를 통해 직접 선출한다.

**14 주제 파악: 지방 자치 단체의 구성**

각 지방 자치 단체는 광역 자치 단체와 기초 자치 단체로 구분되는데, 예를 들어 인천광역시 남동구에 거주할 경우, 광역 자치 단체는 인천광역시이고, 기초 자치 단체는 남동구가 된다. 인천광역시의 의결 기관은 인천광역시 의회, 집행 기관은 인천광역시청이고, 남동구의 의결 기관은 남동구 의회, 집행 기관은 남동구청장이다. 따라서 ㉠에 들어갈 지방 자치 기관은 구청장이다.

**15 주제 파악: 지방 의회와 지방 자치 단체장**

㉡ (가)는 광역 지방 자치 단체장에 해당하며, 법령 또는 조례가 위임한 범위 내에서 규칙을 제정할 수 있다. 법률을 제정할 수 있는 권한은 입법부인 국회에게 있다.

**16 주제 파악: 주민 참여 예산제**

주민이 지역의 예산을 편성하는 과정에 참여하여 의견을 제시하는 주민 참여 예산제는 지역 주민이 지방 자치에 참여하는 방법이다.

- 나. 지방 자치 제도에 주민이 직접 참여할 수 있는 직접 민주 정치 제도이다.
- 르. 예산 집행 과정에서 투명성을 강화할 수 있다.

**17 주제 파악: 주민 참여 방법**

(가)는 주민 감사 청구제에 대한 설명이고, (나)는 주민 소환제에 대한 설명이다. 두 제도 모두 주민이 지방 자치에 참여하는 대표적인 방법이다.

**18 주제 파악: 지역 사회의 주민 참여**

제시된 신문 기사에는 지역 주민들로 구성된 주민 자치회에 의해 주민들이 원하는 지역 사업을 실시해 지역 문제를 해결한 사례가 나타나 있다. 즉, 주민 참여를 통해 지역 사회의 문제를 해결한 사례이다.

**19 주제 파악: 보통 선거**

**예시 답안 |** 보통 선거로, 일정한 연령에 이르면 어떠한 조건에 따른 제한 없이 모든 국민에게 선거권을 주는 제도이다.

**핵심 단어 |** 보통 선거, 일정한 연령, 모든 국민, 선거권

등급	채점 기준
상	보통 선거를 쓰고, 그 의미를 서술한 경우
하	보통 선거라고만 쓴 경우

**20 주제 파악: 주민 참여 방법**

**예시 답안 |** 지방 의회 의원과 지방 자치 단체의 장을 선출하는 지방 선거에 참여한다. 지방 자치 단체에 요구 사항을 청원한다. 공청회에 참석해 의견을 제시한다. 등  
**핵심 단어 |** 지방 선거 참여, 청원, 공청회

등급	채점 기준
상	주민의 참여 방법을 두 가지 서술한 경우
하	주민의 참여 방법을 한 가지만 서술한 경우



단원 평가	11회	11단원 일상생활과 법			
01 ⑤	02 ①	03 ④	04 ③	05 ②	
06 ④	07 ②	08 ④	09 ④	10 사회법	
11 ⑤	12 ②	13 ⑤	14 ①	15 ①	
16 ③	17 ④	18 ⑤	19 ③		
20 해설 참조	21 해설 참조				

## 01 주제 파악: 법의 특성 파악

⑤ 분쟁과 갈등을 예방하고 사회 질서를 유지하기 위해 국가가 정한 규범은 법이다. 도덕은 인간이 지켜야 할 바람직한 도리로서 국가가 강제하는 규범이 아니다.

## 02 주제 파악: 법의 특성 파악

- ㄱ. 법은 사회 질서를 유지하기 위해 사회 구성원들이 사회생활에서 지켜야 할 행동의 기준으로, 법을 지키지 않을 경우 국가에 의해 제재를 받게 된다(강제성).
- ㄴ. 법은 해야 할 일과 하지 말아야 할 일을 구체적으로 명확하게 규정하고 있다(명확성).
- ㄷ. 법은 어느 사회에서나 질서를 유지하기 위해 필요하지만, 현대 사회에서는 사회의 다원화에 따라 법의 종류가 매우 다양해진 만큼 현대 사회보다 전통 사회에서 법이 더 중요시되었다고 보기는 어렵다.
- ㄹ. 법은 법관과 같은 전문가들만의 영역이 아니라 사회 구성원 모두와 밀접한 관련을 맺고 있다.

## 03 주제 파악: 법의 기능

제시된 사례에서는 법원의 판결을 통해 분쟁을 해결하는 모습이 나타난다. 이처럼 법은 분쟁의 해결 기준을 제시함으로써 사회 질서의 유지에 기여한다.

## 04 주제 파악: 정의의 실현

법은 정의의 실현을 목적으로 한다. 정의는 평균적 정의와 배분적 정의로 나뉘는데, 제시된 신문 기사에서 고소득자에게 세금을 더 많이 걷는 것은 개인의 차이를 고려한 배분적 정의에 해당한다.

## 05 주제 파악: 법의 목적

법은 정의의 실현, 공공복리의 추구 등을 목적으로 한다. 이중에서도 정의의 실현을 궁극적인 목적으로 하는데, 제시문은 이에 대한 설명이다.

## 06 주제 파악: 법의 특성 파악

(가)는 소송의 절차에 대해 규정하고 있으므로 소송법이고, (나)는 협박죄에 대해 규정하고 있으므로 형법이며, (다)는 상해죄에 대해 규정하고 있으므로 역시 형법이다.

## 07 주제 파악: 법이 규율하는 생활 영역

㉠은 선거법, ㉡은 민법, ㉢은 병역법, ㉣은 세법, ㉤은 형법과 관련이 있다. 이 중 ㉡은 사법이고, 나머지는 모두 공법에 해당한다.

## 08 주제 파악: 헌법의 특징

㉠에 들어갈 우리나라의 최고 법은 헌법이다. 헌법은 한 나라의 최고 법이며, 모든 법의 상위법이다. 법이 우리의 일상생활을 규제하고 보호한다면, 헌법은 법의 전체적인 질서를 나타내며 법 위의 법이라고 할 수 있다. 모든 법은 헌법에 위배될 수 없다. 헌법은 국민의 권리와 의무, 국가의 통치 조직 및 국가 운영 원리 등을 정해 놓았다.

## 09 주제 파악: 사례와 관련된 법의 영역

을을 제외한 모든 학생이 일상생활에서 사법이 적용되는 사례를 발표하였다. 을, 죄를 지었을 때 법에 따른 처벌을 받는 것은 공법 중 형법에 대한 설명이다.

## 10 주제 파악: 사회법의 종류

첫 번째 사례에서 A는 사회 보장법의 도움을 받을 수 있고, 두 번째 사례에서 B는 경제법의 도움을 받을 수 있다. 사회 보장법과 경제법은 모두 사회법에 속한다.

## 11 주제 파악: 근로 기준법의 특징

- ㉠에 들어갈 법은 근로 기준법이고, 근로 기준법은 사법과 공법의 중간적인 성격을 갖는 사회법에 해당한다.
- ㄱ. 사회법은 사적인 생활 영역에 대한 국가의 개입을 확대하였다.
- ㄴ. 사회법은 산업 혁명 이후 자본주의의 발전 과정에서 나타난 문제를 해결하기 위해 등장하였다.

## 12 주제 파악: 재판의 기능

제시된 사례에서는 후인 아동과 학부모들의 교육권이 침해된다고 보아 재판을 통해 이를 구제하였다. 따라서 국민의 권리를 보호하는 재판의 기능을 확인할 수 있다.

## 13 주제 파악: 재판의 기능

⑤ 개인 간에 문제가 생겼을 때 가장 바람직한 해결 방법은 사건 당사자들끼리 합의를 하는 것이다. 재판은 시간과 비용이 많이 들고 인간관계에서도 어려움을 겪을 수 있기 때문에 가장 바람직한 방법이라고는 하기 어렵다.

## 14 주제 파악: 형사 재판의 절차

형사 재판은 절도, 폭행 등의 범죄가 발생한 경우 죄를 저지른 것으로 의심받는 사람에게 죄가 있는지, 죄가 있다면 어떤 처벌을 받아야 하는지 결정하는 재판이다. 형사 재판은 '고소 또는 고발 → 피의자에 대한 경찰 수사 → 검사가 법원에 재판 청구 → 검사의 신문, 변호인의 변론 → 판사의 판결 선고' 순으로 이루어진다.

## 15 주제 파악: 공소의 의미

공소는 검사가 형사 사건에 대하여 법원의 재판을 청구하는 것이다. 공소권은 법원에 공소를 제기할 수 있는 검사의 권리를 말하는 것으로, 검사가 형사 사건에 대해 공소를 제기하고 이를 수행하는 권한을 말한다. 이러한



신청의 절차를 공소의 제기 또는 기소라고 한다.

**16 주제 파악: 민사 재판과 형사 재판**

층간 소음 문제 등과 관련하여 개인 간에 발생하는 손해 배상 문제는 민사 재판으로 해결할 수 있고, 폭행과 같은 범죄 사실은 형사 재판의 대상이 된다.

**17 주제 파악: 공정한 재판을 위한 제도**

첫 번째 내용은 공개 재판주의, 두 번째 내용은 증거 재판주의, 세 번째 내용은 사법권의 독립에 해당한다. 이는 모두 공정한 재판을 실현함으로써 시민의 자유와 권리를 보장하기 위한 것이다.

**18 주제 파악: 심급 제도**

⑤ 재판 당사자는 재판에 문제가 있다고 생각하는 경우에 상소를 하여 다시 판단해 달라고 요청할 수 있다. 하지만 재판 당사자 이외의 사람은 원칙적으로 재판을 해 달라고 요청할 이익이 없는 사람이라고 보기 때문에 이를 허용하지 않는다.

**19 주제 파악: 공개 재판주의**

제시된 자료에서 에밀 졸라는 드레퓀스 사건의 재판이 완전히 비공개로 진행된 점을 비판하고 있다. 따라서 공개 재판주의의 필요성을 강조한 것으로 볼 수 있다.

**20 주제 파악: 민법의 특징**

**예시 답안 |** (1) (가) 공법, (나) 사법

(2) 공법은 국가 공동체와 관련되어 있는 공적인 생활 영역을 규율하고, 사법은 개인과 개인 간의 사적인 생활 영역을 규율한다.

**핵심 단어 |** 민법

등급	채점 기준
상	민법의 내용을 포함하여 서술한 경우
하	민법의 내용을 포함하지 않고 법적 도움을 받으라고만 서술한 경우

**21 주제 파악: 심급 제도**

**예시 답안 |** 심급 제도이다. 법관의 잘못된 판단으로 발생할 수 있는 피해를 줄임으로써 공정한 재판을 통해 국민의 권리를 보장한다.

**핵심 단어 |** 심급 제도, 공정한 재판, 권리 보장

등급	채점 기준
상	심급 제도를 쓰고, 공정한 재판과 권리 보장을 모두 서술한 경우
중	심급 제도를 쓰고, 공정한 재판과 권리 보장 중 한 가지만 서술한 경우
하	심급 제도라고만 쓴 경우

단원 평가	12회	12단원 사회 변동과 사회 문제			
01 ③	02 ④	03 ⑤	04 ⑤	05 ②	
06 ①	07 ③	08 ①	09 ④	10 ⑤	
11 ③	12 ①	13 ②	14 ②	15 ⑤	
16 ①	17 ⑤	18 ②	19 해설 참조		
20 해설 참조					

### 01 주제 파악: 현대 사회 변동의 특징

사회 변동은 시간이 흐름에 따라 사회의 모습이나 질서에 일정한 정도 이상의 변화가 나타나는 현상이다.

③ 사회 변동의 속도는 현대 사회에 들어서면서 점점 더 빨라지고 있다.

### 02 주제 파악: 정보 사회의 특징

제시문에는 정보 사회의 모습이 나타나 있다. 정보 사회에서는 시간과 공간의 제약 감소로 의사소통이 자유롭게 이루어지기는 하지만, 개인 정보 유출, 익명성으로 인한 악성 댓글 문제, 사이버 범죄도 증가하고 있다.

④ 노동과 자본이 부가 가치의 주요한 원천으로 작용하는 사회는 산업 사회이다. 정보 사회에서는 지식과 정보가 부가 가치의 원천이 된다.

### 03 주제 파악: 사회 변동의 요인

⑤ 인터넷망, 월드와이드웹, 페니실린의 대량 생산, 가정용 컴퓨터의 보급 등은 모두 과학 기술의 발달에 따른 사회 변동이다.

### 04 주제 파악: 산업화로 인한 사회 문제

농업 중심의 사회에서 공업 중심의 사회로 변화하는 현상을 산업화라고 한다. 산업화의 문제점으로 빈부 격차 심화, 환경 오염 심화, 노사 갈등, 인간 소외 현상, 농촌과 도시의 격차 심화 등이 나타난다.

⑤ 사이버 범죄, 개인 정보 유출로 인한 사생활 침해는 정보 사회의 문제점이다.

### 05 주제 파악: 정보 사회의 특징

② 정보 사회는 지식과 정보가 중심이 되어 사회 변화를 이끌어 가는 사회 형태이다. 제시된 자료에서는 정보 통신 기술의 발달로 인터넷 쇼핑 이용률이 점차 증가하는 것으로 보아 시간적·공간적 제약의 약화로 생활 편의가 증대되고 있음을 알 수 있다.

### 06 주제 파악: 시간의 흐름에 따른 사회 변동

인류 사회의 변동 모습은 ‘토지와 노동을 바탕으로 한 농경 사회 → 노동과 자본을 바탕으로 한 산업 사회 → 지식과 정보가 생산되고 거래되는 정보 사회’로 나타난다.

ㄱ. 농업 사회는 노동을 바탕으로 농업을 하는 사회를 말한다. 따라서 토지와 노동이 주된 기반이다.

ㄴ. 산업 사회는 제조업이 발달하며 대량 생산이 가능

해졌다.

ㄷ. 양방향 의사소통은 정보 사회의 특징이다.

ㄹ. 인구가 촌락에서 도시로 급격하게 이동하는 이촌향도 현상은 산업 사회에서 나타났다.

### 07 주제 파악: 저출산·고령화의 현상 대응 방안

③ 개방적 태도를 통해 문화의 다양성을 이해하는 것은 다문화 사회에 대한 의식적 측면의 대응 방안에 해당한다.

### 08 주제 파악: 다문화 사회의 영향

제시문에는 다문화 사회로의 변화가 나타나 있다. 다문화 사회가 우리 사회에 미치는 긍정적 영향으로는 새로운 문화의 유입으로 문화 다양성 실현을 통해 문화 발전의 토대가 될 수 있고, 이주 노동자들의 유입으로 노동력 부족 문제가 해소되어 경제 성장의 원동력이 될 수 있다는 점이다. 한편, 부정적 영향에는 언어 차이로 인한 의사소통의 어려움, 외국인들의 사회 부적응과 경제적 어려움, 문화적 소수자들에 대한 사회적 차별 및 갈등, 이주민의 사회적 차별 및 인권 침해 발생 등이 있다.

### 09 주제 파악: 저출산 현상의 해결 방안

④ 남성의 의무 육아 휴직 기간을 확대한 것은 저출산 문제를 해결하기 위해서이다. 저출산 문제의 대응 방안으로는 이밖에도 영유아 보육비 지원, 양성평등 문화 확립, 일과 가정을 양립할 수 있는 문화 확산 등이 있다.

### 10 주제 파악: 다문화 사회

제시된 사례들은 모두 각국의 사람들이 우리나라에서 살아가는 모습을 보여 준다. 이처럼 오늘날 우리나라에서는 외국인 노동자, 국제결혼 이민자, 외국인 유학생, 북한 이탈 주민 등의 국내 유입이 증가하면서 다문화 사회로의 변동이 가속화되고 있다.

### 11 주제 파악: 고령화 현상

③ 저출산·고령화 현상은 우리 사회에 노동력 부족으로 인한 경제 성장 저하와 사회 보장 부담의 증가와 같은 문제를 야기한다.

① 고령화 사회를 넘어 초고령 사회로 진입하고 있다.

② 노동력 부족 문제를 해결하기 위해 외국인 노동자의 유입이 증가할 것이다.

④ 노인 인구 증가로 노인 인구 부양비가 증가할 것이다.

⑤ 생산 가능 인구의 증가를 위해 정부는 출산율을 높이기 위한 정책을 실시해야 한다.

### 12 주제 파악: 고령화 현상의 대응 방안

65세 이상 인구 비율의 증가는 고령화 현상의 심화를 나타내며, 이에 대한 대응 방안으로 연금 제도 개선, 노년층의 경제 활동 장려 방안 마련 등을 들 수 있다.

**13 주제 파악: 노동 문제**

제시문에서 지적하고 있는 것처럼 기후 관련 미래 기술들이 지금 인간이 하고 있는 많은 일을 대체하게 되면, 새로운 환경에 적응하지 못한 많은 사람들이 일자리를 잃으면서 실업 문제가 심화될 수 있다.

**14 주제 파악: 사회 문제의 원인**

과거에는 비만을 사회 문제라고 인식하지 않았지만, 오늘날에는 사람들의 가치관이 변화하여 비만을 사회 문제로 여긴다.

**15 주제 파악: 현대 사회의 문제**

개발 도상국에서는 산업화로 사망률이 낮아지고 출생률은 높아져 인구가 급격히 증가하였지만, 인구 부양 능력이 함께 성장하지 못해 식량 부족, 자원 부족 등의 문제가 발생하고 있다. 이에 출산 억제 정책 및 경제 성장과 식량 증산 정책이 함께 이루어져야 한다.

**16 주제 파악: 노동 문제**

우리 사회의 노동 문제에는 임금 인상, 노동 환경의 개선을 둘러싼 노동자와 사용자의 대립 등과 관련된 노사 갈등 문제, 비정규직·여성·외국인 노동자에 대한 임금 차별 및 저임금 문제, 실업 문제 등이 있다.

**17 주제 파악: 환경 문제의 특징**

생물 다양성 보존 협약과 사막화 방지 협약은 환경 문제가 국경을 초월하여 나타나는 문제이므로 개별 국가를 넘어 인류가 공동으로 협력하여 대응해야 한다는 것을 보여 준다.

**18 주제 파악: 사회 문제의 해결 방안**

일자리 창출, 주택 공급 증대, 출산 및 육아 지원, 폐수 처리 시설 확충은 모두 사회적·제도적 측면의 해결 방안이다.

② 서명 운동 참여는 개인적 차원의 해결 방안이다.

**19 주제 파악: 정보 격차의 의미**

**예시 답안 |** (1) 정보 격차

(2) 새로운 정보 기술에 접근할 수 있는 능력을 보유한 사람과 그렇지 못한 사람 사이에 경제적·사회적 격차가 심화되는 현상이다.

**핵심 단어 |** 정보 기술 접근 능력, 새로운 정보 기술, 경제적·사회적 격차

등급	채점 기준
상	정보에 접근할 수 있는 능력의 정도에 따라 경제적·사회적 격차가 심화된다고 서술한 경우
하	정보의 유무에 따라 경제적 격차가 발생한다고만 서술한 경우

**20 주제 파악: 환경 문제의 특징**

**예시 답안 |** 개발 도상국은 폭발적 인구 증가로 기아와 빈곤 문제 등이 나타나고, 선진국은 저출산·고령화 현상으로 노동력이 부족하고 노인 부양 부담의 증가 등이 나타난다.

**핵심 단어 |** 정보 기술 접근 능력, 새로운 정보 기술, 경제적·사회적 격차

등급	채점 기준
상	개발 도상국과 선진국의 인구 문제를 모두 정확히 서술한 경우
하	개발 도상국과 선진국 중 한쪽의 인구 문제만 정확히 서술한 경우

사회 ②

김영사

단원	평가	1회	1단원 인권과 헌법				
01	②	02	①	03	①	04	⑤
05	세계 인권 선언	06	①	07	②	08	③
09	③	10	②	11	④	12	④
14	⑤	15	①	16	노동 위원회	17	①
18	③	19	해설 참조	20	해설 참조		

01 주제 파악: 인권의 의미

인권은 인간이 인간답게 살아가기 위해 마땅히 누려야 할 권리이며, 인간의 존엄성 유지 및 보장을 위한 전제 조건이다.

- ① 인간이 태어나면서부터 가지는 권리이다.
- ③ 의무를 이행했는지 여부와 관계없이 인간이라면 누구나 가지는 권리이다.
- ④ 인간이라면 누구나 마땅히 누려야 할 권리이다.
- ⑤ 국가의 법이나 제도로 보장되기 이전에 자연적으로 주어지는 자연권이다.

02 주제 파악: 프랑스 인권 선언

프랑스 인권 선언 제7조에서는 신체의 자유에 대한 내용을 명시하고 있는데, 신체의 자유는 자유권에 해당한다.

03 주제 파악: 바이마르 헌법

제시된 문서는 독일의 바이마르 헌법이다. 바이마르 헌법은 세계 최초로 사회권을 헌법으로 규정하였다.

- ② 근대 시민 혁명에 대한 설명이다.
- ③ 절대주의 왕정의 억압에 대항한 것은 프랑스 혁명으로 나타난 프랑스 인권 선언이다.
- ④ 차티스트 운동 당시 인민 헌장에 대한 설명이다.
- ⑤ 세계 인권 선언에 대한 설명이다.

04 주제 파악: 인권과 헌법의 관계

⑤ 오늘날 대부분의 국가에서는 헌법에 인권을 국민의 기본권으로 규정하고 있다. 우리나라 헌법도 자유권, 평등권, 참정권, 사회권, 청구권 등으로 기본권을 보호하고 있다.

05 주제 파악: 세계 인권 선언의 내용

제시된 자료는 1948년 국제 연합(UN)이 발표한 세계 인권 선언이다. 세계 인권 선언은 인종, 피부색, 성, 언어, 종교 등에 상관없이 누구에게나 평등하고 보편적인 인권의 보장을 전 세계가 합의하여 문서로 나타낸 것이다.

06 주제 파악: 참정권

첫 번째 내용은 선거권, 두 번째 내용은 국민 투표권, 세 번째 내용은 공무 담임권에 대한 설명이다. 선거권, 국

민 투표권, 공무 담임권은 모두 청구권에 해당한다.

- ② 청구권에 대한 설명이다.
- ③ 평등권에 대한 설명이다.
- ④ 사회권에 대한 설명이다.
- ⑤ 자유권에 대한 설명이다.

07 주제 파악: 사회권

사회권은 국민이 국가에 인간다운 생활을 요구할 수 있는 적극적 권리로서, 교육을 받을 권리, 근로의 권리, 쾌적한 환경에서 살 권리 등을 포함한다.

08 주제 파악: 헌법 조항과 기본권

(가)의 공무 담임권은 참정권에 해당하고, (나)의 언론·출판·집회·결사의 자유는 자유권에 해당하며, (다)의 쾌적한 환경에서 생활할 권리는 사회권에 해당한다.

09 주제 파악: 국민 투표권

대의제는 국민의 의사가 정치에 정확하게 반영되지 않거나, 시민의 정치적 무관심을 초래할 수 있다는 한계를 가지고 있다. 참정권 중 국민 투표권은 이러한 대의제의 한계를 보완하기 위한 직접 민주제 요소에 해당한다.

10 주제 파악: 기본권의 제한과 한계

우리나라 헌법 제37조 ②항에서는 국가 안전 보장, 질서 유지, 공공복리를 위하여 필요한 경우에 한하여 법률로써 기본권을 제한할 수 있음을 명시하고 있다. 하지만 이렇게 기본권 제한을 하는 경우에도 자유와 권리의 본질적인 내용은 침해할 수 없음을 분명하게 명시함으로써 기본권 제한과 관련된 국가 권력의 남용을 방지하고, 국민의 기본권을 최대한 보장하고자 하고 있다.

② 기본권을 제한하는 요건과 한계를 헌법으로 엄격하게 정하여 국가 권력의 남용을 방지하고 있다.

11 주제 파악: 헌법 재판소

법률 또는 국가의 공권력에 의해 헌법상 보장된 인권이 침해된 경우 국민은 헌법 재판소에 헌법 소원 심판을 청구할 수 있다. 헌법 재판소는 해당 법률이나 사건이 헌법에 위배되었는지 판단하여 국민의 침해된 인권을 구제해 준다.

12 주제 파악: 국가 인권 위원회

제시된 사례에서는 영화관에서 장애인을 위한 자막을 제공하지 않아 장애인이라는 이유로 영화를 관람하지 못한 차별이 이루어졌다. 국가 인권 위원회는 이러한 인권 침해 및 차별 행위를 조사하여 구제하고, 인권을 침해하는 법이나 제도의 문제점을 찾아 개선할 것을 권고하는 기관이다.

- ① 시민 단체가 아닌 국가 기관이다.
- ② 어디에도 속하지 않는 독립된 기관이다.
- ③ 헌법 재판소의 역할이다.
- ⑤ 법원의 형사 재판에 대한 설명이다.

**13 주제 파악: 인권 침해와 구제 방법**

제시된 사례에서 나이를 이유로 국회 도서관 이용을 제한하는 것을 기본권 침해라고 판단하는 경우에는, 국가인권 위원회에 차별 행위가 성립되는지 확인하고 구제 요청을 할 수 있다.

- ① 형사 재판은 범죄 행위로 개인의 권리가 침해당했을 때 청구하는 것인데, 국회 도서관의 규정은 범죄 행위로 볼 수 없다.
- ② 헌법 소원 심판은 침해된 기본권을 구제받을 다른 수단이 없을 경우에 고려해야 한다.
- ③ 소비자의 권리가 침해된 경우로 보기 어려우므로 적절하지 않다.
- ⑤ 언론 보도로 인해 피해가 발생한 경우로 보기 어려우므로 적절하지 않다.

**14 주제 파악: 근로자의 권리**

근로자는 근로 기준법에 의해 최소한의 인간다운 생활을 영위할 수 있는 근로 조건을 보장받는다.

- ① 근로자는 최후의 수단으로 단체 행동권을 발휘할 수 있다.
- ② 근로자는 사용자에 비해 경제적·사회적 약자의 위치에 있다.
- ③ 근로자는 단체 교섭권을 가지며, 노동조합을 통해 사용자와 근로 조건을 협의할 수 있다.
- ④ 사용자가 근로자의 노동조합 활동과 관련하여 불이익을 주는 것은 부당 노동 행위이다.

**15 주제 파악: 부당 노동 행위의 사례**

부당 노동 행위는 사용자가 근로자의 '노동 3권'을 침해하는 경우를 의미한다. 즉, 노동자의 단결권, 단체 교섭권, 단체 행동권을 방해하거나 그 권리의 행사를 이유로 근로자에게 불이익을 주는 경우를 부당 노동 행위라고 한다.

- ㄷ. 부당 해고의 사례에 해당한다.
- ㄹ. 임금 체불 사례에 해당한다.

**16 주제 파악: 노동 위원회**

노동 위원회는 근로자 위원, 사용자 위원, 공익 위원으로 구성된 합의제 행정 기관으로, 노사 문제를 조정하고 판정하는 역할을 한다.

**17 주제 파악: 노동 3권**

노동조합과 같은 단체를 만들 수 있는 권리는 단결권이며, 노동조합을 통해 사용자와 근로 조건을 협의할 수 있는 권리는 단체 교섭권이다. 사용자와 단체 교섭이 원만하게 이루어지지 않을 때 일정한 절차를 거쳐 쟁의 행위를 할 수 있는 권리는 단체 행동권이다.

**18 주제 파악: 임금 체불 시 해결 방법**

제시된 사례에서 A는 계약보다 짧게 일했지만, 한 달간의 노동에 대해서는 정당한 임금을 받을 권리가 있다. 따라서 고용 노동부에 신고하여 문제를 해결할 수 있다.

**19 주제 파악: 인간의 존엄과 가치 및 행복 추구권**

**예시 답안 |** (1) 청구권

(2) 국가에 대해 일정한 행위를 요구하거나 침해당한 기본권의 구제를 청구할 수 있는 권리로, 다른 기본권 보장을 위한 수단적 성격을 갖는다.

**핵심 단어 |** 국가에 대해 요구, 수단적 성격

등급	채점 기준
상	국가에 대해 일정한 행위를 요구하는 것 수단적 성격을 모두 포함하여 서술한 경우
하	국가에 대해 일정한 행위를 요구하는 것 수단적 성격 중 한 가지만 포함하여 서술한 경우

**20 주제 파악: 노동 3권의 내용 및 목적**

**예시 답안 |** (1) ㉠ - 단결권, ㉡ - 단체 행동권

(2) 사회적·경제적 약자의 위치에 있는 근로자가 사용자와 대응한 위치에서 근로 조건을 협의할 수 있도록 하고, 근로자의 근로 조건 및 권리를 보호한다.

**핵심 단어 |** 사회적·경제적 약자, 사용자와 대응한 위치, 근로 조건 협의, 근로 조건 및 권리 보호

등급	채점 기준
상	노동 3권의 목적을 두 가지 모두 서술한 경우
하	노동 3권의 목적을 한 가지만 서술한 경우



단원 평가	2회	2단원 헌법과 국가 기관			
01 ③	02 입법	03 ⑤	04 ④	05 ④	
06 ④	07 ①	08 ②	09 ④	10 ②	
11 ⑤	12 ②	13 ⑤	14 ④	15 ①	
16 ②	17 ③	18 ②	19 해설 참조		
20 해설 참조					

**01 주제 파악: 우리나라 국회의 특징**

국회는 국민들의 선거에 의해 선거구별로 선출된 지역 구 국회 의원과 정당의 득표율에 비례하여 선출된 비례 대표 국회 의원으로 구성된다.

- ① 국회는 법을 만드는 국가 작용을 하므로 입법부라고 한다.
- ② 국회 의원 선거는 4년에 한 번씩 이루어진다.
- ④ 헌법 제41조 ② 국회 의원의 수는 법률로 정하되, 200인 이상으로 한다.
- ⑤ 20인 이상의 소속 의원을 가진 정당은 교섭 단체를 구성할 수 있다.

**02 주제 파악: 입법 작용**

국가 권력을 입법, 행정, 사법으로 나누고 입법권을 의회에 부여한다. 따라서 의회는 국가 운영의 중심 기관으로서 법률 제정, 즉 입법을 담당한다.

**03 주제 파악: 법률안 제정 절차**

⑤ 본회의를 통과한 법률안은 대통령이 15일 이내에 공포하여야 하며, 특별한 경우 대통령은 거부권을 행사할 수 있다.

**04 주제 파악: 법률의 제정 및 개정 절차**

법률의 제정은 ‘법률안 제출 → 상임 위원회 심사 → 본회의 가결 → 대통령 공포’의 순서로 이루어진다.

**05 주제 파악: 국회의 국정 견제 기능**

국회는 국정을 감시하고 행정부를 견제함으로써 권력 분립을 실현하고 국민의 권리를 최대한 보장하기 위해 탄핵 소추 의결권, 주요 공무원 임명 동의권, 국정 감사 및 국정 조사권 등의 권한을 행사한다.

- ㄱ. 법률 제·개정권 (×) → 입법에 관한 권한
- ㄴ. 헌법 개정안 제안 및 의결권 (×) → 입법에 관한 권한

**06 주제 파악: 헌법 기관 구성 임명 동의권**

국회는 대통령이 국무총리, 대법원장, 헌법 재판소장 등 헌법 기관 구성권을 임명하는 데 대해 동의권을 가짐으로써 대통령의 인사권을 견제한다.

**07 주제 파악: 국무 회의의 의장과 부의장**

제시된 내용은 국무 회의에 대한 설명이다. 국무 회의의 의장은 대통령이고, 부의장은 국무총리로, 국무 회의에서는 행정 각부의 장들이 대통령을 보좌하고 국정을 심

의한다.

**08 주제 파악: 행정 각부의 역할**

(가)에서 인적 자원을 개발하고 학교 교육, 평생 교육, 학술에 관한 사무와 연구 개발을 담당하는 부서는 교육부이고, (나)에서 국가의 치안, 재난 관리와 예방을 담당하는 부서는 행정 안전부이다. 이처럼 행정 각부는 구체적인 전문 행정 분야를 담당한다.

**09 주제 파악: 행정부의 주요 조직과 기능**

④ ㉠에 들어갈 행정부의 조직은 감사원이다. 대통령을 도와 행정 각부를 지휘 또는 조정하는 것은 국무총리이다. 감사원은 대통령 직속 기관이지만 독립적인 지위를 가지기 때문에 행정 각부의 지휘 또는 조정의 역할을 하지 않는다.

**10 주제 파악: 대통령의 권한**

대통령이 국가 원수로서 행사하는 권한에는 국정 조정 권한, 외교에 관한 권한, 헌법 개정 발의권 및 국민 투표 부의권, 헌법 기관 구성권, 긴급 명령권과 계엄 선포권, 전쟁 선포권 등이 있다.

ㄴ, ㄷ은 행정부 수반으로서 대통령이 행사하는 권한에 해당한다.

**11 주제 파악: 대통령의 역할과 권한**

제시문에 나타난 대통령의 역할은 국무 회의의 의장으로서 국가의 중요한 정책을 심의하고 최종적으로 결정하는 것이다. 이는 행정부 수반으로서 대통령이 행사하는 권한에 해당한다.

**12 주제 파악: 대통령의 역할과 권한**

② 국무총리에 대한 탄핵 소추를 의결하는 것은 행정부를 견제하기 위한 국회의 권한이다. 대통령은 국회의 동의를 얻어 국무총리를 임명하거나 해임할 수 있다.

**13 주제 파악: 사법(司法) 활동**

⑤ 범죄 행위를 다스려 사회 질서를 유지하는 사법 활동의 사례이다.

①, ③, ④는 행정 활동이고, ②는 입법 활동이다.

**14 주제 파악: 사법과 사법부**

사법(司法)은 분쟁이 발생하였을 때 법을 해석하고 적용하여 판단하는 국가 활동을 의미한다. 이러한 사법 작용을 담당하는 국가 기관은 사법부이고, 사법부는 법원에서 재판을 통해 이러한 역할을 수행한다.

**15 주제 파악: 심급 제도의 내용**

1심 판결에 불복하여 다시 재판을 청구하는 것을 항소, 2심 판결에 불복하여 다시 재판을 청구하는 것을 상고라고 한다.

**16 주제 파악: 법원의 조직**

② 지방 법원, 가정 법원, 행정 법원의 1심 판결에 불복하여 항소한 사건에 대해서는 고등 법원이 재판을 담당한다. 즉, 고등 법원은 일반적으로 2심 재판을 담당한다.

**17 주제 파악: 법원의 종류**

이혼, 양자, 상속과 같은 가사 사건이나 소년 보호 사건을 담당하는 법원은 가정 법원이고, 국가 기관의 잘못된 행정 작용 등 행정 관련 사건을 담당하는 곳은 행정 법원이다.

**18 주제 파악: 헌법 재판소의 권한**

제시문에서 인터넷 실명제에 대해 위헌 결정을 내린 것은 법률이 헌법에 위배되어 국민의 기본권을 침해하고 있는지를 심판한 것이다. ①은 정당 해산 심판, ③은 탄핵 심판, ④, ⑤는 권한 쟁의 심판에 대한 설명이다.

**19 주제 파악: 대통령의 지위와 권한**

**예시 답안 |** (1) 행정부 수반  
(2) 행정부를 지휘·감독한다. 국군을 지휘·통솔한다. 공무원을 임명·해임한다. 국회가 의결한 법률안을 거부한다. 등

**핵심 단어 |** 행정부 지휘·감독, 국군 지휘·통솔, 공무원 임명, 법률안 거부 등

등급	채점 기준
상	행정부 수반으로서 대통령의 권한을 두 가지 이상 서술한 경우
하	행정부 수반으로서 대통령의 권한을 한 가지만 서술한 경우

**20 주제 파악: 국가 기관 간의 견제와 균형**

**예시 답안 |** 국가 기관 간의 견제와 균형을 통해 국가 권력의 남용을 방지함으로써 국민의 기본권을 보장하고자 한다.

**핵심 단어 |** 견제와 균형, 국가 권력 남용 방지, 기본권 보장

등급	채점 기준
상	핵심 단어를 모두 사용하여 서술한 경우
중	핵심 단어 중 두 가지만 사용하여 서술한 경우
하	핵심 단어 중 한 가지만 사용하여 서술한 경우



단원 평가	3회	3단원 경제생활과 선택		
01 ④	02 ②	03 18,000원	04 ⑤	
05 ②	06 ④	07 ②	08 ④	09 ②
10 ③	11 ③	12 ⑤	13 ⑤	14 ④
15 ⑤	16 ④	17 ①	18 ④	
19 해설 참조	20 해설 참조			

**01 주제 파악: 경제 주체 간의 상호 작용**

제시된 표에서 ‘세금을 납부하나요?’라는 질문에 경제 주체 중 가게와 기업만 ‘예’라고 대답할 수 있다. ‘생산 요소를 제공하나요?’라는 질문에는 가게만 ‘예’라고 대답할 수 있다. ‘공공재나 사회 간접 자원을 생산하나요?’라는 질문에는 정부만 ‘예’라고 대답할 수 있다. 따라서 (㉠)는 기업, (㉡)는 가게, (㉢)는 정부에 해당한다.  
 ㉠. (㉠)는 기업, (㉡)는 가게, (㉢)는 정부이다.  
 ㉡. (㉡)는 소비 주체인 가게이다. 재화와 서비스를 생산하여 공급하는 경제 주체는 (㉠) 기업이다.

**02 주제 파악: 경제 주체와 경제 활동**

A와 B는 기업, C는 가게에 해당한다.  
 ② B는 농수산물 가공식품을 생산하는 것이 아니다. 물류업체로서 농수산물 가공식품의 가치를 증대시키는 보관 서비스를 제공하고 있다.

**03 주제 파악: 경제 활동의 대상**

1,000원(버스 요금), 9,000원(머리 커트 비용), 8,000원(영화 관람비)를 모두 합한 금액은 18,000원이다.

**04 주제 파악: 자원의 희소성**

자원의 희소성은 인간의 욕구는 무한한 데 비해 이를 충족해 줄 자원 또는 재화가 부족한 상태를 의미한다. ㉠에는 인간의 욕구, ㉡에는 자원 또는 재화의 존재량이 들어간다. 인간의 욕구가 자원의 존재량보다 큰 상품일수록 구하기가 어렵기 때문에 가격이 높아지고, 동일한 재화라도 주관적인 인간의 욕구는 일정하게 정해져 있는 것이 아니라 시대와 장소에 따라 달라질 수 있다.

**05 주제 파악: 자원의 희소성**

② 희소성은 가격의 결정 요인이고, 희소성이 클수록 가격이 높아진다. 따라서 인형 가게에서 가장 비싼 강아지 인형의 희소성이 가장 크다.

**06 주제 파악: 합리적 의사 결정 과정**

④ 합리적 의사 결정은 ‘문제의 인식 → 대안 탐색 → 대안 평가 → 대안 선택 및 실행 → 대안 평가 및 반성’의 과정으로 진행된다.

**07 주제 파악: 기회비용 계산**

어떤 선택에서 여러 대안이 있을 때 기회비용이 작은 대안을 선택하는 것이 합리적이다. 제시된 사례에서 짜

장면 선택의 기회비용은 11,000원(짜장면 값+짬뽕의 만족감)이고, 짬뽕 선택의 기회비용은 12,000원(짬뽕 값+짜장면의 만족감)이다. 따라서 A는 짬뽕이 아니라 짜장면을 선택해야 합리적 선택을 한 것이 된다.  
 ㄴ. 짬뽕 선택의 기회비용은 12,000원이다. ㄷ. 짜장면과 짬뽕 모두 재화에 속한다.

**08 주제 파악: 계획 경제 체제**

A국은 국가가 공장을 소유하고 생산 품목과 생산량을 결정하는 계획 경제 체제를 채택하고 있다.  
 ㄴ, ㄷ. 시장 경제 체제에 대한 설명이다.

**09 주제 파악: 기본적인 경제 문제**

기본적 경제 문제는 ‘무엇을 얼마나 생산할 것인가?’, ‘어떻게 생산할 것인가?’, ‘누구에게 분배할 것인가?’의 세 가지 유형으로 구분된다. 제시문에서 A의 경우 생산 방법과 관련된 대책을 제시했으므로 ‘어떻게 생산할 것인가?’에 해당하고, B의 경우 생산물의 종류에 대한 결정을 내렸으므로 ‘무엇을 얼마나 생산할 것인가?’에 해당한다.

**10 주제 파악: 기본권의 제한과 한계**

③ 시장에 대한 정부 개입이 강하고 생산 수단을 사적으로 소유하는 것은 허용하는 정도가 낮으며, 경제적 효율성을 중요하게 생각하는 정도가 낮은 A국은 계획 경제 체제에 가깝다. 따라서 B국은 시장 경제 체제에 가깝다.

**11 주제 파악: 생산 요소의 대가**

③ ㉠은 임금, ㉡은 이자, ㉢은 지대로 생산 요소인 노동, 자본, 토지에 대한 대가이다.

**12 주제 파악: 기업의 사회적 책임**

기업가는 회사를 설립하고 이윤을 추구하는 과정에서 기업 윤리와 사회적 책임도 고려해야 한다. 기업가는 법규를 준수하고, 노동자나 소비자의 권리를 존중해야 하며, 기업의 행위가 사회 전체에 영향을 미친다는 것을 인식하고 사회적 책임을 다하는 자세를 가져야 한다. 제시된 사례에서 ○○ 기업은 사회 취약 계층의 고용을 통해 사회적 책임을 실천하고 있다.

**13 주제 파악: 중장년기의 경제생활**

⑤ 생애 주기는 유소년기, 청년기, 중·장년기, 노년기로 구분되며, (㉠)에 해당하는 시기는 중·장년기이다. 중·장년기에는 소득이 크게 늘어나지만 자녀 양육, 주택 마련, 노부모 부양, 노후 대비 등으로 인해 소비도 증가하는 시기이다.  
 ① 노년기, ② 유소년기, ③ 청년기, ④ 노년기에 대한 설명이다.

**14 주제 파악: 생애 주기에 따른 소득 - 소비 곡선**

ㄴ. 중장년기에 소득 곡선이 소비 곡선보다 높게 위치

하고 있으므로 옳은 분석이다.

- ㄹ. 중장년기의 저축 정도와 자산 관리의 성공 여부에 따라 적자 상태인 노년기의 경제적 삶이 결정된다.
- ㄱ. 청년기와 노년기에는 저축이 음수이므로 적자이고, 중·장년기에는 저축이 양수이므로 흑자이다.
- ㄷ. 소득과 소비는 평생에 걸쳐 변화하였는데, 변화의 정도는 소득이 더 크다.

**15 주제 파악: 자산 관리의 필요성**

미래의 불확실한 상황이나 노후를 대비하기 위해서는 자산을 확보하고 효율적으로 자산 관리를 해야 한다. 특히 평균 수명이 늘어나면서 은퇴 이후 안정된 노후를 보내기 위한 자산 관리의 중요성이 더욱 커지고 있다.

⑤ 금융 기관에서 자금을 수월하게 빌리기 위해서는 신용을 높여야 한다.

**16 주제 파악: 자산 관리와 신용 관리**

- ④ 신용도가 떨어지면 경제생활에서 불이익을 받게 된다. 따라서 신용을 잘 활용하면 경제생활을 더 편리하게, 더 높은 수준으로 꾸려 나갈 수 있다.
- ① 예금이나 적금은 수익성은 낮은 데 비해 안전성은 높은 편이다.
- ② 유동성은 쉽고 빠르게 현금으로 바꿀 수 있는 정도를 가리킨다.
- ③ 지속 가능한 경제생활을 하려면 현재와 미래의 소득을 고려하여 자산을 관리해야 한다.
- ⑤ 신용 거래는 소득이나 경제적 능력의 범위 내에서 신중하게 해야 한다.

**17 주제 파악: 예금과 주식 비교**

(가)는 주식, (나)는 예금에 해당한다. 주식은 수익성이 높은 대신 안전성이 낮고, 예금은 수익성이 낮은 대신 안전성이 높다.

ㄷ. 주식과 예금은 금융 자산에 해당한다.

ㄹ. 주식은 예금과 달리 배당금을 기대할 수 있다.

**18 주제 파악: 신용**

제시문의 밑줄 친 ‘이것’은 신용이다. 신용이란 미래의 어느 시점에 갚을 것을 약속하고 상품이나 돈을 얻을 수 있는 능력을 의미한다. 신용을 잘 활용하면 경제생활을 더 편리하고, 높은 수준으로 꾸려 나갈 수 있으나 결국 미래의 소득으로 갚아야 하는 부채이다.

**19 주제 파악: 가계와 기업의 상호 작용**

**예시 답안 |** (1) ㉠ 가계, ㉡ 기업  
 (2) 가계는 기업에 노동, 자본, 토지 등과 같이 생산에 필요한 요소를 제공하고, 그에 대한 대가로 임금, 이자, 지대 등의 소득을 얻는다. 기업은 가계로부터 얻은 생산 요소를 이용하여 재화와 서비스를 생산해 가계에 제공한다.

**핵심 단어 |** 가계, 기업, 생산 요소, 재화와 서비스(상품) 제공

등급	채점 기준
상	가계와 기업 간의 상호 작용을 구체적 사례를 들어 서술한 경우
하	가계와 기업 간의 상호 작용을 구체적 사례를 들지 않고 서술한 경우

**20 주제 파악: 우리나라의 경제 체제**

**예시 답안 |** 시장 경제 체제를 기본으로 계획 경제 체제의 요소를 일부 받아들인 혼합 경제 체제를 채택하고 있다.

**핵심 단어 |** 시장 경제 체제, 계획 경제 체제, 혼합 경제 체제

등급	채점 기준
상	혼합 경제 체제를 쓰고, 그 의미를 서술한 경우
하	혼합 경제 체제라고만 쓴 경우

단원 평가	4회	4단원 시장 경제와 가격			
01 ②	02 물물 교환	03 ③	04 ③		
05 ④	06 ④	07 ③	08 ⑤	09 ①	
10 ①	11 ⑤	12 ⑤	13 ②	14 ⑤	
15 ④	16 ③	17 ④	18 ④		
19 해설 참조	20 해설 참조				

**01 주제 파악: 생산자와 소비자**

② ㄱ은 재화에 대한 소비자이고, ㄴ은 서비스에 대한 소비자이다. ㄷ, ㄹ은 상품을 팔고자 하는 사람인 생산자에 해당한다.

**02 주제 파악: 물물 교환**

시장이 형성되기 이전에는 제시된 사례의 반투족과 피그미족처럼 남은 잉여 생산물을 직접 서로 교환하는 방법으로 필요한 물건을 충당하였다. 이와 같은 거래 형태를 물물 교환이라고 한다.

**03 주제 파악: 시장의 기능**

③ 시장의 존재는 시장 참여자 간 거래에 드는 시간과 비용을 줄여 준다.

**04 주제 파악: 시장의 종류**

(㉠)는 보이는 시장이고, (㉡)는 보이지 않는 시장이다.  
 ③ 정보 통신 기술의 발달로 소비자와 판매자가 직접 만나지 않고 온라인상에서 거래가 이루어지는 시장이 등장하였다. 온라인 시장은 시공간의 제약과 거래 비용을 줄여 주어 오늘날 전체 시장에서 차지하는 비중이 증가하고 있다.

**05 주제 파악: 수요**

수요 법칙은 상품 가격과 수요량이 반비례 관계를 나타내는 현상이다. 즉, 가격이 상승할 때 수요량은 감소하고, 가격이 하락할 때 수요량이 증가하는 것이다. 이때, 가격이 원인이고, 그 결과 수요량이 변한다는 사실을 꼭 알아야 한다.

④ 원인과 결과를 반대로 진술하고 있기 때문에 옳지 않다.

**06 주제 파악: 수요 법칙**

수요 법칙은 상품 가격과 수요량이 반비례의 관계를 나타내는 현상이다. 즉, 상품 가격이 상승할 때 수요량은 감소하고, 상품 가격이 하락할 때 수요량은 증가한다.

**07 주제 파악: 공급**

③ ㉠에 들어갈 용어는 공급이다. 가격이 하락하면 공급 곡선의 위치는 변하지 않고 공급량만 감소한다.

**08 주제 파악: 수요 곡선과 공급 곡선**

⑤ (㉠)는 수요량이 가격에 반비례한다는 수요 법칙을 그래프로 나타낸 수요 곡선, (㉡)는 공급량이 가격에 비

례한다는 공급 법칙을 그래프로 나타낸 공급 곡선이다.

- ① (㉠)는 수요 곡선이다.
- ② (㉡)는 공급 곡선이다.
- ③ A에는 '수요량'이 들어갈 수 있다.
- ④ B에는 '공급량'이 들어갈 수 있다.

**09 주제 파악: 공급**

제시된 표에서 콜라 가격이 상승할 때, 공급량이 증가하고 있으므로 콜라 시장에서 공급 법칙이 만족되고 있음을 알 수 있다. 공급 법칙이 만족될 때 공급 곡선은 우상향한다.

**10 주제 파악: 초과 수요**

어떤 상품의 수요량이 공급량보다 많아 초과 수요가 발생할 경우, 시장에서 상품이 부족하여 수요자들은 돈을 더 내고서라도 상품을 사고자 할 것이다. 이러한 수요자들 간의 경쟁으로 상품의 가격이 오르면 수요량은 줄어들고 공급량은 늘어나 초과 수요가 감소한다. 이 과정은 수요량과 공급량이 일치할 때까지 진행된다.

ㄷ. 초과 수요가 발생한 가격 수준은 시장 균형 가격 아래쪽에 위치한다.

ㄹ. 초과 수요가 발생한 가격 수준에서의 수요량은 균형 거래량보다 많다.

**11 주제 파악: 시장 균형**

⑤ 가격이 4,000원일 때는 초과 공급 상태이다. 초과 공급 상태에서는 공급자들이 자신의 상품을 판매하기 위해 서로 경쟁한다.

**12 주제 파악: 시장 가격의 결정 원리**

⑤ 시장 가격은 시장에서 상품이 거래되고 있는 가격 수준이다. 균형 가격은 수요자와 공급자의 상호 작용 속에서 수요량과 공급량이 같아지는 지점에서 결정되는 가격이다. 시장 가격이 균형 가격보다 높으면 초과 공급이 발생하고, 시장 가격이 균형 가격보다 낮으면 초과 수요가 발생한다.

**13 주제 파악: 시장 가격의 기능**

시장 가격은 그 사회에 필요한 적당한 양의 자원을 가장 효율적인 방법으로 생산하게 하고, 이를 효율적으로 배분하는 기능을 한다.

**14 주제 파악: 수요 감소 요인**

⑤ 보완재의 가격이 상승하여 수요량이 감소하면, 함께 사용하면 만족이 더 커지는 재화의 수요도 감소한다. 수요가 감소하는 경우 수요 곡선이 왼쪽으로 이동한다.

① 가격이 상승하면 수요량이 감소하여 수요 곡선은 이동하지 않는다.

- ② 생산비가 감소하면 공급이 증가하여 공급 곡선이 오른쪽으로 이동한다.
- ③ 공급자의 수가 감소하면 공급이 감소하여 공급 곡선이 왼쪽으로 이동한다.
- ④ 선호도가 증가하면 수요가 증가하여 수요 곡선이 오른쪽으로 이동한다.

**15 주제 파악: 연관 상품의 가격 변화에 따른 수요 변동**

스마트폰 생산 기술의 발달은 스마트폰 공급 증가 요인이며, 그에 따른 가격 변화는 연관재인 스마트폰 애플리케이션과 피쳐폰의 수요에 영향을 준다. 자료에 나타난 세 가지 상품의 수요, 공급, 가격, 거래량의 변동은 표와 같다.

구분	수요	공급	가격	거래량
스마트폰	불변	증가	하락	증가
스마트폰 애플리케이션	증가	불변	상승	증가
피쳐폰	감소	불변	하락	감소

**16 주제 파악: 시장 가격의 변동**

제시된 그래프에서 떡볶이의 수요는 증가하고, 공급은 감소하였음을 알 수 있다.

- ③ 대체재인 순대의 가격이 상승하면 떡볶이의 수요는 증가하고, 주재료인 밀가루 가격이 상승하면 떡볶이의 공급은 감소한다.

**17 주제 파악: 수요 - 공급의 변동**

햄버거의 식재료 가격의 하락은 햄버거 공급에 긍정적인 요인이 되어, 공급 곡선을 오른쪽으로 이동하게 한다. 햄버거와 함께 먹는 음료는 햄버거와 보완재 관계이다. 보완재의 가격이 하락하면 기준이 되는 재화(햄버거)의 수요 증가에 영향을 준다. 따라서 수요 곡선도 오른쪽으로 이동한다.

**18 주제 파악: 수요와 공급의 변동**

(가)는 전기차에 대한 선호도 증가를 나타내며, 전기차 수요 증가 요인이다. 이에 비해 (나)는 전기차 공급자 수의 증가를 나타내며, 전기차 공급 증가 요인이다.

- ④ 공급 증가로 시장 불균형 상태가 되면 기존 가격 수준에서 일시적으로 초과 공급이 발생했다가 가격이 하락하면서 시장 균형으로 조정된다.

**19 주제 파악: 거래 상품의 종류에 따른 시장의 분류**

**예시 답안 |** (1) (가) 의료 서비스, (나) 농수산물, (다) 노동  
 (2) (가)와 (나)는 생활에 필요한 재화나 서비스가 거래되는 생산물 시장에 해당하고, (다)는 상품을 생산하는 데 필요한 토지나 노동, 자본 등의 생산 요소가 거래되는 생산 요소 시장에 해당한다.

**핵심 단어 |** 생산물 시장, 생산 요소 시장

등급	채점 기준
상	생산물 시장과 생산 요소 시장을 구분하고, 그 의미를 모두 서술한 경우
중	생산물 시장과 생산 요소 시장을 구분하고, 한 가지 의미만 서술한 경우
하	생산물 시장과 생산 요소 시장만 구분한 경우

**20 주제 파악: 시장 균형을 변동 예측**

**예시 답안 |** 바나나 수요는 증가하고 바나나 공급은 감소한 결과, 바나나 가격은 상승한다.

**핵심 단어 |** 수요, 공급, 가격

등급	채점 기준
상	수요, 공급, 가격의 변화를 모두 서술한 경우
하	수요, 공급에 대한 언급 없이 가격의 변화만 서술한 경우

단원 평가	5회	5단원 국민 경제와 국제 거래			
01 ⑤	02 800만 원	03 ④	04 ⑤		
05 ②	06 ④	07 ④	08 ④	09 ③	
10 ⑤	11 ⑤	12 ⑤	13 ②	14 ③	
15 ③	16 ④	17 ③	18 ②		
19 해설 참조	20 해설 참조				

**01 주제 파악: 국내 총생산의 의미**

⑤ 국내에서 외국인에 의해 생산 활동이 이루어졌으므로 ㉠의 사례에 해당한다.

**02 주제 파악: 국내 총생산의 의미**

국내 총생산은 최종 생산물의 가격의 합으로 구한다. 사례에서 최종 생산물의 가격을 모두 합하면 800만 원(쌀 5가마×200,000원+떡 200kg×10,000원+떡국 1,000그릇×5,000원=1,000,000원+2,000,000원+5,000,000원=8,000,000원)이 된다.

**03 주제 파악: 국내 총생산의 한계**

국내 총생산은 한 나라의 경제 활동 규모를 나타내는데 매우 유용하지만, 국민들의 삶의 질을 정확하게 반영하지는 못한다. 예를 들어 교통사고나 환경 오염은 인간의 삶의 질을 떨어뜨리지만, 이를 회복하기 위한 사고처리 비용이나 오염을 정화하는 데 들어가는 비용은 국내 총생산에 포함된다.

**04 주제 파악: 국내 총생산 계산**

국내 총생산에는 국내에서 생산된 최종 생산물인 의자의 가치만이 포함된다. 따라서 제시된 사례에서 발생한 국내 총생산은 10,000원이다.

ㄷ. 목수는 3,000원 가치의 목재를 가공하여 10,000원짜리 의자를 생산하였으므로 7,000원의 부가 가치를 발생시켰다.

ㄹ. 국내 총생산은 생산자의 국적과 상관없이 국내에서 생산되어 시장에서 거래되는 상품의 가치를 모두 포함한다.

**05 주제 파악: 경제 성장 개념**

경제 성장은 한 나라 경제의 생산 능력이 커져 재화와 서비스의 총 생산량이 늘어나는 것으로, 국내 총생산의 증가를 의미한다.

ㄴ. 삶의 질이 항상 경제 성장 정도에 비례하여 향상되는 것은 아니다.

ㄹ. 경제 성장의 혜택이 적절하게 분배되지 않으면 빈부 격차가 오히려 심화될 수 있다.

**06 주제 파악: 경기 변동과 경제 성장**

한 국가의 경제 상황이 좋아졌다가 나빠지기를 반복하는 현상을 경기 변동이라고 한다. 한 국가의 경제는 단

기적으로 호황과 불황을 반복하면서 경기 변동이 나타나지만, 장기적으로는 국내 총생산이 대체로 증가하는 경제 성장이 나타난다.

**07 주제 파악: 경제 성장을 계산**

경제 성장률은 [(금년도 실질 GDP-전년도 실질 GDP)/전년도 실질 GDP]×100으로 구할 수 있다. 공식을 문제에 적용해서 계산하면 [(200-100)/100]×100이므로 경제 성장률은 100%가 된다.

**08 주제 파악: 물가 안정을 위한 대응 방안**

④ 생산비 증가는 물가 상승의 중요한 원인이기 때문에 물가 상승에 대응하는 기업의 노력으로 생산비 절감 노력은 적절하다.

① 통화량 증가는 물가 상승의 원인으로 작용한다.

② 임금은 기업의 입장에서 비용에 속하므로 생산비 증가는 물가 상승으로 이어질 수 있다.

③ 세금을 덜 걷고 공공사업을 늘리면 총수요가 증가하여 물가가 상승할 수 있다.

⑤ 미리 물건을 구입하면 총수요가 증가하여 더 높은 물가 상승을 유발한다.

**09 주제 파악: 물가 개념**

물가는 오르기도 하고 내리기도 하면서 경제생활에 영향을 미치는데, 한 국가의 경제가 성장할 경우에는 일반적으로 물가도 상승한다. 이때 물가가 지속적으로 상승하는 현상을 인플레이션이라고 한다.

**10 주제 파악: 물가 상승**

물가가 지속적으로 상승하면 실물 자산 보유자와 돈을 빌린 사람은 상대적으로 유리해진다. ㄱ, ㄴ은 물가가 지속적으로 상승할 때 상대적으로 불리해진다.

**11 주제 파악: 물가 지수 분석**

제시된 표에서는 2018년부터 2020년까지 계속해서 물가 지수가 높아졌다.

ㄱ. 물가는 시장에서 거래되는 상품의 가격을 종합해서 나타낸 것이다. 따라서 모든 물건의 가격이 상승했다고 볼 수 없다.

ㄴ. 2018년에 비해 2019년의 물가가 10% 상승했다면 2019년의 물가 지수는 99가 되어야 한다.

**12 주제 파악: 구조적 실업**

⑤ 4차 산업 혁명의 결과로 나타나는 실업은 구조적 실업이다. 구조적 실업에 대해서 정부는 인력 개발 및 체계적인 직업 교육 등을 대책으로 제시할 수 있다.

**13 주제 파악: 실업률 통계**

제시된 표에서 ㉠은 비경제 활동 인구이다. 취업을 하려고 했으나 뜻대로 되지 않아 일자리를 구하기를 포기한 사람은 구직 단념자로, 비경제 활동 인구에 포함된다. 한편, 경제 활동 인구는 취업자와 실업자를 합친 1,000



명이고, 노동 가능 인구는 총인구 중 15세 이상 인구가  
므로 제시된 표에서 노동 가능 인구는 1,200명이다.

**14 주제 파악: 국제 거래 규모의 확대**

제시문의 내용은 전 세계의 무역액이 이전에 비해 크게  
증가했다는 것이다.

③ 무역 마찰이 심화되면 국제 거래는 오히려 감소할  
수 있다.

**15 주제 파악: 연관 상품의 가격 변화에 따른 수요 변동**

③ (타)에서 외국으로 어학연수를 가는 우리나라 학생의  
수가 줄어드는 것은 외국 화폐에 대한 수요가 감소  
하는 결과를 가져온다. 이는 외환 시장에서 외화의  
수요가 감소하는 요인이 된다.

**16 주제 파악: 국제 거래의 발생 원인**

④ 희소성은 모든 사회에서 발생하므로 그 발생 여부가  
국가 간 생산 여건의 차이에 영향을 미친다고 보기  
는 어렵다.

**17 주제 파악: 외환 시장 그래프**

외환 시장의 균형이 E1에서 E2로 움직이기 위해서는 외  
환 수요 증가(오른쪽 이동), 외환 공급 감소(왼쪽 이동)  
이 동시에 나타나야 한다.

③ 외채 상황이 증가하면 외환 수요가 증가하고, 수출  
이 감소하면 외환 공급이 감소한다.

**18 주제 파악: 환율의 변동**

제시된 표에 따라 달러는 한 달 후에 환율이 상승하여  
원화의 가치가 하락할 것이고, 중국 위안은 한 달 후에  
환율이 하락하여 원화의 가치가 상승할 것이다. 따라서  
달러를 사용할 예정이면 지금 사용하는 것이 더 합리적  
이고, 위안을 사용할 예정이면 한 달 후에 사용하는 것  
이 더 합리적이다.

② 환율이 상승하면 수출은 증가하게 되므로 이에 대비  
하는 것은 합리적인 행동이다.

**19 주제 파악: 실업률 지표의 한계**

**예시 답안 |** 구직을 포기한 사람을 뜻하는 구직 단념  
자는 실업자에 포함되지 않아, 실업률 지표는 실제로 사  
람들이 느끼는 것보다 낮게 측정되는 경향이 있다.

**핵심 단어 |** 실업률, 실업자, 구직 단념자

등급	채점 기준
상	구직 단념자 개념을 활용하여 실업률 지표가 갖는 한계를 서술한 경우
하	구직 단념자 개념을 활용하지 않고 단순히 실업률 지표를 비판한 경우

**20 주제 파악: 국제 거래의 필요성**

**예시 답안 |** 각국이 더 저렴하게 생산할 수 있는 상품  
생산에 집중하는 특화를 하여 국제 거래를 하면 서로에

게 더 이익이기 때문입니다.

**핵심 단어 |** 특화, 국제 거래

등급	채점 기준
상	특화의 의미를 포함하여 국제 거래의 필요성을 서술한 경우
하	특화에 대한 언급 없이 국제 거래의 필요성을 서술한 경우

단원 평가	6회	6단원 국제 사회와 국제 정치			
01 ②	02 ③	03 ②	04 ②	05 ④	
06 ③	07 ③	08 ②	09 ④	10 ⑤	
11 ⑤	12 ⑤	13 ②	14 ⑤	15 ④	
16 ③	17 ④	18 ②	19 해설 참조		
20 해설 참조					

**01 주제 파악: 국제 사회의 특성**

- ② 국제 사회에는 국가 간 갈등을 조정하고 해결할 수 있는 중앙 정부가 존재하지 않기 때문에 국가 간 분쟁 해결이 어렵다.
- ① 국제 사회는 독립적인 주권을 지닌 국가를 기본 단위로 구성된다.
- ③ 국제 관계의 다양화와 의존성 심화는 국제기구의 필요성을 증가시킨다.
- ④ 국제법은 개별 국가의 행위를 어느 정도 제한한다.
- ⑤ 국제 사회에서 각국의 영향력은 군사력, 경제력 등에 따라 달라진다.

**02 주제 파악: 국제 사회의 특성**

국제 연합(UN) 안전 보장 이사회의 주요 결정은 상임 이사국을 포함한 9개국 이상의 찬성으로 이루어지는데, 상임 이사국은 거부권을 행사할 수 있어 상임 이사국 중 어느 한 국가라도 반대하면 어떠한 결정도 성립될 수 없다. 이를 통해 국제 사회에서 힘의 논리가 크게 작용하고 있음을 알 수 있다.

**03 주제 파악: 국제 연합(UN)**

국제 연합(UN)은 제2차 세계 대전 이후 전쟁을 방지하고 국제 평화를 유지하기 위해 만들어졌다.

**04 주제 파악: 국제 사회의 행위 주체**

(가)는 국가, (나)는 다국적 기업에 대한 설명이다. 국가는 국제 사회의 가장 전통적이고 기본적인 행위 주체이고, 다국적 기업은 세계화 시대에 영향력이 확대되고 있는 행위 주체이다.

**05 주제 파악: 다국적 기업**

- ④ 다국적 기업은 환경 오염 및 인권 침해와 같은 문제들을 발생시키는 경향이 있으며, 이러한 문제를 해결하는 것을 주요 목적으로 한다고 보기 어렵다.

**06 주제 파악: 국제 사회의 행위 주체**

- ③ 정치외교학을 전공하는 대학생은 국제 사회의 행위 주체라고 보기 어렵다. 개인이 국제 사회의 행위 주체가 되기 위해서는 종교 지도자, 국가 원수, 국제 연합(UN) 사무총장 등과 같이 객관적인 영향력을 갖추어야 한다.

**07 주제 파악: 냉전 체제 종식 후 세계화**

냉전 체제 종식 후 세계화가 진행되면서 다양한 영역에서 국가 간 상호 의존성이 증대되고 갈등도 다원화되고 있다.

- ③ 냉전이 종식된 것은 소련의 붕괴로 사회주의 이념의 영향력이 줄어들었기 때문이다.

**08 주제 파악: 국제 사회의 갈등 유형**

제시문에서 카스피해 연안국들은 석유와 천연가스 등 자원의 개발을 둘러싸고 대립하고 있다.

**09 주제 파악: 국제 사회의 특징**

- 국제 사회의 갈등이나 분쟁에 대해 개별 국가들의 행위를 제약하는 국제법, 국제기구가 존재하며, 세계 여론이나 국제 비정부 기구도 어느 정도 영향력을 행사한다.
- ④ 국제 사회에는 세계 정부가 존재하지 않는다.

**10 주제 파악: 국제 문제의 해결 방안**

제시된 핵 확산, 환경 오염, 국제 사이버 범죄 등의 국제 문제는 지구촌이 공동으로 당면하고 있는 문제로, 국가 간의 긴밀한 협력을 통해 해결해야 한다.

**11 주제 파악: 외교의 의미**

- ⑤ ㉠에 들어갈 용어는 외교이다. 오늘날에는 외교 주체가 다양해지면서 예술, 문화, 체육 등 다양한 분야에서 외교 활동이 이루어지고 있다.
- ① 외교는 자국의 정치적 목적이나 이익을 평화적으로 실현하기 위해 수행하는 행위이다.
- ② 국제 문제를 평화적으로 해결하고 국제 사회가 공존하기 위해 외교가 필요하다.
- ③ 오늘날에는 민간 외교의 역할도 매우 커졌다.
- ④ 오늘날에는 시민 단체의 활동이 국가의 대외적 위상에 영향을 미치기도 한다.

**12 주제 파악: 국제 사회의 협력**

- ⑤ 협약에 가입하여 국제 사회에 기여하고 협력하는 모습을 보임으로써 우리나라의 대외적 위상이 향상되었다고 볼 수 있다.
- ① 국가(정부)가 주도하여 협약에 참여하였다.
- ② 조약은 국가 간의 구속력 있는 약속을 뜻하는데, 기후 변화 협약은 국가 간의 구속력 있는 약속이라는 점에서 조약이 아니라고 보기에 무리가 있다.
- ③ 제시문을 통해서서는 확인할 수 없는 내용이다.
- ④ 제시문을 통해 국제기구인 국제 연합(UN)과 관련이 있음을 알 수 있다.

**13 주제 파악: 국가 간 갈등 해결을 위한 노력**

- ② 동해는 우리나라에서 오래전부터 사용해 오고 있는 명칭인데, 일본은 세계 지도에 일본해를 단독으로 표기해야 한다고 주장하고 있다.



**14 주제 파악: 『직지심체요절』과 국가 갈등**

⑤ 『직지심체요절』은 우리 조상들이 만든 소중한 문화재이므로 돌려받기 위해 계속 노력해야 한다.

**15 주제 파악: 동북 공정의 목적**

④ 중국이 동북 공정에 착수한 목적은 중국의 여러 소수 민족을 통제하고, 만주 지역에서의 영향력을 강화하기 위해서이다.

**16 주제 파악: 동북 공정에 대한 대책**

동북 공정에 대응하기 위해서는 우리의 역사와 영토를 지키려는 자세를 바탕으로 중국의 역사 왜곡 문제에 대해 지속적인 관심을 가져야 한다. 동시에 체계적인 고대사 연구를 통해 대응 논리를 마련해야 한다. 또한 중국의 숨은 의도를 널리 알리는 외교 활동도 적극적으로 해야 한다.

**17 주제 파악: 일본의 독도 영유권 대응**

④ 국제법상으로 우리나라 영토임이 분명한 독도를 분쟁 지역으로 인식시키면 우리나라의 입장이 불리할 수 있으므로 적절하지 않다.

**18 주제 파악: 국가 간 갈등 해결을 위한 노력**

② 국가 간 갈등 상황을 해결하기 위해 군사력을 사용하는 것은 되도록 피해야 하는 대응 방법이다.

**19 주제 파악: 국제 사회의 특징**

**예시 답안 |** 국제 사회에서 각국은 자국의 이익을 우선적으로 추구한다.

**핵심 단어 |** 자국의 이익 추구

등급	채점 기준
상	자국의 이익을 우선적으로 추구한다고 서술한 경우
하	자국의 이익을 우선적으로 추구하는 것 외에 다른 특징을 서술한 경우

**20 주제 파악: 외교의 의미와 목적**

**예시 답안 |** (1) 외교

(2) 자국의 정치적 목적이나 이익을 평화적으로 실현한다. 국제 문제를 평화적으로 해결하고 국제 사회의 공존을 추구한다.

**핵심 단어 |** 평화적 실현, 평화적 해결, 국제 사회의 공존

등급	채점 기준
상	외교의 목적을 두 가지 서술한 경우
하	외교의 목적을 한 가지만 서술한 경우

단원 평가	7회	7단원 인구 변화와 인구 문제			
01 ③	02 ⑤	03 ②	04 ㉠	밀집, ㉡ 희박	
05 ④	06 ⑤	07 ①	08 ③	09 ②	
10 ②	11 난민	12 ①	13 ④	14 ②	
15 ③	16 ④	17 ②	18 ④		
19 해설 참조	20 해설 참조				

**01~02 주제 파악: 세계의 인구 분포**

A 겨울이 길고 추운 고위도 지역이기 때문에 인구 밀도가 낮다. B와 D 강수량이 극히 적은 사막으로 오아시스 농업과 유목이 이루어지며, 인구 밀도가 낮다. C 중국 동부 해안 지역으로 비농사가 활발하게 이루어지며, 경제와 산업의 중심지이다. E는 적도 부근으로 저지대에서는 열대 기후가 나타나지만, 해발 고도가 높은 고산 지역에서는 연중 봄 날씨와 같이 온화한 고산 기후가 나타난다. 따라서 E에서는 저지대보다 고산 지역의 인구 밀도가 높다.

**03 주제 파악: 대륙별 인구 분포**

(㉠)는 인구가 가장 많이 분포하고 있는 아시아, (㉡)는 합계 출산율이 가장 높아 빠른 인구 성장을 보이고 있는 아프리카, (㉢)는 합계 출산율이 가장 낮아 인구가 감소하고 있는 유럽이다.

**04 주제 파악: 인구 밀집 지역과 희박 지역**

비농사가 활발한 동남아시아와 남부 아시아 지역, 산업이 발달한 서부 유럽과 미국 북동부 지역은 인구 밀집 지역이며, 강수량이 적은 사막 지역과 덥고 습한 열대 우림 지역, 높은 산지와 기온이 낮은 지역은 인구 희박 지역이다.

**05 주제 파악: 우리나라의 지역별 인구 분포**

우리나라의 인구 분포를 보면 지역별로 불균등하게 분포하고 있음을 알 수가 있다. 서울을 중심으로 한 수도권과 부산, 대전, 대구, 울산 등의 대도시는 인구 밀도가 높게 나타난다. 그러나 농어촌이 많은 전라남도과 산지가 많은 태백산맥 및 소백산맥 일대는 인구 밀도가 낮게 나타난다. 경상남도 해안 지역은 남동 임해 공업 지역으로, 인구가 집중되어 있다.

**06 주제 파악: 우리나라 인구 분포의 특징**

우리나라는 지형적으로 북동부 지역에 산지가, 남서부 지역에 평야가 발달해 있다. 따라서 남서부 평야 지역을 중심으로 인구가 밀집한다. 산업화 이후에는 수도권을 비롯한 대도시 지역과 공업 도시를 중심으로 인구가 집중하였다. 1960년대부터 1980년대까지는 이촌 향도 현상에 따라서 촌락에서 도시로의 인구 이동이 두드러졌지만, 최근에는 도시 간 인구 이동이 두드러진다.

**07 주제 파악: 인구 이동의 요인**

인구를 다른 지역으로 밀어내는 요인을 배출 요인(또는 유출 요인), 다른 지역의 인구를 끌어당기는 요인을 흡입 요인(또는 유입 요인)이라고 한다. 배출 요인은 부정적인 요인으로 자연 재해나 정치적 박해, 의료 시설의 부족, 열악한 주거 환경, 교육 및 문화 시설의 부족 등이 해당되며, 흡입 요인은 긍정적인 요인으로 풍부한 일자리나 정치적 안정, 쾌적한 주거 환경, 다양한 교육 및 문화 시설 등이 해당된다.

**08 주제 파악: 우리나라의 시기별 인구 이동**

일제 강점기에는 북부 지방에 광공업이 발달하면서 많은 사람이 일자리를 찾아 함경도 지방으로 이주하였다. 1945년 광복 후에는 간도, 연해주, 일본 등지의 해외 동포의 귀국이 많았다. 6·25 전쟁 때에는 북한에서 월남한 동포들이 남부 지방으로 대규모로 이동하였다. 전쟁 후 1960년대에 사회가 어느 정도 안정되면서 급속한 인구 증가와 함께 이촌 향도 현상이 심화되었다. 1990년대 이후에는 대도시 주변에 많은 신도시들이 생겨나면서 도시 인구가 주변 지역이나 농촌으로 이동하는 현상도 나타나고 있다.

**09 주제 파악: 우리나라의 시기별 인구 이동의 요인**

1960년대 우리나라의 젊은 인력들은 광산 노동자와 간호사로 일하기 위해 독일로 이주하였다. 이를 통해서 독일은 부족했던 인력을 구할 수 있었고, 당시 일자리가 부족했던 우리나라는 실업률을 낮추고 이들이 송금해 준 자본으로 경제를 발전시킬 수 있었다. 1990년대 이후에는 경제적 목적으로 우리나라로 이주해 온 외국인 근로자가 증가하였다. 이들 대부분은 우리나라보다 임금 수준이 낮은 중국, 베트남, 타이, 필리핀 등지에서 왔다. (㉠) 1960년대 경제적 목적으로 우리나라에서 독일로 이주한 사례를, (㉡) 1990년대 이후 경제적 목적으로 우리나라로 유입한 외국인 근로자의 이주 사례를 나타낸다.

**10 주제 파악: 인구의 국제 이동**

- ㉠. 오늘날은 선진국에서 개발 도상국으로 이동하는 경제적 이동이 대부분이다. (x) → 오늘날은 개발 도상국에서 선진국으로 이동하는 경제적 이동이 대부분이다.
- ㉡. 서부 유럽, 앵글로아메리카, 오세아니아 지역은 인구 유출 현상이 나타난다. (x) → 서부 유럽, 앵글로아메리카, 오세아니아 지역은 경제가 발전하고 정치적으로 안정되어 인구 유입 현상이 나타난다.

**11 주제 파악: 전쟁, 분쟁, 정치적 탄압으로 이주하는 난민**

난민은 인종, 종교, 국적, 신분, 정치적 의견 등을 이유로 박해받을 위험이 있거나 분쟁 또는 폭력 사태로 고향을 떠난 사람들을 가리킨다.

**12 주제 파악: 세계 인구 이동의 순유입 지역과 순유출 지역**

그래프는 1990년~2020년간의 지역(대륙)별 인구의 순이동을 나타낸 것이다. 플러스 값(+)이 클수록 해당 기간 동안 유출 인구보다 유입 인구가 훨씬 많았다는 뜻이며, 마이너스 값(-)이 클수록 유입 인구보다 유출 인구가 훨씬 많았다는 뜻이다. 최근의 인구 이동은 개발 도상국에서 선진국으로의 인구 이동이 두드러진다. 아시아, 라틴 아메리카, 아프리카는 순유출 지역이며, 앵글로아메리카, 유럽, 오세아니아는 순유입 지역이다.

**13 주제 파악: 세계 인구 이동의 특징**

최근에는 교통 수단의 발달로 국가 간 인구 이동이 활발해지고 있다. 오늘날 세계 인구 이동의 대부분은 경제적인 이동이며, 일자리가 부족하고 임금 수준이 낮은 개발 도상국에서 일자리가 많고 임금 수준이 높은 선진국으로 이동이 많다.

**14 주제 파악: 난민 유입에 따른 유럽의 인구 문제**

최근에는 교통 수단의 발달로 국가 간 인구 이동이 활발해지고 있다. 오늘날 세계 인구 이동의 대부분은 경제적인 이동이며, 일자리가 부족하고 임금 수준이 낮은 개발 도상국에서 일자리가 많고 임금 수준이 높은 선진국으로 이동이 많다.

- 나. 난민은 내전 등의 정치적 불안정 때문에 삶의 터전을 잃어버린 인구 집단이다. 이들 난민의 이동은 강제적(비자발적) 인구 이동에 해당된다.
- 리. 유럽 연합 국가들은 저출산·고령화에 따른 인구 문제를 겪고 있다.

**15 주제 파악: 선진국과 개발 도상의 인구 구조**

니제르와 알제리는 개발 도상국이고, 독일과 일본은 선진국이다. 개발 도상국은 초혼 연령이 낮아 여성이 평생 낳을 것으로 예상되는 자녀의 수인 합계 출산율이 높다. 반면 선진국은 여성의 사회 진출 증가와 결혼 및 출산에 대해 가치관 변화로 산모의 평균 출산 연령이 높아지고 있으며, 이에 따라 합계 출산율도 낮다. 개발 도상국은 출산율이 높고 평균 수명이 짧아 유소년층의 인구 비율은 높고 노년층의 인구 비율은 낮다. 선진국은 출산율이 낮고 평균 수명이 길어 유소년층 인구 비율은 낮고 노년층 인구 비율은 높다.

**16 주제 파악: 세계의 인구 변화와 선진국과 개발 도상국의 인구 문제**

(가) 개발 도상국, (나) 선진국의 인구 변화를 나타낸 것이다. 개발 도상국은 합계 출산율이 높아 세계 인구 성장을 주도하고 있다. 개발 도상국은 높은 출산율에 따른 과잉 인구 성장 문제를 겪고 있기 때문에 산아 제한 정책을 통해서 높은 출산율을 낮출 필요가 있다. 선진국은

저출산·고령화에 따른 인구 문제를 겪고 있기 때문에 출산 장려 정책과 노인을 위한 복지 정책 등을 마련할 필요가 있다.

- 다. 노인 1명을 부양하는 생산 가능 인구가 적다는 뜻은 노인 1명에 대한 부양 부담이 크다는 뜻이다. 65세 이상 노년 인구 비중이 높은 선진국의 노년 부양비는 65세 이상 노년 인구 비중이 낮은 개발 도상국보다 크다. 따라서 (가) 개발 도상국은 (나) 선진국보다 노인 1명을 부양하는 생산 가능 인구가 많다.

**17 주제 파악: 우리나라 합계 출산율의 변화**

합계 출산율은 여성 1명이 임신 가능한 기간 동안 낳을 것으로 예상되는 평균 출생아 수로 한 나라의 출산력을 나타내는 대표적인 지표이다. 우리나라의 합계 출산율은 1970년 4.53명에서 1985년 1.66명으로 급격하게 떨어졌고, 그 이후에 계속해서 2명 미만을 보이고 있다. 이처럼 우리나라의 합계 출산율이 낮아지게 된 원인은 여성의 경제 활동 참여율이 높아지고 교육 수준이 향상되면서 초혼 연령이 상승하거나 미혼 인구가 증가하였기 때문이다. 그리고 결혼과 자녀에 대한 가치관이 변화하고, 출산과 육아 비용, 교육비 부담 등으로 합계 출산율이 낮아졌다.

**18 주제 파악: 우리나라의 인구 문제와 대책**

65세 노년 인구 비율이 전체 인구의 7%를 넘어서면 고령화 사회에 진입했다고 보며, 그 비율이 14%를 넘어서면 고령 사회에 진입했다고 본다. 그리고 65세 노년 인구 비율이 20%를 넘어서면 초고령 사회에 진입했다고 본다. 우리나라는 2000년에 고령화 사회에 진입했고, 2018년에는 고령 사회에 진입했다. 그리고 앞으로 2026년이 되면 초고령 사회에 진입할 것으로 예측된다. 이와 같은 변화는 미국이나 일본, 독일, 프랑스와 같은 선진국보다 빠른 편이다. 고령화 문제에 대한 대책으로는 직업 재교육과 노인 일자리 창출 및 정년 연장 등을 통한 노년층의 경제 활동 참여를 확대하고, 고령 친화적인 생활 환경을 조성하거나 노인 전문 병원 및 요양원 등 노인 복지 시설을 확충해야 한다.

**19 주제 파악: 우리나라 인구 분포의 특징**

**예시 답안 |** (1) 방글라데시

(2) 방글라데시는 인구 밀도가 6,406명/km<sup>2</sup>으로, 방글라데시 인구 밀도와 같이 약 73억 명의 세계 인구가 거주한다면 오스트레일리아 면적 정도가 필요하다. 우리나라(남한)의 인구 밀도는 약 510명/km<sup>2</sup>으로 방글라데시보다 약 12배 낮으므로, 오스트레일리아의 면적보다 약 12배 큰 대륙이 필요하다.

**핵심 단어 |** 인구, 인구 밀도

등급	채점 기준
상	방글라데시를 쓰고, 전 세계 인구가 우리나라의 인구 밀도처럼 분포하려면 필요한 육지 면적을 방글라데시와 비교하여 바르게 서술한 경우
하	방글라데시만 쓴 경우

**20 주제 파악: 인구 유입 지역과 인구 유출 지역**

**예시 답안 |** 인구 유입 지역의 특징에서는 높은 소득 수준, 높은 임금 수준, 풍부한 일자리, 쾌적한 주거 환경, 정치적 안정성 등의 특징이 나타난다. 인구 유출 지역에서는 낮은 소득 수준, 낮은 임금 수준, 부족한 일자리, 열악한 주거 환경, 정치적 불안정성 등의 특징이 나타난다.

**핵심 단어 |** 높은 소득 수준, 높은 임금 수준, 풍부한 일자리, 쾌적한 주거 환경, 정치적 안정성, 낮은 소득 수준, 낮은 임금 수준, 부족한 일자리, 열악한 주거 환경, 정치적 불안정성 등

등급	채점 기준
상	인구 유입 지역의 특징 두 가지와 인구 유출 지역의 특징 두 가지를 정확하게 서술한 경우
중	인구 유입 지역의 특징 한 가지와 인구 유출 지역의 특징 한 가지를 정확하게 서술한 경우
하	인구 유입 지역의 특징과 인구 유출 지역의 특징을 정확하게 서술하지 못한 경우

단원 평가	8회	8단원 사람이 만든 삶터, 도시			
01 ㉓	02 ㉑	03 ㉓	04 ㉕	05 ㉕	
06 ㉔	07 ㉕	08 (가) 중심 업무 지구			
09 ㉑ 가속화, ㉒ 종착		10 ㉓	11 ㉕		
12 ㉒	13 ㉓	14 ㉑	15 ㉒, ㉔		
16 ㉓	17 ㉔	18 ㉔	19 해설 참조		
20 해설 참조					

**01 주제 파악: 도시와 촌락의 특징 비교**

도시는 촌락에 비해 인구 밀도가 높고 한정된 공간을 효율적으로 활용하기 위해 토지 이용이 집약적이며 고층 건물이 발달하였다. 이러한 이유로 자연 경관보다 인문 경관의 발달이 뚜렷하다.

㉓ 도시는 제조업과 서비스업(2·3차 산업)이, 촌락은 농업(1차 산업)이 주로 발달하였다.

**02 주제 파악: 도시 발달 과정 비교**

(가)는 기원전 3,500년경, (나)는 중세, (다)는 근대, (라)는 20세기 이후 발달된 도시의 모습을 나타낸 것이다. 도시는 농업에 유리한 곳에서 시작되어 상업 도시와 공업 도시를 거쳐 현대의 도시로 발달하게 되었다.

**03 주제 파악: 세계 주요 도시의 분포**

세계의 주요 도시 중 인구가 500만 명이 넘는 대도시는 북반구 중위도 해안가에 위치하며 인구가 가장 많은 아시아에 집중한다.

**04 주제 파악: 세계적인 도시의 위치와 특징**

E는 에콰도르의 수도 키토이다. 해발 고도 2,850m의 높은 곳에 위치한 이 도시는 연중 봄과 같은 상태를 유지한다. 보통 저위도 열대 지역의 산 위에 형성된 도시를 '고산 도시'라고 한다. 저위도의 열대 지역은 고온 다습한 환경으로 인해 사람이 살기에 불편한 점이 많다. 해발 고도가 높아질수록 기온이 낮아지는 점을 활용해 이 지역의 많은 사람들이 아주 오래전부터 고산 지역에 자리잡기 시작하면서 고산도시가 형성된 것이다.

- ① A - 연중 봄과 같은 기후가 나타난다. (x) → A는 런던으로 연중 습한 상태가 유지되는 서안 해양성 기후에 속한다. 연중 봄과 같은 기후는 고산 기후로, E에 해당한다.
- ② B - 오페라 하우스로 유명한 도시이다. (x) → D (시드니)에 해당하는 내용이다.
- ③ C - 세계의 환경 수도로 불리는 곳이다. (x) → 생태 도시인 프라이부르크(B)에 해당하는 내용이다.
- ④ D - 잘 보존된 성벽을 볼 수 있는 곳이다. (x) → C(중국 시안)에 해당하는 내용이다.

**05 주제 파악: 도시 내부의 지역 분화**

A 지역은 도시의 중심부로서 교통이 편리하여 접근성

이 좋다. 따라서 지대가 높은 편이다. 따라서 높은 지대를 지불할 수 있는 중심 업무 기능이 도시의 중심부로 집중하는 집심 현상을 보인다. 또한 도시의 중심부 지역은 토지 사용으로 인한 이익을 극대화하기 위하여 건물 높이를 높게 짓는 등 토지 이용이 집약적으로 이루어진다.

**06 주제 파악: 도시 내부의 모습**

위성 도시는 대도시 주변에 위치하면서 대도시의 주거, 공업, 행정 기능 등 일부 기능을 분담하는 도시로 과천(행정), 의정부(군사), 구리, 성남, 부천(주거) 등이 있다.

**07 주제 파악: 도시 내부 구조의 경관 특징**

(가) 도심, (나) 중간 지역, (다) 주변 지역, (라) 부도심, (마) 위성 도시이다.

**08 주제 파악: 중심 업무 지구**

중심 업무 지구는 대기업 본사, 언론사, 주요 관청 등과 같은 중추 관리 기능과 고급 상점, 백화점, 전문 서비스업과 중심 업무 기능이 집중한 핵심 지역을 말한다.

**09 주제 파악: 우리나라의 도시화**

우리나라는 1960년대에 산업화가 진행되면서 도시화가 빠르게 진행되었으며 현재는 종착 단계에 있다.

**10 주제 파악: 도시 문제를 해결하기 위한 노력**

도시 문제의 해결 방안은 각각의 문제별로 다양한 방안이 제시될 수 있다. 교통 문제와 대기 오염 문제를 한번에 해결할 수 있는 방안으로는 대중교통과 자전거 이용 장려가 제시될 수 있다.

**11 주제 파악: 살기 좋은 도시의 조건**

살기 좋은 도시의 조건은 시대, 국가 등에 따라 다르며 절대적인 기준을 세우기 어렵다. 하지만 어느 정도 보편적인 기준으로 살기 좋은 도시의 모습을 유추할 수 있다. 거주민들의 삶의 질이 높은 도시, 범죄율이 낮고 정치적으로 안정된 도시, 교육·의료·보건·문화·주거 환경·행정 서비스 등이 잘 갖추어진 도시를 흔히 살기 좋은 도시로 보고 있다.

**12 주제 파악: 세계적으로 유명하거나 매력적인 도시**

프랑스의 파리는 문화를 이끌어가는 대표적인 장소로 세계적으로 유명한 도시이다.

- ① 브라질의 쿠리치바 → 자연과 인간이 공존하는 방법을 찾기 위해 노력하는 도시(생태 도시)
- ③ 아이슬란드의 레이카비크 → 백야 현상과 오로라를 관찰할 수 있는 도시(관광 도시)
- ④ 미국의 뉴욕 → 다국적 기업의 본사가 많고, 자본과 정보가 집중하며, 주변 국가와 도시들에 미치는 영향력이 큰 도시(세계 도시)
- ⑤ 이스라엘의 예루살렘 → 종교적, 역사적으로 의미가 있는 도시(종교 도시, 역사 유적이 많은 도시)



**13 주제 파악: 세계적으로 유명하거나 매력적인 도시**

미국의 라스베이거스와 아랍 에미리트의 두바이는 사막이라는 거주에 불리한 자연환경을 극복하고 세계적인 도시가 되었다.

**14 주제 파악: 세계적으로 유명하거나 매력적인 도시**

싱가포르를 인도양과 태평양을 잇는 해상 교통의 길목에 위치한 도시로, 동남아시아의 금융 및 물류의 중심지이다. 교역이 발달하여 여러 문화가 공존하는 독특한 문화가 형성되었다.

- ② 각종 상공업이 발달한 남아메리카의 경제 중심 도시 → 브라질 상파울루
- ③ 천년이 넘는 역사를 간직한 아프리카 최대의 도시 → 이집트
- ④ 정치, 경제, 교통의 중심지로 유럽 연합의 본부가 있는 도시 → 벨기에 브뤼셀
- ⑤ 적도 부근의 고원에 위치하여 야생 동물이 서식하기에 유리한 도시 → 케냐 나이로비

**15 주제 파악: 도시화 곡선**

중착 단계는 도시화 속도가 늦어지고 대부분의 인구가 도시에 거주한다. 농촌에서 도시로의 이동보다 도시 간 인구 이동이 더 많다. 대도시 주변에 위성 도시가 발달하기도 한다.

**16 주제 파악: 우리나라의 도시화**

우리나라는 1960년대부터 본격적으로 산업화가 진행되면서 도시화가 시작되었다. 1970년대에는 우리나라 인구의 절반 이상이 도시에 거주하게 되었으며 급격한 도시화로 각종 도시 문제가 발생하였다. 1990년대는 중착 단계로 대도시 외곽 지역에 위성 도시가 발달하였고 현재 90%가 넘는 인구가 도시에 거주하고 있다.

- ① 1960년대 우리나라는 중착 단계에 해당한다. (×) → 본격적으로 도시화가 진행되는 가속화 단계이다.
- ② 2000년대 이후 도시화가 급격히 진행되고 있다. (×) → 중착 단계이다.
- ④ 1970년 우리나라는 90%가 넘는 도시화율을 보이고 있다. (×) → 1970년 50.1%의 도시화가 진행되었다.
- ⑤ 2000~2010년 사이에 도시화율이 가장 급격하게 변화하였다. (×) → 1970~1980년 사이에 18%가 증가하였다.

**17 주제 파악: 도시 문제와 해결 방안**

인구와 기능이 밀집한 도시에서는 다양한 도시 문제가 발생한다.

**18 주제 파악: 생태 도시와 살기 좋은 도시**

두 도시는 인간과 자연의 공존을 위해 노력하는 도시로 (가) 브라질의 쿠리치바는 급속한 도시화와 산업 개발로 인구와 자동차가 급격하게 늘어나면서 교통 혼잡 문제

및 대기 오염 문제가 심각하였다. (나) 울산광역시 1960년대 이후 대규모 산업 단지가 조성되고 인구가 증가하면서 태화강에 유입되는 폐수와 쓰레기가 늘어나면서 물 오염 문제가 심각하게 대두되었다(공업 성장에 따른 도시 하천의 오염). 이러한 도시 문제는 도시로 인구 및 기능이 집중되면서 발생하였고 도시 문제의 해결을 위해서는 지방 자치 단체뿐만 아니라 지역 주민, 정부 등의 참여와 실천이 필요하다.

**19 주제 파악: 도시와 촌락의 상호 작용**

**예시 답안 |** ㉠ 촌락에 공산품이나 의료 서비스 등을 제공한다.

㉡ 도시에 농수산물, 자연 체험 활동 및 휴양 공간을 제공한다.

**핵심 단어 |** 공산품, 의료 서비스, 농수산물, 자연 체험, 휴양

등급	채점 기준
상	㉠, ㉡을 모두 바르게 서술한 경우
하	㉠, ㉡ 중 한 가지만 바르게 서술한 경우

**20 주제 파악: 도시화 곡선**

**예시 답안 |** (1) 도시화 곡선

(2) 선진국의 도시화는 산업 혁명 이후 약 200여 년에 걸쳐 서서히 진행되어 기울기가 완만하고, 개발 도상국의 도시화는 짧은 시간에 매우 급속히 진행되어 기울기가 급하다.

**핵심 단어 |** 선진국과 개발 도상국의 도시화 속도 비교

등급	채점 기준
상	그래프에서 선진국과 개발 도상국의 기울기를 언급하며 선진국과 개발 도상국의 도시화 속도를 비교한 경우
중	선진국과 개발 도상국의 도시화 속도를 비교하였으나 기울기에 대한 언급이 없는 경우
하	선진국과 개발 도상국의 기울기만 언급한 경우

단원 평가	9회	9단원 글로벌 경제 활동과 지역 변화			
01 ④	02 ①	03 ②	04 ⑤	05 ①	
06 ⑤	07 ④	08 ⑤	09 ①	10 ⑤	
11 ①	12 ④	13 ③	14 ③	15 ⑤	
16 ④	17 ②	18 ④	19 해설 참조		
20 해설 참조					

**01 주제 파악: 커피 플랜테이션 농업**

지도는 커피의 주요 생산국과 주요 소비국을 나타낸 것이다(2016년 기준). 커피 생산량 상위 4개국은 브라질, 베트남, 콜롬비아, 인도네시아이며, 커피 수입국 상위 4개국은 미국, 독일, 이탈리아, 일본이다. 커피 원두는 주로 열대 기후 지역에서 플랜테이션 방식으로 생산되고 있으며, 주요 생산 지역이 적도 주변 개발 도상국에 한정되어 있는 반면, 주요 소비 지역은 선진국으로 구분되고 있다.

ㄱ. 플랜테이션 작물은 수요와 공급에 따라 국제 시장 가격 변동이 큰 편이다.  
 ㄷ. 커피 원두는 주요 생산지와 소비지가 다르기 때문에 국제 이동량이 많다.

**02 주제 파악: 농업 생산의 기업화에 따른 토지 이용 변화**

식량 작물을 재배하던 지역에서 상대적으로 가격이 비싼 상품 작물 재배로 전환하면서 식량 작물의 생산량이 감소하고 식량 자급률은 감소한다. 상품 작물을 재배하는 주요 농업 방식은 플랜테이션으로 대표적인 상품 작물은 커피, 바나나 등이 있다. 사료 작물 재배 면적은 주로 육류 소비량의 증대에 따라 대표적인 사료 작물인 옥수수, 콩의 재배 면적이 확대되고 있으며, 이것은 아메리카 대륙의 미국과 아르헨티나에서 활발히 이루어지고 있다.

**03 주제 파악: 스마트 팜**

농축산물을 생산하고, 가공하고, 유통하는 모든 단계에서 정보 통신 기술(ICT)을 접목한 지능화된 농업 방식을 ‘스마트 팜(Smart Farm)’이라고 한다. 스마트 팜을 활용하면 농산물의 생육 환경과 가축의 사육 환경을 적정하게 유지 및 관리할 수 있고, PC와 스마트폰을 이용해 원격으로 관리할 수 있어 생산의 효율성과 편의성을 높일 수 있다.

**04 주제 파악: 농업의 세계화가 생산 지역에 미친 영향**

열대 기후 지역에서 팜유 생산을 위해 재배되고 있는 기름야자 때문에 열대 우림 파괴와 생태계 변화가 심각하게 초래되고 있다. 세계 팜유 생산의 대부분은 인도네시아와 말레이시아에서 이루어지고 있다. 기름야자 재배 지역이 확대되면서 열대 우림이 빠른 속도로 파괴되고 있으며, 열대 우림의 파괴는 지구 온난화를 가속화할

뿐만 아니라 열대 우림에 서식하는 오랑우탄과 같은 희귀 동물도 멸종시키고 있다.

**05 주제 파악: 농업의 세계화**

농업의 세계화는 자신이 소유한 땅에서 농사를 짓는 자영농의 수를 감소시키고 있다. 농업의 세계화는 다국적 농업 기업이 주도하고 있으며, 농업의 성격을 점차 상업적으로 변화시키고 있다. 농업의 세계화와 함께 밥상 위에 먹거리의 원산지가 다양해지고, 먹거리의 이동 거리도 점차 멀어지고 있다.

**06 주제 파악: 농업의 세계화가 생산 지역에 미친 영향**

농업의 세계화와 함께 값싼 곡물 수입이 늘면서 우리나라 농산물의 가격 경쟁력이 약화되어 곡물 자급률이 감소하고 있다.

**07 주제 파악: 다국적 기업의 특징**

다국적 기업은 국경을 넘어 제품의 기획, 생산, 판매 활동을 하는 기업으로 세계 여러 지역 간 교류의 증가로 생산 공장과 영업 지점을 세계 여러 국가로 분산하는 과정에서 발달하였다. 최근에는 제조업뿐만 아니라 농산물의 생산과 가공, 자원 개발, 유통, 금융 등 다양한 분야의 다국적 기업이 나타난다.

- ㄱ. 다국적 기업은 제조업 분야에서만 나타난다. (×) → 다국적 기업은 제조업뿐만 아니라 농산물의 생산과 가공, 자원 개발, 유통, 금융 등 다양한 분야에서 나타난다.  
 ㄷ. 세계 여러 지역 간 교류의 감소로 인한 결과물이다. (×) → 세계 여러 지역 간 교류의 증가로 인한 결과물이다.

**08 주제 파악: 자동차 기업의 유럽 내 공간적 분업**

○○ 자동차 기업의 본사는 우리나라 서울에 입지하고 있다. 기술 연구소와 디자인 센터가 독일에 입지한다. 영업소는 독일, 영국, 아일랜드, 프랑스, 에스파냐 등지에 입지하고 있다. 생산 공장은 체코와 슬로바키아 등지에 입지한다. 동부 유럽에 위치한 폴란드, 체코, 슬로바키아, 헝가리, 루마니아 등 과거 사회주의 국가는 북서부 유럽 국가에 비해 경제 발전 수준이 떨어지고 임금 수준도 낮은 편이다. 따라서 유럽 내 공간적 분업 관계에서 생산 기지 역할을 담당하고 있다.

**09 주제 파악: 다국적 기업의 생산 공장 이전**

높은 임금 수준과 정부의 규제 강화 등의 이유로 생산 공장이 철수한 사례이다.

**10 주제 파악: 의류 산업의 세계화가 지역에 미치는 영향**

‘패스트 패션(Fast Fashion)’ 방식으로 생산된 의류는 저렴하지만 일정 수준 이상의 품질을 갖는 기성복 의류라는 특징이었다. 다양한 디자인의 의류 제품을 소량으로 생산하여 시장에 납품하며, 시장 반응에 따라서 필요



한 디자인의 의류를 필요한 양만큼 생산한다. 보통 주문에서 생산, 납품까지 2주 내외에 이루어진다. 대부분 패스트 패션 의류의 생산 공장은 주요 소비 지역과 가까운 저임금 지역에 입지하고 있으며, 소비자 반응에 유연적으로 대처하기 위해서 정보 통신 기술을 활용하고 있다.

## 11 주제 파악: 다국적 기업의 공간적 분업

연구 개발 기능은 주변에 연구소나 대학이 가깝게 입지하고 있거나 고급 인력을 확보하기 용이한 곳에 입지한다. 판매 지점은 인구가 많고 소득 수준이 높아 제품에 대한 시장 잠재력이 큰 곳에 입지한다.

## 12 주제 파악: 다국적 기업의 입지 변화가 지역에 미치는 영향

글로벌 생산 기지가 중국에서 동남아시아의 베트남으로 이동하고 있다. 중국의 인건비가 상승하면서 상대적으로 인건비가 저렴한 동남아시아가 새로운 투자처로 부상하였기 때문이다. 지도를 보면 유입 기업 수와 유출 기업 수의 차이가 가장 큰 국가는 베트남이며(15-1=14건), 베트남은 유입 기업 수(15건)가 유출 기업 수(1건)보다 많지만, 중국은 유출 기업 수(11건)가 유입 기업 수(3건)보다 많다.

## 13 주제 파악: 기업 콜센터의 입지 조건

전화나 인터넷 등으로 고객의 문의 및 요구 사항을 접수하고 처리하는 시설을 콜센터라고 한다. 이러한 콜센터는 최근 각종 운영비와 인건비를 절감할 수 있는 개발 도상국으로 이전하고 있다. 인도나 필리핀은 기업 콜센터 입지로 선호되는 지역이다. 이들 국가는 영어 사용 능력이 우수한 저임금 노동력이 풍부하며, 콜센터 입지에 필요한 전력 공급과 각종 정보 통신망이 잘 구축되어 있다. 또한 미국과 대략 12시간의 시차가 있어 업무를 연속적으로 처리할 수 있는 장점도 있다.

## 14 주제 파악: 서비스업의 특징

서비스업은 경제 주체에게 필요한 서비스를 제공해 주는 산업으로 도·소매업, 음식점, 숙박업 등과 같이 일반 소비자를 위한 서비스업과 금융업, 광고업, 부동산업 등과 같이 생산자를 위한 서비스업으로 구분된다. 경제가 성장할수록 생산과 고용 측면에서 서비스업이 차지하는 비중이 높아지는데, 이를 서비스 경제화라고 한다.

## 15 주제 파악: 유통의 세계화와 지역의 변화

그래프를 보면 온라인 쇼핑을 통한 해외 직접 구매액이 점차 증가하고 있음을 알 수 있다. 이와 같은 추세가 지속될 경우, 소비자는 상점에 방문할 필요가 없이 온라인 상에서 주문과 결제를 할 수 있기 때문에 제품 구매에 따른 시간적·공간적 제약이 줄어들 수 있다. 그리고 택배업과 같은 물류 산업이 발달할 수 있다. 긍정적인 측

면 외에도 유통의 세계화를 통해 기업 간 경쟁이 심화될 수 있고, 비슷한 상품을 판매하는 국내 기업들의 매출이 감소할 우려가 있다.

ㄱ. 온라인 쇼핑과 같은 전자 상거래는 기존 상거래 방식과 비교하여 제품 구매부터 배송에 이르는 단계가 적다.

## 16 주제 파악: 지속 가능한 관광

지속 가능한 관광(생태 관광)은 대중 관광(Mass tourism)과 달리 현지인과의 교류와 체험을 중시하며, 현지 문화를 존중하고 생태계에 미치는 영향을 최소화한다.

④ 대중 관광의 특징이다.

## 17 주제 파악: 정보 통신의 발달과 유통

(㉠)는 소비자가 상품을 직접 구매하는 방식이며, (㉡)는 인터넷 통신망을 통해 상품을 구매하는 방식이다. (㉡)는 정보 통신이 발달하면서 인터넷과 휴대 전화 등을 통해 상품을 직접 구매할 수 있게 되었다. (㉡)는 (㉠)보다 상품 유통 구조도 단순하고, 시공간의 제약도 적으며, 택배 산업의 활성화를 가져왔다.

## 18 주제 파악: 세계화로 인한 서비스업의 변화

교통 및 통신 기술이 발달하면서 서비스 활동이 점차 세계화되고 있다. 특히, 세계화의 영향으로 의료 기술과 서비스 수준이 높은 선진국에서 진료를 받으려는 사람들이 늘어나면서 의료 산업이 하나의 관광 산업으로 발전하고 있는데, 이를 의료 관광이라고 한다. 최근 반정부 시위가 거세지면서 의료 관광객이 많이 줄었지만, 그 전까지만 해도 동남아시아의 타이는 전 세계에서 가장 많은 의료 관광객을 유치했던 국가였다. 태이가 의료 관광객을 많이 유치할 수 있었던 이유로 저렴한 진료비를 꼽을 수 있다.

ㄱ. 자료를 보면 인도의 의료 관광 지수는 우리나라보다 높다.

ㄴ. 의료 관광 지수 상위 10개국에 인도, 콜롬비아와 같은 개발 도상국이 포함되어 있다.

## 19 주제 파악: 농업 생산의 세계화

**예시 답안** | (1) 농축산물이 이동하면서 많은 온실 가스(이산화탄소)를 배출한다. 푸드 마일리지(식품이 생산지에서 소비지까지 이동하는 거리)가 클수록 운송에 드는 비용과 시간이 크다는 것을 의미하고, 이는 운송 중 발생하는 온실 가스의 양도 많다는 것을 의미한다.

(2) 로컬 푸드 운동. 지역에서 생산된 먹거리를 그 지역에서 직접 소비하는 운동을 말한다.

**핵심 단어** | 온실 가스, 로컬 푸드 운동, 지역에서 직접 소비

등급	채점 기준
상	온실 가스 배출을 쓰고, 로컬 푸드 운동과 그 의미를 바르게 서술한 경우
하	온실 가스 배출 또는 로컬 푸드 운동 이름만 쓴 경우

**20 주제 파악: 전자 상거래의 특징**

**예시 답안 |** 전자 상거래 방식이다. 기존의 상거래 방식은 전자 상거래보다 상대적으로 유통 단계가 복잡하므로 유통 비용이 많이 들고 상거래의 공간적 제약과 구매 활동의 시간적 제약이 크다. 반면에 전자 상거래는 인터넷 통신망을 통해 상품을 구매하는 방식으로, 제조 공장에서 만든 상품을 유통센터를 거쳐 소비자에게 전달하기 때문에 기존 상거래와 비교해서 상품 구매를 위한 소비자의 평균 이동 거리와 유통 단계가 짧다.

**핵심 단어 |** 전자 상거래, 유통 산업

등급	채점 기준
상	전자 상거래를 쓰고, 전자 상거래 방식의 특징을 정확하게 서술한 경우
중	전자 상거래를 쓰고, 전자 상거래 방식의 특징을 정확하게 서술하지 못한 경우
하	전자 상거래만 쓴 경우

단원 평가	10회	10단원 환경 문제와 지속 가능한 환경			
01 ②	02 ③	03 ①	04 ④	05 ⑤	
06 ⑤	07 ⑤	08 ③	09 ③	10 ①	
11 ②	12 ②	13 ②	14 ②	15 ③	
16 ⑤	17 ①	18 ④	19 해설 참조		
20 해설 참조					

**01 주제 파악: 기후 변화의 요인**

기후 변화의 요인은 최근 인위적 요인의 영향을 크게 받는다. 기후 변화의 자연적 요인에는 화산재의 분출, 태양 활동의 변화, 태양과 지구의 상대적인 위치 변화 등이 있고, 기후 변화의 인위적 요인에는 산업화와 도시화에 따른 화석 연료 사용 증가, 온실가스 발생 증가, 토지 및 삼림의 개발 등이 있다.

**02 주제 파악: 이산화 탄소와 지구 온난화**

온실 효과를 일으키는 기체로 이산화 탄소, 메테인, 이산화 질소 등이 대표적이다. 그 중 이산화 탄소는 전체 온실가스의 절반 이상을 차지하는 지구 온난화의 주범으로 알려져 있다.

- ① A는 메테인이다. (x) → A는 이산화 탄소이다.
- ② A와 지구의 평균 기온은 반비례 관계이다. (x) → 비례 관계이다. 이산화 탄소가 증가하면 지구 평균 기온도 높아진다.
- ④ 지구의 평균 기온은 일시적인 하락없이 계속 상승하고 있다. (x) → 지구의 평균 기온은 상승과 하락을 반복한다.
- ⑤ A의 농도는 증가와 감소를 반복하면서 평균적으로는 감소하는 추세이다. (x) → 평균적으로 우상향(증가)하는 그래프이다.

**03 주제 파악: 기후 변화의 영향**

기후 변화는 빙하 감소와 해수면의 상승, 기상 이변의 증가, 해양 생태계의 변화, 식생 분포 변화, 질병의 확산, 농작물의 재배 환경 변화 등에 영향을 주고 있다.

**04 주제 파악: 기후 변화의 영향**

지구 온난화는 전 지구적으로 영향을 미친다. 지구 온난화로 태풍, 홍수, 가뭄과 사막화 등 자연재해가 더욱 넓은 지역에서 발생하며, 피해 규모도 커지는 경향을 보인다. 극지방의 빙하나 해발 고도가 높은 산의 만년설이 녹으면서 지구의 평균 해수면이 상승한다. 이에 따라 해발 고도가 낮은 일부 섬나라나 해안 저지대가 침수될 위험에 처해 있다.

**05 주제 파악: 파리 협정**

교토 의정서를 대체할 새로운 기후 체제로 선진국과 개발 도상국 모두 참여하여 온실가스 배출을 감축하는 목표를 가지고 있으나 감축 목표 자체에 구속력이 없어

당사국의 자발적인 참여가 중요하다.

**06 주제 파악: 전자 쓰레기의 이동**

환경 문제 유발 산업(전자 쓰레기)의 이동은 대부분 산업화된 선진국에서 개발 도상국으로 전자 쓰레기를 배출한다.

- ① 유럽에서 발생하는 전자 쓰레기는 전부 아프리카로 이동한다. (x) → 아프리카와 아시아 인근 유럽 국가로 이동한다.
- ② 중국에서 발생하는 전자 쓰레기는 주로 오스트레일리아로 이동한다. (x) → 인근 동남아시아로 이동한다.
- ④ 1인당 전자 쓰레기 발생량이 많은 지역은 아프리카와 남아메리카이다. (x) → 북아메리카, 중국을 비롯한 동아시아, 오스트레일리아, 서부 유럽 및 북부 유럽 등이다.

**07 주제 파악: 환경 문제 유발 산업(폐선박)의 이동**

선진국은 산업화와 도시화를 겪어오면서 환경 문제의 심각성을 깨닫게 되었다. 하지만 일부 개발 도상국은 아직 환경 문제에 대한 인식이 부족하여 이들 국가에서는 환경 보존보다는 경제 성장과 개발을 더 중시하고 있다. 새로운 일자리와 지역 경제 활성화 등의 긍정적인 효과가 나타나기도 하지만 환경 오염 문제, 주민들의 건강을 위협하는 문제 등이 발생한다. 일반적으로 개발 도상국은 선진국보다 환경 관련 규제가 느슨한 편이다. 선진국의 기업은 이를 이용하여 환경 오염을 유발하는 오래된 제조 설비는 개발 도상국으로 이전하여 해당 지역에 환경 문제를 일으키기도 한다.

**08 주제 파악: 환경 문제 유발 산업의 이동 -케냐의 장미 산업**

농업의 이전은 지역 경제에 도움을 주기도 하지만 토양의 황폐화와 관개 용수 남용에 따른 물 부족 문제, 화학 비료와 농약 사용에 따른 토양과 식수 오염 문제 등을 유발하기도 한다.

**09 주제 파악: 환경 문제의 공간적 불평등**

환경 문제를 유발하는 산업의 국제적 이동으로 개발 도상국이나 저개발국에서 환경 문제의 피해가 발생하고 있다. 이처럼 환경 문제는 지역적으로 불평등하게 나타난다.

**10 주제 파악: 바젤 협약**

국제 사회는 1980년 스위스의 바젤에서 유해 폐기물의 국가 간 이동과 처리에 관한 협약을 체결하였다. ‘바젤 협약’이라고 불리는 이 협약은 미국, 유럽 등 선진국이 주도하였던 기존의 협약과는 달리 아프리카 등 개발 도상국이 주도적인 역할을 하였다. 이는 선진국이 유해 폐기물을 개발 도상국에 불법으로 버리는 경우가 많아졌기 때문이다. 바젤 협약은 유해 폐기물을 친환경적으로 적절하게 처리할 수 없는 국가에는 수출을 금지하고 있다.

**11 주제 파악: 환경 문제 유발 산업의 이동**

환경 규제가 엄격하지 않고 임금도 저렴한 개발 도상국으로 공해 산업을 이전하는 일이 발생하면서 공해 산업이 국경을 넘어 이동하고 있다. 이때 환경 문제도 함께 이동하는데 공해 산업이 옮겨 가는 곳마다 사고와 환경 재난이 발생하여 해당 지역 주민의 삶을 위협한다.

② 태평양 한가운데에 썩지 않는 비닐과 플라스틱이 뒤엉켜 거대한 쓰레기 섬이 만들어졌는데, 그 면적이 우리나라 영토의 14배에 달한다. (x) → 세계적 수준의 환경 이슈이다. 전 세계의 플라스틱 생산량은 연간 3억 톤이 넘으며, 이 중 500만 톤이 바다로 흘러든다.

**12 주제 파악: 환경 이슈 - 유전자 재조합 농산물**

유전자 재조합 농산물은 유전자 일부를 변형하여 새로운 성질의 유전자를 지니도록 개발한 농산물로 콩, 옥수수, 감자 등이 있다. 유전자 재조합 농산물에 관하여 식량 부족 문제 해결에 필요하다는 주장과 아직 안전성 여부가 밝혀지지 않아 위험하다는 주장이 있다.

**13 주제 파악: 환경 이슈**

환경 문제 중에서 원인과 해결 방안이 입장에 따라서 다른 것을 환경 이슈라고 한다. 환경 이슈는 시대별로 다르며 지역적인 것부터 세계적인 것까지 다양한 규모로 나타난다. 환경 이슈를 둘러싸고 개인과 집단 간 서로 다른 주장이 제기될 수 밖에 없으므로 토의와 토론으로 의견 차이를 좁혀 나가야하며 합리적이고 민주적인 절차를 따라야 한다. 일상생활에서 환경 이슈를 마주했을 때 먼저 그것을 둘러싼 다양한 의견을 비교한 후 자신의 견해를 정립해야 한다. 자신의 견해가 정해지면 적극적으로 행동한다. 환경 관련 기관에 방문하여 현재 진행되는 환경 관련 정책들을 관심있게 보고, 직접 환경 단체에 가입하여 환경 문제에 대한 감시, 관찰, 캠페인 활동, 후원 등 다양한 활동을 할 수도 있다.

**14 주제 파악: 생활 속 환경 이슈**

일상생활과 관계 깊은 환경 이슈는 다양한 공간에서 나타난다. 기후 변화, 사막화와 같이 전 지구적 차원의 환경 이슈가 있는가 하면 산성비나 황사와 같이 주로 이웃한 국가 간에 나타나는 환경 이슈도 있다. 또한 생활 하수, 음식물 쓰레기, 도로 소음 등 비교적 좁은 지역에서 발생하는 환경 이슈도 있다.

**15 주제 파악: 환경 이슈 -국립 공원의 케이블카 설치**

환경 이슈에는 세계 수준에서 제기되는 아마존 개발과 같은 쟁점에서부터 국가 및 지역적 수준에서의 원자력 발전소 건설, 신공항 건설, 쓰레기 소각장 건설, 하수 처리장 건설 및 갯벌 간척, 하천 개발 등을 둘러싼 가치 대립과 갈등 등이 있다. 국립 공원에 케이블카를 설치하는 환경 이슈는 자연 보존과 지역 경제 활성화의 의견이 대립된다.

**16 주제 파악: 쓰레기 섬 문제 이해**

전 세계의 플라스틱 생산량은 연간 3억 톤이 넘으며, 이 중 500만 톤이 바다로 흘러들어 쓰레기 섬을 형성한다.

병: 물고기나 새가 쓰레기 섬의 플라스틱과 비닐을 먹이로 착각하여 먹었다가 죽는 사례가 발견되고 있으며, 주변 지역에서 잡힌 어류를 조사한 결과 배속에 미세 플라스틱이 들어 있는 물고기의 비중이 30%가 넘는다는 보고서가 발표되었다.

정: 쓰레기 섬을 구성하는 물질의 대부분이 플라스틱과 비닐이므로, 이를 해결하기 위해서는 플라스틱 제품과 비닐 사용을 줄이는 것이 필요하다.

갑: 주요 구성 물질은 금방 자연 정화될 것입니다. (x) → 쓰레기 섬은 주로 썩지 않는 비닐과 플라스틱이 뒤엉켜 거대한 섬이 만들어진 것이다. 따라서 오랜 세월이 걸쳐 분해되지 않은 채 바다를 오염시킨다.

을: 해류의 흐름이 강한 곳에 모여 있을 것입니다. (x) → 쓰레기 섬은 해류의 흐름이 약한 곳에 쓰레기가 모이면서 형성된다.

**17 주제 파악: 환경 이슈로 인한 갈등 해결 과정**

환경 이슈에 관한 갈등을 해결하기 위해서는 관련 법과 제도를 확인하고, 공정한 의사 결정을 위한 논의의 장이 마련되어야 한다. 개인과 지역 사회, 기업과 정부, 국제 사회가 환경 이슈에 관심을 갖고 대안을 협력적으로 모색하여 실천하려는 태도가 필요하다.

**18 주제 파악: 환경 이슈 -지역 이기주의**

환경 이슈 중 여러 지역의 이해관계가 얽혀 있는 경우에는 지역 이기주의로 발전하기도 한다. 이러한 지역 이기주의 때문에 오염 물질을 처리하는 쓰레기 소각장, 하수 처리장 등 환경 오염 방지에 꼭 필요한 시설이 들어서는데 어려움이 발생하기도 한다.

**19 주제 파악: 지구 온난화**

**예시 답안 |** (1) 온실 효과, 화석 연료의 사용(자동차 배기가스, 화력 발전 등)과 무분별한 삼림 개발로 인한 이산화 탄소의 증가 등이 원인이다.

(2) 지구 온난화

**핵심 단어 |** 화석 연료, 삼림 개발, 이산화 탄소 증가

등급	채점 기준
상	온실 효과의 발생 원인을 바르게 서술하고, 지구 온난화를 쓴 경우
중	온실 효과의 원인을 바르게 서술하였으나, 지구 온난화를 쓰지 못한 경우
하	온실 효과와 지구 온난화 중 한 가지만 언급한 경우

### 20 주제 파악: 미세 먼지

**예시 답안** | (1) 미세 먼지, 석유나 석탄과 같은 화석 연료를 연소하는 과정에서 발생한다.

(2) 국가: 대기 오염 경보제 실시, 대기 오염 측정소 확충, 미세 먼지 발생을 낮추는 기술 개발, 지역별 맞춤형 관리 대책 추진, 주변 국가와의 공동 해결 방안 모색 등의 방안을 마련한다.

개인: 미세 먼지 농도가 높을 때 외출을 자제하고 방진 마스크를 착용하며 물을 자주 마시고 손을 자주 닦는다.

**핵심 단어** | 미세 먼지, 화석 연료 연소, 대기 오염 경보제, 마스크 착용

등급	채점 기준
상	정부와 개인의 대응 방안을 세 가지 이상 서술한 경우
중	정부와 개인의 대응 방안을 두 가지 서술한 경우
하	정부와 개인의 대응 방안을 한 가지만 서술한 경우

단원 평가	11회	11단원 세계 속의 우리나라			
01 ②	02 ④	03 ②	04 ⑤	05 ④	
06 ③	07 ③	08 ⑤	09 ②	10 ①	
11 ④	12 ③	13 ②	14 ①	15 ④	
16 ①	17 ④	18 ④	19 해설 참조		
20 해설 참조					

**01 주제 파악: 우리나라의 영역**

한 나라의 주권이 미치는 공간적 범위를 영역이라고 하며, 영역은 영토, 영해, 영공으로 구성된다. A 영공, B 영해, C 영토, D 배타적 경제 수역이다.

- ㄴ. 영해 기선으로부터 바깥쪽 12해리 범위 내의 수역을 영해라고 한다.
- ㄷ. 배타적 경제 수역은 영역이 아니므로, 타국의 선박이나 항공기가 자유롭게 이동할 수 있다.

**02 주제 파악: 독도와 마라도**

- (가) 우리나라 최동단에 위치한 독도이며, 제시된 좌표 값(경도)은 독도의 동도의 위치를 나타낸다.
- (나) 우리나라 최남단에 위치한 마라도이며, 제시된 좌표 값(위도)은 마라도의 위치를 나타낸다. 독도와 가장 가까운 유인도는 울릉도이고, 마라도와 가장 가까운 유인도는 제주도이다. 독도는 행정 구역상 경상북도에 속하며, 마라도는 행정 구역 상 제주특별자치도에 속한다. 일출 시각은 최동단에 위치한 독도가 마라도보다 빠르다.

**03 주제 파악: 우리나라의 영역**

우리나라의 영토는 한반도와 그 부속 도서(한반도에 속한 수많은 섬들)로 이루어져 있다. 우리나라의 도서 중 가장 면적이 넓은 섬은 제주도이다. 섬이 많고 해안선의 드나들이 복잡한 서·남해안은 가장 바깥쪽에 위치한 섬을 직선으로 연결한 직선 기선을 기준으로 영해를 설정하지만, 동해안이나 울릉도, 독도, 제주도등은 최저 조위선(간조 때의 해안선)인 통상 기선을 기준으로 영해를 설정한다.

**04 주제 파악: 우리나라의 영해**

A는 우리나라의 영해이다. B는 우리나라의 배타적 경제 수역(배타적 어업 수역)이다. C는 한·중 잠정 조치 수역이다. D와 E는 한·일 중간 수역이다.

- ① A는 우리나라의 영해이므로 상공은 영공이다. 따라서 일본의 헬기가 우리나라의 사전 허가 없이 비행할 수 없다.
- ② D와 E에서 할 수 있는 활동이다.
- ③ C는 한·중 잠정 조치 수역으로 우리나라의 영역이 아니므로, 중국 군용기가 우리나라의 사전 허가 없이 비행할 수 있다.

**05 주제 파악: 이어도 종합 해양 과학 기지**

지도의 (가)는 이어도 종합 해양 과학 기지를 나타낸 것이다. 우리나라는 이어도 위에 주변 해상 및 기상 정보 파악, 어장 정보 수집, 비상시 구조 활동 기지로서의 역할을 수행하기 위해 2003년에 종합 해양 과학 기지를 설치하였다. 이어도는 해수면보다 약 4.6 m 잠겨 있는 수중 암초로 섬이 아니기 때문에 대한민국의 영토는 아니다. 영토가 아니기 때문에 이어도를 기준으로 주변 수역에 대한 영해와 배타적 경제 수역을 주장할 수도 없다. 하지만 이어도 주변 수역은 우리나라의 배타적 경제 수역에 포함되며, 무인도나 암초는 가장 가까운 유인도(마라도)에 귀속한다는 국제 해양법에 따라 이어도에 대한 관할권도 우리나라에게 부여된다.

**06 주제 파악: 독도의 지리적 및 생태학적 가치**

- ㉠은 독도, ㉡은 천연기념물이다.
- ㄱ. 독도는 우리나라 영토 중에서 가장 동쪽에 위치한다.
- ㄷ. 독도는 섬 전체가 천연기념물로 지정되어 있다.

**07 주제 파악: 독도의 지리적 특성**

- ③ 독도는 바다로 둘러싸여 있는 섬이기 때문에 바다의 영향을 많이 받아 연교차가 작은 해양성 기후의 특색이 나타난다.

**08 주제 파악: 독도를 지키기 위한 노력**

독도는 오래전부터 우리나라 고유의 영토로 인정받아 왔다. 하지만 일본은 1905년 이후 독도를 일본의 영토로 편입했다면서 독도에 대한 영유권을 계속 주장하고 있다. 울릉도 ㉠은 독도 ㉡보다 거주 인구가 많다. 독도는 우리나라의 영토이므로 영해 기선 바깥쪽 12해리까지의 영해를 갖는다.

- ㄱ. ㉠에 들어갈 인물은 안용복이다.

**09 주제 파악: 우리나라의 지역화 전략**

(가) 횡성 지역의 지역 브랜드를, (나) 남원 지역의 지역 브랜드를 표현한 것이다. 지도의 A 강화, B 횡성, C 평창, D 보령, E 남원이다.

**10 주제 파악: 지리적 표시제**

지리적 표시제는 특산품의 품질, 명성, 특성 등이 해당 지역에서 비롯된 경우, 특산품의 생산 지역명을 상표권으로 등록하여 보호하는 제도이다. 지리적 표시제를 통해서 특산품을 보호하고 상품의 품질 향상과 소비자의 신뢰를 높일 수 있는 장점이 있다. 그뿐만 아니라 지역을 홍보하고 지역 이미지 개선을 통해 지역 경제 발전에 도움을 줄 수 있다.

- ① 우리나라 지리적 표시제 등록 1호는 보성 녹차이다.

**11 주제 파악: 우리나라의 지역화 전략**

㉠ 철원, ㉡ 전주, ㉢ 영덕, ㉣ 나주, ㉤ 경주의 지역 브랜드를 표현한 것이다. ① 영덕(㉢), ② 경주(㉤), ③ 전



주(㉔), ⑤ 철원(㉕)의 지역 브랜드에 대한 설명이다.

**12 주제 파악: 우리나라 위치의 지리적 장점**

우리나라는 유라시아 대륙과 태평양 사이에 위치한 반도국이다. 따라서 대륙 쪽으로는 중국과 러시아, 유럽으로 진출할 수 있으며, 해양 쪽으로는 태평양을 통해서 세계 곳곳으로 진출할 수 있다.

- ㄱ. 일제 강점기 때 일본의 식민 지배 논리를 나타낸 것이다. 반도국은 오히려 대륙과 해양 양쪽으로 진출할 수 있는 유리한 지리적 위치로 볼 수 있다.
- ㄴ. 오늘날과 같이 남북 분단의 상황 속에서 반도국이 갖는 지리적 장점을 제대로 활용할 수 없다. 남북통일이 이루어진다면 대륙과 해양 양쪽으로 진출할 수 있을 것이다.

**13 주제 파악: 아시안 하이웨이**

아시아 국가들 간 물적 및 인적 교류를 확대하기 위해서 아시안 하이웨이 건설이 추진 중에 있다. 우리나라의 아시안 하이웨이 구간은 일본-부산-서울-평양-중국으로 연결되는 1번(AH1) 도로가 있으며, 부산-강릉-원산-러시아로 이어지는 6번(AH6) 도로가 있다. 아시안 하이웨이는 32개국 55개 노선, 총 길이 약 14만 km에 달한다.

- ㄴ. 아시안 하이웨이를 통한 물류 운송비가 기존 해상 운송비보다 저렴하다.
- ㄷ. 동남아시아를 거쳐 유럽으로 가기 위해서는 아시안 하이웨이 1번 도로를 이용해야 한다.

**14 주제 파악: 남북통일 이후 국토 공간의 변화**

분단 이후 단절된 철도 교통망을 연결하여 X자 형의 철도 교통망을 완성하게 되면 물류 이동 시간과 비용을 크게 절감할 수 있을 것이다. 그리고 연결된 철도 교통망을 활용하여 북한의 풍부한 지하자원과 남한의 자본과 기술을 서로 결합하여 경제 발전을 이룰 수 있다. 압록강 하구에 위치한 신의주는 대중국 교역의 중심 도시에서 유라시아 철의 실크로드의 중심 도시로 성장하게 될 것이다.

① 육로를 통해 유럽까지 가는 길은 다양해질 것이다.

**15 주제 파악: 민족 동질성 약화에 따른 분단 문제**

남과 북의 언어가 이질화되고 있는 현상을 보여 주는 자료이다. 분단이 60년 이상 지속되면서 문화, 언어, 생활 양식 등에서 이질화가 심해지고 이는 같은 민족이라는 동질성을 약화시키고 있다.

**16 주제 파악: 남북통일 이후 국토 공간의 변화**

북한에는 고구려, 고려, 조선 시대 역사 유적지와 백두산과 금강산을 비롯하여 아름다운 산과 하천, 해변 등의 명승지가 많다. 자료에 제시된 1일차 여행 상품 지역은 백두산을, 2일차는 강원도 원산에 위치한 명사십리(明沙十里) 해안을, 3일차는 개성을 나타낸 것이다.

**17 주제 파악: 남북통일 이후 국토 공간의 변화**

④ 오랜 분단으로 남북 간 언어나 생활 양식의 차이가 크게 나타났지만, 남북통일이 된다면 이와 같은 남북 간 문화 차이는 점차 줄어들고, 사회적 통합을 이룰 수 있을 것이다.

**18 주제 파악: 통일 한국의 미래**

2050년의 예상 인구 구조 그래프를 보면, 북한은 남한보다 인구 고령화가 뚜렷하지 않다. 따라서 ㄴ. 통일 한국은 남한보다 평균 연령이 낮게 나타난다. 또한 통일 한국은 남한보다 14세 미만 인구 비율이 높고, 14세 미만 인구도 많다.

남북한의 국내 총생산 예상치를 보면 통일이 된 이후에는 2020년부터 2050년까지 지속적으로 국내 총생산이 증가함을 알 수 있다. 따라서, ㄷ. 통일 한국은 남한에 비해 국내 총생산이 크다.

**19 주제 파악: 우리나라 수역의 영해 설정 기준**

**예시 답안 |** (가) 가장 바깥쪽 섬들을 직선으로 연결한 직선 기선을 기준으로 바깥쪽 12해리까지의 수역을 영해로 설정한다.

(나) 간조 시 해안선인 통상 기선을 기준으로 바깥쪽 12해리까지의 수역을 영해로 설정한다.

**핵심 단어 |** 직선 기선, 통상 기선, 12해리

등급	채점 기준
상	(가)와 (나)에서의 영해 설정 기준을 모두 정확하게 서술한 경우
중	(가) 또는 (나)에서의 영해 설정 중 한 수역에서의 영해 설정 기준만 정확하게 서술한 경우
하	(가)와 (나)에서의 영해 설정 기준을 정확하게 서술하지 못한 경우

**20 주제 파악 | 지역화 전략**

**예시 답안 |** 장소 마케팅, 지역의 정체성을 널리 홍보할 수 있다. 기업을 유치하여 일자리를 늘릴 수 있다. 관광 광객을 유치하여 소득을 높일 수 있다. 등

**핵심 단어 |** 지역 홍보, 일자리 창출, 관광 소득 증대 등

등급	채점 기준
상	제시된 지역화 전략의 명칭을 정확하게 제시하고, 긍정적 효과 두 가지를 서술한 경우
중	제시된 지역화 전략의 명칭을 정확하게 제시하였으나, 긍정적 효과를 한 가지만 서술한 경우
하	제시된 지역화 전략의 명칭을 정확하게 제시하지 못했고, 긍정적 효과를 서술하지 못한 경우



단원 평가 12회	12단원 더불어 사는 세계			
01 ②	02 ⑤	03 ⑤	04 ⑤	05 ②
06 ⑤	07 ⑤	08 ④	09 ③	10 ⑤
11 ④	12 ①	13 ③	14 ③	15 ⑤
16 ⑤	17 ②	18 ③	19 해설 참조	
20 해설 참조				

**01 주제 파악: 지리적 문제의 원인**

팔레스타인 지역은 제2차 세계 대전 이후 팔레스타인 지역에 유대교를 믿는 이스라엘이 건국되면서 주변 아랍 국가들과의 갈등이 시작되었다.

**02 주제 파악: 식량 분배의 국제적 불균형**

식량 생산이 많아 식량이 남는 지역과 식량 생산이 부족한 지역 간의 분배가 이루어지지 않는 것을 의미한다.

**03 주제 파악: 생물의 다양성 감소**

최근 생물의 다양성이 감소하고 있는 이유는 산업화와 도시화로 숲을 제거하고 농경지를 조성하면서 동식물의 터전이 사라지고 외래종의 침입으로 생태계가 파괴되고 있기 때문이다. 특히 열대 우림과 산호초 해안, 맹그로브 해안 등지의 개발로 발생하는 환경 오염과 파괴가 심각하다.

**04 주제 파악: 생물 다양성 협약**

생물 다양성 협약은 생물 다양성 보전과 생물 자원의 지속 가능한 이용, 이를 이용하여 얻는 이익을 공정하고 공평하게 분배할 것을 목적으로 국제 연합 환경 계획 (UNEP) 회의에서 채택되었다(생물 다양성을 보전해야 한다는 필요성에 대한 범지구적 공감대 형성에 따라 1992년 브라질 리우 국제 연합 환경 개발 회의에서 채택되었다). 우리나라는 1994년에 생물 다양성 협약에 가입하였으며 가입국은 총 196개국이다. 생물 다양성 협약은 리우 국제 연합 환경 개발 회의 당시 채택된 기후 변화 협약, 1994년 프랑스 파리에서 채택된 사막화 방지 협약과 더불어 세계 3대 환경 협약 중 하나이다.

- ① 바젤 협약 (x) → 유해 폐기물의 국제적 이동을 방지
- ② 파리 협약 (x) → 선진국과 개발 도상국의 온실가스 감축
- ③ 교토 의정서 (x) → 선진국의 온실가스 감축
- ④ 세계 자연 기금 (x) → 세계 자연 기금(WMF)은 최대 환경 보호 기구이다.

**05 주제 파악: 기아 문제의 원인**

세계 인구 증가로 곡물 수요가 증가하였고, 기후 변화로 식량 생산 면적이 감소하였다. 대체 연료 개발로 인한 곡물 가격 상승과 이윤 극대화를 위한 식량의 상업화가 기아 문제의 원인이다. 기아는 식량 부족으로 주민들이 충분한 영양을 섭취하지 못하여 발생한다. 식량 부족 문

제는 가뭄과 홍수, 병충해 등의 자연적인 요인과 급격한 인구 증가, 식량 분배의 국제적 불균형, 잦은 분쟁으로 인한 식량 공급의 어려움 등 인위적인 요인이 기아 문제를 심화하기도 한다.

**06 주제 파악: 적정 기술**

적정 기술은 빈곤 지역 주민들의 생활에 적합하게 설계된 재화나 서비스를 제공함으로써 그들의 삶을 개선하고 소득을 증대할 수 있는 기술로 폭넓게 사용되고 있다.

**07 주제 파악: 지역별 발전 수준**

- ① 북아메리카, 유럽은 기아 비율이 낮다.
- ② 아프리카 대륙에서 기아 비율이 제일 높다.
- ③ 사하라 이남의 아프리카는 기아 비율이 높게 나타난다.
- ④ 중·남부 아메리카의 기아 비율이 가장 낮게 나타나는 것은 아니다.

**08 주제 파악: 카슈미르 지역**

이슬람교도가 많은 카슈미르 지역이 힌두교도가 많은 인도로 귀속되면서 갈등이 시작되었다.

**09 주제 파악: 에티오피아의 갈등**

‘아프리카의 빨’로 불리는 아프리카의 북동부에는 에티오피아와 소말리아, 에리트레아, 지부티가 있다. 이 지역은 과거 유럽 강대국의 이해관계에 따라 국경선이 설정되었는데 독립 이후 국경과 부족의 경계가 달라서 분쟁과 내전, 그리고 난민 발생이 끊이지 않고 있다.

**10 주제 파악: 영역을 둘러싼 갈등**

센카쿠(다오위다오) 열도는 중국과 일본 사이의 바다에 위치하며, 5개의 무인도와 3개의 암초로 이루어져 있다. 이 지역은 서남아시아와 동북아시아를 잇는 해상 교통로이자 전략적 요충지이며 석유 매장 가능성이 커 자원 개발을 둘러싼 갈등이 심화될 전망이다. 쿠릴 열도는 태평양 북서부 캄차카반도와 일본 홋카이도 사이에 걸쳐 있는 섬들로 관련된 러시아와 일본의 영토 분쟁 지역이다. 이 지역은 풍부한 어족 자원이 있고 특히 해저에 많은 양의 석유와 천연가스가 매장되어 있다. 러시아는 이 지역의 자원 개발을 위해 많은 돈을 투자하기도 하였다.

**11 주제 파악: 영토 분쟁 -민족·종교 분쟁**

대표적인 민족·종교 분쟁으로 팔레스타인, 카슈미르, 수단 등이 있다. 수단은 북부 지역은 이슬람교, 남부 지역은 크리스트교를 믿으면서 갈등이 발생하였다. 지속적으로 내전이 발생하다가 2011년에 남부 지역이 남수단으로 독립하였다.

**12 주제 파악: 발전 수준의 지역 차**

1인당 국내 총생산 외에도 인간 개발 지수, 성인 문자 해독률, 기대 수명, 인구 1,000명 당 의사 수 등은 대부분의 선진국에서 높게 나타난다. 반면에 영아 사망률,

교사 1인당 학생 수, 성 불평등 지수 등은 개발 도상국이 상대적으로 높게 나타난다.

### 13 주제 파악: 세계 식량 계획(WFP)

세계 식량 계획(WFP)은 기아와 빈곤으로 고통받는 지역에 식량을 지원해 주는 국제 기구이다.

### 14 주제 파악: 인간 개발 지수(HDI)

국제 연합 개발 계획(UNDP)이 매년 각국의 교육 수준과 국민 소득, 평균 수명 등을 조사해 국가별 삶의 질을 평가한 지표이다. 선진국과 개발 도상국의 발전 격차를 줄이고 개발 도상국의 빈곤 문제를 해결하는데 활용된다.

- ① 국가별 국민의 행복 지수를 평가한 지표이다. (×) → 삶의 질을 평가한 지표이다.
- ② 국제 연합 평화 유지군(PKF)에서 지표를 종합하여 발표한다. (×) → 국제 연합 개발 계획(UNDP)이다.
- ④ 주로 선진국에서 낮게 나타나고, 개발 도상국에서 높게 나타난다. (×) → 선진국에서 높고, 개발 도상국에서 낮다.
- ⑤ 국내 총생산, 기대 수명, 사회적 자본, 부패 지수, 관용의 지표를 활용한다. (×) → 행복 지수의 지표이다.

### 15 주제 파악: 국제 기구

국제 연합 평화 유지군(PKF)	분쟁 지역에 파견되어 질서 유지 및 주민 안전 보장
국제 연합 난민 기구 (UNHCR)	난민 보호 및 난민 문제 해결
세계 식량 계획 (WFP)	기아와 빈곤으로 고통 받는 지역에 식량 지원
국제 연합 아동 기금 (WHO)	아동 구호와 아동의 복지 향상
세계 보건 기구 (WHO)	세계의 질병 및 보건 위생 문제 해결
국제 연합(UN)	국제 평화와 안전의 유지, 인권 및 자유 확보를 위해 노력

### 16 주제 파악: 우리나라의 공적 개발 원조

선진국의 정부나 공공 기관들이 저개발국의 발전을 위해 제공하는 원조를 공적 개발 원조(ODA)라고 하며 대표적인 기구로 개발 원조 위원회(DAC)가 있다. 이를 통해 긴급 구호 사업 등을 추진하고 사회 기반 시설을 구축하여 저개발국의 사회, 경제 발전과 지역 주민들의 복지 증진을 돕고 있다. 저개발국은 국제기구, 선진국의 정부나 은행에서 차관이나 원조를 받기도 한다. 과거에는 식량이나 물품의 형태로 원조를 제공받았지만, 최근에는 도로, 항만 등 사회 기반 시설을 구축하기 위한 자금을 지원받는 방식으로 바뀌었다. 한국 국제 협력단

(KOICA)은 우리 정부에서 운영하는 대외 무상 원조 전담 기관으로 저개발국의 경제, 사회 발전 지원과 상호 우호 협력 증진 등으로 목적으로 한다.

### 17 주제 파악: 비정부 기구의 종류

(가)는 비정부 기구에 대한 설명이다. 비정부 기구에는 그린피스, 월드비전, 국경 없는 의사회 등이 있고, 정부 간 국제 기구에는 유니세프(국제 연합 아동 기금), 한국 국제 협력단(KOICA)으로 구분된다.

### 18 주제 파악: 세계 시민의 자세

빈곤, 분쟁, 환경 오염 등 전 지구적 차원의 협력과 공동 대응이 필요한 문제들이 나타나고 있다. 이에 긴밀히 연결된 지구촌을 하나의 공동체로 인식하고 세계 곳곳에서 발생하는 다양한 지리적 문제에 관심을 두고 협력해야 한다. 지역 간 불평등을 완화하고 빈곤과 기아 문제를 해결하기 위한 봉사 활동이나 기부 등에 동참해야 한다. 또한 일회용품 사용을 줄이고 생태 환경을 보호하려는 의식을 가져야 하며, 지구촌 공동체의 일원으로 민족, 언어, 인종 등이 다른 다양한 사람들과 어울려 살면서 서로의 차이와 다양성을 인정하고 존중하려는 자세를 가져야 한다.

### 19 주제 파악: 남북 문제

**예시 답안** | 남북 문제, 식량 생산성 증대(관개 시설 확충, 수확량이 많은 품종 개발), 사회 기반 시설 확충(도로, 전력망 등을 구축해 경제 발전의 기반 마련), 해외 투자 유치 및 기술 개발(국내 산업의 생산성 향상을 위함), 문맹률을 낮춤(지속적인 교육을 통해 문맹률을 낮춰 인적 자원 개발), 국제적인 지원과 협력(국제 연합과 국제 비정부 기구들의 지원 확대)

**핵심 단어** | 식량, 교육, 기술, 국제 협력

등급	채점 기준
상	여러 방안 중 세 가지 이상 구체적 예를 들어 서술한 경우
중	여러 방안 중 두 가지 구체적 예를 들어 서술한 경우, 구체적 예를 들지 않고 큰 틀의 방안을 세 가지 이상 서술한 경우
하	여러 방안 중 한 가지 예를 들어 서술한 경우

### 20 주제 파악: 공정 무역

**예시 답안** | 공정 무역, 생산자는 공정한 노동의 대가를 받게 된다. 친환경적인 방식으로 상품을 생산하여 소비자에게 공급한다. 소비자는 개발 도상국의 어려운 사람들을 직접 도울 수 있게 되고, 그들의 경제적 자립을 도울 수 있다. 친환경적인 제품을 이용할 수 있다.

**핵심 단어** | 경제적 자립, 공정한 노동의 대가

등급	채점 기준
상	생산자와 소비자를 구분하여 효과를 두 가지 이상 서술한 경우
중	생산자와 소비자를 구분하여 효과를 한 가지 서술한 경우
하	생산자와 소비자를 구분하지 않고 효과를 한 가지 서술한 경우